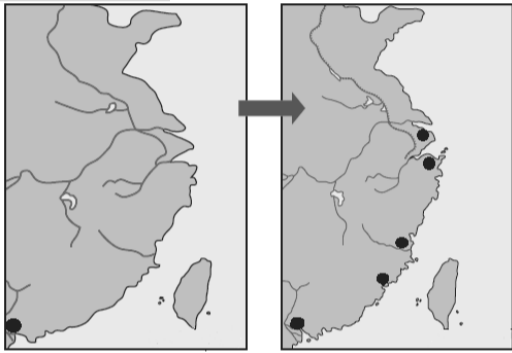


一、選擇題：

- 下列是某國人民在吹噓自己國家對中國的「豐功偉業」，他說：「哈哈！我們國家在陸戰及海戰都打爆了中國，還得到鉅額的賠款及土地，更厲害的是把中國勢力逐出朝鮮。」請問，上述的應該是何國人民所言？
(A)法國 (B)英國 (C)日本 (D)俄國
- 有位歷史人物，在天堂與神談論自己一生事蹟：「我上書皇帝，痛斥鴉片對中國的禍害感動皇帝，他派我到廣州查禁鴉片。」請問：這位歷史人物應該是？
(A) 李鴻章
(B) 康有為
(C) 梁啟超
(D) 林則徐
- 清朝期間，英國人 John 在中國殺了中國民女花花，全鄉里人士都悲憤不已，要求依中國法律殺人者償命處決。不料，清廷的地方官卻無權審問他，改交由英國審判。不料幾個月後，John 卻又在中國境內大搖大擺，毫無悔意。請問：這是因為中國喪失何種權力所造成？
(A)協定關稅 (B)領事裁判權 (C)片面最惠國待遇 (D)租借
- 以下是清末文人對某事件的描述：「當時在官府的默許下，群眾進入天津租界，縱火焚燒教堂、房屋，於是各街市店舖有販售洋貨者，皆用紅紙將招牌上的『洋』字糊上，以防群眾焚掠。即便是一般家庭日用之物，如洋燈、鐘錶等類，也都掩藏不敢使用。」根據上文判斷，此事件最可能是下列何者？ (A)鴉片戰爭 (B)英法聯軍 (C)義和團事件 (D)甲午戰爭
- 北魏孝文帝所施行的漢化政策有哪些？(甲)鼓勵胡漢之間通婚 (乙)禁穿胡服 (丙)漢語與胡語二者皆為官方語言 (丁) 改胡姓為漢姓
(A) 甲丙丁 (B)甲乙丁 (C)甲乙丙丁 (D)甲乙丙
- 中國歷代非常注重人才的提拔，而九品官人制導致「上品無寒門，下品無世族」社會現象的出現，其制度的實施與結束分別是在哪個朝代？
(A)曹魏、唐代 (B)南北朝、隋代
(C)秦代、隋代 (D)曹魏、隋代
- 有位學者在演講稿中寫到：「在此以前的中國，只是一種封建的統一。直到此時，中央方面才有一個更正式的統一政府，其所轄各地方，不再是封建性的諸侯列國並存，而是緊密隸屬於中央的郡縣制行政區分了。而官員也不再憑藉血緣世襲貴族，而是由君王直接任命。」他所說的「此時」最可能是指下列何時？
(A)商周 (B)秦代 (C)漢代 (D) 隋唐。
- 清代小說鏡花緣是以唐代為故事背景，第十回：「不多幾日，到了『君子國』，將船泊岸。林之洋上去賣貨。唐敖因素聞『君子國』好讓不爭，想來必是禮樂之邦。」請問：「君子國」最有可能是下列何者？ (A)天竺 (B)日本 (C)新羅 (D)越南
- 唐朝有首詩寫道：「舊時王謝堂前燕，飛入尋常百姓家。」請問：類似王、謝這些世家大族的沒落，除了與政治上的動亂有關，又與下列哪項制度的實施相關？
(A)封建體制(B)推舉孝廉(C)九品官人之法(D)科舉制度
- 《左傳》：「昔（指西周）武王克商，光有天下。其兄弟之國者十有五人，姬姓之國者四十人，皆舉親也。」（資料來源：左丘明，左傳·昭公二十八年）請問：《左傳》中的內容，是指下列哪種措施？
(A)封建體制 (B)郡縣體制 (C)封建郡縣並行制 (D)科舉制度。
- 南宋文天祥被押解到柴市口刑場，臨死之前，解開他的衣帶寫下：「孔曰成仁，孟云取義；惟其義盡，所以仁至。讀聖賢書，所學何事；而今而後，庶幾無愧。」監斬官問：「丞相還有甚麼話要說？」他問監斬官：「哪邊是南方？」文天祥向南方跪拜百次後，引頸就刑，從容就義。文天祥死時年僅四十七歲。由文天祥的行為顯示他極為重視名節的觀念，請問是受到當時哪一種思想的影響？
(A)清談 (B)文人政治
(C)佛教 (D)理學
- 「這一段盛世長達一百三十多年，在平定封建諸侯的叛亂後，內部的統治愈見鞏固；對西北諸部多次用兵，將今日的蒙古、新疆、西藏納入版圖，君主的權力達於極盛。但在輝煌的表象下，有一股嚴厲的政風。政府雖然表面上大力支持學術事業，不少讀書人卻因文字觸犯忌諱慘遭迫害……。」這段文字描述的是何時的景況？
(A)宋代 (B)元代 (C)明代 (D)清代。
- 王老師上課時提到：「這個時期的政權基本上是南北對峙，北方是胡人政權重複併吞與分裂的紛亂局面，不少北方人民為逃避戰亂而南遷。南方的執政者配合南遷人士所帶來的技術與人力，促成南北兩地的交流，也讓南方經濟日漸繁榮。」請問：上述內容是指下列哪個時期？
(A)西周時期 (B)東周時期 (C)秦漢時期 (D)魏晉南北朝時期
- 西元 13 世紀時，有位歐洲人馬可波羅 (Marco Polo) 口述自己在東方的經歷與見聞：「我隨著叔父來到富庶的東方國家，被稱為『色目人』，後因『擅長領兵打仗』而受到重用。當年我從此國第一大港『泉州』登陸後，開始了驚奇之旅。我看見人們逛『夜市』。我也發現此國的首都築有通往各地的道路，每隔一段距離就設置名為『會館』的招待所，提供政府官員和過往商旅使用，非常便利。」上述『引號』內容正確的有幾項？ (A) 2 項 (B) 3 項 (C) 4 項 (D) 5 項
- 一位清帝國的外交官員在 1880 年代到某國考察後，將心得寫成報告。在他的報告中提到：「這個國家全力翻轉體制，進行改革。以他國長處為師，並派員出國學習新知……槍炮霹靂，軍容壯盛。」請問：這位清帝國外交官員考察的國家，最有可能是下列何者？ (A)菲律賓 (B)朝鮮 (C)俄羅斯 (D)日本

16. 清代中期以後，清帝國在對外戰爭中屢嘗敗績，也因為戰爭的失利，造成不同的影響。請問：八國聯軍的進攻對清帝國造成何種影響？(A)簽訂南京條約，開放通商口岸 (B)簽訂辛丑和約，付出鉅額賠款 (C)放棄天朝體制，設立中國第一個現代化外交機構 (D)喪失關稅自主權，外國商品在全國傾銷
17. 清末，立憲派人士熱中於請願推廣立憲制度，但最後為何有許多立憲派人士改變初衷，轉而支持革命？ (A)因康有為的提倡，革命風潮日熾 (B)義和團事件後有感於清廷昏庸 (C)皇族內閣的出現，顯示清廷缺乏改革誠意 (D)因革命派的利誘，使立憲派與革命派合流。
18. 中國通商口岸的開放，影響著外商在中國的貿易活動是否能順利進行，左圖與右圖是中國兩個不同時期所開放的通商口岸，受什麼戰爭因素影響，讓原本只有一口通商的中國，接連開放五個通商口岸？ (A)英法聯軍 (B)鴉片戰爭 (C)甲午戰爭 (D)八國聯軍。



19. 上海擁有「東方巴黎」的美譽，各式洋樓林立，有十里洋場之稱。有關上海的敘述，何者正確？
 (A)英法聯軍後，上海開港通商
 (B)在元朝時，設立市舶司於上海
 (C)清乾隆皇帝為方便管理，諭令唯一通商口岸為上海
 (D)境內有各國租界區，不受清廷管轄，外來文化可快傳入上海。
20. 在清朝後期的某一場戰爭，大清帝國被來自歐洲的英國打敗。但清朝認為是一時的挫敗，下次一定能討回公道，所以又繼續原地踏步二十年，錯失改革契機的二十年。而這個該讓中國覺醒卻又未喚醒中國的戰爭是哪一場戰爭呢？ (A)中法戰爭 (B)英法聯軍 (C)鴉片戰爭 (D)甲午戰爭
21. 在傳統中國裡認為女子無才便是德，認為女子不該讀書識字，請問：女子受教育的問題受重視開始於何時？
 (A)18世紀初期 (B)18世紀中期 (C)19世紀後期 (D)20世紀末期。
22. 清末某位新知識分子的傳記內容如下：「此人飽讀詩書，乃徐志摩之師，曾參與某項變法，但失敗逃往國外。他後來受到《天賦人權》思想的啟發，積極提倡男女平等，發起不纏足運動，並興辦女子學校。」請問：文中提及的這位「新知識分子」是下列何者？ (A)胡適 (B)梁思成 (C)林長民 (D)梁啟超。
23. 自強運動主要是清廷因為戰爭的失利而展開，然而卻也因為一場戰爭的敗北而告終。請問：使自強運動開始與結束的戰爭分別為下列何者？ (A)鴉片戰爭、甲午戰

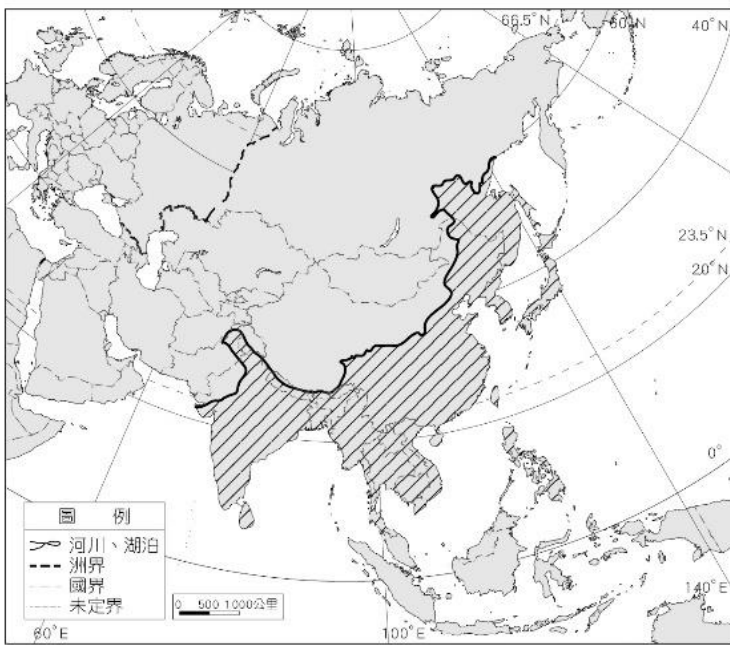
- 爭 (B)鴉片戰爭、清法戰爭 (C)清法戰爭、甲午戰爭 (D)英法聯軍、甲午戰爭
24. 小天是某個朝代的讀書人，居住在江南一帶，他想要參加科舉考試，卻因為當時種族政策的實施，導致考試題目較難、錄取率低；就算考上，也很難升遷到較高的職務。請問：小天屬於哪個朝代的人？ (A)漢代 (B)唐代 (C)宋代 (D)元代
25. 滿清入主中國後，曾用多種方式來統治漢人。下列措施中，何者屬於清帝國採用的高壓統治方式？
 (A)推廣儒學 (B)實施封建 (C)薙髮留辮 (D)停辦科舉

臺北市立興雅國中 112 學年度第一學期八年級地理科補行評量講義

1. 中國人口眾多，耕地不敷使用，糧食的供應有著極大壓力，推展著人民邁向邊際土地開墾利用，但也時常造成不少問題因應而生。下列是某項措施實施後的優缺點，請問此項政策最可能是？ (A)河套平原的開發 (B)東北地區的墾荒 (C)洞庭湖的圍湖造田 (D)東南丘陵的梯田開闢。

pros(優點)	cons(缺點)
增加耕地面積	湖泊續洪能力下降
增加糧食產量	長江水患增加
舒緩人口壓力	環境生態的轉變

2. 黃土高原，中國四大高原之一，廣布黃土，厚達 200 公尺，易受流水侵蝕，土壤流失極為嚴重，形成「千溝萬壑」的黃土地貌。請問黃土高原為何不像其他高原那樣「堅固」？ (A)雨量充沛，時常暴雨沖刷 (B)人口壓力大，過度開墾土地 (C)日夜溫差大，導致岩層風化速度快速 (D)黃土由風力堆積而成，本身質地鬆散。
3. 附圖斜線區為亞洲某現象的分布圖，請問：下列何者最有可能是該區的地理特徵？
 (A)多數居民的主食以小麥為主
 (B)受緯度影響因此全年溫暖潮濕
 (C)涵蓋東亞、西亞、南亞、北亞地區
 (D)海陸比熱差異形成冬夏兩季相反風向。



4. 台灣茶飲近年發揚光大至全世界，亞太區則以中國大陸為主要戰場，包括 CoCo、迷克夏、歇腳亭、一芳、清新福全等手搖飲料品牌在中國的門市數量更是高達到千家以上，競爭非常激烈。請問台灣茶飲品牌近來接連「登陸」的主要原因為何？ (A)原料充足 (B)市場廣大 (C)工資低廉 (D)交通便利
5. 當「敗犬」現象膾炙人口之際，中國大陸的「剩男」問題，也引起高度關注。預估 2023 中國「被動單身」的男性有 3000 萬以上娶不到老婆，婚姻市場競爭激烈。請問造成這個現象的主要原因可能為何？ (A)長期實施一胎化，導致性別比遠大於 100 (B)長期實施一胎化，導致性別比遠小於 100 (C)政府鼓勵生育男嬰以增加勞動

人口，普遍家庭內男孩數量遠大於女孩 (D)國際移工眾多，移工性別多為男性。

6. 日本皇族在春天賞櫻的「花見」傳統流傳至民間，每逢春季各地紛紛舉辦櫻花季，成為全民共同的休閒活動。根據最新公布的2024年日本櫻花開花時間預測，四大島的部分都市開花時間如下所示。請問：下列配對何者正確？
 (A)甲—四國 (B)乙—本州
 (C)丙—九州 (D)丁—北海道。

島嶼	甲	乙	丙	丁
城市	熊本	高松	仙台	函館
開花時間	3/23	3/25	4/1	4/19

7. 中國政府近年不斷被外界指控，對其新疆境內少數民族進行種族滅絕、宗教迫害、強迫勞動等違反國際人權的舉動。2009 年 7 月 5 日「七五」事件從街上遊行演變成兩個族群間的暴力襲擊，更是造成該族群和漢族的關係進一步惡化。請問該族群是指？ (A)維吾爾族 (B)藏族 (C)回族 (D)蒙古族
8. 「2016年里約奧運的閉幕儀式上，在交棒於下一屆主辦方日本時，由預告片中的前日本首相安倍晉三化身『安倍 Mario』趕到巴西出現，並搭配不同的經典動漫角色穿梭出現，有趣而引起共鳴的表演得到大家的喝采，可見日本動漫在全球的受歡迎程度。」下列何者最適合做為上述報導的註解？
 (A)跨國企業在全球經濟中的角色
 (B)戲劇融入民族意識已成為潮流
 (C)日本的經濟發展與工業技術升級
 (D)維持經濟軟實力的文化創意產業。
9. 日本與台灣同樣位於板塊接觸帶，在地理特徵上有許多相似之處，下列選項何者並非為兩國之共通點？
 (A)山地及丘陵地形廣布
 (B)多火山、地震、與溫泉
 (C)主要平原多位於西南沿海
 (D)河川普遍短小且坡陡流急。
10. 走進賣場可以發現琳琅滿目的『中國製造』商品，從衣服、鞋子、包包到家電、手機、電腦等，在在顯示出中國在製造業上的龍頭地位。請問下列何者不是中國在工業製造上的優勢？ (A)地大物博、礦產資源豐富 (B)鐵路、公路等交通基礎建設完善 (C)社會風氣自由開放，有利於創新研發 (D)人口眾多、勞動力充足
11. 2021年末的強烈寒流侵襲東北亞，通過朝鮮半島的冷氣團，在南韓創下了-25.5°C的低溫。而這波冷空氣迅速越過洋面，為日本帶來大量降雪，癱瘓沿海各城市的交通，東京也以-2.2°C刷新了數十年來的12月最低溫紀錄。南韓與日本緯度相當，但兩地出現的最低溫卻有所差異，此現象與下列何者有關？
 (A)南韓地勢較高 (B)親潮流經朝鮮半島
 (C)日本四面環海 (D)日本群島吹東南季風

12. 據報導『40多年來，中國一直是世界工廠，這種情況即將改變，許多公司將供應鏈轉移到東南亞、印度、墨西哥，甚至波蘭。在這場供應鏈洗牌中，南亞國家幅員遼闊，人口年輕，是中國製造商設廠的主要地點。例如孟加拉該國工人平均月薪不到廣州工人的5分之1...』。請問根據此報導，中國製造地位逐漸動搖是因為失去何項優勢而導致的？(A)高端的技術 (B)大量的資金 (C)充足的動力 (D)廉價的勞力

13. 《牛津英語詞典 Oxford English Dictionary》(簡稱 OED)在其 2021 年的最新版本中一口氣收錄和新增了 26 個韓語詞彙，其中包括：bancha (傳統韓國米飯餐食中的各種小菜)、kimbab (韓式紫菜飯卷)、K-drama (韓劇)、hangok (韓服)、fighting (韓文「加油」、aegyo (韓文「撒嬌」)等。請問：若要為 OED 此舉製作新聞報導，下列何者為最合適的標題？

- (A)韓文撼動中文地位 (B)韓流威力席捲全球
(C)振興失傳語言文化 (D)南韓科技勢力再起

【題組一】

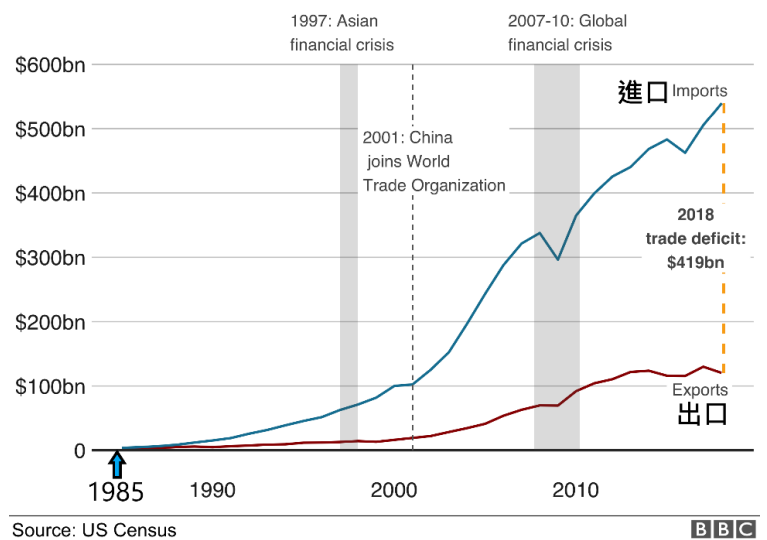
中國省級行政區規畫中，可分為省、直轄市、自治區和特別行政區等四種(如附圖)，請根據資料選出正確答案



14. 關於圖中灰階行政區的描述，何者正確？(A)中國人口最稠密的地區，因此行政區面積特別大 (B)大多位在中國第三級階梯內，平原丘陵廣布 (C)分布於中國邊陲地帶，族群多元，多為少數民族 (D)傳統維生方式農重於牧，小麥、小米為其主食。
15. 位於喜馬拉雅山和崑崙山之間，平均高 4000 公尺以上，有「世界屋脊」之稱。不僅山脈廣布、地形起伏大，且遍佈凍土，造成此地交通易達性極低。請問此描述最可能是何處？(A)甲 (B)丙 (C)丁 (D)戊。

【題組二】

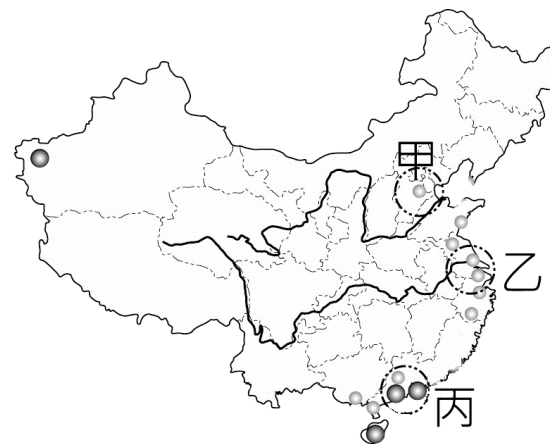
附圖為美國對中國近年進出口總額的變化圖，請根據此圖回答下列問題



16. 從圖中可以看出，自 1985 年後美國自中國進口總額大幅提升，遠遠超過出口總額。請問此變化與下列何者最有關係？(A)中國利用越戰輸出軍火工業，大發戰爭財 (B)中國個人消費能力提升，成為全球消費性電子龍頭 (C)中美貿易戰中中國大獲全勝，成為全球 5G 龍頭 (D)中國成立經濟特區，逐步改革開放，成為世界工廠。
17. 關於美國對中國的貿易狀況，下列敘述何者正確？(A)長期出超，賺取大量人民幣 (B)長期貿易逆差，產生龐大貿易赤字 (C)中國貿易總額已超越美國，為世界第一大經濟體 (D)中國為美國最大出口對象。

【題組三】

中國自改革開放以來，歷經 30 多年來的現代工業發展，出現了數個經濟發展的核心區域，如圖所示，請根據此圖回答下列問題



18. 關於甲乙丙 3 個經濟核心區域發展上的共同優勢是？(A)水陸運發達，對外交通便利 (B)勞動力充足，工資在中國內部相對低廉 (C)氣候優良，日照充足 (D)能源礦豐富、動力充足。
19. 關於丙區發展的特色，哪一個敘述錯誤？(A)為中國最早開放改革的區域 (B)鄰近海外華僑的故鄉，吸引大量外資前往 (C)掌控珠江流域，上海為該區首屈一指的大城市 (D)早期多以勞力密集型產業為主。
20. 乙區是目前中國工商業最發達、都市化程度最高的地區，關於乙區的描述下列何者正確？(A)近郊的中關村聚集許多高科技產業的研發部門，有『中國矽谷』之稱 (B)為中國政治中心，政府部門高度聚集，為國家門面所在 (C)位於中國黃金水道的出口，腹地廣大 (D)珠江流域的門戶，華南水陸交通的樞紐。

【題組四】

1953年7月27日，南、北韓在板門店簽訂《朝鮮停戰協定》，大致沿北緯38度線為界，分為兩個國家，分別為朝鮮民主主義人民共和國以及大韓民國。雖然北韓的國名包含「民主」、「共和」，實際上卻是由朝鮮勞動黨一黨專政，目前最高領導人為金氏家族第三代的金正恩。且因北韓近年發展核武，屢遭國際社會以限制貿易為手段的經濟制裁，加深了國內經濟的不穩定性。根據聯合國的統計數據指出，西元2021年南韓的人均GDP(國內生產毛額)為34,940美元，而北韓僅為654美元，南韓為北韓的53倍，由此可見南北韓經濟發展的巨大落差。

21. 北韓人均GDP偏低，可能與下列哪些因素有關？

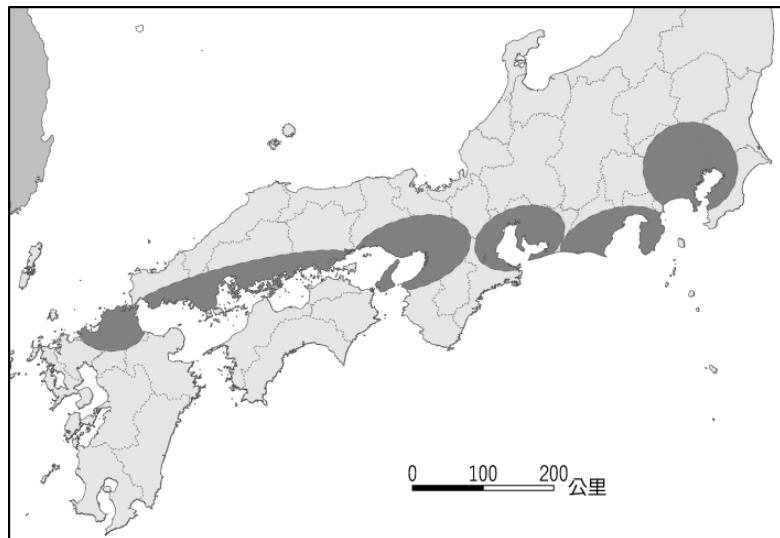
- (甲)緯度較高，農作物生長季較短
 - (乙)工業發展長期重國防、輕民生
 - (丙)缺乏完善的生產技術，糧食供應不足
 - (丁)政府扶植大型財團，忽略中小企業發展
 - (戊)蓋馬高原佔地廣大，地勢崎嶇不利農業
 - (己)缺乏礦產及水力資源，工業發展受到限制
- (A)甲乙丙丁 (B)乙丙丁己 (C)甲乙丙戊 (D)乙丙戊己。

22. 二十一世紀後，南韓以高科技工業為發展主軸，積極推動工業升級，總營收佔南韓GDP高達40%的四大企業：三星集團、現代汽車、SK集團、以及LG集團，其生產的消費性電子、家電、汽車等產品更行銷全球。請問：南韓大型企業主導國家經濟，此現象對於南韓有何負面影響？

- (A)產業空洞化
- (B)貧富差距擴大
- (C)競爭力下降
- (D)製造部門外移。

【題組五】

日本工業區分布的特點有所謂的「三灣一海」。「三灣」是分別位在東京、名古屋、大阪的港灣；「一海」則為瀨戶內海。附圖是日本主要工業區分布示意圖，請依圖中資訊回答下列問題：



23. 由圖中資訊判斷，日本工業區主要分布於下列何處？

- (A)日本海沿岸
- (B)鄰近朝鮮半島
- (C)太平洋沿岸
- (D)濱臨亞洲大陸。

24. 日本工業區的空間分布，其特徵與下列何者有關？

- (A)國土空間不足
- (B)依賴國際貿易
- (C)投資中國市場
- (D)注重漁產加工。

25. 下列何者的產量在上列工業區所佔比例應為最低？

- (A)汽車
- (B)石油
- (C)鋼船
- (D)產業機器人。


解答

1-5	C D D B A
6-10	D A D C C
11-15	C D B C C
16-20	D B A C C
21-25	C B C B B

臺北市立興雅國民中學 112 學年度第一學期八年級公民科補行評量講義

一、選擇題：

- 我國先前因嚴重缺蛋，政府開放從巴西等國家大量進口雞蛋，但因進口蛋的品質不佳、去向不明，引發民怨。農業部主張一切皆依法行政，但最終仍抵擋不了民怨，促使部長遞出辭呈，離開農業部。請問：部長辭職下台的舉動，符合民主政治的何種特色？ (A)民意政治 (B)責任政治 (C)法治政治 (D)政黨政治。
- 網路直播室有幾位名嘴正在討論國家的意義，哪一位名嘴的發言最為中肯、正確？ (A)國旗與國歌的轉變象徵一國的滅亡與衰敗 (B)人類自古以來就是為了擴張領土而組成國家 (C)國家須加入國際組織才足以彰顯自己的主權 (D)春秋戰國時代的諸侯國不具備現代國家的條件。
- 小雅在課堂報告中向同學們介紹領土的範圍，其中有一處她弄錯了，請你幫小雅挑出錯誤處。 (A)領土是一國主權所能行使的範圍 (B)內陸國家的領土不包含 12 浬的領海 (C)在一國領空上方的他國衛星已侵犯該國領土 (D)本國在他國的外交使館視為本國領土的延伸。
- 報載：「台灣婦女的生育率偏低，少子化已被視為國安危機，短期將對社會生產力造成衝擊；長期將會衍生產業缺工、消費力降低、政府稅收減少、勞健保財務等問題，恐重創經濟的發展。目前政府各部門已著手擬定各項因應政策……」請問：上文內容所關注的國家組成要素，與下列哪一個選項相同？ (A)美國聯邦憲法是採三權分立的體制 (B)多數加入歐盟的會員國同意改採歐元為共同交易的貨幣 (C)台灣島嶼總面積 36,197.0520 平方公里，全球排名第 137 名 (D)新加坡的種族以華裔為大宗，其次是馬來裔與印度裔和其他較小的族裔社群。
- 近期流感病毒肆虐，政府呼籲符合資格的民眾，要盡快到醫療院所施打疫苗，以維持身體健康。請問：政府的作為有助於落實哪一項國家的目的？ (A)保衛國家安全 (B)維持社會秩序 (C)保障基本人權 (D)發展社會福利。
- 右圖是國家與政府間的關係圖，根據圖片內容判斷，下列選項何者正確？ (A)甲的權力要靠乙來彰顯 (B)甲有統治權，乙有主權 (C)甲有變動性，乙有持續性 (D)乙的更替會影響甲的存續。



- 私人 (D)五權分立的監察權是從立法權中獨立出來，避免議會專斷。
- 所謂「小政府」，就是「有限政府」，也就是統治最少的政府，就是最好的政府。下列何者，最能展現小政府的意涵？ (A)政府應未雨綢繆，盡量為民服務多做事 (B)對於不合時宜的法律，法官可逕行廢除之 (C)政府應依法行政，不得干涉人民未授權的事項 (D)法律未明定之事，政府可透過行政命令加以規劃。
- 下表是小凱整理的課堂筆記，其中有一處寫錯了，請你幫他找出錯誤處。

	人治社會	法治社會
(A)制定法律者	統治者	民選的民代
(B)法律的意義	鞏固權利	限制權力
(C)執法的標準	依統治者意志	有明確標準
(D)法律的約束力	約束人民	約束所有人

- 台中捷運綠線已經開始營運，藍線捷運也在規劃中。請問：捷運的設置屬於地方政府的哪種自治事項？ (A)安全衛生 (B)經濟發展 (C)社會服務 (D)教育文化。
- 國文課教導「書信結構及用語」時，邱老師搭上祖父母節的慶祝活動，讓全班學生使用正規書信寫法，從學校寄一封信問候自己的祖父母，但是邱老師要將信件寄出時，卻發現有一位學生將地址寫錯了。若依我國地方制度層級，請判斷以下何封信件收件地址必須修正？ (A)新竹縣竹北市 (B)基隆市中正區 (C)桃園市復興鄉 (D)高雄市小港區。
- 畢業許久的國中同學舉辦同學會，有幾位剛好都在政府部門工作。請問：哪一位同學的職務為地方政府行政首長？ (A)通過台北市敬老津貼的預算 (B)強力推動執行都市更新計畫 (C)修正全國《傳染病防治法》 (D)遭遇急難即時發布緊急命令。
- 小名：「畢業時，我領到市長獎，因為我是班上學期總成績第一名。」曉華：「我畢業時也是拿市長獎耶，但我不是第一名，我們第一名拿的是縣長獎。」根據上述對話判斷，請問兩人應分別住在以下何地？ (A)台北市、新竹市 (B)台南市、南投市 (C)彰化市、台中市 (D)嘉義市、高雄市。
- 下圖為嘉義的行政區劃分圖，請問哪一地點最有可能是嘉義市？ (A)甲 (B)乙 (C)丙 (D)丁。



- 依我國現行法律制度，以下對於「省」的敘述，何者正確？ (A)省現在設置省長與省議員，兩個職位皆由人民

- 選舉所產生 (B)省現在設置省主席與省諮議員，負責各地方自治相關事務 (C)省現在設置省主席與省諮議員，由行政院長提請總統任命 (D)省現在設置省長與省議員，為立法院直接管轄的派出單位。
17. 為了符合地方自治的精神，全台灣設置山地原住民區，請問關於我國目前山地原住民區的敘述，以下何者正確？ (A)山地原住民區在直轄市才有可能設置 (B)其他縣市沒有以原住民為主的行政區 (C)山地原住民區的行政首長由市長指派 (D)山地原住民區的預算將由立法院審查。
18. 中央政府有審查預算的工作，地方政府也有，且須配合地方政府層級。請問關於下列預算審查的單位配對，何者正確？ (A)內湖區民代表會審查內湖區預算 (B)新竹市議會負責審查新竹市預算 (C)新竹縣議會負責審查新竹市預算 (D)立法院負責審查台北市政府預算。
19. 某官員因違法失職被立法院彈劾，請問上述的某官員應有下列何項職權？ (A)任命行政院長 (B)任命教育部長 (C)任命信義區長 (D)任命羅東鎮長。
20. 新聞報導：明年立法委員選舉，韓小瑜將被列為不分區立委名單的第一位，請問依照我國現行法律，關於上述新聞，以下何者正確？ (A)這代表將在明年立委的選票上看到韓小瑜的名字 (B)韓小瑜若當選，才有機會參加立法院院長的選舉 (C)名單第一位表示韓小瑜不論任何情況都一定當選 (D)韓小瑜所屬政黨票數達 5 萬票才能使韓小瑜當選。
21. 我國選舉有採用單一選區兩票制，請問關於此制度的敘述，以下何者正確？ (A)單一選區是將全台灣規劃為一個選區 (B)兩票是指可以在一張選票上投下兩個選項 (C)兩票是指原住民立委與區域立委 (D)台灣目前只有立法院選舉使用此制度。
22. 明年將舉行總統大選，有關總統的產生、職權與任期，下列何者正確？ (A)由人民間接選舉產生 (B)任期四年，連選得連任二次 (C)依法制定法律、發布命令 (D)統率全國陸海空三軍。
23. 中央政府的職權，藉由水平分權而達到相互制衡，請問下列哪一項「不符合」以上敘述？ (A)立法院提出憲法修正案後，須經由公民投票複決 (B)行政院編列預算案須交由立法院審查後才能執行 (C)不信任案通過，行政院長得呈請總統解散立法院 (D)總統提名考試院正副院長須經立法院同意後任命。
24. 蘇先生的職位是由總統任命；游先生的職位是由立法委員互選產生；林先生由人民選舉，任期四年，連選得連任，擁有各項提案權，代表人民監督行政權並質詢蘇先生；黃先生的業務是負責主管公務人員、專門職業及技術人員等國家考試。請問：誰在立法院上班？ (A)蘇先生、游先生 (B)游先生、林先生 (C)林先生、黃先生 (D)蘇先生、林先生。
25. 公民投票是以「直接民主」的方式，具體展現人民的共同意志。下列何者適合以公投的方式展現民意？ (A)彈劾正、副總統 (B)解散違憲的政黨 (C)罷免不適任的市長 (D)下修選舉權至 18 歲。
26. 面對選情緊張的第 11 屆立法委員選舉，劉興雅打算在投票日當天，穿著他支持的立委候選人背心去投票，也能藉此為他支持的候選人拉票，但這個想法卻被好友張國中以違反法律為由勸阻了。請問：文中提及的法律，應該是下列何者？ (A)公民投票法 (B)立法委員行為法 (C)公職人員選舉罷免法 (D)總統副總統選舉罷免法。
27. 鄭大一是台北市信義區國業里的里民，今年 1 月的中央選舉是他第一次擁有選舉權，他的鄰居瓦拉斯·裴琳是不惑之年的平地原住民，去年 10 月才從新北市搬遷過來。請問今年的中央選舉，鄭大一與瓦拉斯·裴琳分別可以拿到幾張選票？ (A)4 張、6 張 (B)3 張、3 張 (C)3 張、5 張 (D)2 張、3 張。
28. 陳小錯在接受記者訪問時說：「這已經是我第 2 次連任了，謝謝鄉親們對小錯的愛戴，我將繼續努力監督、問政，才不辜負大家對我的期望。」請問：陳小錯最有可能擔任下列哪一種公職人員？ (A)里長 (B)鄉長 (C)市議員 (D)全國不分區立委。
29. 選前造勢晚會上，某縣長候選人呼籲選民要幫他拉票，讓他有機會連任繼續為縣民服務。請問：該候選人最有可能為下列何者？ (A)40 歲已退伍多年的軍官 (B)32 歲有碩士學位的小興 (C)26 歲受監護宣告的小雅 (D)36 歲被褫奪公權的阿中。
30. 王維一是某候選人的競選總幹事，每天早上 7 點，他都會陪著候選人到街頭拜票，一路忙到晚上 10 點造勢晚會結束。請問：該現象應是發生在選舉過程中的哪個階段？ (A)競選 (B)投票 (C)開票 (D)登記參選。
31. 下表是老師在課堂上使用的投影片，根據內容判斷，老師最可能在講述哪一種投票原則？
- | 國家 | 女性全面取得投票權 | 國家 | 女性全面取得投票權 |
|-----|-----------|--------|-----------|
| 奧地利 | 1918 年 | 中華民國 | 1947 年 |
| 德國 | 1918 年 | 美國 | 1965 年 |
| 英國 | 1928 年 | 沙烏地阿拉伯 | 2015 年 |
- (A)普通 (B)平等 (C)直接 (D)無記名。
32. 第一次行使投票權的如康，在緊張又興奮的心情下，將自己的印章蓋在選票上，反而讓這張選票變成無效票。請問：如康的作法已違反哪種投票公平原則？ (A)普通 (B)平等 (C)直接 (D)秘密。
33. 古希臘三哲的柏拉圖曾說過：「對政治冷漠的下場就是被糟糕的人統治。」可見，政治參與是件重要的事。下列何者是最適合國中生的政治參與方式？ (A)加入政黨 (B)參與選舉 (C)投書媒體 (D)參與罷工。
34. 選委會透過海報與媒體，呼籲國人在投票時務必攜帶「投票三寶」，然而，其中必備不可或缺的其實只有一項物品。請問：投票必備之物是下列何者？ (A)印章 (B)身分證 (C)戶口名簿 (D)投票通知單。
35. 俗諺說：「民意如月亮，初一十五不一樣。」請問：這句

- 俗諺凸顯了民意的哪一種特性？ (A)議題性 (B)差異性 (C)影響性 (D)不穩定性。
36. 嘉禾是某民間環保團體的高層主管，下列何者最可能是她帶領團體成員一起從事的事項？ (A)到立法院為環保法規而關說 (B)向環境部官員表達自身訴求 (C)到偏鄉關懷弱勢孩童與老人 (D)為重視社會福利的候選人助選。
37. 2021年12月18日，我國舉辦了全國性的四大公投案，儘管選前藍綠皆動員民眾希冀以「四個同意」對決「四個不同意」，最終還是因四項公投的有效同意票皆未達到門檻，且不同意票皆超過同意票而全數未通過。請問：藍綠政黨的作為，展現了政黨的何種功能？ (A)服務選民 (B)提名候選人 (C)組織與監督政府 (D)引導公共意見的形成。
38. 幾位同學正聚在一起討論民意的特性，下列何者的說法最符合影響性的內涵？ (A)小興：自從名嘴在節目上提到動物權後，許多民眾都開始關注動物的權利。 (B)阿雅：在年輕人不斷地上街頭抗議後，政府相關單位已開始著手修訂社會住宅的政策了。 (C)阿國：關於離島是否成立博弈特區一事，離島居民的意見相當分歧 (D)大中：那位以高得票率選上的行政首長，上任不到多久時間，就被選民罷免下台了。
39. 甲和乙分屬不同的團體，甲對乙說：「謝謝貴團體在今年的選舉中為我們站台，您們所關注的議題，我們一定會在修法時特別留意。」請問：下列對於甲、乙兩團體的敘述，何者最為恰當？ (A)乙與政黨同屬政治性團體 (B)甲所關注的議題面向較乙多元廣泛 (C)乙需要派出候選人參選以達成其政治目的 (D)甲常利用陳情與遊說的方法來影響政策。
40. 民主國家的政府相當看重公共意見，會將它作為制定與執行政策的依據。下列關於公共意見的敘述，何者正確？ (A)只要和人民生活有關內容，都可視為公共意見 (B)唯有過半數民眾支持或反對的意見，才能稱為民意 (C)民意是人民對公共事務公開表達的集體意見 (D)民主社會以民為主，只要是人民的意見都是民意。

二、題組題：

(一)

我國自1996年第9屆總統選舉起，辦理人民直選正副總統，期間歷經三次和平的政黨輪替，也讓我國民主化的程度深受各國肯定。此外，台灣人民也習慣透過選票，共同決定國家執政權力的歸屬，不受外界勢力的干涉。

明年1月13日，我國將舉行第16任總統、副總統選舉，目前已有民主進步黨、中國國民黨與台灣民眾黨推出政黨候選人，希冀透過公平公正的選舉獲得人民青睞，贏得執政權力。請問：

41. 上文第二段，可彰顯民主政治的何種特色？ (A)民意政治 (B)法治政治 (C)責任政治 (D)政黨政治。
42. 文中提及「台灣人民也習慣透過選票，共同決定國家執政權力的歸屬。」符合下列哪一種敘述？ (A)主權的獨

立性 (B)主權的最高性 (C)政府的持續性 (D)政黨的輪替性。

43. 從各政黨「推出政黨候選人，希冀透過公平公正的選舉獲得人民青睞，贏得執政權力。」可彰顯權力與權利間的何種關聯？ (A)人民透過行使權利賦予政府統治權力 (B)人民依法向國家請求各種積極的權利 (C)要求政府依法行政，以限制政府權力 (D)人民透過選舉制度收回政府的統治權。

(二)

依據警察職權行使法第6條的規定，「警察於公共場所或合法進入之場所，得對於下列各款之人查證其身分：一、合理懷疑其有犯罪之嫌疑或有犯罪之虞者。二、有事實足認其對已發生之犯罪或即將發生之犯罪知情者。……」

兩年前一名音樂老師被正在巡邏的警員認定「行蹤可疑、可能涉及犯罪」而遭到盤查。該老師認為自己清白，拒絕提供身分證，而與員警發生爭執。過程中員警以柔道將該老師制伏在地，並依侮辱公務員罪嫌帶回警局扣留9個小時。事後地方法院認為該員警盤查不符合要件，依犯「公務員假借職務上之機會強制罪」與「公務員假借職務上之機會剝奪他人行動自由罪」定罪判刑(可上訴)。請問：

44. 依據警察職權行使法第6條的規定，警察得對行蹤可疑、可能涉及犯罪者進行盤查，有助於落實哪一項國家存在的目的？ (A)保衛國家安全 (B)維持社會秩序 (C)保障基本人權 (D)發展社會福利。
45. 關於文中的老師，認為自己是清白的，拒絕提供身分證被員警盤查一事，下列哪一項敘述最符合該事件？ (A)該老師在主張免於被損害的消極權利 (B)該老師在主張向國家請求的積極權利 (C)該老師以權利收回員警的公權力 (D)該老師在捍衛自身的公權力。
46. 員警因執行勤務不當，被法官定罪量刑，最符合哪一種民主政治的特色？ (A)民意政治 (B)法治政治 (C)責任政治 (D)政黨政治。

解答

1-5	BDCDD	6-10	AADCB
11-15	BCBBB	16-20	CABAB
21-25	DDABD	26-30	CBCAA
31-35	ADCBD	36-40	BDBBC
41-45	DBABA	46	C