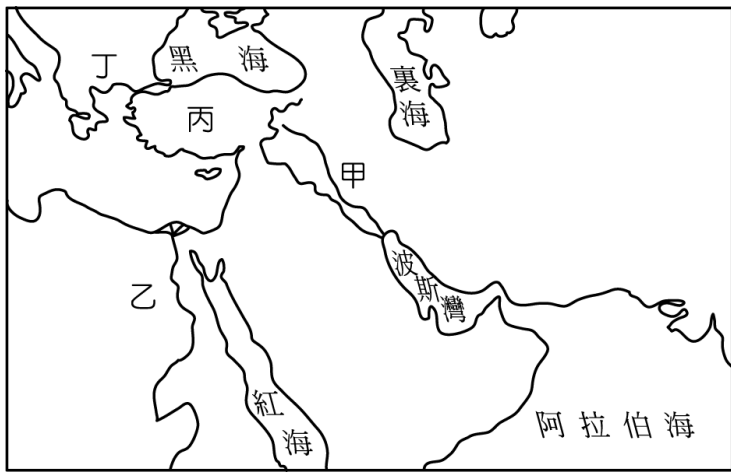


一、單題 (每題分, 共分)

1. 古代的蘇美人、巴比倫人曾在「肥沃月彎」地區創造輝煌的文明，影響後世很大。請問：附圖中哪一個地區為其文明發源地？



(A)甲 (B)乙 (C)丙 (D)丁。

2. 帥龍老師講述古代西亞歷史時，提供同學以下法典的內容，請同學們討論。

- (一)若一個貴族毀了一個貴族的眼，他的眼也必須被打瞎。
- (二)若一個平民毀了一個平民的眼，他的眼也必須被打瞎。
- (三)若一個貴族打瞎一個平民的眼，或打斷骨頭，他應付銀子。
- (四)若一個平民打瞎一個奴隸的眼，或打斷他的骨頭，他應付奴隸身價的半數。
- (五)如果妻子受丈夫百般虐待，妻子有取回全部嫁妝而回娘家的權利。

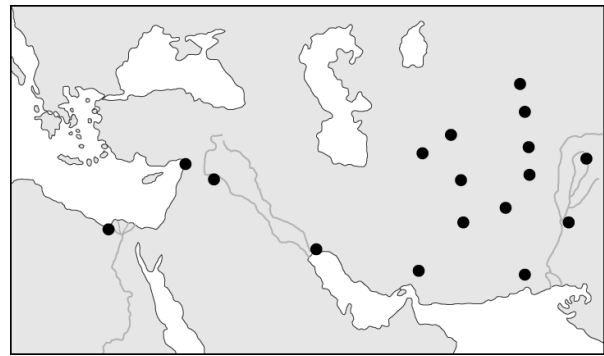
根據上述資訊，請你判斷以下的說法何者正確？

- (A)漢摩拉比法典主張傷人者只需付錢賠償
  - (B)漢摩拉比法典中不承認女性的法律地位
  - (C)漢摩拉比法典蘊含以牙還牙、以眼還眼的報復原則
  - (D)漢摩拉比法典主張法律之前，人人平等。
3. 西亞為四大古文明的發源地之一，由於缺乏天然屏障，政權交替頻繁，因而在文化上有多彩多姿的表現。請問：古西亞文明包括哪些民族？(甲)希臘人 (乙)巴比倫人 (丙)蘇美人 (丁)波斯人 (戊)埃及人
- (A)甲乙丙 (B)甲乙丁 (C)甲丙戊 (D)乙丙丁。
4. 下列關於文化遺產、民族、活動地區的配對，哪些是正確的？(甲)六十進位法→蘇美人—兩河流域 (乙)《漢摩拉比法典》→巴比倫人—伊朗高原 (丙)猶太教→希伯來人—地中海東岸 (丁)祆教→波斯人—小亞細亞 (戊)象形文字→古埃及人→尼羅河
- (A)甲乙丙 (B)甲丙戊 (C)乙丙丁 (D)丙丁戊。
5. 黃小婕對研究古埃及歷史特別有興趣，她發現古埃及國王具有哪些特色？(甲)稱為「法老」(乙)是尼羅河神之子 (丙)代表循環不息的再生力量 (丁)金字塔為其陵墓
- (A)甲乙 (B)甲丙 (C)甲丁 (D)丙丁。
6. 雅典雖然是一個城邦，但卻一躍成為古希臘世界中最為強大的勢力，人才薈萃，為雅典最為光輝耀眼的「黃金時代」。請問：雅典「黃金時代」的開啟是由於下列哪一因素？(A)率領希臘各城邦擊敗波斯帝國 (B)擊敗斯巴達後統一希臘各城邦 (C)建

立地跨歐、亞、非三洲的大帝國 (D)打敗特洛伊成為地中海商業盟主。

7. 帥龍老師帶領 911 班同學畢業旅行到希臘時經過一個描述當地歷史戲劇拍攝片場，他們最可能親眼欣賞到下列哪些劇情？
- (甲)準備前往奧林匹亞參加祭典的運動員
  - (乙)看見蘇格拉底在廣場上與年輕人反覆申辯知識
  - (丙)看到詩人荷馬述說特洛伊戰爭中的英雄事蹟
  - (丁)雅典在廣場投票選出理想的官員
  - (戊)看見元老院為屋大維獻上「奧古斯都」的尊號
- (A)甲乙丙 (B)甲乙戊 (C)丙丁戊 (D)乙丙丁。
8. 西元 1799 年，拿破崙軍隊在尼羅河三角洲的一個稱為羅塞塔的港口城鎮郊外莊發現一塊刻有三種文字的官方公告石碑：最上面為古埃及象形文字，中間是埃及草書世俗體，最下面為古希臘文。以三種字體書寫的目的是為了讓各族人都能看懂此石碑意涵。請問：石碑中由三種文字書寫與下列何者有關？
- (A)埃及曾經被希臘人統治
  - (B)波斯人征服兩河流域、埃及，並建立橫跨歐亞非三大洲帝國
  - (C)雅典領導希臘眾城邦在波希戰爭中擊敗波斯
  - (D)擅長航海與經商的腓尼基人將希臘文字向外傳播。

9. 附圖的●處是歷史上某軍事行動後，統治者在征服區所興建的城市。根據分布範圍判斷，此行動最可能是下列何者？



(A)蒙古西征 (B)亞歷山大東征 (C)波希戰爭 (D)羅馬帝國征服波斯。

10. 19 世紀德國法學家耶林曾說：「羅馬曾經三次征服世界，第一次是以武力，第二次是以宗教，第三次是以法律。」請問：下列何者「不是」耶林說出這句話的基礎？(A)十二表法成為歐洲制定法律參考的來源 (B)擴張領土成為橫跨歐、亞、非三洲的大帝國 (C)拉丁文成為中世紀西歐通用文字 (D)競技場上的競賽成為今天奧林匹克運動會的起源。
11. 某一石碑刻有防守帝國疆域的軍團名稱，經研究確認石碑上刻的的軍團分別駐紮於今日英格蘭、西班牙、埃及、敘利亞等地，以及多瑙河、萊茵河沿岸。該碑文應是記錄下列哪一帝國的軍團？(A)西元前 6 世紀的波斯帝國 (B)西元前 4 世紀的亞歷山大帝國 (C)2 世紀的羅馬帝國 (D)13 世紀的蒙古帝國。
12. 10 世紀時，俄羅斯的基輔大公弗拉基米爾將與安娜公主聯姻，大公不僅自己接受希臘正教信仰，也強迫俄國人跳下河受洗。」上述的「安娜公主」可能是哪一帝國的公主？(A)波斯帝國 (B)羅馬帝國 (C)拜占庭帝國 (D)阿拉伯帝國。
13. 西元 2022 年時，東正教教會君士坦丁堡大公宗主教巴爾多祿茂一世在土耳其伊斯坦堡，接見了一群來訪的天主教神父和記者時，特別提出他的一個願望：在不久的將來東正教教會和天主教教會能在同一天慶祝復活節。請問：導致當初兩教派分裂的主要因為何？(A)爭奪基督教世界的領導權 (B)天主教會本身的


- 腐化 (C)羅馬政府四處迫害基督徒 (D)羅馬教會勢力凌駕各國君主。
14. 帥龍老師帶興雅 911 班畢業旅行來到某城市觀光，手中的旅遊簡介如下：「此城市地理位置優越，既連接兩大洲，又位居黑海通往地中海航道的必經之地，曾經先後作為兩個大帝國的首都長達一千六百多年之久。城內有著拜占庭帝國所修築的古城牆、鄂圖曼帝國華麗的皇宮，以及宏偉的基督教教堂與清真寺等文化遺產，展現了這座城市輝煌悠久的歷史。」根據內容判斷，阿娟到訪的城市最可能是下列何者？ (A)羅馬 (B)巴格達 (C)伊斯坦堡 (D)耶路撒冷。
15. 蔡小嵐帶女朋友去看一部冒險電影，背景設定在約西元 8 世紀間繁榮的某帝國首都，街道上遍布商人從各國帶來的貨品，可知其工商業發達。此帝國剛打敗了東方強國，而主角即將被派去中亞的城市學習造紙的技術。請問：這部電影的背景最可能是設定在下列哪一座城市？ (A)長安 (B)羅馬 (C)君士坦丁堡 (D)巴格達。
16. 阿拉伯帝國的阿拔斯王朝，從八世紀中期直至十世紀末期，網羅學者有系統地將西方典籍翻譯成阿拉伯文，被稱為「百年翻譯運動」。除了保存在首都圖書館以外，也將複本推廣到帝國各處，使阿拉伯首都成為當時學術的中心。請問：這場百年翻譯運動對日後歐洲造成哪一影響？ (A)促進造紙術西傳 (B)造成基督教分裂 (C)拜占庭帝國滅亡 (D)促成文藝復興。
17. 帥龍老師欣賞某位藝術家的展覽時，聽到導覽人員介紹：「這個人出生在 1492 年，是西方藝術史上的天才與怪胎，他擅長利用直線透視法去捕捉自然的神韻；為了解人體結構，半夜到墓地解剖屍體，只為了解人的肌肉是如何運作。他除了畫作外，也設計不少機械、兵器、建築圖樣，著名的作品『蒙娜麗莎像』一直都是眾人討論的焦點……。」請問：上文所述的最可能是誰？ (A)達文西 (B)莎士比亞 (C)佩脫拉克 (D)拉斐爾
18. 文藝復興時期開始，藝術創作強調恢復希臘與羅馬的傳統，藝術家精研人體結構，重視透視法，作品中呈現關注人性與現世社會的特質。此時藝術家的地位大幅提升，非以往的工匠可比，貴族與富商都願意收購藝術作品珍藏。請問：上文中所提及的「文藝復興時期」最可能發生在下列何時何地？ (A)西元 1 世紀的巴勒斯坦 (B)西元 8 世紀的巴黎 (C)西元 15 世紀的威尼斯 (D)西元 18 世紀的倫敦
19. 文藝復興運動促成近代歐洲文化的形成，開啟了歐洲歷史的新紀元。這個運動的主要內涵是什麼？ (A)以人為本，肯定人生現世的價值 (B)闡明教義，重新領會基督教精神 (C)提倡科學方法，建立科學宇宙觀 (D)應用科學精神，以解決社會問題。
20. 蒲小臨到輔仁大學參觀，看到利瑪竇大樓，因此想研究被稱為是「中國使徒」的利瑪竇，尤其是利瑪竇身為傳教士被派到中國來傳教的背景，更讓蒲小臨對這個宗教感到好奇。請問：下列關於利瑪竇所屬的宗教，何者敘述正確？ (A)認為信徒努力工作、有所成就是上帝的榮耀 (B)認為每一個人能否得救是靠個人對上帝的信仰 (C)清末來臺灣傳教的馬雅各也同樣屬其教派 (D)要求教士嚴格自律，積極向海外傳教。
21. 胡小博在家政課報告：「巧克力的主要原料是可可豆，中美洲的原住民馬雅人最早將可可豆加水和香料製成飲用，16 世紀初被探險家船隊發現並帶回西班牙，西班牙人將可可豆磨成了粉，並加入了水和糖加熱，這種飲料被稱為巧克力，深受歐洲大眾的歡迎。」請問：上文中的探險家應為何人？ (A)狄亞士 (B)達伽馬 (C)哥倫布 (D)麥哲倫。
22. 游小螢讀完西洋近代史，歸納西元 15 世紀歐洲人發展海外探險的動機有哪些？ (甲)對亞洲的香料、絲綢等奢侈品需求增加 (乙)抓印度人做為奴隸販售 (丙)藉機傳播伊斯蘭教的福音 (丁)貿易路線被義大利商人及鄂圖曼土耳其商人所掌控 (A)甲乙 (B)甲丙 (C)甲丁 (D)乙丁。
23. 帥龍老師帶領 911 班到印度畢業旅行，泰姬瑪哈陵位於印度北方邦阿格拉，是一座用白色大理石建造的陵墓，是印度知名度最高的古蹟之一。它是蒙兀兒王朝第五代皇帝沙賈汗為了紀念他的第二任妻子興建的陵墓。1983 年，聯合國教科文組織將泰姬瑪哈陵列為世界遺產，稱其為「印度穆斯林藝術的瑰寶奇葩」。請問：泰姬瑪哈陵的藝術風格融合哪些文化元素？ (甲)伊斯蘭 (乙)埃及 (丙)印度 (丁)英國 (戊)波斯 (A)甲乙丙 (B)甲丙戊 (C)乙丙戊 (D)丙丁戊。
24. 臺灣日治時期有「米糖相剋」的問題，指的是同一塊土地，種植稻米後就不能種植甘蔗。同樣，在 17 世紀的印尼也有一樣的狀況，因為統治者要求種植經濟作物，而影響當地糧食作物的生產，最後導致居民生活陷入困頓。請問：上述統治者屬於下列哪一國家？ (A)英國 (B)荷蘭 (C)葡萄牙 (D)西班牙。
25. 啟蒙運動思想家盧梭的《社會契約論》中，有何重要的、具原創性的主張？ (A)約束人類本性的最佳辦法，就是建立一個具有絕對權威的政府來控制他們 (B)政府的權力是來自人民的委託 (C)主張國家或政府的權力，應分為行政、立法、司法三個互相獨立又互相牽制的部分，自由的維持是靠這三個權力的均衡 (D)政府必須在人民的同意之下，才能干涉人民的基本權利。
26. 18 世紀中葉以來，英國為因應棉紡織品的市場需求增加，開始以機器動力取代人力，使生產力大增，稱為「工業革命」。下列何者不是工業革命起源於英國的原因？ (A)政治相對自由與安定 (B)煤礦資源豐富 (C)歐洲國家中最早發展海外探險 (D)注重智慧財產權。
27. 雨果的作品《悲慘世界》曾改編為舞臺劇、電影，描寫 19 世紀初法國社會的生活狀況。雨果在前言寫下：「……只要本世紀的三個問題——貧窮使男子潦倒，饑餓使婦女墮落，黑暗使兒童羸弱——還得不到解決；只要在某些地區還可能發生社會的毒害，換句話說，同時也是從更廣的意義來說，只要這世界上還有愚昧和困苦，那麼，和本書同一性質的作品就不會是無益的。」請問：雨果《悲慘世界》中描述城市中人民生活困苦的社會問題，主要由於下列哪一變革所導致的？ (A)發現新航路 (B)啟蒙運動 (C)科學革命 (D)工業革命。
28. 歷史事實與歷史解釋不同，最大的差別在於歷史事實是呈現客觀的事實本身；而歷史解釋則是史學家對史實的詮釋。就歐洲歷史上的科學革命而言，下列哪一項敘述屬於歷史解釋？ (A)這個時期被稱為「天才的世紀」 (B)提出新的研究方法歸納法及演繹法 (C)溫度計、顯微鏡等新工具問世 (D)牛頓提出三大運動定律。

1. 北歐的芬蘭有一種特殊的「桑拿浴」，此種沐浴方式是先在湖畔的小木屋內以水澆在燒得高溫石頭產生蒸氣，以樹枝輕輕拍打並按摩身體，然後跑出屋外跳入冰冷的湖中，使血管反覆擴張收縮，增強血管彈性。芬蘭到處都有湖泊，有許多家庭也自建桑拿房，以方便經常享受桑拿浴。請問這種湖泊是屬於下列何種類型？(A)火口湖 (B)斷層湖 (C)冰蝕湖 (D)堰塞湖。

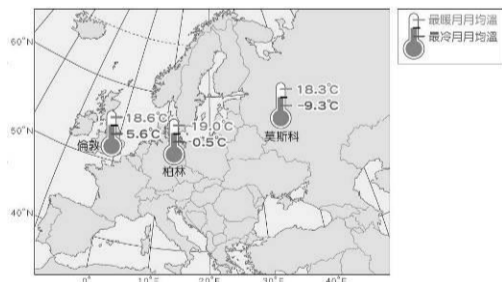
2. 阿爾卑斯山是歐洲的主要山脈，山間的谷地成為南北交通的天然孔道。這些谷地的型態及形成原因是？(A)斷層陷落形成的裂谷 (B)河流侵蝕造成的 V 型谷 (C)人為炸山開出來的 (D)冰河侵蝕造成的 U 型谷

3. 有世界公園之稱的瑞士有許多特色產品，除了瑞士刀、鐘錶之外，還有一項特別的裝飾品，就是牛鈴。瑞士的牧民將牛鈴掛在牛的脖子上，透過聲音來判斷牛隻所在的位置。請問牛隻的放牧地點在下列哪座山地區？(A)本寧山 (B)阿爾卑斯山 (C)庇里牛斯山 (D)斯堪地那維亞山。

4. 右圖為峽灣的示意圖，它是由於冰河河谷延伸至海邊，海水入侵所形成。此種地形在以下哪一個國家最為發達？(A)希臘 (B)挪威 (C)荷蘭 (D)義大利。



5. 下圖是歐洲三個緯度相近的城市的最冷月月均溫與最暖月月均溫示意圖，下列何者是造成這三個城市氣溫變化的主要因素？



(A)洋流 (B)緯度 (C)風向 (D)地形。

6. 歐盟自成立之初的歐洲煤鋼共同體發展至今，合作的夥伴及項目不斷增加，成為區域性經濟組織的典範，其功能在未來更有擴大的趨勢。以下有關歐盟特色的敘述，何者正確？

- (A)會員國均以歐元為單一貨幣，商業交流更為順暢
- (B)會員國經濟發展程度相同
- (C)以英語為單一語言，以利溝通
- (D)大部分會員國參與申根公約國家，取消邊境管制，暢行無阻。

7. 北歐各國的社會福利制度發展完善令人稱羨，而其社會福利所需要的經費來源與下列何者關係最密切？(A)國民負擔高額稅金 (B)國營企業的獲利高

(C)巨額的礦產外銷收入 (D)勞動人口比例高。

8. 下列關於德國工業轉型與升級的敘述，何者正確？(甲)豐富的煤礦與便利水運網為工業基礎 (乙)北海石油帶來豐厚利潤，滿足國內工業需求 (丙)目前為歐洲工業產值最高的國家 (丁)質地精良的汽車、機械、化工儀器產品博得聲譽 (戊)由沼澤地改建的高科技中心，有「歐洲矽沼」的美譽

(A)甲乙丙 (B)甲丙丁 (C)乙丙戊 (D)乙丙丁。

9. 小兔趁假期前往歐洲一行，他先前往有鬱金香王國之稱的低地國，參觀了運河之都阿姆斯特丹及歐洲第一大海港鹿特丹，再沿河上行飽覽萊茵河中游的風光及各式古堡，接著來到時尚花都大採購，並遊覽了羅浮宮、凱旋門及艾菲爾鐵塔等景點，最後搭乘「歐洲之星」列車由海底隧道穿越英吉利海峽到達有名的霧都，遊覽了大笨鐘、塔橋、白金漢宮、西敏寺、巨石陣等。請排出小兔此次西歐之旅經的國家順序。



(A)丙丁乙甲 (B)丁丙乙甲 (C)乙丁丙甲 (D)乙丁甲丙

10. 下表是西元 2025 年世界各大洲的人口年齡結構資料預估，依據表中資料判斷，何者最可能是歐洲？

洲別	幼年 (%)	壯年 (%)	老年 (%)
甲	15.7	63.3	21.0
北美洲	17.4	63.8	18.8
大洋洲	23.1	62.9	14.0
乙	22.3	67.6	10.1
丙	22.6	67.2	10.2
丁	39.1	57.2	3.7

(A)甲 (B)乙 (C)丙 (D)丁。

11. 以下北歐各國的發展特色，何者正確？

- (A)芬蘭 — 富鐵礦，汽車工業發達
- (B)挪威 — 森林多，主要發展林業及造紙業
- (C)瑞典 — 多峽灣，發展航運及漁業
- (D)冰島 — 利用地熱發電及發展溫室農業

12. 西伯利亞鐵路是世上最長的鐵路，全長 9,288 公里，橫跨歐亞大陸。從莫斯科出發一路東行，到了太平洋岸的伏拉迪沃斯托克所經過的地形依序為何？

- (A)高原、山地、平原 (B)平原、高原、山地
- (C)平原、山地、高原 (D)山地、高原、平原。

13. 瑞士宣稱為「永遠的中立國」，但為了持續與歐盟在交通、環境、科學研究和貿易等領域的緊密來往，瑞士最終仍與歐盟簽訂雙邊協定，保障雙方人民的遷徙自由，甚至全面開放了邊界，也因此獲益許多。請問瑞士參與的是下列哪一項合作協議？

- (A)加入歐盟 (B)簽署申根公約  
(C)使用歐元 (D)實施關稅同盟。

14. 「俄羅斯的地理學家塔季謝夫發現，在俄國有座山脈，其東、西兩側地區的動植物有許多顯著的不同，於是他主張以此山脈作為歐洲與亞洲的分界線，而這一設定於 18 世紀時廣泛被國際接受。」

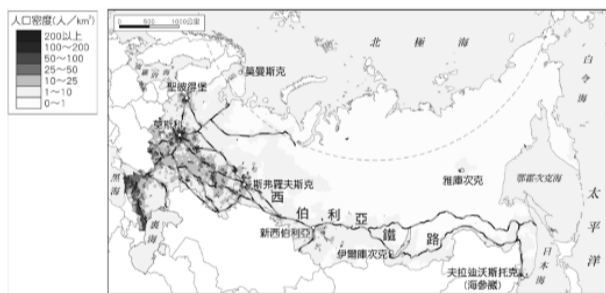
請問上述的山脈指的是？

- (A)高加索山 (B)阿爾卑斯山  
(C)喀爾巴阡山 (D)烏拉爾山。

15. 目前歐盟在人員、商品、勞力、資本自由移動的單一市場目標已經達成整合，經濟實力受到全球的肯定。但各國之間也存在諸多問題與困境，其中「不包括」下列何者？

- (A)區域發展不均衡  
(B)應對國際難民的方式不同  
(C)因全球突發新冠肺炎疫情無法協調出一致的防疫政策，反而各自關閉邊境，相互爭奪資源  
(D)種族與宗教紛爭不斷。

16. 附圖為俄羅斯人口分布圖，西伯利亞占據了俄羅斯大約 3/4 的國土面積，人口數量卻少於全國的 1/4，主要集中於西伯利亞鐵路兩旁，如新西伯利亞、伊爾庫次克等城市。西伯利亞人口分布較密集的地區，與下列何項因素關係最密切？



- (A)氣候較暖，交通便利 (B)工業發達，收入較高  
(C)氣候溫暖，糧產豐富 (D)鄰近中國，貿易頻繁。

17. 下圖中的克里米亞半島原為烏克蘭領土，西元 2014 年俄羅斯兼并該地區，之後兩國的紛爭不斷。西元 2021 年 4 月，兩國同時舉行軍事演習，俄國軍隊還在烏克蘭邊界的頓巴斯附近集結大批兵力，震驚國際，兩艘美國軍艦也因此將出發前往附圖中的「甲」海域。



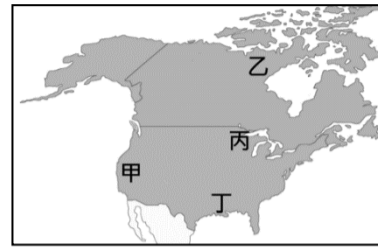
敘述軍艦所前往的「甲」海域為下列何者？

- (A)裡海 (B)黑海 (C)地中海 (D)波羅的海。

18. 《湯姆歷險記》是一部膾炙人口的著名小說，它敘述著人位住在美國的小男孩湯姆，順著密西西比河漂流，一路上的冒險故事。湯姆冒險途中所見到的地形大多為下列何者？

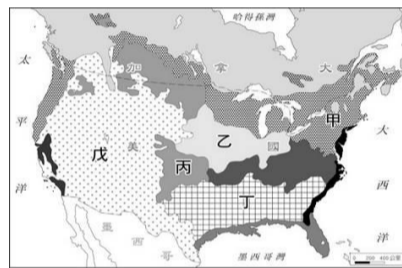
- (A)高而起伏的高原 (B)平坦遼闊的平原  
(C)山峰重疊的山地 (D)形勢封閉的盆地。

19. NBA 有些球隊的名稱與所在地歷史或環境並不符合，是因為搬遷的關係，例如湖人隊最早是指稱生活在明尼蘇達州，成千上萬個湖泊附近的人們，後來球隊才搬遷至洛杉磯。由此推論湖人隊應是由附圖中何處搬遷至洛杉磯？ (A)甲 (B)乙 (C)丙 (D)丁。



20. 美國農夫有「手提箱農夫」之稱，雇用工人以大型機器耕作、以直升機代步巡視農田，所有收成全部銷往市場等經營模式，突顯出美國的自然環境與農業具有哪些特色？ (甲)集約耕作 (乙)每人平均耕地面積大 (丙)單位面積產量大 (丁)機械化程度高 (戊)農作商品化 (A)甲乙丙 (B)甲乙丁 (C)乙丙丁 (D)乙丁戊。

21. 美國的酪農業相當發達，主要分布於圖中的哪一個地區，以便就近供應市場需求？



- (A)甲 (B)乙 (C)丙 (D)戊。

22. 近年來，巴西的森林地區成為該國積極開墾的目標，主要原因為下列何者？

- (A)外資進駐進行產業結構轉型  
(B)政府積極發展高科技產業  
(C)外資需要設立許多加工出口區  
(D)政府鼓勵農民前往進行農、牧業開發。

23. 中國近年來積極對外擴展國際貿易，與南美洲國家的貿易亦快速增長，中國提議興建貫穿秘魯及巴西、聯通南美兩側海域的「兩洋鐵路」，以打破目前在美國控制下的國際物流壟斷。若未來「兩洋鐵路」興建完工後，將對哪一國家境內的聯洋運河收益產生重大影響？ (A)馬來西亞 (B)埃及 (C)巴拿馬 (D)墨西哥。

24. 承上題，「兩洋鐵路」的興建將貫穿秘魯及巴西，國際環保組織認為這條路線將會通過下列哪一地形區，造成雨林環境的破壞？ (A)墨西哥高原 (B)中美地峽 (C)亞馬孫盆地 (D)拉布拉他河平原。

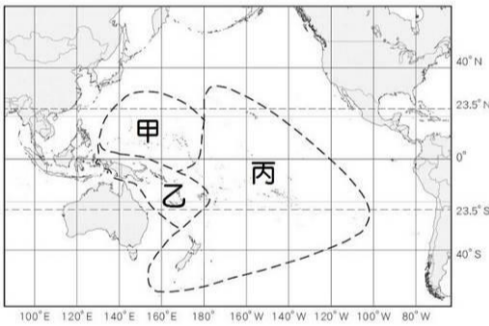
25. 住在臺灣的小兔一家人趁著寒假到中南美洲旅遊，以下是他們的行程：①遊覽加勒比海沿岸，欣賞當地的熱帶景觀。②前往亞馬孫河流域，體驗號稱「地球之肺」的雨林探險。③至巴西的里約熱內盧，參加開齋節活動。④造訪安地斯山區著名的高山湖泊「的的喀喀湖」，體驗特殊的人工浮島與蘆葦船隻。



上述旅程當中，哪一段行程並「不符合」事實？

- (A) ① (B) ② (C) ③ (D) ④

26. 巴西的舊都為繁榮的里約熱內盧，1960 年時巴西政府將首都遷移至巴西高原上的巴西利亞，主要原因為何？(A)加速熱帶雨林的開發 (B)均衡區域發展 (C)減緩全球暖化速度 (D)提高國民素質。
27. 中南美洲都市人口比例偏高的主要因素為下列何者？(A)國家經濟發達 (B)政府鼓勵移民 (C)鄉村十分貧困 (D)都市就業機會充足
28. 丹尼爾是墨西哥鄉下農場的工人，但薪資微薄，為了改善生活，於是他與朋友一同到美、墨邊境的加工廠工作，工廠老闆是個美國人，生產的產品主要出口到歐、美等地。丹尼爾工作的工廠最可能為哪一類型？(A)電子工廠 (B)食品加工廠 (C)蔗糖廠(D)石化工廠。
29. 附圖是大洋洲三大島群的位置圖，有關圖中甲～丙三大島群的描述，何者符合事實？(A)此三大島群主要散布於大西洋 (B)飛機由甲島群向東飛越國際換日線，日期要加一天 (C)乙島群主要位於西半球、南半球 (D)丙島群為玻里尼西亞。
30. 「Poke Bowl」一詞是源自於夏威夷文「Poke」切塊與英文 Bowl 的結合，主要是將魚肉及大量蔬菜切



丁，再一起裝在大碗盆裡，色彩繽紛又兼具營養價值，成為近日極受臺灣民眾歡迎的飲食方式，請問下列對於夏威夷群島的敘述何者正確？

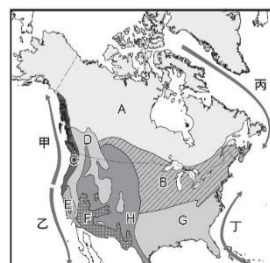
- (A)為一溫帶島嶼，氣候涼爽舒適  
(B)為火山作用形成面積較大的高島  
(C)主要由珊瑚礁構成的低島  
(D)因土壤貧瘠，居民皆以漁業為生。
31. 大洋洲三大島群以觀光業為經濟發展的重點，下列何者是其吸引觀光客前往度假旅遊的重要因素？(A)豐富的熱帶海陸生態 (B)綿延 2000 公里的大堡礁 (C)羊隻點點的大草原 (D)冬季美麗的雪景。
32. 下列為紐西蘭與澳洲地理環境的比較，請問下列何者正確？

	紐西蘭	澳洲
(A)地形	位於板塊交界，多火山地震	位於板塊內部，除了東部之外地勢多平坦

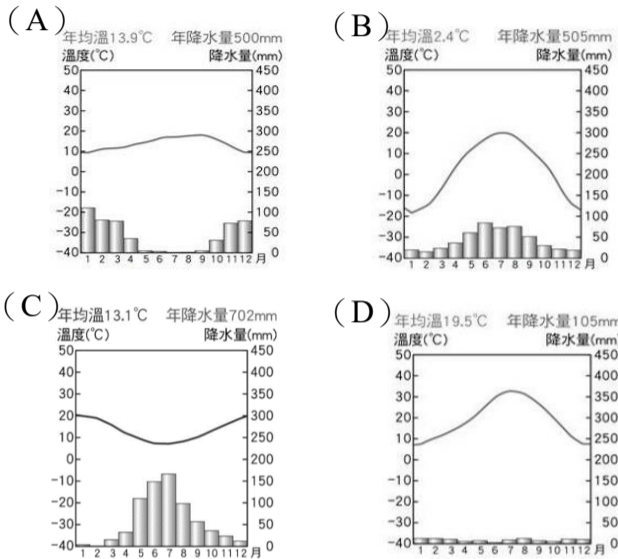
(B)氣候	以溫帶海洋氣候為主	以夏雨型暖溫帶氣候為主
(C)原住民族	南島語族	南島語族
(D)礦產資源	豐富多樣	極度缺乏

33. 澳洲生態學家指出，袋鼠肉脂肪量低，相較其他反芻類養殖動物生產的溫室氣體更少，因此比吃牛肉更加環保。另外，紐西蘭政府也宣布，預計於西元 2025 年開始徵收牛、羊等畜牧動物打嗝、放屁和排泄時所釋放的「溫室氣體稅」。請問：澳洲、紐西蘭所提出的這些措施，最能夠解決下列哪一項問題？(A)地震頻率增加 (B)珊瑚礁島國國土被海水淹沒 (C)熱帶雨林面積減少 (D)石油資源開發枯竭。
34. 紐西蘭的農產品不是只有奇異果，我們在超市見到的蘋果、酪梨、西洋梨、櫻桃、蘆筍也常常來自於紐西蘭。請問該國過去以出口羊毛、奶粉為主，現在新鮮蔬果也成為主要出口商品之一，其主要原因為何？(A)農業品種改良科技發達 (B)遠洋運輸與冷藏設備技術革新 (C)調整農作物產季與北半球相同 (D)毛利人投入農業的人口日益增加。
35. 袋鼠、無尾熊、鴨嘴獸與鸚鵡皆為澳洲的特有種，請問澳洲能夠演化出許多特有種的原因為何？(A)寒暖流交會 (B)緯度適中 (C)氣候環境複雜 (D)四面環海。
36. 紐西蘭估計有 390 萬的人口集中在北島，而南島的人口較少，為 120 萬。請問造成紐西蘭人口分布有如此差異的主要原因為何？(A)移民政策 (B)盛行風向 (C)緯度高低 (D)距海遠近
37. 澳洲基於殖民背景，原本與歐洲國家往來較密切，近年來卻走向「脫歐入亞」，加強與亞洲各國的經貿往來。上述情形最主要的原因為何？(甲)戰略地位的改變 (乙)運輸成本考量 (丙)亞洲經濟勢力崛起 (丁)中國經濟援助 (A)甲乙 (B)乙丁 (C)乙丙 (D)丙丁。
38. 北極海若受全球暖化影響而融冰形成新的船運航道將成為歐、亞、北美三洲間的海洋交通的捷徑，請問這將會造成下列哪一個國家的運河因為通過的船隻減少而收入大為減少？(A)墨西哥 (B)埃及 (C)新加坡 (D)帛琉。

※附圖為北美洲氣候類型分布圖，圖中 A～E 為氣候區，甲～丁為洋流。請問：



39. 圖中 B 區最容易發生哪些災變天氣？  
 (A) 颶風、龍捲風 (B) 龍捲風、暴風雪  
 (C) 暴風雪、乾旱 (D) 颶風、乾旱。
40. 圖中 G 區氣候暖濕，降雨集中在夏季，此氣候形成的原因除附近的丁洋流外，尚有某盛行風，請選出丁洋流與該盛行風正確的名稱。  
 (A) 阿拉斯加暖流，東北信風  
 (B) 北大西洋暖流，西風  
 (C) 加利福尼亞涼流，西風  
 (D) 墨西哥灣流，東北信風
41. 以下何者是 E 區的氣候圖？



※附圖是中南美洲國家簡圖，請依此圖回答下列各題：

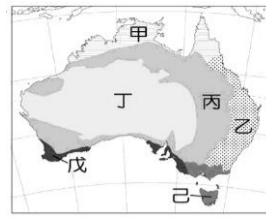


42. 「有豐富的農礦資源，鐵礦產量與出口居世界重要地位；早年曾為葡萄牙所殖民，曾被譽為「金磚五國」之一，發展潛力雄厚」，上文所指的是圖中哪一個國家？ (A) 甲 (B) 乙 (C) 丁 (D) 庚。
43. 「以農、牧業為主要經濟基礎，境內擁有南半球唯一的溫帶沙漠，首都布宜諾斯艾利斯為大型港埠都市」，以上所指的是圖中的哪一個國家？ (A) 丙 (B) 丁 (C) 己 (D) 庚。
44. 為《美墨加協定》的會員國之一，以擁有高度文明的古老王國遺蹟聞名於世的是哪一個國家？ (A) 甲 (B) 乙 (C) 己 (D) 戊。

※附圖為澳洲氣候分區示意圖。請問：

45. 蔡老師常常選購標籤為無尾熊及袋鼠圖樣的紅酒。釀製紅酒的葡萄多產於溫帶地中海型氣候，其最可能種

植於下列哪一個地區？

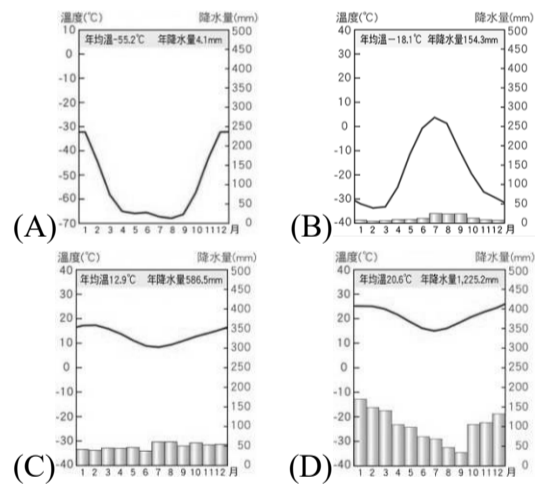


- (A) 甲 (B) 乙 (C) 戊 (D) 己。

46. 圖中哪一個地區氣候環境與英國最類似？  
 (A) 乙 (B) 丙 (C) 戊 (D) 己。
47. 圖中丁區所占範圍最大，其氣候類型為下列何者？  
 (A) 熱帶沙漠氣候 (B) 熱帶莽原氣候  
 (C) 溫帶海洋性氣候 (D) 夏雨型暖溫帶氣候。
48. 請問造成丁區氣候環境特徵的主要原因為下列何者？  
 (A) 終年西風吹拂 (B) 風帶季節性移動  
 (C) 沿海暖流流經 (D) 副熱帶高壓籠罩。

※西元 2020 年 2 月報導指出，科學家日前在南極西摩島 (Seymour Island) 上，測到了南極史上溫度最高的 20°C，這是南極在有氣溫紀錄以來，第一次溫度突破了 2 字頭。該島位於南緯 64 度的地理位置，是阿根廷前往南極地區的重要樞紐，島上有多個科學觀測站。聯合國科學家預測，隨著氣候變化，到本世紀末期，海洋的高度將提升 30~110 公分之間，這中間的差異取決於人對氣候變化所做的努力。請問：

49. 下列何者與南極西摩島的氣候圖應最為相似？



50. 目前出現的各種氣候變遷現象中，對南極地區影響最大的為下列何者？ (A) 全球暖化 (B) 極端降水  
 (C) 珊瑚白化 (D) 颱風頻率增加。

解答：

1. C 2. D 3. B 4. B 5. A  
 6. D 7. A 8. B 9. C 10. A  
 11. D 12. B 13. B 14. D 15. D  
 16. A 17. B 18. B 19. C 20. D  
 21. A 22. D 23. C 24. C 25. C  
 26. B 27. C 28. A 29. D 30. B  
 31. A 32. A 33. B 34. B 35. D  
 36. C 37. C 38. B 39. B 40. D  
 41. A 42. C 43. D 44. A 45. C  
 46. D 47. A 48. D 49. A 50. A

- 公民老師要學生從「稀少性」的角度討論時間資源，下列何者的觀念最正確？  
(A)小恭：我國男性平均壽命較女性短，顯示其時間具有稀少性。  
(B)大民：每人每天皆有 24 小時，因此時間不具稀少性。  
(C)陳好：富裕者擁有較多時間，因此其時間不具稀少性。  
(D)兆亨：人們常覺得時間不夠用，呈現時間具有稀少性。
- 選擇即是一種取捨，「捨」就是為了「取」所付出的「代價」，下列俗諺何者最符合機會成本的概念？  
(A)法律之前，人人平等 (B)三人行，必有我師焉  
(C)天下沒有白吃的午餐 (D)水能載舟，亦能覆舟
- 同一件事可能因為不同誘因的加入，導致機會成本發生改變，進而影響我們的選擇。下列何項行為不適合以誘因解釋？  
(A)文文因吃得太飽而不停打嗝  
(B)大樂想獲得獎金而參加比賽  
(C)小淑為贏得獎盃而辛苦練跑  
(D)瑞秋希望受關注而努力練舞
- 寒流來襲，陳雙帶了 500 元到服飾店買保暖外套，試穿到一件羽絨外套覺得相當滿意，卻看到標價寫著 1,200 元，而且店家表示絕不二價，最後她只好到另一家店買了一件 500 元相對滿意的鋪棉外套。下列何者為陳雙選擇鋪棉外套的最主要原因？  
(A)由於喜好，所以做出選擇  
(B)促銷打折，所以做出選擇  
(C)金錢有限，必須做出選擇  
(D)基於效用，必須做出選擇
- 「資源要如何分配」是一門學問，也是決策者面臨的難題。對此，有人主張只要願意付出時間成本，就可以取得資源。這比較有空的人較為有利，與何種資源分配的方式最類似？  
(A)先占先贏 (B)相互協調  
(C)抽籤決定 (D)預約登記
- 開燒烤店的張老闆為因應中秋假期烤肉人潮而購置自動燒烤機，如此做法將直接增加何項生產資源的使用支出？  
(A)租用土地 (B)聘雇員工  
(C)購買設備 (D)研發產品
- 因為物價上漲，雞排店老闆的生產成本增加，因此將雞排的售價從 45 元調整為 65 元。從價格因素來看，若消費者的所得及其他條件不變，消費者願意購買雞排的數量最有可能產生何種變化？  
(A)不一定，消費者可能多買，也可能會少買  
(B)不管價格有無變動，想買的數量不會改變  
(C)本來 3 天吃一次，可能會改成每週吃一次  
(D)生產成本提高使價格變貴，應該多買一些
- 真好喝飲料店生意興隆，店門口時常大排長龍，老闆因此決定將每項飲品調漲 10 元。價格調漲後，許多客人轉而買其他家的飲料，銷售量大幅衰退，老闆只好推出折扣優惠，變相恢復原價。下列何項敘述最能反應此一現象？  
(A)市場的價格並無法引導資源分配  
(B)顯示市場自由競爭有利於消費者  
(C)單一廠商漲價帶動其他廠商跟進  
(D)消費者絕對無法接受廠商的漲價
- 小賴到彰化王功漁港旅遊，發現因當地養蚵業興盛，街上販賣蚵仔煎的店家眾多，且價格差異不大，猶豫要吃哪一家才好。下列對當地蚵仔煎店家的分析何者正確？  
(A)店家多，代表店家之間高度競爭  
(B)店家多，代表消費者有的選擇少  
(C)店家多，只能削價競爭才能存活  
(D)店家多，應該調高售價才有利潤
- 媒體報導：「最近國內零售市場裡雞蛋的價格飆到每臺斤 50~52 元，超市裡的洗選蛋一盒售價更漲到 60 元左右，讓許多消費者叫苦連天。」【甲】指出，目前已經派人了解蛋雞的飼養和產蛋狀況，並訪查蛋商，了解蛋價上漲的真正原因是否涉及聯合漲價，一旦查出有人為操縱、違反【乙】的狀況，將嚴加處罰。」根據上述內容判斷，【甲】【乙】應分別填入什麼？  
(A)消費者文教基金會、《消費者保護法》  
(B)消費者權益促進會、《消費者保護法》  
(C)消費者保護委員會、《公平交易法》  
(D)公平交易委員會、《公平交易法》
- 小茹在網路上購買一件小洋裝，收到貨時卻發現和賣家網站照片上的顏色不一樣，她打給賣家想要退貨，但賣家聲稱貨物既出，概不退還，頂多只能夠接受更換其他商品。下列有關小茹處理此次消費糾紛的方式，何者最為恰當？  
(A)自認倒楣，默默接受不適合的商品  
(B)依《公平交易法》，控告賣家廣告不實  
(C)委曲求全，同意賣家更換其他商品  
(D)向消費者服務中心尋求專業的協助
- 若某國同時具備從事多項產業的能力，基於資源有限且為了使資源做最有效的發揮，應將生產資源應用在「相對較具效率」的產品上。上述內容中有關「相對較具效率」的說明，下列何者正確？  
(A)該國應從事銷貨收入高的產業  
(B)該國應選擇生產單價高的產業  
(C)該國應選擇生產產量高的產業  
(D)該國應從事機會成本低的產業
- 身在臺灣的我們，可以嚐到法國巧克力、美國牛肉、紐西蘭奇異果和南韓泡菜，主要原因為何？  
(A)生產力有所提高  
(B)開放進出口貿易  
(C)保護本國的產業  
(D)人民的收入過高



14. 公民課時，老師請同學說明自由貿易的好處。下列何者的說法應該修正？
- (A) 吳文：消費者可以買到各國進口的產品，故選擇多元。
- (B) 允喬：消費者可以用比較便宜的價格買到進口的產品。
- (C) 吉力：廠商為獲利將產品出口，故會縮小生產的規模。
- (D) 可青：廠商增加生產出口產品，可提高廠商獲利機會。
15. 貨幣的出現使得市場交易更加便利，但其出現是經過一連串的演進過程。關於貨幣演進的敘述，下列何者最為適切？
- (A) 法定貨幣有數量不足、攜帶不便等缺點
- (B) 硬幣與紙鈔的使用，有耗時費力的缺點
- (C) 政府發行商品貨幣，並強制規定其價值
- (D) 以物易物的交易方式缺乏價值衡量標準
16. 上學途中，小禾聽到路人說：「我最近需要外幣，所以會向銀行購買外幣。」該路人最可能為下列何者？
- (A) 我國的大學生，最近經營網拍販賣商品
- (B) 我國的工程師，最近剛從國外出差回國
- (C) 我國的進口商，最近需從國外進口商品
- (D) 我國的出口商，最近欲出口商品到國外
17. 小勝是一名動畫設計師，平時除了進公司工作以外，偶爾也會在家加班。工作閒暇之餘，小勝會回老家幫忙照顧行動不便的弟弟，打理家事；有時則會去荒野保護協會擔任志工。根據上文內容判斷，下列關於小勝所從事勞動的敘述，何者正確？
- (A) 在家加班屬於家務勞動
- (B) 擔任志工屬於有酬勞動
- (C) 照顧弟弟屬於無酬勞動
- (D) 打理家事屬於市場勞動
18. 幾位大學同學畢業後舉辦同學會，聊了各自的工作近況。下列四人的對話中，哪一個勞動者的勞動權利，受到雇主侵害？
- (A) 可心：我的公司規定員工，上下班必須按時打卡。
- (B) 恩賢：我的主管承諾，我的薪資會高於基本工資。
- (C) 小瑜：公司最近很多事，要求員工天天都要加班。
- (D) 士廷：我取得會計師執照，才獲得公司優先錄取。
19. 臺北市設置志工管理整合平臺，讓有志成為志工作者、想招募志工的公私機構，都可以透過這個平臺進行媒合，並從平臺上獲取相關法令等資訊。從勞動的類型來檢視，志工的勞動類型與下列何者最相似？
- (A) 幫忙家務勞動的家庭主婦
- (B) 大賣場展期的賣場工讀生
- (C) 工地裡搬運雜物的臨時工
- (D) 大醫院的排班計程車司機
20. 全球經濟從新冠肺炎(COVID-19)疫情影響中慢慢復甦，一些企業開始增加職缺。有些跨國企業以提高報酬方式，準備爭奪時薪勞工，希望透過加薪或增加補貼，從其他工作崗位招募勞工，或吸引觀望者重新投

身就業市場。關於前述跨國企業提高時薪徵才的過程，下列敘述何者正確？

- (A) 這些跨國企業是屬於市場勞動的雇用者
- (B) 企業招募時薪勞工會造成人力資源浪費
- (C) 招募時薪勞工是因為疫情造成經濟衰退
- (D) 企業加薪是因為勞動契約無法自由決定

試題結束