

一、選擇題：(每題 分)

1. 附圖是某文件的部分內容，請問：此文件最有可能是臺灣總督寫給下列何者的勸降書？ (A)李鴻章 (B)唐景崧 (C)劉永福 (D)余清芳。

大清皇帝已割讓臺灣及澎湖群島，並派欽差大臣與本總督完成授受之約。故本總督乃坐鎮臺北，安撫民眾，遂行統治。今得知您占據臺南，外無援兵，孤軍頑抗，……：您若能體察大清皇帝聖旨，應立即停止抵抗，讓民眾免於戰火之苦。

2. 承上題，該文件應歸類在《臺灣總督府檔案》哪一年的紀錄裡？ (A) 1894 年 (B) 1895 年 (C) 1915 年 (D) 1919 年。

3. 有份資料提到：「臺灣銀行最初設置目的是使臺灣在財經上能保持獨立，除了提供臺灣各種產業資金，以利資源開發，也是發行鈔票的機構。後來，更成為政府對中國、南洋貿易和經濟擴張的後盾，所以臺灣銀行被稱為『萬能銀行』。」請問：上述情況最可能出現在下列何時？ (A)臺灣開港通商之際 (B)劉銘傳在臺建設時 (C)臺灣民主國成立時 (D)日本統治臺灣期間。

4. 「建壩艱難不計工，嘉南農戶沐深功。為懷當日技師苦，千古烏山像鑄銅。」請問：上述詩句是感懷何人對台灣的貢獻？ (A)伊藤博文 (B)後藤新平 (C)八田與一 (D)莫那魯道。

5. 「○○是日本當局殖民政策的實踐者，頤指氣使，一副土皇帝的派頭……，所以稱『田舍皇帝』，他們成為殖民者統治的象徵，他們所帶來的問題，也成了當時小說的共同創作主題之一。」請問：上文中的○○指的是下列何者？ (A)總督 (B)警察 (C)保正 (D)甲長。

6. 附圖為阿俊對臺灣某一歷史事件的研究整理，根據圖中資訊判斷，下列關於此事件的敘述，何者正確？ (A)發生乙未戰爭 (B)丘逢甲是倡議此事件的主人翁 (C)密謀組織「臺灣民主國」抗日 (D)事件結束後，漢人改以非武裝手段爭取權益。

★事件特色：
1. 武裝抗日運動
2. 具有濃厚宗教色彩

★主要參考資料：
1. 日治時期的報紙
2. 地方人士的訪談
3. 臺南玉井、高雄甲仙等地日治時期的戶口普查記錄




7. 請問：日治初期，總督府訂定「工業日本，農業臺灣」分工體系的動機何在？ (A)配合南進政策的推動 (B)資源平衡的配給政策 (C)遂行對臺灣的經濟剝削 (D)順應兩地傳統經濟的發展。

8. 承上題，總督府鼓勵臺人從事哪些物品的生產，以提供日

本母國的民生需求？ (A)稻米、蔗糖 (B)茶葉、樟腦 (C)鹿皮、蔗糖 (D)石油、橡膠。

9. 客籍士紳張麗俊在日治時期擔任臺中州豐原地區保正，請問：我們無法從他的《水竹居主人日記》中得知哪些關於保甲制度的第一手史料？ (A)採「連坐責任」制度 (B)協助警察進行戶口調查 (C)宣導「放足斷髮」運動 (D)組壯丁團，配合設置隘勇線管理山區。

10. 請問：下列哪項重要措施的完成，揭示臺灣成為前進南洋的補給基地？ (A)甲 (B)乙 (C)丙 (D)丁。



11. 請參考下列資料，回答問題：
資料一：台灣俗諺「第一慫，種甘蔗給會社磅」
資料二：臺灣總督府公告《製糖場取締規則》規定新式製糖廠指定原料採集區域，不准區內蔗農越區出售甘蔗。
資料三：「二林蔗農事件」抗議製糖會社剝削，成為 1920 年代臺灣農民抗爭運動的濫觴、自治運動的里程碑。
請問：根據資料判斷，下列敘述何者正確？ (A)為照顧臺灣人民生計，總督府引進製糖業，蔗糖自此成為重要輸出品 (B)總督府的規定確保蔗農的權益，使蔗農有固定買主與穩定的銷路 (C)總督府保障資本家實施甘蔗專賣，大大降低糖廠收購原料的價格，蔗農被嚴重剝削 (D)總督府「工業日本，農業臺灣」的政策下，開啟臺灣製糖產業的現代化，臺灣因而成為糖業王國。

12. 請問：附圖法律的頒布對日治時期的臺灣造成何種影響？ (A)警察政治的實施 (B)戒嚴體制的出現 (C)推行皇民化運動 (D)形成總督專制體制。



13. 日本對臺灣推動的基礎建設不包括下列何者？ (A)設立郵局 (B)引進保甲制度 (C)實施土地與林野調查 (D)興建阿里山森林鐵路。

14. 臺灣民眾黨為「霧社事件」發聲，致電日本帝國議會與內閣總理大臣，引發國際媒體的注意與日本在野黨的猛烈譴責，電報內容如下：「我黨認為霧社事件係向來恣意搾取及生活上之迫害與駐在警官不正、貪戾、殘忍之處置所激發者。應從速將總督、警務局長、臺中



州知事以下責任者撤職，並立即保證蕃人之生活，承認其自由，不阻礙其民族發展之政策，尤其宜乘此機會，對向來為保持官吏威嚴，放任非違亂暴，警察萬能之積弊，加以徹底的改革。」請問：下列有關「霧社事件」的敘述，何者正確？ (A)事件發生在附圖的丙區 (B)起事的原住民當時被歸類為賽德克族 (C)起因於總督府開發山林資源，實施不當的「理蕃」政策 (D)總督府組織高砂義勇軍鎮壓叛亂，並派飛機投擲化學毒氣進行屠殺，造成當地原住民部落滅絕。

15. 自十七世紀開始，大量外來勢力進入臺灣這塊島嶼，原住民的自主權力便逐漸下降，成為島嶼內的弱勢族群，各個統治政權為達成同化的目標，實施連串的措施，逐步消抹原住民族的傳統文化。下列配對，何者符合實際狀況？ (A)1920 年代，政府禁止使用族語 (B)1930 年代，政府限制薙髮留辮 (C)1940 年代，政府要求更改姓名 (D)1950 年代，政府下令禁止紋面。

16. 近年來，隨者社會風氣的開放，對於多元族群的尊重與保障，政府有更多的措施與規範，在稱呼上，政府已用「原住民」之名取代「山地同胞」，以達公平、中立、尊重的目的，民眾也有機會表達心聲，透過不同的形式來爭取權益。民國 106 年，太魯閣族人發起「還我土地」運動，其背後的動機訴求為下列何者？ (A)爭回被劃為國家公園的土地 (B)爭回遭私人企業占用的土地 (C)爭取擴大太魯閣族群保留地 (D)爭取交通建設營運的管理權。

17. 西元 1928 年，日本成立臺灣第一所大學「臺北帝國大學」，附表為當時學生人數統計資料，從學生人數的變化，可以得知下列何項訊息？

| 學部 | 文政部 | 理農部 | 工學部 | 醫學部 | 總計 |
|-----|-------|-------|-----|-------|-------|
| 日本人 | 1,167 | 1,259 | 47 | 523 | 2,996 |
| 臺灣人 | 146 | 125 | 2 | 513 | 786 |
| 其他 | 2 | 6 | 0 | 3 | 11 |
| 合計 | 1,315 | 1,390 | 49 | 1,039 | 3,793 |

(A)日本教育政策是有差別待遇的 (B)日臺共學策略的實施成效卓越 (C)重視實用，理農部最受歡迎 (D)臺人普遍前往歐美海外留學。

18. 「日本是立憲國家，臺灣也應享有立憲政治之待遇。且臺灣情況特殊，不同於日本國內，有特別立法之需求，是以設立議會來為臺灣立法與預算審核是必要的。」上面引述的談話內容出自某一政治組織，請問，該組織曾經做過哪

些努力來達成目標？

- (A)從 1927 年開始，展開 15 次的請願活動
 (B)製作傳單，喚起臺人的政治社會意識
 (C)成立夏季學校，民族自決意識的覺醒
 (D)1935 年，爭取到中央議員的選舉權。

19. 西元 1895 年，臺灣總督府頒布規定，臺灣、澎湖群島位於帝國西南方，比帝國標準時間晚一小時，為臺灣標準時間，而臺灣所在位置的經度為 120 度，請問：日本帝國標準時間所採用的經線應為下列何者？ (A)西經 105 度 (B)西經 135 度 (C)東經 105 度 (D)東經 135 度。

20. 西元 1930 年代，政府曾在臺灣推行「健民運動」，藉由該運動，當時政府積極推廣的重要觀念為何？ (A)推廣休閒活動的重要 (B)強調義務教育的成效 (C)推廣預防及即早治療 (D)強調運動能強健體魄。

21. 《臺灣民報》創刊號所收錄的文章標題如下：「三十一條日華協約歷史、國際聯盟的使命、新聞與社會之關係、婦人參政權運動、帝國議會大紀事、關於擇婚之常識、設立白話文研究會宣言……」，從這些標題中，請判斷該報刊創辦的宗旨為何？ (A)開拓臺人眼界 (B)宣揚日本國威 (C)鼓吹反中情緒 (D)培養愛國信念。

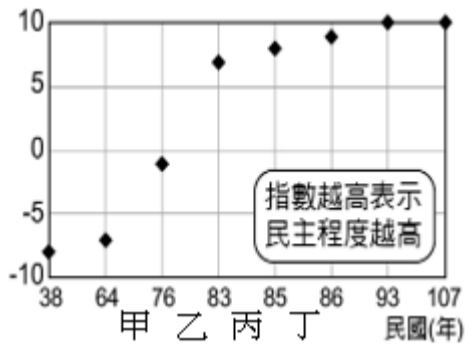
22. 民國 75 年 10 月 5 日，當時擔任總統的某政治人物曾在黨內會議中，公開發表以下談話：「時代在變，環境在變，潮流也在變。因應這些變遷，執政黨必須以新的觀念、新的作法，在民主憲政的基礎上，推動革新措施。唯有如此，才能與時代潮流相結合，才能和民眾永遠在一起。」請問：該名政治人物應為下列何人？ (A)蔣中正 (B)蔣經國 (C)李登輝 (D)陳誠。

23. 附表是某組織協助、支援各地農民爭取權益的事件表，該組織以「確立民本政治、建設合理的經濟組織、革除社會制度的缺陷」為黨綱。請問：該政治團體應為下列何者？ (A)中國國民黨 (B)中國民主黨 (C)民主進步黨 (D)臺灣民眾黨。

| 事件起因 | 抗爭結果 |
|------------------------------|------|
| 二林地區林本源製糖公司長期收購蔗糖價格偏低，引起蔗農不滿 | 失敗 |
| 臺灣青果株式會社的新政策壟斷，傷害農民利益 | 失敗 |
| 陳中和物產公司強行要求收回土地給新興製糖公司 | 成功 |

24. 西元 2023 年 3 月 10 日，習近平三度當選中國國家主席，人民代表大會 2952 票全數贊成當選，習近平成為全面壟斷國家政治權力的統治者，而在中華民國的發展過程中，也曾經出現總統一再連任，違背中華民國憲法規範的情形。關於中華民國憲政發展的過程，下列何者正確？ (A)民國 34 年 10 月 25 日，政府宣布實施憲政 (B)民國 49 年，動員戡亂時期臨時條款，提高總統權限 (C)民國 68 年，美麗島事件，黨外人士積極爭取解嚴 (D)民國 76 年，宣布終止動員戡亂，回歸憲政。

25. 臺灣政治改革的成果，受到世界矚目，歷經三次政黨輪替，民主鞏固已有相當的成效，言論及新聞自由在亞洲已經名列前茅。外國民主政治研究機構分析臺灣近代民主程度指數，根據研究資料製成附表。關於圖表中數值爬升的原因，下列何者符合史實？



- (A)甲區間，野百合學運 (B)乙區間，地方自治開始實施 (C)丙區間，取消戒嚴 (D)丁區間，開放總統直接民選。
26. 「欲挽狂瀾誰是任？正須吾輩作長城。」這句話出自林獻堂，林獻堂誕生於阿罩霧（今台中市霧峰區）的望族，在日本時代積極投入政治運動，為臺灣人民爭取權益，並反對日本暴力統治，堅持一生不說日語、不著和服。關於林獻堂的成就與貢獻，下列何者「錯誤」？
(A)出資成立臺中中學校 (B)倡議成立臺北帝國大學 (C)籌組臺灣文化協會 (D)成立臺灣地方自治聯盟。
27. 西元 1945 年中華民國接管臺灣，當時政府委託臺灣銀行發行貨幣，然而在內戰的動盪下，政府大量印行，造成通貨膨脹，貨幣面額甚至出現「壹佰萬圓」的誇張情形，在這樣的社會狀況下，臺灣民眾對政府的不滿逐漸累積，不久便發生了「二二八事件」的悲劇。關於二二八事件，下列哪一項背景原因也是造成群眾反政府的重要緣由？
(A)情治單位緊迫盯人 (B)本省籍菁英受排擠 (C)嚴格懲戒貪汙腐敗 (D)清鄉措施不堪其擾。
28. 做中學，從錯誤的經驗中記取教訓，避免重蹈覆轍，也是我們學習歷史的目的，而政府單位更應該從過去錯誤的處置中，發揮智慧，施展能力，做出更好的應對。民國 80 年代，針對二二八事件帶來的傷痛，政府有哪些作為進行彌補？ (甲)設立綠島紀念園區(乙)訂定和平紀念日(丙)公開道歉賠償(丁)重啟真相調查
(A)甲乙丙丁 (B)甲乙丙 (C)甲丙丁 (D)乙丙丁。
29. 臺灣首位醫學博士-杜聰明，其座右銘「樂學至上，研究第一」。西元 1893 年出生在臺北淡水，1922 年取得京都帝國大學醫學博士學位，回到臺灣後致力於研究，於 1937 年起擔任臺北帝國大學醫學部教授，曾發明獨步全球的「尿液驗毒法」，直到今天仍在使用。請問：杜聰明在日治時代可能經歷的生活體驗？ (A)前往臺北新公園欣賞音樂表演 (B)看到警察捉拿犯人並進行審判 (C)於淡水國民學校就讀畢業 (D)搭乘環島鐵道旅行。
30. 今年是「辜汪會談」三十周年，兩岸政府都發表了談話，緬懷辜振甫、汪道涵兩位先哲促進兩岸關係良善發展，開啟兩岸關係由對峙走向對話，由對立走向合作的新階段。請問：下列有關「辜汪會談」的敘述，何者「有誤」？ (A)民國 82 年在新加坡舉行 (B)目的是為了解決兩岸交流

所衍生的問題 (C)樹立兩岸領導人首次歷史性會晤與接觸的典範 (D)開啟兩岸「以談判化解敵意，以協商取代對抗」的歷史新局。

31. 近幾年臺灣更重視文化的保存，節目製作上也越來越精良，透過戲劇的改編呈現，讓大家願意深入了解我們成長的這塊土地，重新認識臺灣的歷史。請根據附表判斷，按照作品內容的時間先後順序排列？ (A)甲乙丙丁 (B)乙丁甲丙 (C)丙乙丁甲 (D)丁乙丙甲。

| 戲劇作品 | 內容簡介 |
|------|---|
| 甲 | 描述六個臺灣解嚴時代的年輕人，在政治工作第一線目睹歷史發展，遭遇愛情與理想的幻滅與成長，找尋自己天命的故事。 |
| 乙 | 描寫在「反攻大陸」口號喊得震天價響的動盪不安年代，空軍飛官及其眷屬被戰火無情摧逼，生死兩隔的故事。 |
| 丙 | 以加工出口區的女工為主角，描述她們離開農村踏入工廠的殘酷遭遇與意識覺醒，帶領觀眾窺探當年經濟奇蹟的背後，女工們的故事。 |
| 丁 | 故事取材自真實歷史的「羅妹號事件」，呈現十九世紀恆春半島各族群間（原、閩、客）的衝突與調和，刻畫臺灣多元族群與豐富文化的融合過程。 |

32. 順口溜是一種民間流傳，反映當代社會的現象或對社會時弊發洩的幽默創作。請問：「共匪奸，共匪詐，三通四流騙很大；寶島美，寶島好，三不堅持自由保。」反應兩岸關係的哪一階段？ (A)武力對峙 (B)政治對峙 (C)民間交流 (D)以上皆非。

33. 附表為歷年來臺灣農、工業占國內生產淨值的比例。

| 年別 (西元) | 1952 | 1955 | 1960 | 1965 | 1970 | 1975 | 1980 | 1985 | 1990 |
|---------|------|------|------|------|------|------|------|------|------|
| 農業 (%) | 32.2 | 29.1 | 28.5 | 23.6 | 15.5 | 12.7 | 7.7 | 5.8 | 4.1 |
| 工業 (%) | 19.7 | 23.2 | 26.9 | 30.2 | 36.8 | 39.9 | 45.7 | 46.3 | 42.5 |

請問：下列哪一個問題可以從附表中找到解答？

- (A)工業產值比例在 1960 年後，呈現出何種發展趨勢？
(B) 1955 年後，由農地轉為工業用地的土地面積比例為何？
(C)自哪一年起，資訊工業占工業產值的比例大幅提升？
(D) 1985 年的勞工人口比 1960 年的勞工人口增加多少？
34. 請問：參觀國史館舉辦的「生活·話當年—1950、1960 年代國家檔案影像特展」，阿福可以從中回味過去臺灣生活樣貌的資料有幾項？ (甲)美援麵粉袋做成的褲子 (乙)「十大建設」紀念郵票 (丙)「我要說國語不說方言」的標語 (丁)《自由中國》雜誌 (戊)宣導實施「耕者有其田」的海報 (A)一項 (B)三項 (C)四項 (D)五項。

35. 有人評論某歷史事件：「從臺灣角度看，○○導致自我認同的危機，與失去國際身分的合法性危機，然而也正因如此，讓臺灣開始尋求自我認同，追問著『我是誰』之後，有民歌運動的『唱自己的歌』、雲門舞集的『跳自己的舞』、鄉土文學的『寫自己的土地和人民』。臺灣開始在危機中找回自己的主體性，並且在文化上開花結果，這何嘗不是不幸中的大幸。」請問：○○指的是下列哪一個歷史事件？
 (A)民國 38 年政府播遷來臺 (B)民國 60 年退出聯合國
 (C)民國 76 年宣布解除戒嚴 (D)民國 80 年終止動員戡亂。

36. 某中共領導人主張：「我們堅決反對臺灣獨立，這就是我們的立場，我們主張統一祖國，人人有責，也希望臺灣當局以民族利益為重，對實現祖國統一的事業做出寶貴的貢獻。」請問：下列何者絕不可能中共的對臺政策？
 (A)不放棄以武力做為解決臺灣問題的手段 (B)台海兩岸由兩個政治實體分治，乃不爭之事實 (C)世界上僅有一個中國，臺灣係屬中國領土不可分割之一部分 (D)「一國兩制」可讓臺灣在不影響原有的社會體系下，以特別行政區做為政府的建制。

37. 閱讀《心戰聯合國：中國代表權爭奪戰 1949-1971》一書後，我們不但體會到國際外交上的詭譎莫測和敵友難辨，也能更深入了解下列哪一階段的外交形勢？
 (A)鞏固外交 (B)彈性外交 (C)務實外交 (D)活路外交。

38. 某公司是有悠久歷史的臺灣品牌，生產內容隨著臺灣社會經濟與工業發展演進逐步轉型。附表為該公司在不同年代生產的主力家電產品，請問：這些家電產品何者上市的時間最晚？

| | |
|-----|-----------------------|
| (A) | 冷氣、微波爐、錄放影機、組合音響 |
| (B) | 多媒體電腦、LED 液晶顯示器、無線通訊 |
| (C) | 電扇、電鍋、電視 |
| (D) | 空氣清淨機、智慧變頻空調、智慧 AI 電鍋 |

39. 現今臺灣隨處可見韓式、日式餐飲，韓系、日系、美系、法系等服飾品牌或生活用品，打開電視除了本土劇、臺灣偶像劇外，還可看到韓劇、日劇、泰劇等不同的戲劇。請問：這樣的生活方式反映了臺灣社會的何種風貌？
 (A)向來喜新厭舊 (B)崇洋媚外心理 (C)多元文化並存 (D)傳統文化式微。

40. 請參考下列資料，回答問題：
 資料一：美國承認中華人民共和國政府是中國的唯一合法政府。在此範圍內，美國人民將同臺灣人民保持文化、商務和其他非官方關係。
 資料二：……以光榮之同感，追溯上次大戰期間，兩國人民為對抗帝國主義侵略，而在相互同情與共同理想之結合下，團結一致併肩作戰之關係……願加強兩國為維護和平與安全而建立集體防禦之現有努力，以待西太平洋區域安全制度之發展。
 資料三：以非和平手段來決定臺灣的未來，是對西太平洋地區和平與安全的威脅，這是美國嚴重關切的問題；美國將維持抵制任何可能危害臺灣人民安全或社會經濟

制度的能力；維護和增進臺灣全體人民的人權是美國的目標。

請問：「韓戰：中美成仇，臺灣得救」的新聞標題最有可能和哪一項資料有關？ (A)資料一 (B)資料二 (C)資料三 (D)無法判斷。

二、整合題：(每題 分)

※小杰複習段考時，整理日本治臺三階段的表格如下，請根據史實回答問題：

| 分期 | 甲 | 乙 | 丙 |
|------|----------------------|-------------------------|------------------------|
| 起訖時間 | 西元 1895 年 ~1919 年 | 西元 1919 年 ~1937 年 | 西元 1937 年 ~1945 年 |
| 背景 | 臺灣成為日本第一個殖民地。 | 受「民族自決」思潮影響，臺人開始爭取政治權利。 | 日本進入戰時體制，要求臺人全面配合。 |
| 特色 | 尊重臺人原有風俗，拉攏人心，鎮壓抗日。 | 強調臺灣是日本內地的一部分，標榜「日臺合一」。 | 強化臺人對日本的認同感與愛國心，為天皇盡忠。 |

41. 田健治郎為臺灣第一任文官總督，日治時期 19 任臺灣總督中，只有他留下治臺完整的日記，加之以漢文書寫，舉凡日常坐臥進退、對實務之意見等，盡在其中，實為研究近代日本、臺灣史事珍貴的第一手史料。請問：我們在他的日記中可以看到哪一階段的紀錄？ (A)甲 (B)乙 (C)丙 (D)以上皆非。

42. 請問：發生在「甲」時期的事項為何？ (A)公布「六三法」 (B)實施日臺共學 (C)推動南進政策 (D)蓬萊米培育成功。

43. 「……殖民者要把臺灣的民生風俗信仰連根拔除，命令每一戶人家移走正廳供奉的佛像、祖先牌位，取而代之的是日本天照大神的神龕……。」請問：上述景象最有可能出現在哪一個階段？ (A)甲 (B)乙 (C)丙 (D)以上皆非。

44. 賴和懷著悲慟心情寫出《南國哀歌》：「所有的戰士已都死去，只殘存些婦女小兒，這天大的奇變，誰敢說是起於一時？……兄弟們！來--來！來和他們一拚！憑我們有這一身，我們有這雙腕，休怕他毒氣、機關鎗！休怕他飛機、爆裂彈！……」請問：他是要藉著詩句譴責哪一個階段殖民政府對原住民的不義行為？
 (A)甲 (B)乙 (C)丙 (D)以上皆非。

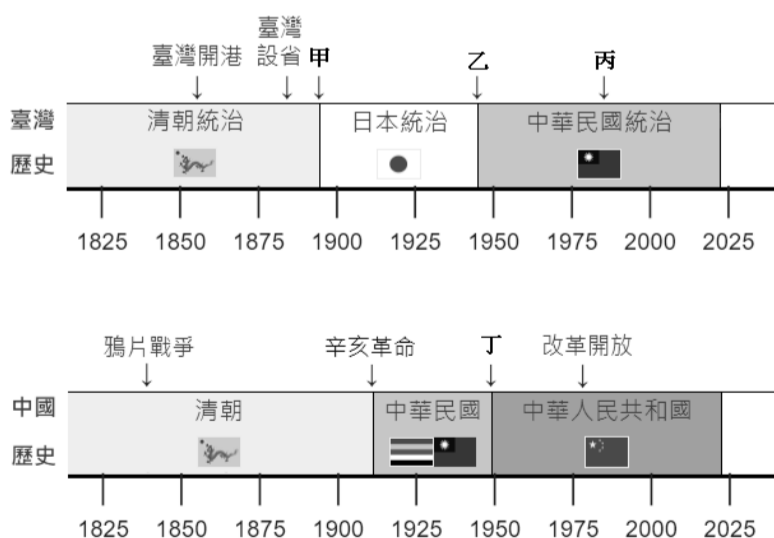
※閱讀下列引文，回答問題

臺灣省警備總司令部佈告 戒字第壹號

- 一、略
二、略
三、戒嚴期間規定及禁止事項如下：
(一) 自同日起，基隆高雄兩港市，每日上午一時起至五時止，為宵禁時間非經特許，一律斷絕交通，其他各城市，除必要時，由各地戒嚴司令官依情形規定實行外，暫不宵禁。
(三) 全省各地商店或流動攤販，不得有抬高物價，閉門停業，囤積日用必需品擾亂市場之情事。
(四) 無論出入境旅客，均應遵照本部規定，辦理出入境手續，並受出入境之檢查。
(五) 嚴禁聚眾集會罷工罷課及遊行請願等行動。
(六) 嚴禁以文字標語，或其他方法散佈謠言。
(八) 居民無論家居外出，皆須隨身攜帶身份證，以備檢查，否則一律拘捕。
四、戒嚴期間，意圖擾亂治安，有以下行為之一者，依法處死刑。
(一) 造謠惑眾者
(二) 聚眾暴動者
(三) 擾亂金融者
(五) 罷工罷市擾亂秩序者
(六) 鼓動學潮，公然煽惑他人犯罪者

45. 在此份公告施行後，人民哪些基本權利因而受到限制？
(甲)自由遷徙(乙)集會遊行(丙)批評時政(丁)宗教信仰
(A)甲乙丙 (B)甲乙丁 (C)甲丙丁 (D)乙丙丁。
46. 該份公告頒布後，在臺灣實施長達 38 年之久，當時政府以何項理由包裝，迫害了許多無辜的民眾？
(A)避免皇民思想復活 (B)便於推動經濟建設
(C)防範共黨共諜滲透 (D)指導民主選舉活動。

※自十七世紀起，兩岸關係經常隨著國內、國際局勢的變化而曲折發展。附圖為海峽兩岸關係史年表的部分節錄，甲、乙、丙、丁分別代表影響兩岸關係發展的關鍵歷史事件，請根據史實回答下列問題：



47. 「想家與回家，是人生最單純而原始的想望，一群在臺灣的老兵卻等了近 40 年。為了一圓回家之夢，由退伍老兵與各界人士共同發起成立的『外省人返鄉探親促進會』，開始積極推動開放老兵返鄉探親，半年後政府宣布開放國人赴大陸探親，兩岸交流就在一幕幕親人重逢的感人畫面中，正式揭開序幕。」請問：上文中的外省老兵們是

受到何者的影響才終於一償宿願，得以合法返鄉？ (A) 甲 (B)乙 (C)丙 (D)丁。

48. 附圖是臺灣某時期對於訂定街道名稱的規定，根據內容判斷，此一規定的頒布最可能是受到何者的影響？ (A) 甲 (B)乙 (C)丙 (D)丁。

- 一、街道名稱具有紀念日本人物、展現日本國威、明顯為日本名稱者，應予改正。
二、新街道名稱應具有下列意義：
●發揚中華民族精神：信義路、和平路等。
●宣傳三民主義：三民路、民權路等。
●紀念國家偉大人物：中山路等。

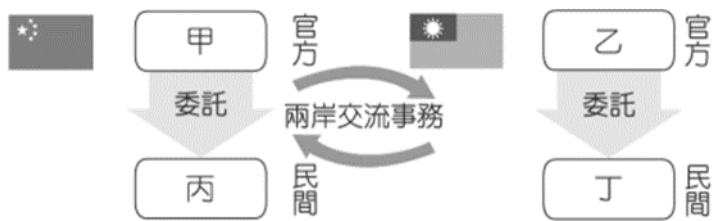
49. 附圖為戒嚴時期政府對於某書的審查結果，根據內容判斷，此書被查扣的原因可能與何者有關？ (A)甲 (B)乙 (C)丙 (D)丁。

俄華辭典內容載有「延安」稱為「中國之民主聖地」，「北京」稱為「中華人民共和國之首都」等字樣，確有不妥……應予查扣。

50. 附圖是臺灣史上的一份官方文件，根據內容判斷，此文件的發布可能是受到何者的影響？ (A)甲 (B)乙 (C)丙 (D)丁。

行政院訓令
令臺灣省行政長官公署
臺灣人民原是我國國民，因受敵人侵略，導致喪失我國國籍。現令國土恢復，原本具有我國國籍之人民，自去年十月二十五日起，應立刻全部恢復我國國籍。……

※附圖為兩岸交流事務單位的示意圖，請問：




51. 「今日針對中共當局再次阻撓我參與世界衛生大會（WHA），表達嚴正抗議及譴責……中華民國是主權國家，參與國際組織與活動是我們的權利，也是義務……我們再次正告中共當局，蠻橫打壓及阻撓臺灣參與國際組織與活動，不會改變臺灣走向世界的決心，臺灣人民也絕不會因打壓而屈服。」請問：這是哪一個單位所發布的新聞稿？ (A)甲 (B)乙 (C)丙 (D)丁。
52. 中央社報導：「中國防疫鬆綁邊境解封後掀起在臺陸配返鄉潮，陸配辦理文書驗證與返鄉相關事務等需求激增。○○表示隨著兩岸各項交流逐漸恢復活絡，受理申請及服務的案件較去年同期增加五成以上，將機動調派人力處理相關業務，隨時提供服務、協助民眾解決疑難雜症。」請問：○○是哪一個單位？ (A)甲 (B)乙 (C)丙 (D)丁。

臺北市立興雅國民中學 111 學年度第二學期七年級地理科補行評量講義

年 班 號 姓名：

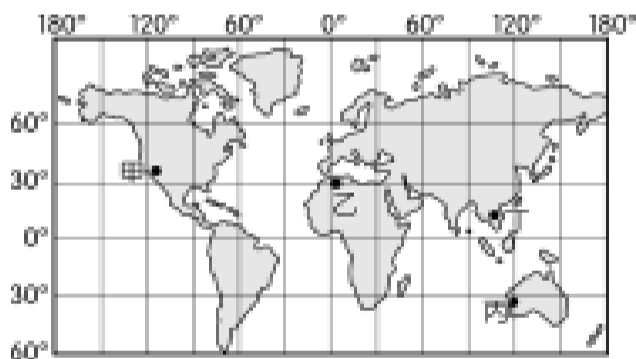
一、選擇題：

- 根據內政部最新統計，到去年底台灣人口數降至 2,326 萬人，是連續第三年人口負成長。若要瞭解上述現象的成因，應以下列何項資料佐證？(A)台灣各縣市人口分布圖 (B)台灣歷年平均壽命變化圖 (C)台灣歷年出生率、死亡率變化圖 (D)台灣歷年移入率、移出率變化圖。
- 比較同一時期不同地區的人口金字塔圖，可判斷這些地區的發展程度差異。下列四個國家的人口金字塔圖，若按照經濟發展程度「由低至高」排列，則正確順序為何？



- (A)①②③④ (B)②①③④ (C)④③②①
(D)④③①②。

- 近半世紀以來，有愈來愈多的人透過工作、通婚、或依親取得中華民國國籍，成為新住民，逐漸造就了台灣多元文化特色。下圖中何區為我國新住民主要的來源地之一？



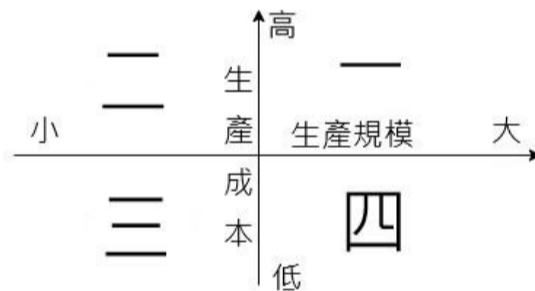
- (A)甲 (B)乙 (C)丙 (D)丁。
- 桃園市自從 103 年底升格為直轄市後，人口福利政策與區域建設急起直追，除了鼓勵入籍之外，也因房價比鄰近的雙北市低，使社會增加率普遍偏高。依上文判斷，桃園市的人口遷移較符合下列哪種類型？(A)國內遷移，拉力大於推力 (B)國內遷移，拉力小於推力 (C)國際遷移，拉力大於推力 (D)國際遷移，拉力小於推力。
 - 台灣加入 WTO 後必須開放市場，使得本土農業面臨國外進口農產品的挑戰與日俱增，為了因應各項挑戰，請問下列作為，何者最無助於解決問題？(A)加強農業技術改良、提升農產品品質 (B)發展休閒農業或多角化經營 (C)創立品牌建立消費者口碑 (D)

大規模引進外籍勞工，填補農村外流的人口。

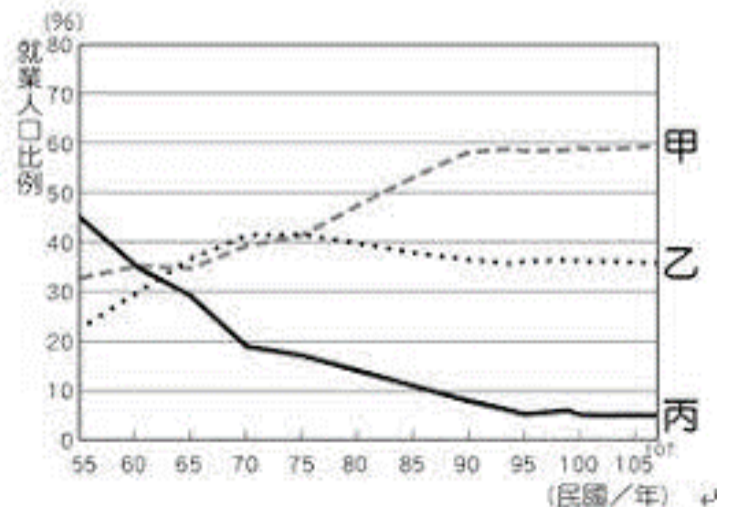
- 下表為 111 年底的六都人口密度，依據表中資料，可判斷出下列何項資訊？(A)台南市土地面積最大 (B)台北市人口總數最多 (C)台南市人口分布最為平均 (D)台北市平均每人生活空間最小。

| 直轄市 | 人口密度 (人/平方公里) |
|-----|---------------|
| 新北市 | 1,947 |
| 台北市 | 9,127 |
| 桃園市 | 1,869 |
| 台中市 | 1,271 |
| 台南市 | 845 |
| 高雄市 | 924 |

- 近年來露營正夯，尤其是「懶人露營」備有豪華設備、自然美景，常是親子出遊的最佳目的地。位於苗栗的橘舍農場在日治時代曾經是飛機場，後來改建成農村，如今再重新改造成為露營營地。請問橘舍農場的經營最符合下列哪一種農業的定義？(A)休閒農業 (B)精緻農業 (C)有機農業 (D)永續農業。
- 請問附圖中哪一個象限最符合「集約農業」的定義？(A)一 (B)二 (C)三 (D)四。



- 附圖為台灣三級產業就業人口的比例變化，請問下列哪一個職業不屬於甲類別？(A)foodpanda 外送員 (B)工廠作業員 (C)youtuber 網紅 (D)消防人員。



- 臺灣養殖漁業的發展，最早可追溯到西元 1661 年，在西元 1970 年成功開發人工飼料後，搭配機械、冷凍加工等技術，養殖漁業開始邁向集約化和企業化。然而隨著養殖漁業的蓬勃發展，也衍生不少環境問題。請問養殖漁業最常被詬病導致哪項環境問題？

(A)生態多樣性減少 (B)耕地面積縮小 (C)水庫蓄水量下降 (D)沿海地區地層下陷。

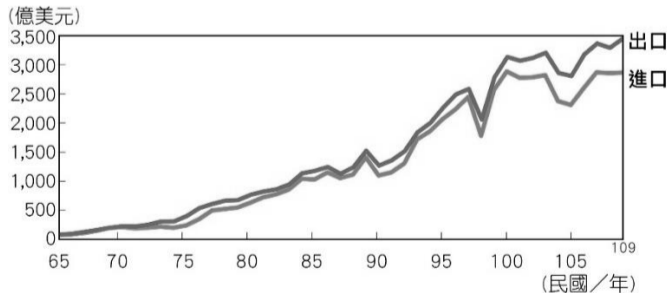
11. 世界各地的漁業專家都指出：漁業補貼是加快全球漁業資源消耗的始作俑者。當漁業經營不必顧忌漁船燃料成本時，漁船就可以航行得更遠、在海上作業停留的時間更長，對全球海洋資源造成更大的掠奪。世界貿易組織（WTO）歷經二十年談判，終於達成「終止有害漁業補貼」之協定。請問推動「減少漁業補貼」最有助於達成何項目標？ (A)海洋資源永續經營 (B)減緩全球暖化 (C)消除各國貿易障礙 (D)促進各國公平競爭。

12. 台灣工業在不同時期所發展的類型及重點，隨著每個時期所擁有的優勢條件及整體環境而轉變。請問下列產業在台灣的主要發展順序為何？甲.成衣業 乙.農產加工業 丙.重化工業 丁.半導體產業 (A)甲乙丙丁 (B)乙甲丙丁 (C)丙甲乙丁 (D)丁丙乙甲。

13. 2022年6月中國大陸無預警以藥物殘留為由，暫停台灣石斑魚輸入，使得養殖漁戶嚴重受挫。據農委會統計，2021年我國石斑魚出口量約6681噸，其中外銷中國大陸約是6081噸。石斑魚外銷中國受阻，行政院農委會與教育部合作推動「班班吃石斑」讓國中小學生能吃到國產石斑魚，以解決石斑魚外銷的困境。請問此事件反映出台灣農業的何種問題？ (A)過度仰賴中國市場 (B)石斑魚養殖技術落後 (C)過度仰賴學校團膳 (D)水產養殖佔台灣整體經濟比重過高。

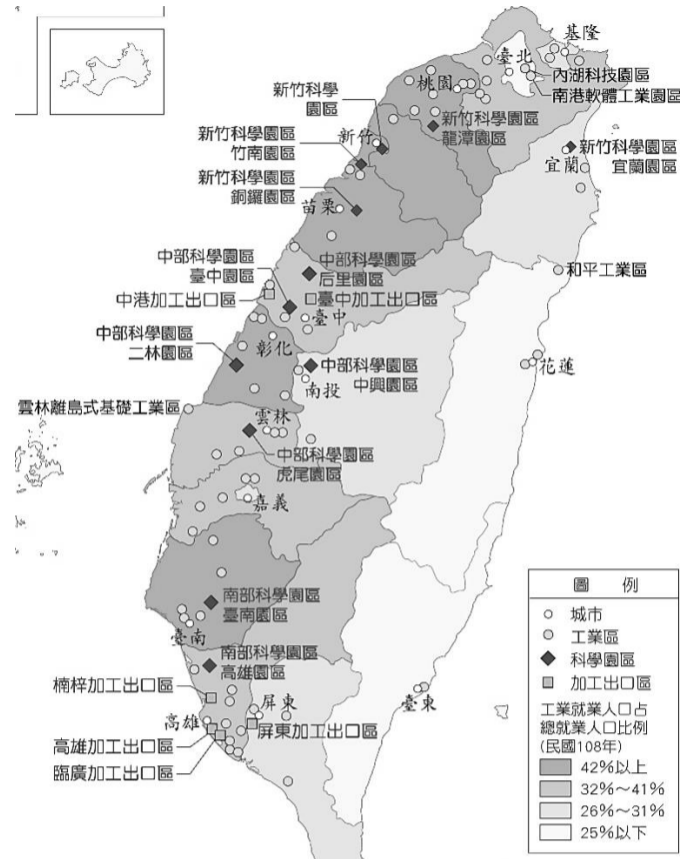
14. 關於台灣畜牧業的現況下列何者錯誤？(A)專業牧場取代農家副業 (B)多以密集式的欄牧為主 (C)加入WTO使得國內酪農業大受打擊，逐漸退出市場 (D)隨著國人飲食習慣、經濟型態改變，肉品需求逐年提升。

15. 國際貿易為台灣經濟命脈，附圖為台灣歷年進出口總額的變化，請問台灣國際貿易具有那些特徵？ (A)國際貿易十分發達，目前一年貿易總額高達6000多億美元 (B)出口導向為主，為貿易入超國 (C)近年廣設加工出口區，持續擴大進出口間的差距 (D)天然資源豐富為台灣國際貿易最大優勢。

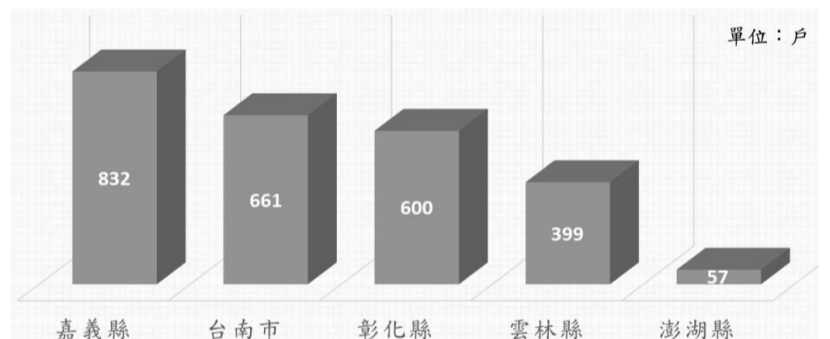


16. 2009年中國購物網站淘寶將1111光棍節打造成為年末「購物狂歡節」，時至今日雙11銷售額年年創下新高，2022年更高達5403億人民幣(約台幣2.36兆元)，已成為兩岸年度最大的網購盛事。「雙11」的成功說明了哪一種銷售模式逐漸成為商業型態的主流？(A)批發 (B)零售 (C)量販 (D)無店鋪銷售。

17. 附圖顯示台灣工業區分布的狀況，請問下列何者正確？(A)加工出口區主要集中在南投埔里一帶 (B)科學園區遍及全台，每個縣市皆有設立 (C)東部發展較晚，交通不便，工業不發達 (D)工業就業人口的比例與人口密度成明顯正比。



18. 地理老師在介紹台灣某產業的分布特色時，以下圖為佐證資料，請問：該圖的圖名最有可能為下列何者？(A)全國採茶農家戶數 (B)全國牡蠣養殖戶數 (C)全國原住民家庭戶數 (D)全國半導體工廠戶數。



19. 行政院將2019年宣誓為「臺灣地方創生元年」，目的希望地方發揮特色、並發展出最適合的在地經濟，讓人們不一定非得要在都市工作，能夠選擇其他鄉鎮或回到自己的故鄉，以改善城鄉發展不均等問題。請問：下列哪一個選項最不可能是政府所輔導的地方特色產業？(A)澎湖七美--有機米香節 (B)台東池上--秋收稻穗藝術節 (C)宜蘭蘇澳--海派漁村創生計畫 (D)雲林口湖--台灣鯛外銷生產示範區。

20. 「……港之東、西、南三面層巒環抱，為天然優良灣澳，湛藍的海水四季與居民共同生活，在此駐足可觀看海港風情，與定期由各國駛進之豪華客輪、郵輪，是談心賞夜景的最佳去處。未來，本港將不只是一個貨物吞吐、商船輻輳的港口，而是透過整合開發港區周邊的建築、水岸公園、水產事業、海洋遊憩業，呈現新的港區水岸面貌。」上文擷取自臺灣觀光資訊網，該港口應為下列何者？ (A)基隆港 (B)台中港 (C)高雄港 (D)花蓮港。

21. 下表為國家發展委員會所統計的 2021 年各區域就業人口行業分配，由表中資料可觀察出下列何者現象？ (A)區域發展不平均 (B)花東失業率偏高 (C)農業產值逐年下降 (D)科技業為發展主力。

| 地區別 | 就業人口行業分配(單位：千人) | | | |
|------|-----------------|-------|-------|-------|
| | 第一級產業 | 第二級產業 | 第三級產業 | 合計 |
| 北部區域 | 43 | 1,712 | 3,472 | 5,228 |
| 中部區域 | 235 | 1,122 | 1,498 | 2,855 |
| 南部區域 | 234 | 1,174 | 1,707 | 3,115 |
| 東部區域 | 29 | 50 | 170 | 250 |

22. 小花一家即將在暑假進行公路環島之旅，從台北出發，依序探訪蘇澳冷泉、清水斷崖、墾丁珊瑚礁等自然景觀，最後以充滿歷史文化的府城台南作為最終站，一路北返。請問：在不考慮交通壅塞的狀況，下列何者可能為此趟旅途最有效率的運輸方式？

(A)



(B)



(C)



(D)



23. 「花的故鄉」田尾鄉位於濁水河流域，從日治時代就開始種植花卉，民國 67 年中山高正式全線通車之後，更可在短時間內將花卉送達都會地區，促成花卉生產專區的設立。目前田尾鄉 90% 的居民從事園藝的工作，花卉的種植面積及產銷數量居全國之冠，形成獨特的花卉聚落。依上文判斷，田尾鄉應是位於下列哪一個行政區？ (A)宜蘭縣 (B)花蓮縣 (C)彰化縣 (D)屏東縣。

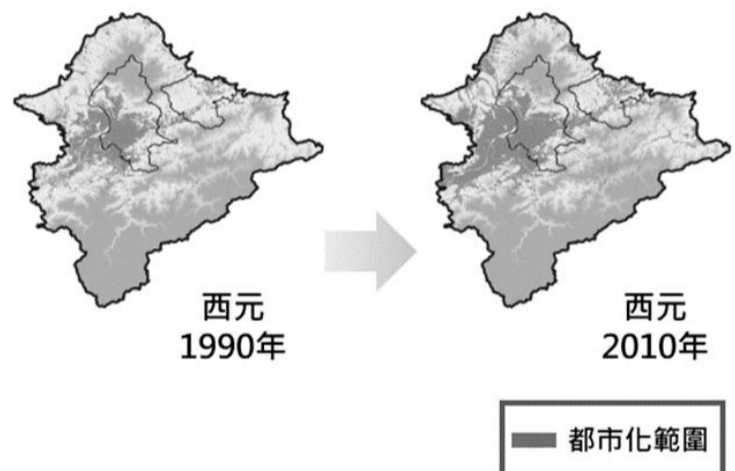
24. 東部區域的經濟和都市發展較其他地區緩慢，人口外流和勞動力老化等問題也較嚴重，但也因此讓自然景觀免於大規模的破壞。請問：造成此一特徵的主因為何？ (A)缺乏礦產資源 (B)海岸山脈阻隔 (C)對外交通不便 (D)環境品質較差。

二、整合題：

※聚落發展除了受到所在地點的自然環境條件影響之外，「交通」因關係到人與貨的流通，更是聚落持續發展的關鍵。許多聚落人口最密集、商業最發達的街市，多位在交通最為方便的地點。請回答下列問題：

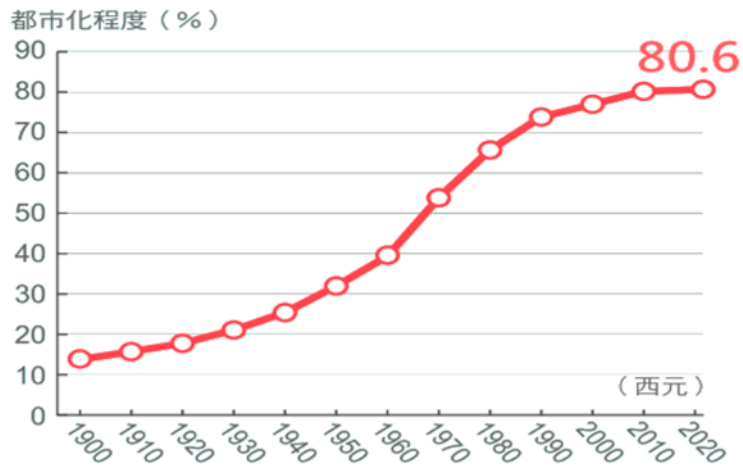
25. 西元 2012 年，由於台北飛高雄的航線載客率愈來愈低，市場競爭力下降，自 9 月起北高航班全面停飛。請問：造成上述現象的原因，與下列何種運輸方式的開通有關？ (A)臺灣高鐵 (B)中山高速公路 (C)省道 9 號公路 (D)蔣渭水高速公路。

26. 附圖為北北基都市化範圍擴張的示意圖，比較兩個不同階段，推測下列何項運輸方式的營運主要是為了提升台北市的動線與機能並促進大台北都會區的發展？ (A)捷運 (B)高速鐵路 (C)省道 (D)空運。



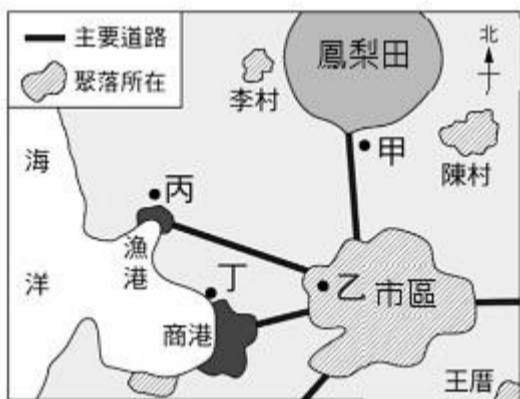
27. 民國六十年代的十大建設，為臺灣經濟起飛的起點，高雄以三項重工業做為產業發展的引擎，包括大煉鋼廠、中國造船廠、石油化學工業，成為臺灣的重工業重鎮。請問：高雄何項運輸方式為上述發展提供了巨大的貢獻？ (A)空運 (B)海運 (C)鐵路 (D)省道。

※附圖為行政院國家發展委員會所發布的臺灣都市化程度統計圖，請依圖中資訊回答下列問題：



28. 鄉村人口往都市集中，使都市人口比例增加的過程，稱為都市化。請問：都市吸引鄉村人口移入的原因，主要是因都市提供下列何項機能？ (A)糧食農產 (B)礦產原料 (C)就業機會 (D)休閒觀光。
29. 由圖中的變化趨勢，無法看出臺灣何種變遷過程？ (A)鄉村地區的社會增加率偏低 (B)都市地區的自然增加率偏高 (C)第一級產業就業人口比例降低 (D)第二、三級產業就業人口比例增加。

※附圖為大里市附近簡圖，請根據該圖，回答下列問題。



30. 若想要到乙地附近開設工廠。請問下列哪一類型最不適合？(A)麵包工場 (B)鳳梨罐頭工廠 (C)玻璃工廠 (D)家具工廠。
31. 若欲設立魚罐頭工廠，請問最應該選擇何處？(A)甲 (B)乙 (C)丙 (D)丁。
32. 由於當地缺乏石油，石油化學產業多集中於丁地，主要是當地具有何種要素的優勢？ (A)市場 (B)勞工 (C)原料 (D)交通。

一、選擇題：

1. 右圖為康康在公民課專題報告時所要使用的海報，請根據內容判斷，圖中箭頭「？」處應該填入下列哪一項？




- (A) 少子化
- (B) 社會化
- (C) 公共事務
- (D) 公平正義。

2. 右圖是小禾的週六計畫，請試著在小禾的規畫中，找出哪些事情屬於生活中的公共事務？ (A)甲乙丙 (B)乙戊己 (C)丙丁戊 (D)甲丙丁。



3. 熙來攘往的車站中，經常可以看到許多熱心志工的身影，他們付出自己的時間與精力，為旅客指引方向並協助其安全上下車。請問這些志工的行為展現了下列哪一項公民德性？ (A)發揮道德 (B) 促進公益 (C)理性思考 (D)相互尊重。

4. 請閱讀右圖新聞資料，判斷文中的醫師是經由下列何種途徑取得我國國籍？ (A)屬人主義 (B)屬地主義 (C)血統主義 (D)歸化方式。



5. 志願結社是具有共同興趣、目標或利益的個人基於自由意願組成團體。下列關於志願結社特徵的配對，何者正確？ (A)志願性：是人民基於自願結合的非強制性團體 (B)自主性：人們基於自由意願與認同而形成團體 (C)組織性：由人民組成，不受任何政府組織支配 (D)民間性：人民主動探究公共事務，並監督政府。

6. 人們藉由志願結社參與公共事務，可落實民主社會的精神。下列關於志願結社對公共生活影響的說明，何者正確？ (A)民眾接受政府的補助，監督廠商及政府不當的政策 (B)全民都可以透過志願結社，參與社會上的公共事務 (C)志願結社須由政府強制規定才能增進民眾公共參與 (D)為增進公民參與，政府應主動組織各種類型的團體。

7. 以參與團體的目的來說，有的人想藉此滿足情感的需求，有的人則想與理念相同者，共同實現團體的目標。下列哪一個團體的實際運作，同時滿足上述兩種需求？ (A)環保團體前往淨灘，實踐自然保育的工作 (B)宗親會為助童基金募款，以幫助貧困學生 (C)校友

會舉辦烤肉活動，凝聚成員的向心力 (D)伊甸基金會提供身心障礙者居家照顧服務。

8. 中華社會福利聯合勸募協會的運作經費來源大部分來自民眾及企業、基金會等民間團體捐款，將社會大眾的「愛心捐款」做恰當分配以發揮最大效益，嘉惠更多弱勢。由畫雙底線處可呈現志願結社的何種特徵？ (A)志願性 (B)組織性 (C)自主性 (D)非營利性。

9. 每年端午節台灣許多地方都會舉辦划龍舟競賽，以紀念愛國詩人屈原，但位於宜蘭縣礁溪鄉二龍村的「二龍競渡」活動，卻不是為了紀念屈原而舉行，據說早在漢人墾拓蘭陽平原之前，平埔族人為驅鬼避邪、超渡溺斃於二龍河裡的亡魂，遂以12天的競渡活動祭拜河神，祈求平安，到了漢人移墾之後，才漸漸與漢人的端午結合，將比賽濃縮為一天。請問：上文有關二龍競渡轉變的文化特性，與下列哪一個選項相同？ (A)亞洲國家以米飯為主食，西方國家則以小麥為主食 (B)凡是漢人所在之處，皆有端午龍舟競賽 (C)在傳統台式辦桌菜中吃到了日式料理 (D)到了端午節，人們皆會吃粽子應景。

10. 雲門舞集長期以來以現代舞、芭蕾舞等西方的舞蹈形式，結合東方的太極導引、冥想與武術等運動方式，呈現具有我國文化底蘊的舞碼，例如：「行草」的舞蹈動作素材則起源於我國書法藝術的運筆走勢。請問：下列哪一個概念可以說明雲門舞集的舞碼特色？ (A)文化傳承 (B)文化創新 (C)文化位階 (D)文化資產。

11. 花媽看到橘子在網路上以「人+377」、「旋轉」、「是在哈囉」等詞彙與同學對話，看得她一頭霧水。請問：橘子使用的詞語可以用哪個概念說明？ (A)網路次文化 (B)青少年的強勢文化 (C)全球性的主流文化 (D)台灣社會的弱勢文化。

12. 吳濁流的小說先生媽，是在描述日治末期時，日本為了讓台灣人更加投入第二次世界大戰而展開「皇民化運動」，書中的主角錢新發，為了能當個完全的日本人，要求全家學習日語、申請「國語家庭」、穿和服和住日本房，但最後卻家破人亡的故事。關於錢新發的作為，下列敘述何者最適當？ (A)將使台灣在地文化得以傳承延續 (B)與強勢文化對抗以取得優勢地位 (C)否認自身文化以換得強勢文化的認可 (D)以包容的態度看待外來文化，進行文化融合。

13. 目前我國外籍移工人數已達72.8萬人，外籍配偶人數也近60萬人，隨著新住民的入住，也將他們家鄉的食物帶入台灣，使我們的台灣料理多了異國的風味。請問：下列敘述何者能反映上文內涵？ (A)文化沒有高低優劣或進步落後的分別 (B)不同文化間的接觸造

成弱勢文化消失 (C)藉由文化交流有利於文化的融合創新 (D)透過交流檢視文化內涵以求去蕪存菁。

14. 台灣是多元族群匯聚的寶島，有閩南族群、客家族群以及不同的原住民族，在早期「國語運動」的政策下，長期以華語為我國國語，其他語言皆視為地方方言，直至【甲】的制定與實施，才將各個族群的語言視為國家語言。請問：文中的【甲】應為下列何者？ (A)文化基本法 (B)原住民族基本法 (C)憲法增修條文 (D)國家語言發展法。
15. 清明節是我們的掃墓祭祖的日子，也有慎終追遠、緬懷祖先的意涵，然而清明節並不是中國獨有的節日，在其他國家也有類似的紀念活動，如：日本的「盂蘭盆節」與柬埔寨的「亡人節」等。請問：這些社會規範與下列哪一選項同？ (A)「人在做、天在看」、「舉頭三尺有神明」 (B)吃飯時不敲碗，筷子不放在碗裡 (C)酒後不開車、開車不喝酒 (D)父慈子孝、兄友弟恭。
16. 承上題，相較於我國掃墓都在4/4或4/5清明節這一天，柬埔寨的亡人節，則是在每年的佛曆10月1日至15日舉行，共進行15天，是亞洲最長的「清明節」。請問：從上面敘述可看出文化的何種特性？ (A)普遍性 (B)差異性 (C)累積性 (D)制約性。
17. 在我國，大麻被列為二級毒品，使用或持有大麻皆是違法的；但在加拿大、烏拉圭、喬治亞等國家，使用大麻卻是合法的。由上可彰顯社會規範的何種意義？ (A)社會規範並非一成不變，會因時代變遷而改變 (B)法律是以公權力為後盾，具強制性的社會規範 (C)加強法治觀念、杜絕毒品，有助於社會的穩定 (D)某個社會的規範，在另一社會可能是不適宜的。
18. 幾位同學在下課時間討論社會規範中的正式規範與非正式規範，何者的說法是正確的？ (A)兩者皆可規範人們的外在行為 (B)兩者皆是在社會中自然生成的 (C)兩者皆會啟發人們的內在良知 (D)只有非正式規範才具有強制力。
19. 傳統我們將犬貓等寵物視為飼主的財產，即便傷害動物也無刑責，隨著「動物倫理」的興起，人們愈來愈看重人與動物的關係，願意去正視動物權利、動物福利、物種歧視等議題，也促使我國訂定了動物保護法等法規，以尊重動物生命及保護動物。請問：哪一個選項符合上文的敘述？ (A)非正式規範可能成為正式規範制定的基礎 (B)正式規範可能轉變不合時宜的非正式規範 (C)非正式規範會約束人們的外在行為，維持社會秩序 (D)非正式規範可啟迪人們的內在良知，展現適宜的行為。
20. 文化中任何層次的變遷都可能引發其他層次的改變。例如：信用卡的發明，導致許多人養成「先消費，後付款」的觀念。這是「器物」的變遷造成「理念」的變遷，請問：下列哪項變遷和上述相同？ (A)環保觀念的興


起，推動廠商發明無污染清潔劑 (B)智慧型手機隨時可見，所以大家需要培養正確使用手機的觀念 (C)性別平權觀念受重視，婦女團體爭取修改民法親屬編相關規定 (D)愈來愈多的重型機車上路，政府修訂相關法規，使大型重機能合法上路。

21. 社會變遷過程中，器物、制度、理念任何一個層次，都會牽動其他層次的改變。下圖【甲】到【丁】，請判斷哪一選項的層次牽動是正確的？ (A)甲：理念帶動制度的變遷 (B)乙：制度帶動理念的變遷 (C)丙：理念帶動器物的變遷 (D)丁：器物帶動制度的變遷。

| | |
|---------------------------------|-----------------------------------|
| 【甲】挪威是深具環保觀念的國家，因此他們研發出許多環保概念車。 | 【乙】我國限用塑膠袋法令上路後，賣場紛紛推出各種尺寸的環保購物袋。 |
| 【丙】丹麥政府調整能源補助政策，導致人民減少購買電動車的意願。 | 【丁】遙控無人機使用頻繁但多次釀禍，政府修法將無人機納入管理。 |

22. 現行《入出國及移民法》規定，並非自願離婚的外籍配偶，如果沒有拿到家暴保護令或小孩的監護權，就失去居留權，必須被迫出境。內政部於是提出修正草案，放寬離婚外籍配偶可以繼續留在臺灣的限制，以提升婚姻移民的權益保障。甚至在該法修正完成前，對於遭遇類似困境的新住民，移民署各地服務站都將依照修正草案的原則與精神來提供各式協助。上述政府是採取何種方式來改善其不公平的處境？ (A)以新住民的角度思考政策保護權益 (B)從新住民的立場提供經濟上的協助 (C)縮小新住民所面臨的不公平競爭 (D)努力爭取新住民平權觀念的普及。
23. 下列是市長候選人在參選時所提出的各項政見，請問：哪一項是屬於社會福利政策？ (A)推動雙語教學、國際化的授課內容與全球接軌 (B)經營太陽能光電永續經營計畫，成為宜居城市 (C)老舊市場改建，讓舊城區再生，重現往日風采 (D)社區共餐據點及整合照顧，建立銀髮照護系統。
24. 某雜誌的一篇報導：「在臺灣醫療資源大都集中在都會區，而偏鄉交通往返相對困難，醫師到偏鄉現場診療意願低，導致偏鄉民眾無法獲得較完善的醫療資源。然而，現今醫學科技快速發展，能透過遠端親臨醫療系統看診，偏遠地區的民眾能獲得更完善的醫療資源。」根據內容，下列何項說明最能表達新聞旨意？ (A)科技發展有助理念層次變遷 (B)科技改善社會中不公平的處境 (C)政府制定政策促進公平正義 (D)個人透過關心來維護弱勢權益。

25. 由於智慧型手機功能的進步，使得消費方式更加多元，比如在海報上用手機掃瞄 Q-R Code，即可獲取優惠資訊，或是用如下圖等行動支付的方式付款。



請問：這種行銷手法是建立在何種層次的社會變遷上？

- (A)理念層次 (B)道德層次 (C)制度層次 (D)器物層次。
26. 關於社會福利思想的演變過程，下列敘述何者正確？
 (A)此思想起源於工業革命後，雇主壓榨勞工 (B)從宗教組織開始執行，後逐漸轉為政府介入 (C)從關注所有社會成員演變到特別關懷弱勢群體 (D)近代社會福利由民間主導，政府擔任協助的角色。
27. 我國繼同婚專法通過後，在上個月，立法院三讀通過修正了同婚專法裡的部分條文，明定同性配偶也能共同收養子女，或由其中一方單獨收養他方子女，相關規範準用民法收養的規定。上述內容主要展現出社會變遷的何種影響？ (A)解決貧富差距的問題 (B)科技進步讓生活更便利 (C)性別平權的觀念逐漸進步中 (D)改善身心障礙者不公平的處境。
28. 社會保險是社會安全制度中重要的一環，由多數人的投保來幫助、照顧、分擔少數人的危險事故，讓被保險者在發生死亡、疾病、年老、退休或身心障礙等事故時，可獲得保險給付以安定生活。請問：下列何者不是社會保險的性質或特色？ (A)排除富人或非弱勢群體 (B)強制符合條件的國民加入 (C)保費不一定由被保險人負擔 (D)不一定限本人領取，其家屬也可能得到基本生活保障。
29. 「民眾所拿回的藥有 1/4 沒有服用，每年約浪費 300 億台幣。」「過去曾做過藥物回收高達 100 多噸。」「毫無病痛的人，只因方便、便宜，就三不五時地去診所拿藥，認為自己繳了保費，不拿白不拿。」從上述說法可看出健保實施後的什麼問題？ (A)保費收費不公，難以縮小貧富差距 (B)政府稅收過低，無法支付健保支出 (C)資源過度浪費，無法幫助需要的人 (D)民間力量有限，責任應由政府承擔。
30. 雨澤看到社區布告欄有捐鞋子做公益的活動資訊，於是決定把家裡的舊鞋子整理出來，響應此活動。請問：以上應與下列哪一項敘述的意義相符？ (A)抱持終身學習的精神，適應社會變遷 (B)發揮自己的力量，共同分擔社會責任 (C)做好資源回收，有助於社區營造 (D)閱讀習慣的培養，有助於良好性格形成。

解答：

| | |
|-------|-------|
| 1-5 | BDBDA |
| 6-10 | BBDCB |
| 11-15 | ACCDB |
| 16-20 | BDAAB |
| 21-25 | DADBD |
| 26-30 | BCACB |