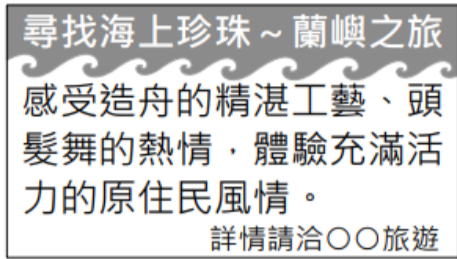


一、選擇題：

1. 附圖是某旅行社的傳單，小明若報名參加此行程最能深入了解當地哪一個原住民族的生活與文化？

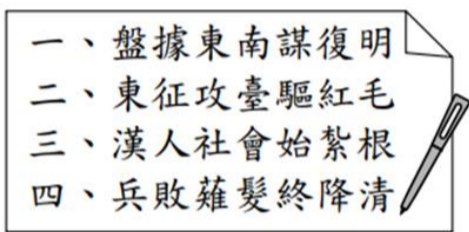


(A)阿美族 (B)布農族 (C)達悟族 (D)賽德克族。

2. 承上題，下列何者不可能是在小明在當地的旅遊體驗？

(A)參加矮靈祭 (B)划拼板舟出海 (C)品嚐特有的飛魚風味餐 (D)穿傳統服飾丁字褲拍照。

3. 附圖是小花報告的段落標題。請問：她的報告主題，最可能是下列何者？



(A)荷西爭奪臺灣 PK 戰 (B)鄭氏三代的臺灣經營 (C)大航海時代的貿易競逐 (D)海禁政策對商貿網絡的影響。

4. 「他本是移墾臺南赤崁一帶漢人的領袖，由於漢人難以承擔荷蘭聯合東印度公司的苛徵重稅，於是在西元 1652 年發起對荷蘭人的反抗行動。」請問：上面這段文字應該是在介紹哪一位歷史人物？

(A)顏思齊 (B)郭懷一 (C)沈有容 (D)鄭成功。

5. 附圖為古代人類所呈現的幾種生活樣貌，請問：大坌坑文化不可能涵蓋其中的哪些活動？



(A)甲丁 (B)乙丙 (C)乙己 (D)丙己。

6. 萍萍在圖書館看到一份資料：「本朝嚴禁通洋，片板不得入海，而商賈壟斷，厚賄守口官兵，潛通鄭氏，以達廈門，然後通販各國。凡中國諸貨，海外人皆仰資鄭氏。於是通洋之利，惟鄭氏獨操之……。」請問：上述清代史料說明鄭氏政權與中國大陸之間的貿易關係為何？

(A)自由貿易 (B)走私貿易 (C)國內貿易 (D)國際貿易。

- ◆1602 年：3 月 20 日公司成立。
- ◆1603 年：公司船員韋麻郎經由馬六甲海峽抵達澳門，與葡萄牙的戰爭失利。
- ◆1604 年：8 月 7 日抵達澎湖，但 12 月 15 日被明朝軍隊驅離。
- ◆1619 年：在爪哇成立東印度地區的總部。
- ◆1622 年：攻打葡萄牙人佔領的澳門失敗後，轉而佔據澎湖。
- ◆1624 年：與明朝軍隊歷時八個月的澎湖戰爭失敗，轉而佔領台灣大員。

7. 上表是某商業公司發展的重要大事記，請問：此商業公司的亞洲總部位於附圖何處？



(A)甲 (B)乙 (C)丙 (D)丁。

8. 十七世紀漢人移民臺灣之前，臺灣各原住民族曾是臺灣的主體族群。然而受到外來移民擴張的影響，臺灣各原住民族面臨大幅度的文化斷層、語言消失和族群認同的問題。請問：歷史上對臺灣原住民族的稱呼，何者最晚出現？

(A)生番 (B)熟番 (C)高砂族 (D)山地同胞。

9. 某論文提到：「它的出現象徵人與自然的關係由被動適應環境，轉變為利用和改造環境。這是人類史上一次劃時代的變革，歐美學者稱其為『新石器革命』並推崇它是最偉大的『經濟革命』。」請問：下列何者最符合文章的論點？

(A)用火煮食 (B)磨製石器 (C)農業生產 (D)冶煉鐵器。

10. 田野工作者走遍各地記錄臺灣原住民部落的故事，包括南投縣仁愛鄉泰雅族巨石誕生祖先、布農族與賽夏族的祖先遭到洪水侵襲、邵族得到矮黑人的幫助、卑南族巫師創造月形石柱等事蹟。請問：這些聽來難以置信的情節與傳說，對於我們學習歷史有何幫助？

(A)沒有幫助，因為都是古人迷信的內容 (B)有幫助，這些傳說故事是原住民族最早出現的文字紀錄 (C)沒有幫助，這些都是原住民族的祖先想像而來，嚴重悖離史實 (D)有幫助，雖然內容不可思議，卻反映出早期原住民族的生活與文化，具有參考價值。

11. 今日我們能夠了解史前人類生活的情形，最重要的根據是什麼？

(A)文字記錄 (B)神話故事 (C)考古發掘的遺物 (D)先人口耳相傳的傳說。

12. 附圖分別代表清朝曾經對臺灣採取的四項統治措施，若依在臺施行的時間先後順序排列，下列何者正確？

(A)甲乙丙丁 (B)乙丁甲丙 (C)丙乙丁甲 (D)丁丙

甲乙。



13. 阿貴是雍正年間的福建人，聽說臺灣錢淹腳目想渡海到臺灣謀生，但他不知該如何前往，於是向人請教相關情報。請問：下列情報何者正確？ (A)只要是大清子民都可以去臺灣 (B)必須要先向官府申請渡臺證照 (C)可以攜家帶眷一同前往臺灣打拚 (D)政府增設廳縣鼓勵人民前往臺灣開墾。


14. 「大肚王國奇遇記」藉由時空穿越歌舞劇的方式，在舞台上重現 400 年前的大肚王國。主辦單位表示要讓更多人了解原住民這段曾經對抗外來勢力侵略的歷史，也希望○○居民藉此營造社區意識，以身為大肚人為榮。請問：○○指的是地圖中何處？ (A)甲 (B)乙 (C)丙 (D)丁。



15. 鄭氏降清後，清廷為了是否將臺灣納入版圖曾有所爭議，為了突顯臺灣的重要性，施琅特別寫了〈恭陳臺灣棄留疏〉。請問：施琅奏疏中何項要點最有可能說服康熙皇帝將臺灣納入版圖？ (A)臺灣地方，北連吳會，南接粵嶠，延袤數千里，山川峻峭，海道迂迴，乃江、浙、閩、粵四省之左護 (B)野沃土膏，物產利薄，耕桑並耦，魚鹽滋生，滿山皆屬茂樹，遍處俱植修竹。硫磺、水藤、糖蔗、鹿皮，以及一切日用之需，無所不有 (C)今臺灣人居稠密，戶口繁息，農工商賈，各遂其生，一行徙棄，安土重遷，失業流離，殊費經營，實非長策 (D)且海氛既靖，內地溢設之官兵，盡可陸續汰減，以之分防臺灣、澎湖兩處。

16. 乾隆年間他率眾進入蛤仔難開墾，是漢人成功進入蘭陽平原的先驅。然而漢人以種種欺壓手法侵占平埔族土地，迫使噶瑪蘭族往花蓮、台東遷移的行為卻引發不小的爭議。請問：被稱為「開蘭第一人」的他是誰？ (A)吳沙 (B)朱一貴 (C)鄭成功 (D)顏思齊。

17. 附圖為某一事件後，政府治臺的措施。若從圖中內容來判斷，當時的臺灣應該是被下列何者所統治？ (A)清帝國 (B)鄭氏政權 (C)大日本帝國 (D)荷蘭聯合東印度公司。



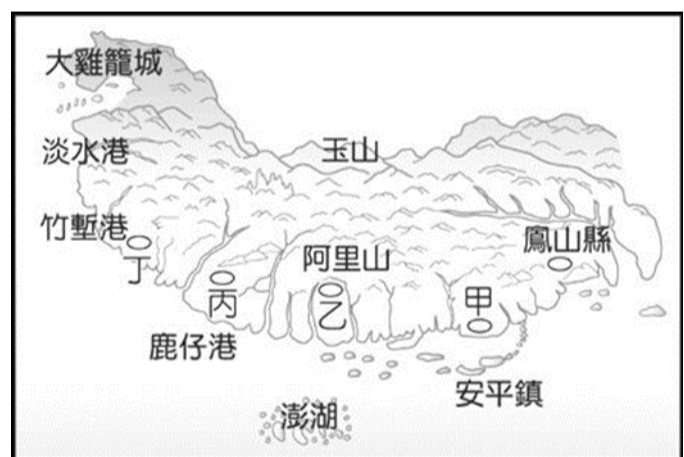
18. 某一時期臺灣統治當局治理原住民的情景如下：「地方會議在赤崁舉辦，……長官開始對大會致詞，翻譯人員則將長官的話口譯成新港社的原住民語……。接著，長官任命各社長老、授予權杖，並關切官方修建的教堂和學校的事務、村落繳付的年貢等。」請問：文中的「長官」最可能是由下列何者所指派？ (A)國姓爺 (B)清朝皇帝 (C)西班牙國王 (D)荷蘭聯合東印度公司。

19. 臺中市石岡區「土牛國小」的校園內有一座「土牛民番地界碑」，不僅有官方文獻記載且仍保存於土牛溝原址附近，具臺灣歷史、社會、地理、族群關係之文化意義及稀有性價值，因此被文化部指定為重要古物。請問：這座界碑說明了清朝對原住民採取何種治理措施？ (A)放任態度，不理不睬 (B)嚴密監控，滴水不漏 (C)隔離政策，劃定界線 (D)保護措施，設保護區。

20. 諺語是民間流傳的常語，不僅反映時代的背景也是先民生活經驗與智慧的結晶。透過諺語的傳承，我們得以了解台灣歷史發展的脈絡與風貌。請問：下列諺語何者出現的時間最晚？

- (A)甲 (B)乙 (C)丙 (D)丁。
(甲)「六死三留一回頭」
(乙)「有唐山公，無唐山媽」
(丙)「鴨母王走入溝仔尾，死路一條」
(丁)「西仔來打咱臺灣，大家合齊來打番」

21. 附圖為十八世紀前期《重修臺灣府志》中的總圖，由於當時臺灣各地開發的程度不同，因此對地理環境的掌握不夠完整。請問：當時臺灣的最高行政中心應位於何處？ (A)甲 (B)乙 (C)丙 (D)丁。



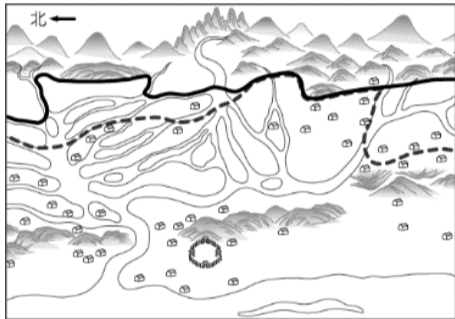
22. 文人賴雨若有詩云：「南陲陸戰未停烽，海上旋聞警報重；煙鎖基隆橫艦艇，砲轟淡水伏魚龍。」請問：詩句中所描述的是哪一件史事？ (A)英法聯軍 (B)清法戰爭 (C)甲午戰爭 (D)牡丹社事件。

23. 承上題，清廷為此派遣何人前來臺灣督辦軍務？ (A)施琅 (B)沈有容 (C)沈葆楨 (D)劉銘傳。

24. 恩恩在古物市場尋寶時，看見一份十九世紀漢人與西拉雅族原住民買賣土地時所簽訂的雙語契約。請問：她若向專家請教，會發現此古文書是用哪些語言所書寫？ (A)漢文、日文 (B)漢文、新港文 (C)英文、

新港文 (D)荷蘭文、新港文。

25. 請問：下列清朝在臺灣的建設有幾項是由沈葆楨所推動？(甲)興建鐵路 (乙)億載金城 (丙)電報學堂 (丁)郵政總局 (戊)八通關古道 (己)廢除渡臺禁令 (A)一項 (B)二項 (C)三項 (D)四項。
26. 臺北府志記載：「此地製茶工坊林立，茶葉產期時，茶行必須僱用許多女工，多則五、六十人，少則二、三十人，甚至有漳、泉婦女來此短期工作，每日工資四、五錢不等。」請判斷該地應為下列何者？ (A)大稻埕 (B)集集 (C)深坑 (D)打狗。
27. 西元 1691 年(康熙 30 年)，來自中國福建泉州府晉江縣的漢人，在臺灣會有怎樣的遭遇？ (A)府城內見到許多外國人 (B)參與林爽文抵抗官府活動 (C)隨移民前往蛤仔難開墾 (D)與同鄉合作申請開墾證照。
28. 清朝留下的古地圖裡有兩種不一樣的界線，兩種線代表的意義一樣，但實線是後來界線改變後新畫的。請問：兩種線界線的改變，代表下列何種情況發生？



- (A)稻米種植範圍的調整 (B)高山族移墾由西向東 (C)番界逐漸向內山移動 (D)平埔族獵場逐漸擴大。
29. 清帝國時期某一縣志提及：「客頭串同習水積匪，用溼漏小船，收載數百人擠入艙中，將艙蓋封釘，不使上下，乘黑夜出洋。……比到岸，恐人知覺，遇有沙汕，輒騙趕離船，名曰『放生』。」文中敘述閩粵居民橫渡黑水溝的過程。請問從中我們可以推敲得到的訊息，「不」包括下列何者？ (A)原鄉人口增加 (B)因此謀生不易 (C)偷渡艱辛困難 (D)政府鼓吹來臺。
30. 清代臺灣原屬於移民社會，但在經過一百多年的發展後，移民社會逐漸消失，走入定居社會的型態，下列何種現象反映出臺灣已成為定居社會？ (A)開臺祖祭祀活動大增 (B)會黨組織廣為增設 (C)媽祖廟普遍設立 (D)羅漢腳漸增。
31. 『西元 1853 年，碼頭挑夫發生口角，引發八角街(艋舺東)的泉州籍同安人聯合漳州人(同屬「下郊」)，攻擊泉州籍的三邑人(惠安、南安、晉江三籍人，屬「頂郊」)，即俗稱的「頂下郊拚」。最後三邑人向安溪人借路，殺進艋舺地區同安人大本營八甲庄，同安人見大勢已去，退避逃離。』由上文可知，引起這起械鬥事件的原因為何？ (A)祖籍不同 (B)爭奪水源 (C)商業競爭 (D)官逼民反。
32. 西元 1804 年(嘉慶 9 年)，臺灣部分地區平埔族群在巴則海族頭目的號召下聚集(如圖所示)，隨後沿著大甲溪

溯溪北上，準備遷移至一個尚未被清帝國派官管理的新天地。請問：這群平埔族遷移目的地應是現今的何處？ (A)南投(B)宜蘭 (C)花蓮 (D)臺東。



33. 臺灣俗諺：一府二鹿三艋舺，象徵著臺灣開拓的發展歷程。請問俗諺中所指稱的地點位在下列地圖中的何處？ (A)丁丙甲 (B)丁丙乙 (C)戊丙甲 (D)戊乙己。



34. 清廷統治臺灣西部後，於西元 1758 年(乾隆 23 年)下令歸順的平埔族人薙髮結辮以仿清俗，同時也賜予仿漢的姓氏，據說有漢人建議他們，既然漢化務農了，不如用「○」字為姓，因為拆開來看有水、有米、有田。請推斷，引號中圈圈應是哪一個姓氏？ (A)戴 (B)潘 (C)買 (D)陳。
35. 大港口事件，又稱奇密社事件，起因於清廷「開山撫番」的政策，與東部的原住民族爆發多次衝突。當時清兵進入東部，欲強行開闢水尾(花蓮縣瑞穗鄉)至大港口(花蓮縣豐濱鄉港口部落)的道路，結果引發奇密社、納納社、阿棉社等原住民部落的反抗，並在大港口發生衝突。請問：由上文判斷，該事件的受害者為哪一個族群？ (A)阿美族 (B)泰雅族 (C)賽夏族 (D)卑南族。
36. 「理學堂大書院」，英文為「Oxford College」，西元 1872 年到 1880 年間，馬偕博士以露天教學的方式，於路邊、榕樹下、溪邊或是海邊傳教，因感於創校之重要性，便於 1880 年返回家鄉之時，籌募款項，回到臺灣後便開始興建學校。關於馬偕來臺的時空背景，下列何者符合史實？ (A)雍正年間首次來臺 (B)時值清法戰爭結束 (C)長老教會委派傳道 (D)其故鄉位在英國。
37. 馬偕在臺灣居留時間近 30 年，直至 1901 年因喉癌於

淡水寓所逝世，得年 57 歲，在臺灣期間，對臺灣貢獻良多，下列何者為其重要成就？ (A)首位在臺從事醫療活動的傳教士 (B)率先於臺南興建牛津學堂 (C)新樓醫院前身為借醫館 (D)曾前往宜蘭三星地區傳教。

二、整合題：

※時間的觀念對於歷史研究非常重要，不同的族群經常使用不同的紀年方法來記錄事件發生的時間。請根據所學，回答下列問題：

38. 「2022 年 9 月 8 日，英國女王伊莉莎白二世(Queen Elizabeth II)以 96 歲高齡辭世，身為歷史上執政最久的女性君主，在其 70 年的執政生涯中，陪伴英國國民度過了許多關鍵的歷史時刻，她的離世，也標誌著一個時代的終結.....。」請問：上述歷史事件發生在幾世紀？ (A) 19 世紀 (B) 20 世紀 (C) 21 世紀 (D) 22 世紀。
39. 今年為民國 111 年 (2022)，「干支紀年」的歲次是「壬寅」，若想再度碰到歲次「壬寅」得要等多久時間？ (A) 10 年 (B) 12 年 (C) 60 年 (D) 100 年。
40. 興雅國中於民國 57 年創校，若改以「西元紀年」來標示，本校的創立時間應該為何？ (A) 1957 (B) 1968 (C) 1979 (D) 1987。

※龍哥深信「讀萬卷書，不如行萬里路」於是報名參加「臺灣史蹟研習營」，透過實地參訪驗證課堂所學，深入了解臺灣這塊土地的歷史。請參考地圖，回答下列問題：



41. 龍哥若想了解臺灣最早開始熟食的史前文化遺址，行程中應該要安排參訪何處？ (A)甲 (B)乙 (C)丙 (D)丁。
42. 導遊介紹某文化遺址時提到：「這是目前台灣所發現最大的史前聚落，其特色是出土了許多石板棺和陪葬的精美玉器，因此被內政部列為國家一級古蹟。」請問：導遊所介紹的文化遺址應該位於何處？ (A)甲 (B)乙 (C)丙 (D)丁。
43. 這裡有史前人類的垃圾場遺跡--貝塚，不僅驗證臺北湖的存在，更保存了大量史前人類食用後的貝殼、獸骨、魚骨和各類陶器、石器、骨角器等生活用品。請問：龍

哥應該去哪裡參觀這個特別的文化遺址？ (A)甲 (B)乙 (C)丙 (D)丁。

44. 此遺址是臺灣金屬器時代的代表，而擁有先進煉鐵技術的史前居民，很有可能是凱達格蘭族原住民的祖先。其代表性的墓葬品「人面陶罐」，與奇特的屈肢葬習俗更是令龍哥好奇，想一探究竟。請問：龍哥應該要安排參訪何處的考古博物館？ (A)甲 (B)乙 (C)丙 (D)丁。

※某電視台八點檔正上演的歷史劇，其片段如下：

兩國代表正為某一事件進行交涉。

甲國代表：「生番都是化外之民，不屬於我國政府管轄。」

乙國代表：「生番殺人，貴國卻置之不理，故我國將出師問罪，只是生番居住的地區與貴國府治相鄰，為免傷兩國和氣，所以先行奉告。」

甲國代表：「生番既屬我國化外，問罪不問罪，由貴國裁奪。」

不久，乙國乃向外界公告軍事行動，派兵至臺灣。

請根據史實，回答下列問題：

45. 甲、乙兩國分別為何？ (A)清帝國、荷蘭 (B)清帝國、日本 (C)清帝國、法國 (D)清帝國、西班牙。
46. 劇中兩國的代表是為了哪一個藩屬而進行交涉？ (A)臺灣 (B)朝鮮 (C)越南 (D)琉球。
47. 請問：受到此事件影響，清廷對臺灣的統治態度有何轉變？ (A)閉關自守，消極應對 (B)打開門戶，開港通商 (C)積極治理，加強海防 (D)提高層級，建省自強。
48. 承上題，臺灣的行政區劃出現何種調整？ (A)圖甲 (B)圖乙 (C)圖丙 (D)圖丁。



※附表是清末自西元 1868 年至 1894 年臺灣進出口值統計表。請回答下列問題：

期間	出口	進口
	年平均	年平均
1868~1869	93.0	124.5
1870~1874	172.0	174.4
1875~1879	282.3	272.0
1880~1884	427.3	318.8
1885~1889	435.7	361.8
1890~1894	570.7	431.0

49. 表中哪一期間，開始反映出臺灣對外貿易由入超轉變為出超？ (A) 1868~1869 (B) 1870~1874 (C) 1875~1879 (D) 1890~1894。
50. 當時主要進出口的商品，下列何者正確？ (A) 出口—茶葉、蔗糖 (B) 進口—鴉片、軍火 (C) 出口—樟腦、稻米 (D) 進口—紡織品、鹽。
51. 造成當時(1860 年代)經濟狀況轉變的時代背景為何？ (A) 受鴉片戰爭失敗的影響 (B) 政府開放港口對外通商 (C) 外商積極經營兩岸貿易 (D) 原住民投入農業生產。
52. 若要促成全島經濟的向上提升，開拓經貿更進一步的發展，當時應該採取下列哪一個措施？ (A) 洋商廣設行郊 (B) 提振全國文教風氣 (C) 買辦成立會黨 (D) 發展丘陵地區產業。

※老街、廟宇、小吃，是大眾對彰化鹿港的印象，下圖為「鹿港漫步地圖」的部分內容，請回答下列問題：



53. 關於老街中駐足留觀的著名景點之一「隘門」，當初設置的理由為何？ (A) 抵禦盜賊外敵 (B) 關押罪犯匪徒 (C) 壟斷貿易路徑 (D) 供奉神明祖先。
54. 圖中「三山國王廟」的設立，應與中國大陸何處的移民有關？ (A) 福州府 (B) 泉州府 (C) 漳州府 (D) 潮州府。
55. 文開國小的命名由來，「文開」一詞為紀念沈光文(字文開)，他於明鄭時期來到臺灣，道光年間，鹿港設置

文開書院推廣文教。請問：清朝統治時期，於書院就讀的學子欲出人頭地，需透過什麼途徑？ (A) 加入撫墾總局 (B) 參加科舉考試 (C) 發表詩賦創作 (D) 參與保甲組織。

56. 清帝國統治前期，臺灣與中國之間有著密切的貿易關係，由於兩岸往來頻繁，至今鹿港仍有「泉郊會館」的招牌，當時的鹿港商人以對岸何處做為主要對渡港口？ (A) 五虎門 (B) 廈門 (C) 蚶江 (D) 上海。

※瑠公圳於清乾隆年間開始興建，其主幹道與支線圳溝遍及臺北盆地各處，其中第一幹線便是沿著蟾蜍山向東北行，沿著台大男生宿舍、自來水廠前的道路，穿過辛亥路，沿著信安街北行，到達頂埔、內埔、六張犁，灌溉興雅庄(即今信義區一帶)，再北行經延吉街，到達錫口(今松山)、上下塔悠庄，目前該段水圳多遭填平，只剩下信義路五段的中強公園還保留一段圳路(五分埔支線)。

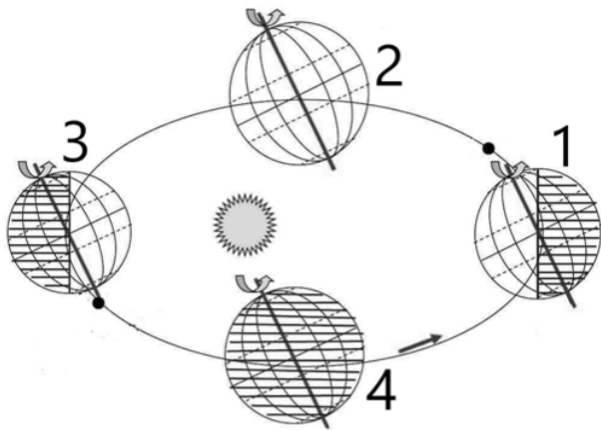
57. 請問：當時瑠公圳主要引入的水源來自哪一條溪流？ (A) 濁水溪 (B) 高屏溪 (C) 基隆河 (D) 新店溪。
58. 大費心力所完成的水圳工程，興建的主要目的為何？ (A) 拓展河道面積 (B) 防止械鬥民變 (C) 增加農業產值 (D) 促進原漢合作。

臺北市立興雅國民中學 111 學年度第 1 學期七年級地理科補行評量講義

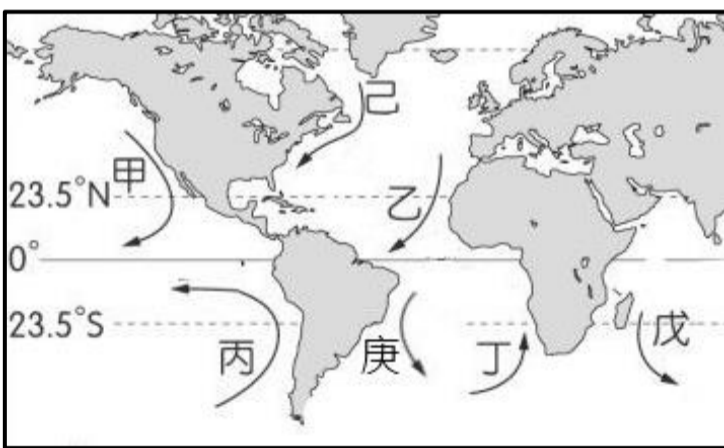
年 班 號 姓名：

一、單選題（每題2分）

1. 地球環繞太陽的運動稱為公轉。由北極向下看，地球以逆時鐘方向由西向東繞著太陽公轉，週期約1年。請問當台灣夏季時，地球應轉動至圖片中哪個位置？
 (A) 1 (B) 2 (C) 3 (D) 4。



2. 台灣的面積雖然只有三萬六千平方公里，卻擁有相當豐富的生物資源。台灣在維管束植物、蕨類、蝶類、鳥類……等，與世界其他地區同類生物做比較，都居世界之冠。請問下列何者與造成台灣多樣性的生物種類最無關係？
 (A) 高溫多雨 (B) 海拔差距大
 (C) 位處海陸的交接帶 (D) 位於北太平洋的西側。
3. 海洋中的水一直在運動，具有較大規模、流向穩定的海水流動稱之為洋流。洋流依其水溫高低又可區分為暖流、涼流和寒流。請問附圖中那些洋流的性質與流經台灣東側的黑潮相同？
 (A) 甲乙 (B) 己丙 (C) 庚戊 (D) 乙丁。

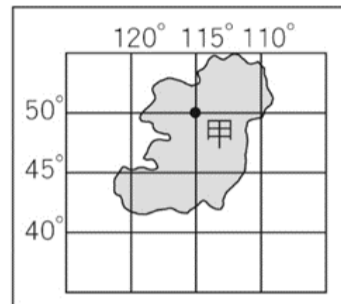


4. 地理老師上課時介紹台灣的行政區，要求同學將附圖中屬於直轄市的範圍塗深，請問圖中不需要塗深的代號有幾個？
 (A) 1個
 (B) 2個
 (C) 3個
 (D) 4個。



5. 下圖是某島嶼的經緯度位置圖，關於此島嶼的描述何者正確？

- (A) 此島嶼面積比台灣大得多
 (B) 此島位在熱帶氣候區
 (C) 甲地時間比台灣快1小時
 (D) 甲地夏季的氣溫應該會比台北高。

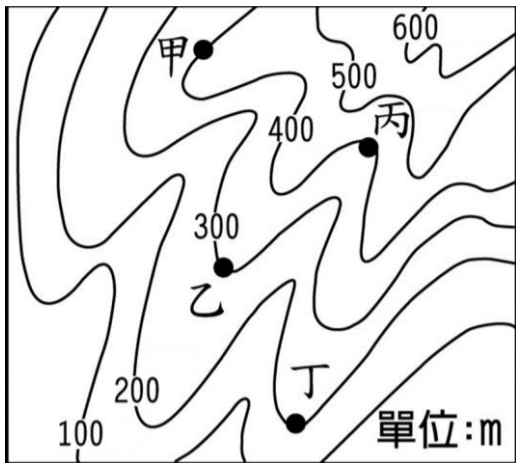


6. 附圖是台南市局部地區的街道圖，小夫下午4點從家裡出發，開車沿著崇明路前往台南市藝術中心，請問當時陽光應該從小夫的何方照射過來？
 (A) 正前方 (B) 後方 (C) 左側 (D) 右側。

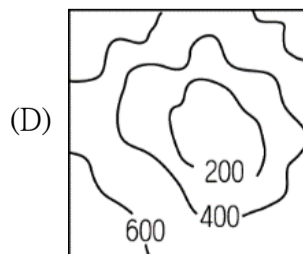
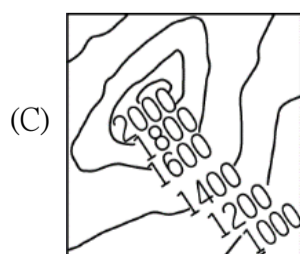
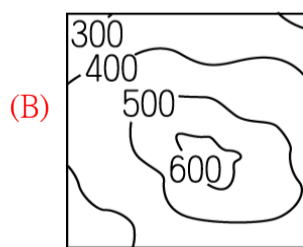
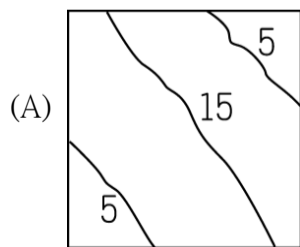


7. 西元1661年鄭成功領軍渡海來臺，然而由於當時規畫上岸的海岸水淺易擱淺，因此大軍受阻、無法登陸；直到後來利用潮汐漲潮才得以進港，驅離占據當地的荷蘭人。依上文判斷，當時鄭成功最有可能是透過下列哪一種海岸地形才能成功登陸？
 (A) 灣澳 (B) 岬角 (C) 斷層 (D) 瀉湖。
8. 記者小雅正在撰寫一篇名為「今非昔比」的報導，主要內容為利用兩張地圖的比較，來敘述信義區1960年以及2020年的土地利用變遷情形。請問：下列哪一種地圖最適合來佐證她的報導？
 (A) 分層設色圖 (B) 地形剖面圖
 (C) 航空照片圖 (D) 等高線地形圖。
9. 下列新聞呈現世界各地的地理現象，其中何者是由外營力所造成？
 (A) 台東蘭嶼夜間兩彈狂炸，土石流阻居民通行
 (B) 尼泊爾首都地震釀6死，鄰國印度亦有感搖晃
 (C) 東加海底火山近來活動頻繁，竟形成全新島嶼！
 (D) 喜馬拉雅山褶曲作用持續中，海拔高度再上修。

10. 土石流的發生要件有三項：一、河川上游地區堆積大量的礫石與泥沙；二、足夠的坡度；三、充足的水分。依據上述資訊判斷，附圖中何者是最有可能發生土石流的地點？
(A)甲 (B)乙 (C)丙 (D)丁。

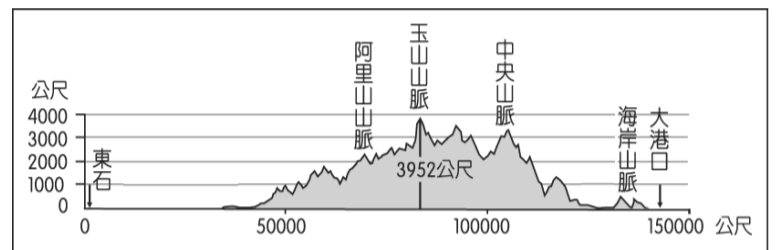


11. 擁有千姿百態的珊瑚，最適合繁殖的溫度介於 22°C~28°C 之間且要水質清澈，陽光充足。由此可知，臺灣本島哪一段海岸地形為珊瑚礁海岸？
(A)淡水河口-新北三貂角 (B)淡水河口-屏東楓港
(C)屏東楓港-屏東旭海 (D)宜蘭蘇澳-屏東旭海。
12. 等高線地形圖可掌握一地的地表高低及起伏型態等重要資訊，請問：下列哪一個地形區的等高線分布最為密集？
(A)林口臺地 (B)埔里盆地 (C)中央山脈 (D)屏東平原。
13. 我國經濟活動相當依賴國際貿易，因此對外航運十分重要。若交通部欲尋找港闊水深的天然良港來設立新的國際港口，則下列哪一種海岸最為適合？
(A)沿岸平原寬闊的沙岸
(B)海岸線曲折的岬灣海岸
(C)海岸線陡直的斷層海岸
(D)海水較深的珊瑚礁海岸。
14. 「台灣好行(景點接駁)旅遊服務」是專為國人旅遊所規劃設計的公車服務，其中的苗栗南庄線 5805A 規劃自竹南火車站至南庄遊客中心，沿途的風水山光展現了自然生態的生命力並可感受歷史悠久且濃厚的客家文化氣息。請問：該路線最有可能走在下列何種地形？



15. 小實參加某國家風景區一日遊，沿途造訪了許多特殊地質景觀，並欣賞漁村風光，例如：鼻頭角、龍洞灣、卯澳漁港、三貂角。請問：該風景區最有可能為下列何者？
(A)西拉雅國家風景區
(B)花東縱谷國家風景區
(C)雲嘉南濱海國家風景區
(D)東北角暨宜蘭海岸國家風景區。

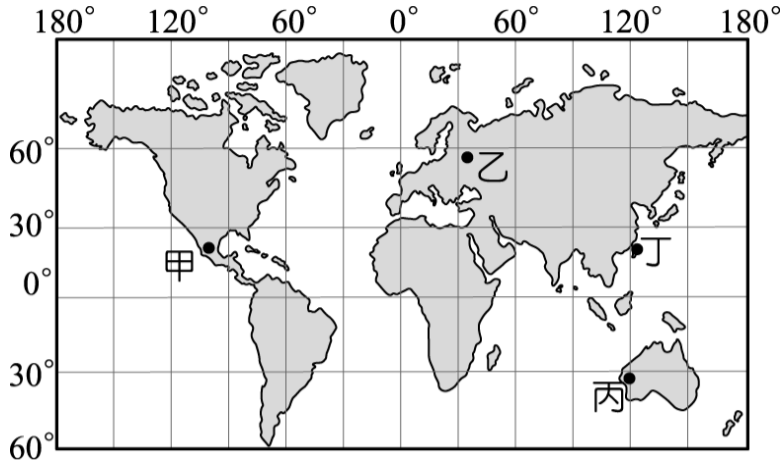
16. 附圖為沿東石至大港口所繪製的地形剖面圖，若依圖中資料判斷，該剖面線主要是沿著下列哪一條線所繪製？
(A) 25°N 緯線 (B) 23.5°N 緯線
(C) 120°E 經線 (D) 122°E 經線。



17. 臺灣面積約為 36,000 平方公里，其中山地面積即約占總面積的 70%，具有山地廣大、地勢高聳的特徵。請問：上述現象的成因與下列何者有關？
(A)水土流失 (B)板塊擠壓 (C)侵蝕旺盛 (D)堆積明顯。
18. 《台日漁業協議》是 2013 年我國在台日漁業會談後所簽署的文件，主要內容是台日雙方在未涉及彼此對各自主權的主張下，對重疊專屬經濟海域的漁業作業安排達成協議。依上文判斷，該協議最有可能是針對下列哪一個島嶼所討論的結果？
(A)琉球嶼 (B)馬祖列嶼 (C)澎湖群島 (D)釣魚台列嶼。
19. 20 世紀以來，科技、經濟的急遽發展，造成人們生活型態的改變，不僅衍生各種社會問題，更伴隨對環境資源、生物的衝擊與破壞，而「永續發展」即是對前述負面現象的反思。請問：下列何項政策最符合「永續」的精神？
(A)山區全面禁止開發，輔導農民轉行
(B)拓寬山區道路，增加民宿業者收入
(C)依法劃設保護區，並規範開放區域
(D)針對土石流災害，展開防砂壩工程。
20. 臺灣為全世界石斑魚主要養殖國家之一，根據農委會統計，2021 年我國石斑魚產量約 1 萬 6940 公噸，佔全球 1/4。請問：下列何者最有可能為石斑魚養殖最主要的縣市？
(A)基隆市 (B)屏東縣 (C)花蓮縣 (D)台東縣。
21. 為保育水土資源，涵養水源，減免災害，並促進土地合理利用，水土保持之處理與維護為台灣目前重要的政策。依上文判斷，下列何者為實施水土保持後所應產生的正面轉變？
(A)河川輸砂量增加 (B)地下水位下降
(C)河川流量更穩定 (D)流域面積縮小。

22. 氣候為長時間觀察的統計資料，通常用來反映當地的地理環境。請問：若氣象單位於附圖中四個海拔高度相近的地區進行測量，其中何處的「最冷月均溫」為最低？

(A)甲 (B)乙 (C)丙 (D)丁。



23. 附圖為台灣年等雨量線圖，依圖中資訊判斷，影響台灣各地降水分布不均的原因，與下列何者無關？

(A)地勢高低 (B)緯度高低 (C)季風風向 (D)迎風背風。



24. 中央氣象局統計，2022年1月1日至2月21日，基隆降雨日數共計47日，已創10年來最多雨日的紀錄。請問：下列何者與上述現象的關聯性最大？

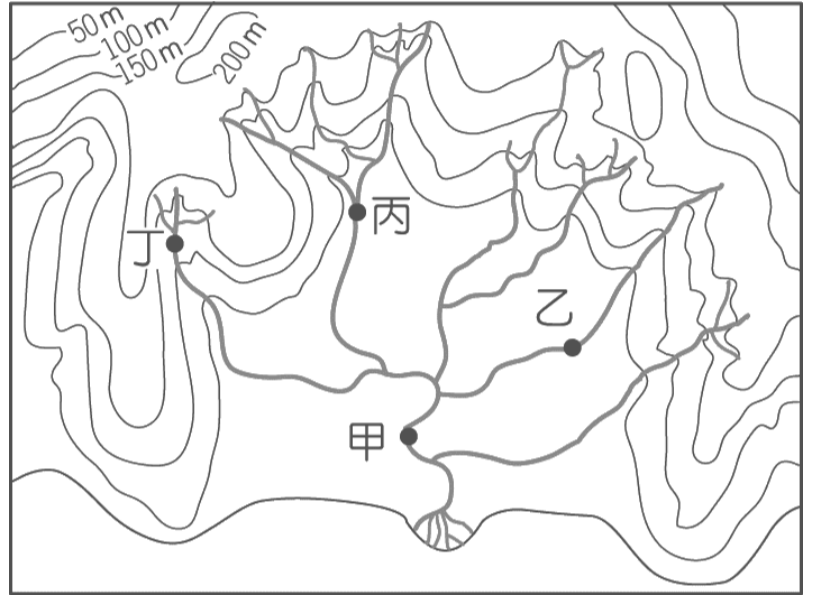
(A)鋒面長期滯留於北海岸
(B)全台各地冬季普遍多雨
(C)北部降水季節分布不均
(D)基隆位處東北季風迎風面。

25. 「由於產業發展、土地利用與水源供應間未能平衡考量，致超抽地下水而引發地層下陷及其所衍生災害，水利署歷年來陸續與相關單位共同積極推動各項防範與治理措施。」上文擷取自地層下陷防治網，依文中資訊推論，下列何者與地層下陷問題無關？

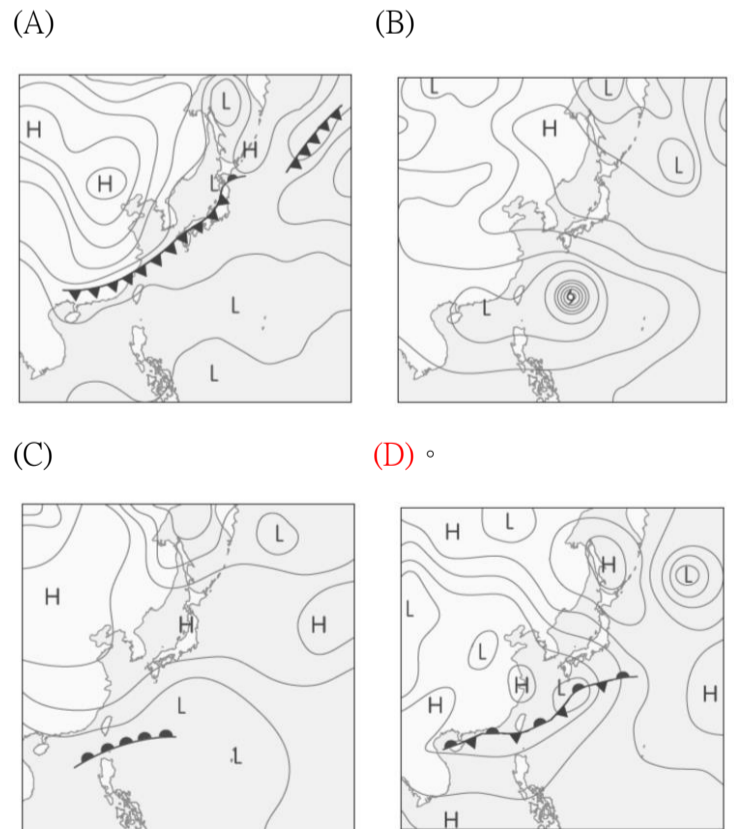
(A)西南部乾季較長
(B)河川流量變化大
(C)平均年降水量不足
(D)農、漁業需水量大。

26. 附圖為某水系分布圖，若要在河川上游興建水庫以保有穩定的用水來源，則下列何者考量最為適切？

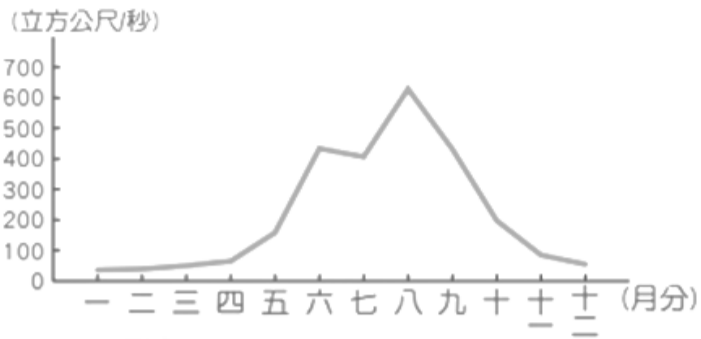
選項	水庫地點	考量原因
(A)	甲	地勢最低，居民取水方便
(B)	乙	位於支流，輸砂量較低
(C)	丙	位於主流，流量最大
(D)	丁	地勢較高，集水區較少開發



27. 「母親節全台雨神同行！明天起梅雨季第二道鋒面影響，天氣不穩，各地易有局部陣雨或雷雨。」上文擷取自某新聞報導，請問：該報導應以下列哪一張地面天氣圖來佐證？

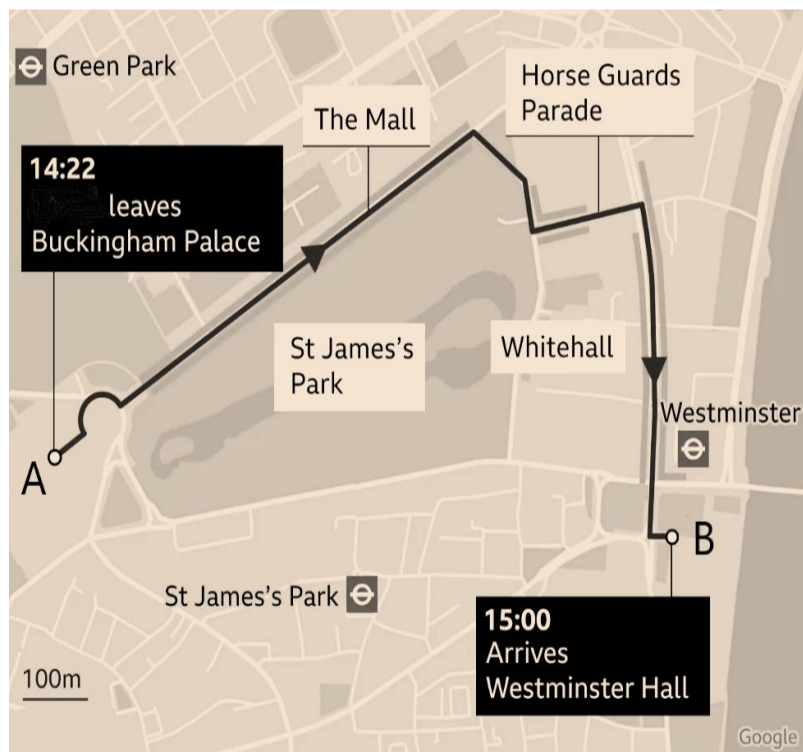


28. 附圖為台灣某河川的月平均流量變化圖，依圖中資訊推論，下列敘述何者正確？
- (A)該河川為流量最豐穩的淡水河
 (B)該流域的主要交通方式為航運
 (C)該流域應該是位於夏雨冬乾的北部地區
 (D)梅雨及颱風是該河川最主要的降水來源。



二、題組 (每題2分)

※英國女王伊莉莎白二世在 2022 年 9 月 8 日辭世，享耆壽 96 歲，女王的靈柩在倫敦時間 14 日下午舉行移靈儀式，2 點 22 分離開白金漢宮(Buckingham Palace)，途中經過林蔭路(The Mall)、騎兵衛隊閱兵場(Horse Guards Parade)、白廳(Whitehall)，約在下午 3 點抵達西敏廳(Westminster Hall)。路程中女王的 4 名子女，包含國王查爾斯三世以及威廉王儲、哈利王子等王室成員，步行在靈柩後頭，陪伴女王。倫敦市中心街道兩旁也擠滿人潮，前來送女王最後一程。移靈路線如附圖，請依此回答下列問題：



29. 台灣民眾如果想全程觀看女王移靈的現場直播，請問大約要在台灣時間幾點守在電視機前？
- (A)早上6:00 (B)早上 10:00
 (C)晚上6:00 (D)晚上10:00。
30. 當靈柩離開白金漢宮(Buckingham Palace)，行經林蔭路(The Mall)時，此時移動的路徑主要是朝哪個方位移動？
- (A)東北方 (B)西北方 (C)東南方 (D)西南方。

31. 終點站西敏廳(Westminster Hall)的相對位置可以如何表達？
- (A)位在白金漢宮(Buckingham Palace)的東北方
 (B)位在騎兵衛隊閱兵場(Horse Guards Parade)的北方
 (C)位在白廳(Whitehall)的南方
 (D)位在林蔭路(The Mall)的西方。
32. 倫敦市民若想伴隨著靈柩，從白金漢宮(Buckingham Palace)一路步行至西敏廳(Westminster Hall)，請問大約要步行多少公尺？
- (A) 500 (B) 1500 (C) 2500 (D) 3500。
33. 請問如果想了解倫敦市的氣候分區，應該在地圖中加入何項資訊？
- (A)方向標 (B)圖例 (C)經線 (D)緯線。

※新聞報導「大英國協陷入分裂？新一波「脫英潮」蓄勢待發。」大英國協(The Commonwealth)是一個由 56 個主權國家組成的國際組織(如附圖)，成員大多為英國以前的殖民地，遍佈亞洲、非洲、美洲、歐洲與大洋洲。大多數的大英國協成員都是獨立的共和國，但有 14 個國家仍保留了英國君主作為國家元首。英國前女王伊麗莎白二世過世後，大英國協內的許多成員國陸續傳出脫離，是否大英國已搖搖欲墜？請依此回答下列問題：



34. 請問下列大英國協的成員何地會比較早迎接新一年的到來？
- (A)澳洲 (B)印度 (C)南非 (D)加拿大。
35. 請問下列哪一個成員國位於大西洋的西側？
- (A)澳洲 (B)印度 (C)南非 (D)加拿大。
36. 請問哪一個成員國和台灣相同，位於東半球及北半球？
- (A)澳洲 (B)印度 (C)南非 (D)加拿大。

※美國眾議院議長裴洛西(Nancy Pelosi)於 2022 年 8 月 2 日訪問台灣後，中國即宣布在台灣周邊 6 個演習區(如附圖)進行了長達 72 小時的軍演，試圖全面封鎖台灣，以對裴洛西訪台進行報復。請依此回答下列問題：



37. 三天期間發動的實彈演習，其中位於台灣東部海域的落彈位置(圖中星號處)，因為相當接近台灣某個鄰國，引來該國嚴正關切，並譴責中國所稱「包圍台灣」的軍事演習已危害其國家與人民的安全。請問此國最可能是？

- (A)日本 (B)菲律賓 (C)越南 (D)南韓。

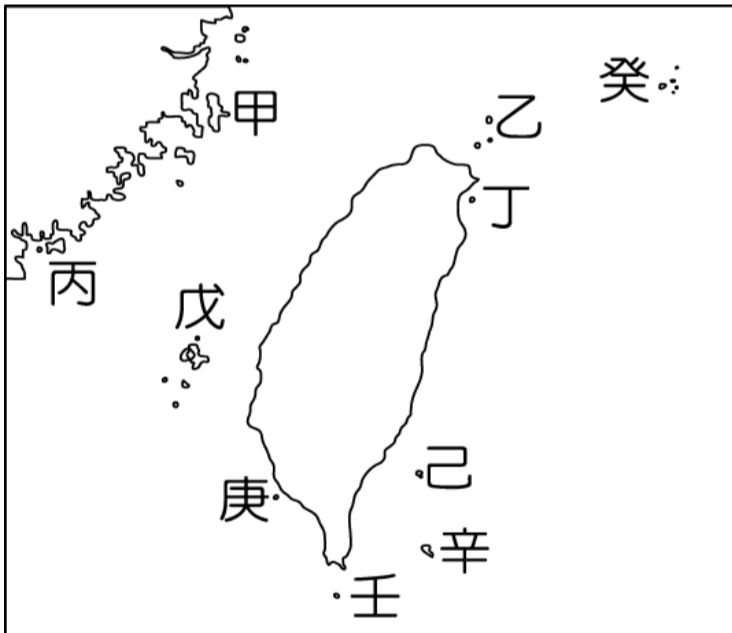
38. 此次軍事演習除了對台灣本島產生嚴重威脅外，也連帶影響到漁民出海作業的安全，對台灣周邊附屬的離島也產生重大影響。請問下列離島何者在此次軍演中受到的影響最小？

- (A)龜山島 (B)澎湖 (C)釣魚台 (D)太平島。

39. 外籍航空進入台北飛航情報區會被收一筆「過境航路服務費」，該筆收入在2019年達到巔峰，約24.1萬架次，收入24.1億元。中國此次橫跨3天的軍演，許多外籍航班選擇繞路躲開危險區域。據推估，約有800航班避開台北飛航情報區，若未來中國軍演成為常態，長久累積下來，損失相當可觀。請問此現象與台灣哪一項位置特性最相關？

- (A)位在熱帶、溫帶的交接處
 (B)位在寒暖流的交會處
 (C)位在東北亞、東南亞的交通樞紐位置
 (D)位在許多候鳥南北遷徙的路徑上。

※臺灣四面環海，周邊離島共有 80 多個，涵蓋各種不同類型的島嶼，因此觀光資源相當豐富。附圖為臺灣周邊主要島嶼分布示意圖，請依圖中資訊，回答下列問題：



40. 興雅旅行社設計了廣受歡迎的「台灣離島跳島行程」，附圖為該行程的簡介。依該圖及各島嶼的特色判斷，下列何者可列入此行程的考量範圍？

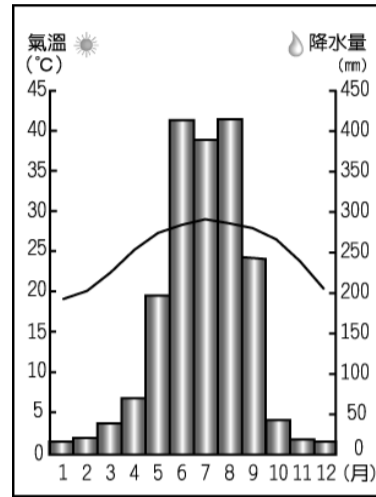
- (A)甲癸 (B)丙丁 (C)戊庚 (D)己辛。

★快速生成！火山熔岩造就的島嶼
 ★海底火山與地殼運動的具體見證！
 ★泉湧上流！海底溫泉大解密

41. 「人類從全新世中期躲開了冰河時期，大量的溫室氣體可能延後了冰河時期的來臨，至少延遲了10萬年。」上文擷取自《自然(Nature)》期刊所刊登的論文重點，若冰河時期再度來臨，導致海水面再度下降，則下列哪一個島嶼最有可能再度成為與陸地相連的丘陵？

- (A)甲 (B)己 (C)辛 (D)癸。

※下圖為台灣某城市的氣候圖，請依圖中資訊回答下列問題：



42. 下列有關於該城市氣候資料的統計數據，何者正確？

	項目	數據
(A)	年均溫	28°C
(B)	最冷月均溫	21°C
(C)	最暖月均溫	32°C
(D)	年降水量	1,784mm

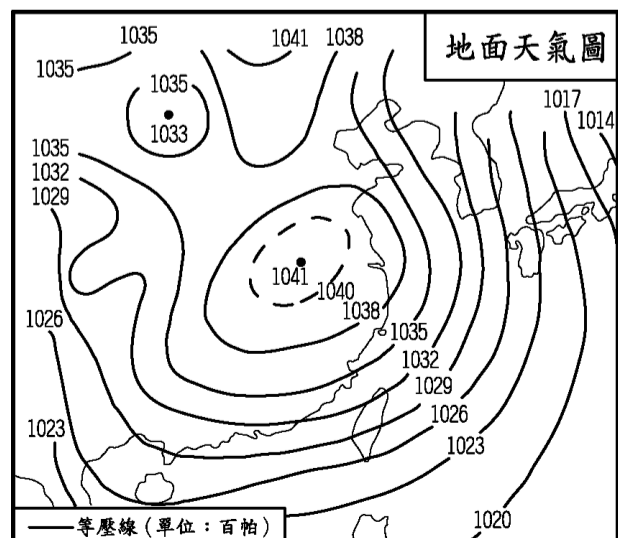
43. 該城市最有可能位在下列哪一個地區？

- (A)北部 (B)中部 (C)南部 (D)東部。

44. 每年冬季至隔年春季，該城市最有可能因當時好發的天氣災害而採取下列何種應變措施？

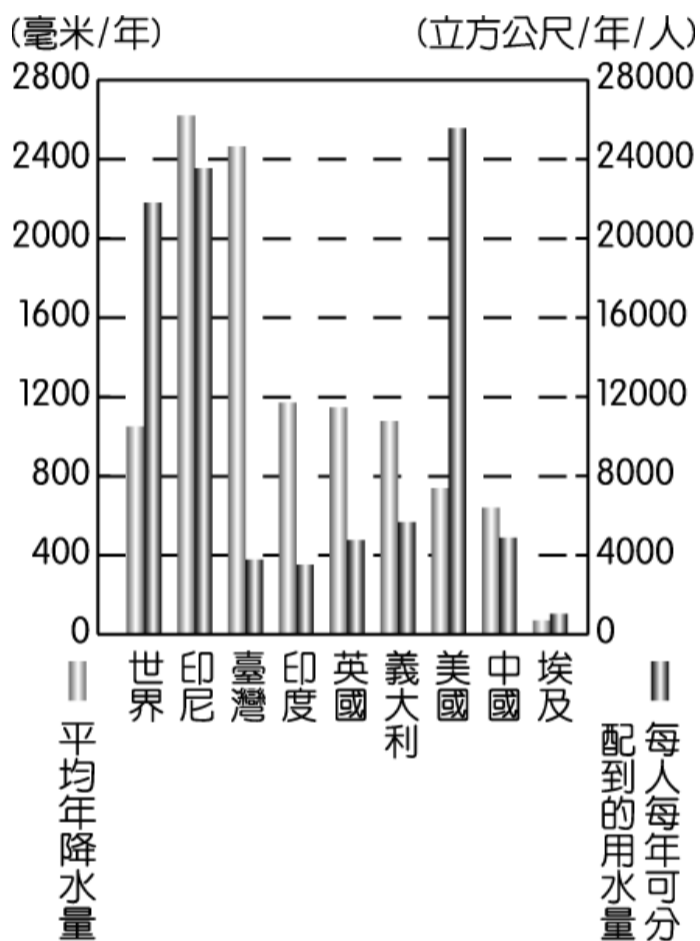
- (A)停止上班上課 (B)分區輪流供水
 (C)撤離山區部落 (D)河川汙染管制

※下圖為東亞某日的地面天氣圖，請依圖中資訊回答下列問題：



45. 下列何者最有可能是該圖所呈現的時間？
 (A)1月 (B)4月 (C)7月 (D)10月。
46. 承上題，當時台灣各地氣象觀測站的風向計大多指向哪一方？
 (A)東南方 (B)西南方 (C)東北方 (D)西北方。
47. 下列何者最有可能是台灣當時氣象預報的標題？
 (A)高壓持續壟罩，上升氣流旺盛發展
 (B)大陸冷氣團來襲，北部低溫下探9度
 (C)颱風引進西南氣流，迎風面嚴陣以待
 (D)今明兩日低壓影響，中南部高溫炎熱。

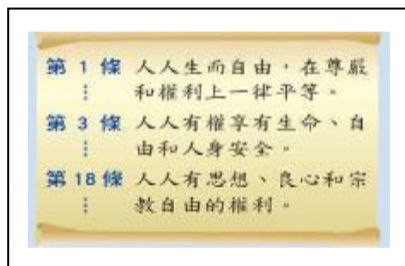
※下圖為台灣與各國水資源比較圖，請依圖中資訊回答下列問題：



48. 有關台灣水資源的敘述，下列何者正確？
 (A)存在水資源短缺的潛在危機
 (B)水災頻繁因此水資源充足無虞
 (C)平均每月降水量約為2400毫米
 (D)平均年降水量低於世界平均值。
49. 下列何者與該圖所呈現的現象密切相關？
 (A)台灣河川源遠流長
 (B)台灣河川坡陡流急
 (C)台灣取得水資源的成本較低
 (D)台灣海岸線長度高於世界平均。
50. 針對該圖所呈現的問題，下列何者為台灣目前水資源合適的開發方式？
 (A)北部大規模抽取地下水
 (B)河川下游做好水土保持
 (C)山區設立水庫以穩定水源供應
 (D)減少攔河堰以恢復河川自然生態。

一、選擇題

1. 德國基本法第 1 條第 1 項即明示：「人性尊嚴不可侵犯。」許多國家也透過保障人權來維護人性尊嚴。下列關於人性尊嚴與人權的相關敘述，何者正確？ (A)人權是抽象的概念，須透過維護人性尊嚴來加以彰顯 (B)人性尊嚴是與生俱來的，人權是後天法律明文賦予的 (C)人性尊嚴是身為人的根本，維護人權則是普世的價值 (D)人是群體動物，須透過遵守群體規範才得以維護尊嚴。
2. 我國已實施的病人自主權利法，讓民眾得以預立醫療決定的方式，來決定自己面臨病危時，是否選擇以積極治療的方式來延續生命，並保障其善終的權益。請問：該部法律的立法與實施，得以彰顯下列何者精神？ (A)讓民眾決定自己的生與死 (B)減輕醫師醫療疏失的責任 (C)保障民眾的醫療自主權 (D)將醫療決策權完全交給病人。
3. 隨著網路科技的發達，大量的數據資料可在網路上永久留存，也讓個人的正面或負面評價永存於網路世界中，因此，人們開始要求自己要有「被遺忘權」，即自己有權移除個人過時或負面的身分資訊搜尋結果，以保障自身的私密生活資訊不被他人知曉。若從人性尊嚴的意義來看，下列何者符合「被遺忘權」的意涵？ (A)個人應擁有私密生活的資訊自決權 (B)凡走過必留下痕跡，歷史不容抹滅 (C)搜尋引擎應滿足社會大眾知的權利 (D)網路只應保存社會大眾的正面資訊。
4. 小新在網路上搜尋到聯合國於 1948 年通過的文獻，它是第一部完全獲得國際認可的人權文件。請問：該文件是指下列何者？ (A)世界人權宣言 (B)聯合國共同宣言 (C)公民與政治權利國際公約 (D)經濟社會文化權利國際公約。



6. 依據性別平等教育法的規定，當校園中發生性騷擾、性侵害等性平事件時，須依下列程序處理：【甲】提出申訴→【乙】受理→【丙】調查輔導→向教育主管機關彙報。文中甲、乙、丙依序為下列何者？ (A)被害人或檢舉人、學生事務處、性別平等教育委員會 (B)被害人或其父母、輔導室、性別平等教育委員會 (C)被害人或檢舉人、教務處、學生獎懲委員會 (D)檢舉人、學生事務處、學生獎懲委員會。
7. 承上題，下列何種情形適用性別平等教育法處理？ (A)王校長對江老師開黃腔，讓江老師覺得不舒服 (B)張同學搭捷運時，趁機偷摸他校陳同學的臀部 (C)曾老師屢向王老師表達愛意，王老師不堪其擾 (D)王生家長到校參加校慶活動，言語騷擾吳同學。
8. 同酬日是以當年兩性平均時薪差距計算自隔年 1 月 1 日起女性需增加之工作日數。依主計總處 110 年薪資統計初步結果，我國女性平均時薪 304 元，為男性 361 元之 84.2%，兩性薪資差距為 15.8%，換言之，女性較男性需多工作 58 天，才能達到整年總薪資相同，因此 111 年「同酬日」為 2 月 27 日。依據上文判斷，下列何者為是？ (A)我國社會深受性別刻板印象的影響 (B)我國性別不平等的情形正逐年改善 (C)我國社會仍舊存在著性別歧視情形 (D)我國社會已朝向性別平等目標邁進。
9. 報載：高雄一間咖啡店日前在徵人廣告上寫著「限女性」遭人檢舉，事後高雄市政府認定店家違法，裁處店家 30 萬元罰鍰。請問：下列何者狀況也可能違反上述法律而遭到處罰？ (A)法律事務所聘用有合格律師執照的律師 (B)房屋仲介公司歡迎家庭主婦(夫)二度就業 (C)雇主無合理原因不准員工申請育嬰留職停薪 (D)公司設置哺乳室，讓有需要的員工自由使用。
10. 阿福和德德是有親屬關係的人，以下是兩人的對話。
阿福：「我的叔叔是你的爸爸。」
阿福：「那麼我的媽媽就是你的(甲)了。」
德德：「原來我們的媽媽是(乙)，在法律上屬於(丙)關係！」請根據兩人的對話判斷甲乙丙依序分別為何？ (A)孀孀、妯娌、姻親 (B)伯母、妯娌、姻親 (C)阿姨、妯娌、姻親 (D)孀孀、連襟、姻親。
11. 「收養」是指透過法律程序建立的親子關係，依我國(甲)法規定，若要收養必須向(乙)提出聲請。請問：上述中(甲)、(乙)依序應填入何者？ (A)憲法、戶政機關 (B)憲法、法院 (C)民法、戶政機關 (D)民法、法院。

12.「依教育部統計，新住民子女就讀國中小人數為 21 萬人，每 10 名國中小學生，就有 1 人是新住民子女。」請問：下列阿茂的同學中，何者的家庭正是上述所說的新住民家庭？

- (A)阿雄的爸爸再婚，家庭成員增加了繼母一位
(B)小孟的爸媽在中國工作，他與祖父母一起住
(C)阿美的媽媽是越南人，爸爸是本國國民
(D)小英的母親去世後，她與父親相依為命。

13.為維護社區治安、關懷居民，林警員於轄區進行家戶訪查以下某住戶的資料。根據內容對該家庭型態判斷，下列敘述何者正確？

※家庭成員：

先生 一本國籍；職業－聯結車駕駛

太太 一本國籍；職業－護理師

兒子 一本國籍；就讀國中一年級

※概況：

夫妻雙方均在外縣市工作，每天通勤上班。

太太是再婚，兒子是前次婚姻與印度籍丈夫所生。

家庭和諧互動良好。

- (A)家庭人口簡單，屬折衷家庭 (B)雙薪收入穩定，屬頂客家庭 (C)兒子為前次婚姻所生，屬繼親家庭 (D)夫妻均在外縣市上班，屬通勤家庭。

14.小丸子透過「失蹤老人協尋中心」張貼了海報(如下圖)，想要找尋因失智而走失的獨居爺爺友藏。請問：會發生這樣的情形，說明家庭的哪一項功能「沒有」充分發揮？(A)生育功能 (B)保護與照顧功能 (C)教育功能 (D)經濟功能。

失蹤老人協尋中心 照亮回家的路

姓名；友藏 年齡；70 歲 失蹤時間；約一個月 身體特徵；禿頭、中等身材 失蹤時穿著；白色襯衫

15.隨著社會變遷，家庭原有的重要功能也受到衝擊。請問：下列敘述何者有誤？

- (A)教育機構的普及，部分取代了家庭的教育功能
(B)安養機構的設立，部分取代家庭的保護照顧功能
(C)家庭原有的經濟功能，已從消費轉為著重生產
(D)一些夫妻不願生兒育女，弱化了家庭的生育功能

16.下列選項中，屬於頂客家庭的有哪些？(甲)在同一家公司上班的桐人與亞絲娜結婚後決定不生小孩 (乙)小

新婚後與老婆各自有自己的工作，還養了一隻寵物小白 (丙)沒工作也沒小孩的小美和她的先生住在一起(丁)為了養小孩而一起出去工作賺錢的周氏夫妻。

- (A)甲 (B)甲乙 (C)甲乙丙 (D)甲乙丙丁

17.下列關於家庭型態的敘述，何者正確？

- (A)家庭型態通常依人數區分大家庭與小家庭
(B)小家庭通常又可稱為血緣家庭及核心家庭
(C)不同的家庭型態通常有不同的難題要面對
(D)每個人所屬的家庭型態通常是固定不變的

18.當家人之間發生衝突，下列何種態度通常較有助於化解衝突？(A)家人之間衝突時應控制情緒，並在雙方冷靜後，積極討論溝通 (B)家人間應隱藏情緒，凡是聽從父母長輩的意思就可以避免爭執 (C)衝突發生後，避免與對方交談，時間久了，衝突就能迎刃而解 (D)家人應該是最懂自己的人，堅持自己的想法，遲早會被接受。

19.求好心切的爸爸阿文，因不滿女兒玟婕表現不佳，接連以棍棒毆打或言語恐嚇之類的對待，導致玟婕受傷，被法院判處 1 年有期徒刑。有關父母親權的行使，下列何者錯誤？(A)子女年幼時，父母親有養育子女的義務，如果父母沒有讓此功能發揮，會遭受法律處罰 (B)子女有違法行為時，父母有管教的權利，若權利行使過當，亦可能遭受法律限制親權行使 (C)文中的父親因管教權行使過當造成孩子受到傷害，其母親可向法院主張剝奪父親親權 (D)親子間的權利義務規範在我國刑法，其目的是希望透過法律規範，使家庭成員相互扶持。

20.民法與家庭暴力防治法皆為與家庭生活有關的法律，下列關於兩者間的異同，何者正確？

- (A)前者規範日常生活，後者處理特殊事件
(B)兩者規範的對象僅限於目前同住的家庭成員
(C)前者規範的是責任，後者規範的是權利
(D)兩者都藉由保護令制度來幫助處理家暴案件。

21.下列四位同學對於家庭暴力的敘述，何者有誤？

- (A)雪齡：「這只是家務事而已，應自己解決就好，警察法官等外人應該無權過問。」
(B)欽育：「可以透過警察單位或縣(市)政府社會局(處)，來保護自己與家人。」
(C)宗翰：「若發生家暴事件，應該依照家庭暴力防治法，向法院聲請保護令才對。」
(D)泰權：「若發現家暴案件時，可以打 110 報警，或可撥打 113 保護專線尋求協助。」

22.當夫妻離婚後，對於子女的監護權，以往多由男方取得，而現行法律則規定，夫妻離婚之後，子女監護權應由何人取得？

- (A)由父母決定，不考量子女意見
(B)將依照子女意願選擇來判斷

- (C)家世背景與教育程度較高者
(D)法官會依子女最佳利益為考量。
23. 王曉東是個易發怒的孩子，老師推薦他去參加一個小組課程，在課程中他學會遇到衝突時要先冷靜情緒再思索解決之道，進一步化解與對方的誤會。根據內容判斷，這個小組課程主要可以協助曉東提升哪方面的能力？ (A)參與公共事務 (B)培養人際互動 (C)挖掘自我潛能 (D)追求適性學習方法。
24. 石大南的學習意願低落，課業成績也不見起色，每天都想逃避上學。一天在家政課的烹調活動中，他不但全程用心投入，樂在烹飪中，還在心裡暗自立誓，未來一定要成為中餐主廚。請問：對石大南而言，這門家政課展現了學校課程的何種目的？ (A)發掘潛能展現自我 (B)追求適性的學習方法 (C)培養良善人際互動能力 (D)學習參與公共事務的知能。
25. 政府為了保障學生的學習權益，明確規範校園中的學生權利，下列關於學生權利的敘述，何者最為正確？ (A)上課不喧鬧是確保其他同學的學習權 (B)教師可視教學需要在臉書公開學生交友狀況 (C)會傷害學生身體自主權的行為就是霸凌行為 (D)學生攜帶違反校規的物品到校時，老師可將該物品沒收。
26. 旺旺兌因頂撞師長而被記兩支大過，他心有不服，請問：旺旺兌應用何種最適宜的方式來爭取自己的權利呢？ (A)口頭向輔導室申訴，要求學校平反其權利(B)打1999專線，要求嚴懲該位師長 (C)要有不斷申訴的決心，直到學校更改懲處為止 (D)向學生申訴評議委員會提出申請。
27. 隱私權是人格權的一部分，為了協助學生養成健全的人格，每個人都有維護自身隱私權的權利，下列關於隱私權的敘述，何者正確？ (A)班級竊盜案件，老師可以視狀況搜索同學們的書包 (B)除了法定違禁品外，教師不得任意沒收同學財物 (C)未經同學同意，不可擅自翻閱同學的課堂筆記 (D)同學間不得以任何理由做出校園霸凌行為。
28. 曉萱常帶著一群同學去嘲笑身材矮胖的甜甜，又要求其他同學於下課時間不可和甜甜交談……關於曉萱行為的敘述下列何者正確？ (A)曉萱已對甜甜構成關係霸凌與肢體霸凌 (B)曉萱的行為可能影響甜甜在校活動的進行 (C)曉萱的行為僅觸犯校規，尚不涉及國家的法律 (D)曉萱的行為可能已構成甜甜財產與生理上的損害。
29. 校園的公共事務會因涉及的對象及適用範圍的不同，可以參與決定的人也會不同。下列何項公共事務，適合由全年級共同決定？ (A)班級公約 (B)新校長的人選 (C)營養午餐的外包廠商 (D)七年級校外教學的地點。
30. 在校園中，我們常常透過班會來討論與決定班級的公共事務，下列關於班會進行時人員的工作職掌，何者正確？ (A)司儀須宣布開會與宣讀流程 (B)導師須裁決權宜問題與秩序問題 (C)主席應公正的主持會議且賦予會眾發言地位 (D)紀錄應詳實記載開會狀況與擾亂會議秩序的成員名單。
31. 開班會時，筱彤臨時【甲】寒假時全班一起出遊，主席一聽到這個動議，認為班上同學應有共識會多數贊成，因此裁定進入表決，此時心立立刻舉手口呼【乙】……請問：【甲】、【乙】應分別為下列何者？ (A)提案、權宜問題 (B)動議、權宜問題 (C)提案、秩序問題(D)動議、秩序問題。
32. 多數決是民主社會最常採用的表決方式，但不是所有的事情都適合以多數決決定。請問：下列何者不適合以多數決的方式決定？ (A)班級票選班服樣式 (B)地方人民選舉地方首長 (C)立法院修法調高所得稅率 (D)班級禁止成績未達標準的同學參加班遊。
33. 報載：「彰化縣和美鎮的還社社區，居民們在經過長期的社區營造後，不僅以自己的家鄉為榮，更透過卡里善之樹、彩虹傘巷等裝置藝術，吸引許多海內外遊客慕名而來，許多年輕人也紛紛返鄉創業，讓這裡越來越有活力。」根據內容判斷，該社區成功的營造經驗，主要可歸因於下列何者？(註：和美鎮古名「卡里善」，過去紡織、製傘業相當興盛，卡里善之樹即是以七色傘花裝飾而成的彩虹樹。) (A)居民凝聚的社區意識 (B)地方傳統古蹟的保存 (C)地方產業升級的推動 (D)地方政府成立的社區組織。
34. 美好的社區生活需要居民積極地投入社區參與，提升社區生活品質。下列關於社區參與的敘述，何者最為適當？ (A)自掃門前雪是基本條件 (B)是由政府帶領當地居民共同參與 (C)是居民以實際行動投入社區事務 (D)社區巷口開設早餐店也是一種參與模式。
35. 下表是張星雅在精神狀態不佳時整理的公民筆記，其中有一處寫錯了，請你幫他找出錯誤處。

項目	社區	部落
(A)居民關係	有共同關係	族群、文化共同性高
(B)組成方式	依法核定	自然形成
(C)互動模式	守望相助	共工共享
(D)事務決定	社區組織	部落會議

36. 每年七月小米收割後，太魯閣族便會舉辦祖靈祭，祭典當日天未亮時，部落中的男子均應抵達祭場，每人手持插有黏糕、豬肉之竹棒，是為奉獻祖靈之供品。祭典完畢，須當場食用完祭品，且沿途返家時需越過火堆，而與祖靈分離。依據上文內容敘述，可見部落對原住民族的哪種重要性？ (A)傳統信仰中心 (B)基本政治組織 (C)生產分配中心 (D)語言文化傳承。

37. 原住民運動是原住民為爭取身分認同、權益保障而發起的自覺運動。長期以來，許多國家政策限制甚至壓迫著原住民族的傳統生活領域與生活方式，促使原住民族透過公共參與來面對自身遭遇的危機，要求政府具體改善相關政策與措施，以維護原住民族的基本權利。下列關於政府針對原住民族訴求的相關回應，哪一項有誤？ (A)成立原住民族委員會，負責處理與原住民族權益相關的事務 (B)確認原住民族自治權，不論政府或私人欲使用原住民族的資源，皆須與原住民族或部落諮商 (C)制定原住民族基本法，保障我國各族群的語言，使各族群固有語言得以列入我國學校教育的部定課程 (D)將具有歧視意涵的「山地同胞」用語正名為「原住民族」，並恢復原住民族傳統人名使用以及恢復部落地方命名。
38. 台中市和平區的達觀部落，歷經921大地震後重建，族人們決議成立「深耕德瑪汶協會」，利用部落土地共同耕種，並以自然農法來生產對環境友善的蔬菜水果。生產的農作物則由部落廚房烹煮，除了提供來訪遊客最新鮮的部落食物，也為族中的老弱送餐，落實泰雅族傳統「gaga」(意為祖訓或誠律規範)的精神。依照上文敘述，下列何者非達觀部落的特色？ (A)精彩熱鬧的原民祭典 (B)部落族人的互助扶持 (C)重視土地的生態平衡 (D)共耕共享的經濟制度。

二、題組

「#Me Too」是由美國好萊塢影星引爆的反性侵、反性騷運動，許多人紛紛勇敢說出自己曾受性侵害或性騷擾的遭遇，希望藉此讓世人正視這些問題的嚴重性，並進一步朝向終止性別暴力目標邁進。

之後，日本模特兒兼作家石川優實創立了「#KuToo」這個標籤，她把日文的鞋子(kutsu)和苦痛(kutsuu)的發音與「#MeToo」結合，抗議日本女性在工作時須穿高跟鞋，呼籲日本政府應明文禁止雇主要求女性員工穿著特定鞋子上班。然而，日本前厚生勞動大臣根本匠卻表示，女性在工作場合穿著高跟鞋「是必要且適當」的。請問：

39. 從性別平等的角度來檢視「#KuToo」運動，下列何者正確？ (A)日本官員根本匠的話語中，對女性帶有性別歧視意味 (B)男女身高的平均差異，可透過高跟鞋的高度將之補齊 (C)要求女性穿著高跟鞋，違背需求滿足的公平檢視原則 (D)女性工作時穿著高跟鞋，可展現其職場地位的優越性。
40. 檢視「#Me Too」與「#KuToo」運動的精神，下列何者是其共通點？ (A)破除性別刻板印象 (B)區分生理性別與社會性別 (C)督促政府立法保障性別平權 (D)保障基本人權、維護人性尊嚴。

【解答】

1~5	CCAAB
6~10	ABCCB
11~15	DCCBC
16~20	BCADA
21~25	ADBAA
26~30	DCBDC
31~35	DDACB
36~40	ACACD