

臺北市立興雅國民中學110學年度第二學期八年級歷史科補行評量講義

一、選擇題：

1. () 某書提及：「清廷想收回民間集資興建鐵路的權利，所以針對民間已投資者提出補償：在湖南、湖北，投資金額全數償還；在廣東，僅償還60%，其餘40%由政府股票支付；在四川，政府僅發給股票。這種處置引起四川士紳激憤，朝廷為控制騷亂，將部分湖北軍隊調往四川。」上述情況最可能為下列何者的發生提供了機會？
(A)自強運動 (B)戊戌政變 (C)武昌起事 (D)義和團事變
2. () 民國初年，有位著名學者徵求結婚對象，他開出下列條件：「必須不纏足；必須識字；如相處不睦，可以離婚。」條件提出後，引起時人討論，有人認為傷風敗俗，也有人認為開風氣之先。請問：這些婚配條件，與下列哪一思想發展有關呢？(A)白話文開始流行 (B)兒童文學的產生 (C)引入共產主義思想 (D)男女平等觀念風行
3. () 某位歷史學者指出，在這場發生於歐洲的大戰中，英軍自中國招募了近10萬人，法軍則招募了4萬人，這些人多數是不識字的農民或貧民，也有少數知識分子。請問：這場大戰，最有可能爆發於下列哪個時期呢？
(A)1810年代 (B)1850年代
(C)1910年代 (D)1950年代
4. () 清末國勢不振，袁世凱因能力出眾而得到編練新式軍隊的機會，進而掌握軍事權力後崛起，陸續擔任民國的臨時大總統、正式大總統。請問：袁世凱成為臨時大總統與其掌握軍事權力有何關係？(A)袁世凱利用武力推翻中華帝國 (B)袁世凱利用武力逼迫溥儀退位 (C)袁世凱利用武力逼孫中山讓位 (D)袁世凱利用武力護衛革命活動
5. () 中國近代史上某一時期，曾有教授和大學生主張以口語化的新文學取代舊式古典文學，並有意識地反對許多傳統觀念與習俗，將婦女從傳統束縛中解放出來。這樣的主張應出現於下列何時？(A)自強運動 (B)百日維新 (C)立憲運動 (D)新文化運動
6. () 1952年6月，某國艦隊司令來臺後，在會議中致詞：「目前本艦隊雖在韓國負有作戰任務，好在距離不遠，如能預知匪犯臺灣之行動，至少兩日即可趕來協助。」請問：這位艦隊司令最有可能來自下列哪一國家？(A)英國 (B)日本 (C)韓國 (D)美國
7. () 新文化運動時期的德先生和賽先生指的是下列何者？
(A)民族、理性 (B)民主、工業
(C)民主、科學 (D)民族、科學
8. () 「立憲」與「革命」為清朝末年兩條主要的救國途徑，但最後兩者合而為一，共同為革命而奮鬥。請問：讓立憲派人士大失所望，轉而支持革命的因素為何？
(A)皇族內閣
(B)辛丑和約的恥辱
(C)日俄戰爭日本獲勝
(D)廣州黃花岡之役的壯烈犧牲
9. () 宣統3年，清廷宣布鐵路國有政策，強行將民間集資興建的鐵路收歸國有，引發投資士紳的反對，其中以哪一省的抗爭最為激烈？
(A)湖北省 (B)湖南省 (C)廣東省
(D)四川省
10. () 在五四運動中，以簡明有利的白話文作為宣傳的有利工具，使五四愛國運動得到各界熱烈的回響。請問是誰提倡書寫通俗、寫實、白話的文學，取代中國傳統文言文書寫文題？(A)陳獨秀、胡適 (B)段祺瑞、黎元洪 (C)孫中山、黃興 (D)張作霖、袁世凱
11. () 「他們的外交大勝利了，我們的外交大失敗了」中的他們是指哪一國家藉機對德宣戰，出兵進占德國在中國的勢力範圍？(A)英國 (B)法國 (C)日本 (D)俄國
12. () 民國初年，某位學者了解到孩子自有其世界，並非「縮小的成人世界」。因此呼籲注重兒童遊戲的重要性，宣稱「遊戲是兒童最正當的行為，玩具

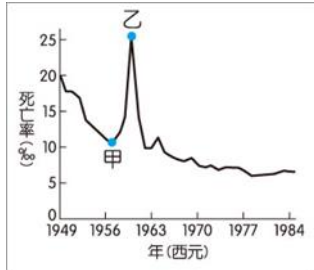
是兒童的天使」。請問：這段言論，最有可能出自下列何人？ (A)魯迅 (B)康有為 (C)梁啟超 (D)陳獨秀

13. () 「國民政府宣布將遷都□□，以西南各省做為抗戰大後方，並利用中國廣土眾民的條件，制定長期抗戰方針。」請問：□□是指哪一個都市？ (A)南京 (B)成都 (C)重慶 (D)北平
14. () 靜怡在書中看到一段話：「民國 20 年，日軍自行炸毀瀋陽附近的一段鐵路，然後藉口是中國軍隊所為，立即發兵進占東北。由此可知日本對中國的侵略野心。」以上的內容，敘述的應該是下列哪一事件的發生經過？ (A)牡丹社事件 (B)西安事變 (C)九一八事變 (D)滿洲國成立
15. () 現居臺中的張爺爺，年輕時在上海是位理髮師。他回憶：局勢動盪後，理一次髮原本是 55 元，不到一個月理髮價已是 550 元，再隔一個月，必須收費 1,260 元，才能維持基本生計。請問：張爺爺年輕時所遇到的情況是？ (A)民國創立初期貨幣混亂 (B)北伐時期貨幣貶值 (C)國共內戰激化導致通膨 (D)美國斷交貨幣貶值
16. () 在「舊傳統與新思潮」單元上完後，如果想了解更多新文化運動的相關內容，應優先查閱下列哪項刊物？ (A)申報 (B)新青年 (C)萬國公報 (D)點石齋畫報
17. () 學界雖對這項國際會議仍有討論，不過國民政府在會議上取得美國總統羅斯福的支持。遂於會議的次年，設立了臺灣調查委員會，進行接收臺灣的準備工作，這也是國民政府對臺政策轉趨積極的重要開端。請問：這項國際會議，最有可能是下列何者？ (A)巴黎和會 (B)開羅會議 (C)雅爾達會議 (D)聯合國大會
18. () 2019 年 12 月報載，婦女救援基金會將紀錄片阿媽的秘密原始膠捲捐贈給國家電影中心。婦援會表示，本片忠實記錄戰時受害者臺灣阿嬤們的故事。請問：該片的主題，最有可能是下列何者？ (A)南京大屠殺 (B)珍

珠港事變 (C)核爆受難者 (D)慰安婦事件

19. () 毛澤東執政時，喊出經濟上「超英趕美」的口號，在外交上逐漸則想擺脫下列哪個國家的約束呢？ (A)美國 (B)蘇聯 (C)英國 (D)法國
20. () 二十世紀起，美國積極介入國際事務。1950 年代起，東亞某一場以美軍為主力的軍事行動中，美國除了原子彈沒有動用外，幾乎把當時的尖端武器如直升機等都用了，也付出三十多萬傷亡的代價，最終還是被迫撤離。請問：這場軍事行動的地點，最有可能是下列何地？ (A)朝鮮半島 (B)菲律賓 (C)越南 (D)泰國
21. () 1954 年，美國某位國務卿召開記者會，宣告即將與中華民國外交部部長簽約，是要讓兩國未來的共同軍事合作，能有長期正式條約作為依據。請問：該約最可能為下列何者？ (A)開羅宣言 (B)臺灣關係法 (C)雅爾達密約 (D)中美共同防禦條約
22. () 有位中國老農夫回憶：「當時人人將鍋、鏟全丟進煉鐵爐燒煉。因為上級交代蓋一條用來運鋼的道路，所以只好將墓塚石頭拿去墊路基，但我們一直沒有煉出夠多的數量，讓卡車來載運。」請問上述情況最可能發生在哪一時期的中國？ (A)1850 年代 (B)1900 年代 (C)1950 年代 (D)2000 年代
23. () 某書提及：「清廷想收回民間集資興建鐵路的權利，所以針對民間已投資者提出補償：在湖南、湖北，投資金額全數償還；在廣東，僅償還 60%，其餘 40%由政府股票支付；在四川，政府僅發給股票。這種處置引起四川士紳激憤，朝廷為控制騷亂，將部分湖北軍隊調往四川。」上述情況最可能為下列何者的發生提供了機會？ (A)自強運動 (B)戊戌政變 (C)武昌起事 (D)義和團事變
24. () 右圖是參考某段期間中國人口死亡率估算值而繪製的曲線圖，圖中甲、乙二點

之間死亡率的變化，最可能與下列何者有關？ (A)人民響應抗美援朝，參與韓戰而造成傷亡慘重 (B)大躍進運動期間，政策失當所導致的嚴重饑荒 (C)文化大革命時，紅衛兵鬥爭造成眾多人口死亡 (D)六四天安門事件爆發，政府鎮壓大量抗議群眾



25. () 武昌起事後，成功推翻清廷，建立民國。但民初政局仍動盪不安，其原因來自下列何人缺乏維護共和體制的信念，推動擴充總統職權後，更想恢復帝制？ (A)孫中山 (B)袁世凱 (C)蔣中正 (D)梁啟超

臺北市立興雅國民中學 110 學年度第 2 學期八年級地理科補行評量講義

年 班 號 姓名：

一、單選題

1. 第二次世界大戰後，南韓與台灣的經濟發展途徑最為接近，因此兩國也時常相互比較與競爭。下表為兩國目前各項條件的對比，請問：表中資料何者正確？
(A)甲 (B)乙 (C)丙 (D)丁。

	(甲) 國家體制	(乙) 地形種類	(丙) 氣候類型	(丁) 發展重點
台灣	民主	山地為主	季風氣候	高科技業
南韓	共產	平原為主	乾燥氣候	高科技業

2. 附圖為東北亞板塊分布圖，請問：日本的哪一項地理特性，與該圖呈現的內容**無關**？
(A)氣候類型複雜 (B)山脈面積廣大
(C)火山活動活躍 (D)地震災害頻繁。



3. 南韓有句俗話說：「泡菜是半個糧食」。不管多奢華的宴會飲食，餐桌上也少不了泡菜，尤其過冬之前是醃泡菜的季節，傳統上每家大約要醃100~150顆白菜。請問：這種習俗主要是因南韓何項環境特色而形成？
(A)梅雨季長，食物保存不易
(B)冬季嚴寒，缺乏新鮮蔬菜
(C)降水量少，無法種植作物
(D)夏季酷熱，食物容易敗壞。
4. 櫻花是日本的國花，賞櫻更是日本人春季的一大盛事，稱之為「花見(Hanami)」。請問：若想安排日本賞櫻行程，且能夠沿途欣賞逐步盛開的櫻花，旅程的順序應該如何安排？
(A)北海道→本州→九州→四國
(B)本州→九州→四國→北海道
(C)九州→四國→本州→北海道
(D)北海道→本州→四國→九州。
5. 「日本任天堂的Switch遊戲機深受消費者喜愛，美國與歐洲為前兩大市場，占逾半核心營收。然而，新冠肺炎疫情期間，部分工廠的營運受到影響，導致switch在中國及東南亞的零組件供應商產能大幅下降。」上述擷取自某篇新聞報導，請問：日本將switch的生產線轉移至海外的原因，與下列何者有關？
(A)獲取產品專利 (B)國土空間不足
(C)國內缺乏礦產 (D)降低薪資成本。

6. 自古以來，魚、貝類一直是日本人最重要的動物性蛋白質來源，甚至創造一百多個以魚為部首的漢字，如鮭、鯊、鯖、鱈等。請問：造成日本人上述食魚文化產生的原因，與下列何者**無關**？
(A)四面環海 (B)寒暖洋流交會
(C)海岸曲折 (D)氣候溫暖潮濕。

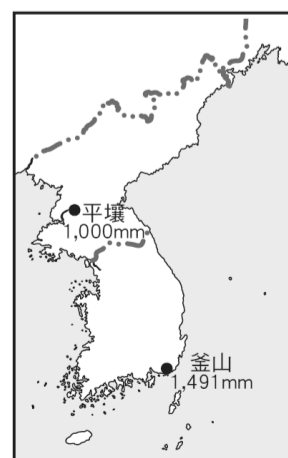
7. 隨著經濟發展、人口結構轉變，日本政府於2021年4月起，要求企業必須提供職員或求職者到70歲的就業機會。此外，部分公司為提高老年人才的利用率，更將退休年齡延長到80歲，可利用資深員工的工作經驗，增加公司的營收。請問：造成上述現象的原因，與下列日本的何項問題有關？
(A)勞力過剩 (B)經濟衰退 (C)貧富差距 (D)出生率低。

8. 附表為西元2019年南韓前十大企業的產值占該國內生產毛額(GDP)的比重資料，而此一經濟模式主要與該國政府的經濟政策有關。請問：該經濟政策可能導致該國出現下列何種問題？
(A)政府忽略民生工業 (B)政治環境動盪不安
(C)經濟存在高度風險 (D)歐美國家經濟制裁。

企業名稱	2019年占 南韓 GDP 比 重
三星電子	14%
SK 集團	6%
現代汽車	5%
浦項鋼鐵	4%
樂金電子	3%
韓國電力	3%
起亞汽車	3%
韓華集團	3%
SK 海力士	2%
湖南煉油	2%

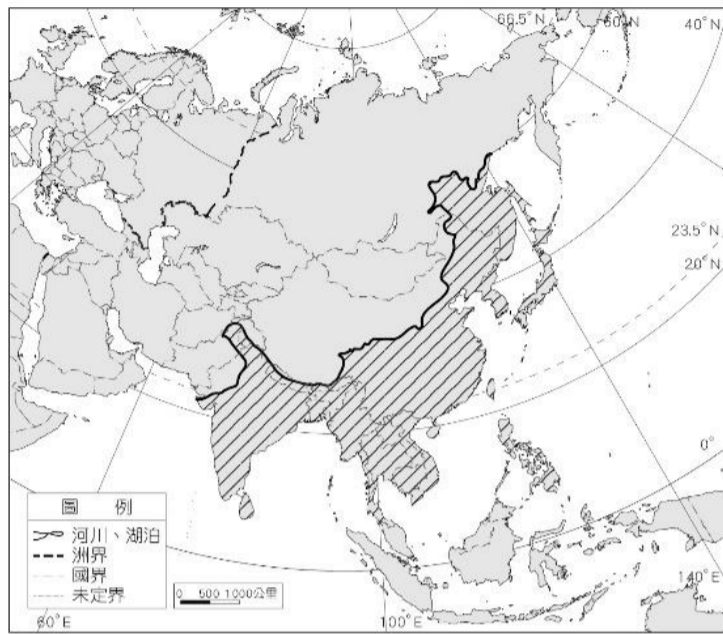
9. 根據世界銀行(The World Bank)統計調查，西元2021年南韓的人均GDP達3.1萬美元，而據南韓央行粗略估計，北韓的人均GDP僅約為南韓的1/20。請問：導致南北韓經濟成長差異的主要原因與下列何者有關？
(A)礦產分布 (B)國土面積 (C)政治體制 (D)勞動人口。

10. 附圖為南、北韓兩大都市的位置及其年降水量。請問：兩地年降水量的差異，可能與釜山位於哪一個季風的迎風面有關？
(A)東南季風 (B)西北季風 (C)東北季風 (D)西南季風。



11. 地理經常會以地形、氣候或經濟發展程度等作為分區的依據，進行各區域的比較或分析。附圖斜線區為亞洲某現象的分布圖，請問：下列何者最有可能是該區的地理特徵？

- (A) 多為經濟高度發展的已開發國家
 (B) 因海陸性質差異而形成季風氣候
 (C) 受海洋調節的影響因此全年有雨
 (D) 涵蓋東亞、中亞、南亞、北亞地區。

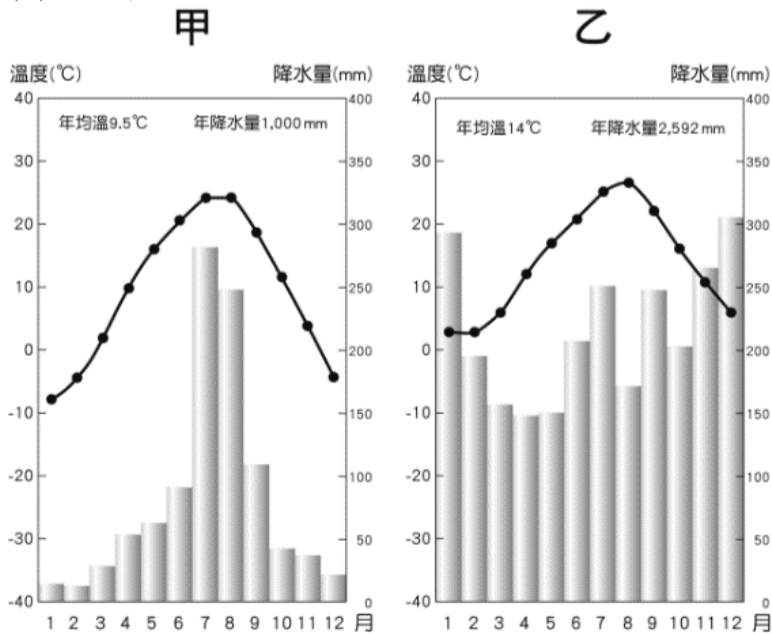


12. 西元2016年里約奧運閉幕式中，日本東京正式接過2020夏季奧運的承辦任務。交接影片中，不但展現了東京意象與特色地景，更穿插了日本聞名世界的動漫角色，如哆啦A夢、Hello Kitty等；最後日本首相安倍晉三更化身為經典電玩人物馬利歐，穿越到里約現場完成接棒。請問：上文呈現日本何項產業的競爭力？

- (A) 銷售服務業 (B) 文化創意產業
 (C) 觀光旅遊業 (D) 人工智慧產業。

13. 附圖是東北亞甲、乙兩地的氣候圖，針對兩地位置的推論，下列分析方式何者正確？

- (A) 甲地一月均溫較低，可能位於日本九州
 (B) 甲地年降水量較少，可能位於日本群島
 (C) 乙地降水分布平均，可能位於日本西岸
 (D) 乙地年均溫度較高，可能位於朝鮮半島。



14. 附圖為南韓工業區分布圖，由圖可看出東部工業區分布明顯少於西、南部，其主要原因受限於東部哪一項地理因素？

- (A) 地形崎嶇 (B) 海域狹窄 (C) 缺乏原料 (D) 共產體制。



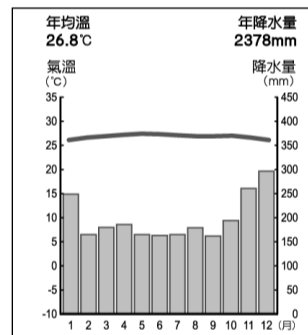
15. 東南亞因受過去殖民歷史影響，熱帶栽培業仍為許多國家的經濟發展主力，請問針對熱帶栽培業的敘述，下列何者正確？

- (A) 自給性、小量生產為生產特色
 (B) 農產品以滿足國內市場需求為主
 (C) 價格容易受國際市場價格波動影響而不穩定
 (D) 以栽種糧食作物為主。

16. 上地理課時，同學上臺報告有關東南亞的地形特色，下列哪一位同學的內容最正確？

- (A) 甲生：中南半島的河流多發源自青藏高原
 (B) 乙生：中南半島各國人口集中於沖積扇地帶
 (C) 丙生：菲律賓群島位於板塊交界帶，多火山、地震
 (D) 丁生：東印度群島為古老地塊，地勢較平坦。

17. 臺北龍哥大學畢業後計畫到某城市工作，他上網搜尋該城市的相關資料時，看到當地的氣候圖如下，請問龍哥未來的工作城市最可能位於下列哪一個國家？



- (A) 越南 (B) 菲律賓 (C) 馬來西亞 (D) 印度。

18. 承上題，龍哥到此城市工作後，因為當地無法販賣此肉品，所以他可能最思念下列哪一道肉品料理？

- (A) 滷豬腳 (B) 牛肉河粉 (C) 炸雞排 (D) 羊肉爐。

19. 新加坡掌控南海與下列哪一個海域的航運樞紐，為印度洋與太平洋間的必經航道，目前為世界重要的轉口貿易港，並發展成東南亞經濟最繁榮發達的國家？

- (A) 對馬海峽 (B) 麻六甲海峽
 (C) 巴士海峽 (D) 東海。

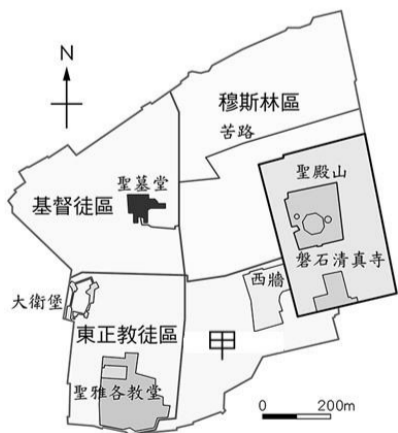
20. 外電報導印度首都新德里連續近一個月來高達45°C的高溫，此時又乾又熱，民眾苦不堪言。根據新聞報導，這連續一個月來高溫的現象最有可能發生在下列哪個月分？

- (A) 4月 (B) 6月 (C) 9月 (D) 12月。

21. 承上題，印度氣象局預測要結束此高溫需等到風向出現改變，才能有效降溫，這時改變的風向最可能為何？

- (A) 東北風 (B) 東南風 (C) 西北風 (D) 西南風。

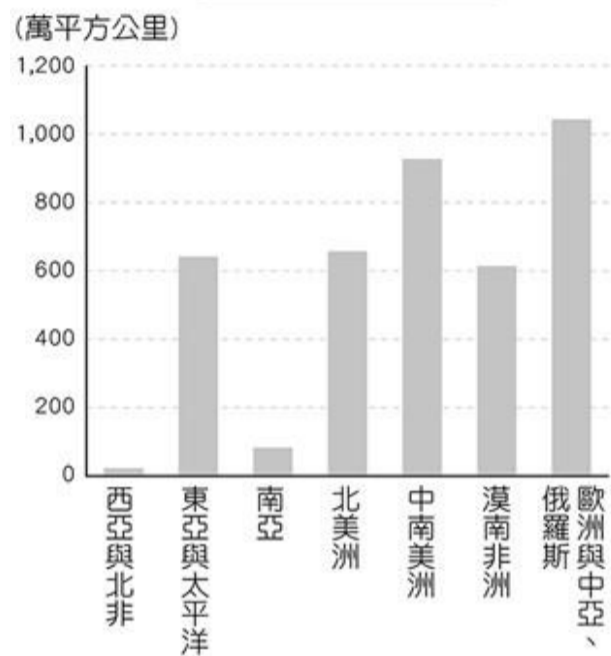
22. 馬爾地夫被稱為「散落大洋中的珍珠」，近年來積極發展觀光業，但該國有80%國土陸地不到海拔1公尺，其島嶼類型為何？
(A)沙洲島 (B)大陸島 (C)珊瑚礁島 (D)火山島。
23. 美國著名的作家馬克吐溫在 19 世紀末期到印度旅行，不禁嘆道：「印度，是奇觀之國。」而該地區中部的印度大平原更是孕育出豐富多變的文化。請問：印度大平原，主要是由下列哪一種作用所造成？
(A)斷層陷落 (B)風力侵蝕
(C)河川沖積 (D)板塊擠壓。
24. 印度的資訊產業吸引許多歐美國家的廠商前去投資，為世界第二大的軟體工業國家，其主要誘因為何？
(甲)使用英語(乙)工資低廉(丙)社會平等(丁)文化多元
(A)甲乙 (B)丙丁 (C)甲丁 (D)乙丙。
25. 西元 2020 年世界博覽會由杜拜主辦，不但是西亞地區第一次主辦世博會，更打破許多世界紀錄，包括歷屆以來面積最大的會場、全球最大的多樓層互動展區、最長的海底景觀牆等，徹底展現杜拜的經濟實力。請問：杜拜快速的經濟發展，與下列何者有關？
(A)由開發石油轉型成發展多元產業
(B)透過運河獲取海上貿易的控制權
(C)擁有伊斯蘭世界的重要宗教聖地
(D)緊鄰海洋使可用水資源充沛無虞。
26. 「貝都因人是一支在沙漠中生活的游牧民族，於西元前二千多年開始飼養駱駝，按季節和固定路線進行有規律的移動，因此以羊毛編成的黑色帳篷為住所。」請問：依據上文推論，下列何者最有可能為貝都因人所分布的地區？
(A)德干高原 (B)南洋群島
(C)中南半島 (D)阿拉伯高原。
27. 耶路撒冷為以色列境內的城市，為三大宗教的聖地，千年來受到不同勢力控制，歷經多次毀壞與重建，至今仍有許多宗教衝突待解決。附圖為耶路撒冷舊城區圖，請問：「甲」應屬下列哪一個宗教的文化區？
(A)佛教 (B)天主教 (C)猶太教 (D)伊斯蘭教。



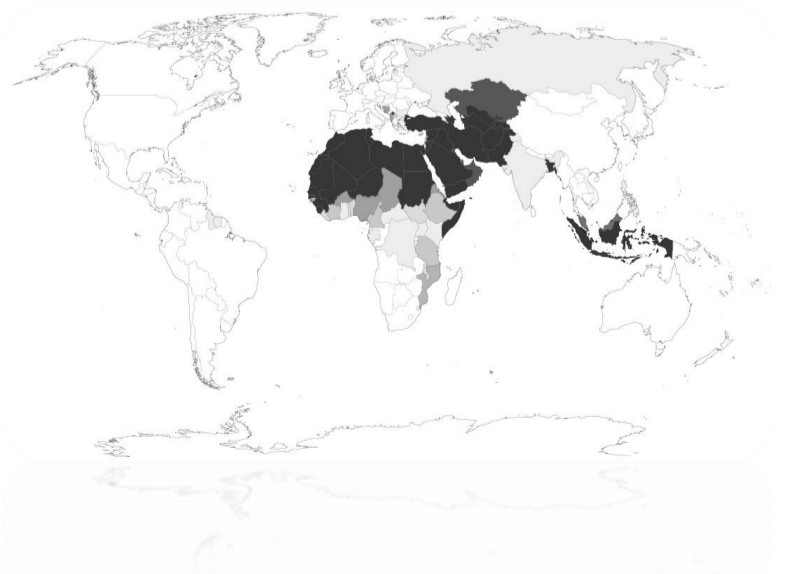
28. 西元 2020 年，★組織成立滿 60 週年，在這一甲子的時間，★組織實現了「協調和統一各成員國能源政策和價格，確保國際油價穩定，保障產油國收入」的宗旨，但卻因新冠肺炎疫情持續，造成油價的下跌，也影響了產油國的經濟利益。請問：★組織是指下列何者？
(A)APEC (B)OPEC (C)ASEAN (D)NAFTA。

29. 希希是一名即將畢業的女大學生，計畫於暑假期間前往埃及進行古文明考察之旅。請問：下列何者為她行前準備的正確方向？
(A)為了入境隨俗，攜帶白色罩袍與頭巾
(B)沙漠日夜溫差大，準備長袖衣物備用
(C)研讀兩河流域的史料，以深入探索古埃及文明
(D)當地居民多信仰伊斯蘭教，避免食用牛肉製品。
30. 附圖為 2016 年全球森林資源的各區域分布概況圖，由圖中資訊判斷，西亞與北非被劃分為同一地理區，其原因可能與下列何者有關？
(A)森林過度砍伐 (B)地形崎嶇高聳
(C)氣候乾燥少雨 (D)高原面積廣大。

森林面積 (西元2016年)

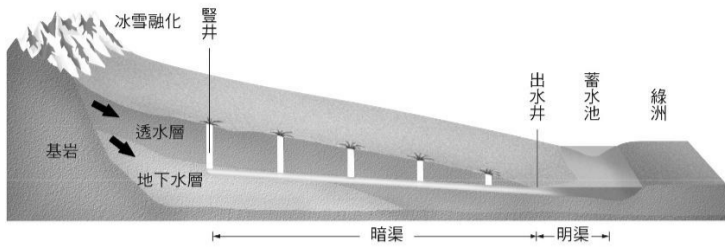


31. 西元 2021 年 3 月，巨型貨輪「長賜號」擱淺於蘇伊士運河，阻斷了本段重要的貿易及交通要道，衝擊全球經濟與供應鏈。請問：當時往來下列哪兩個海域之間的貨輪，受到此事件的影響而損失慘重？
(A)地中海↔黑海 (B)大西洋↔印度洋
(C)波斯灣↔紅海 (D)印度洋↔太平洋。
32. 附圖為某地理特徵的分布圖，其顏色深淺代表呈現該特徵的比例高低。請問：該圖的圖名最有可能為下列何者？
(A)全球綠洲分布圖 (B)全球降水量分布圖
(C)全球耕地分布圖 (D)全球穆斯林分布圖。



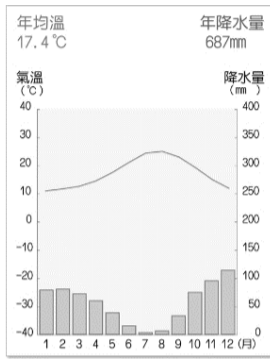
33. 附圖是一種乾燥地區的特殊灌溉方式，居民挖掘豎井和暗渠，將稀有且珍貴的雪水資源從高山地區導引至山麓地帶的蓄水池，以進行農業活動。請問：此灌溉設施最可能出現於下列何處？

- (A) 伊朗高原 (B) 安納托力亞高原
(C) 撒哈拉盆地 (D) 美索不達米亞平原。



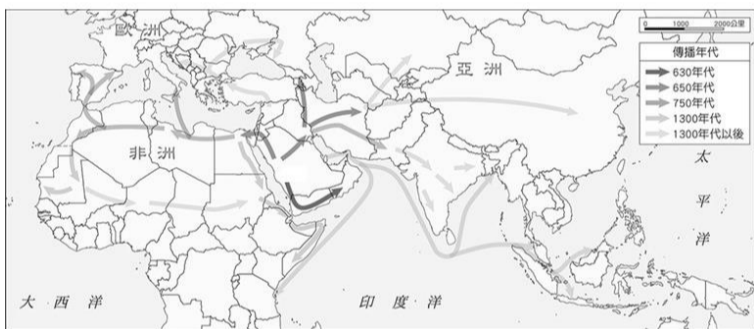
34. 附圖為非洲西北部沿海某城市的氣候圖，請問：該城市最有可能位於下列哪一個國家？

- (A) 紅海沿岸的埃及
(B) 黑海沿岸的土耳其
(C) 波斯灣沿岸的科威特
(D) 地中海沿岸的阿爾及利亞。



35. 附圖是伊斯蘭教向外傳播與擴張示意圖，由圖中資訊判斷，下列何處為伊斯蘭教的起源地？

- (A) 北非 (B) 西亞 (C) 中亞 (D) 南歐。

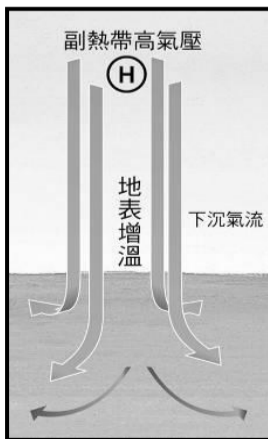


36. 來自西亞的 Ali，與同學們分享家鄉與台灣的異同：「我來自全球唯一橫跨兩洲的都市，一邊是歐洲、一邊是亞洲，中間是狹長的博斯普魯斯海峽。我們國家像台灣一樣，經常發生地震，無論是學校、醫院、古蹟，都需要持續做耐震補強。每天，禮拜的時間一到，我們會將跪拜毯鋪在地上，向東南方的聖地麥加進行禮拜。」請問：Ali 最有可能來自下列哪個國家？

- (A) 蘇丹 (B) 土耳其 (C) 以色列 (D) 沙烏地阿拉伯。

37. 西亞與北非的氣候特徵，與終年壟罩的副熱帶高氣壓息息相關(如附圖所示)。請問：有關當地居民為了適應氣候環境所產生的生活方式，下列敘述何者有誤？

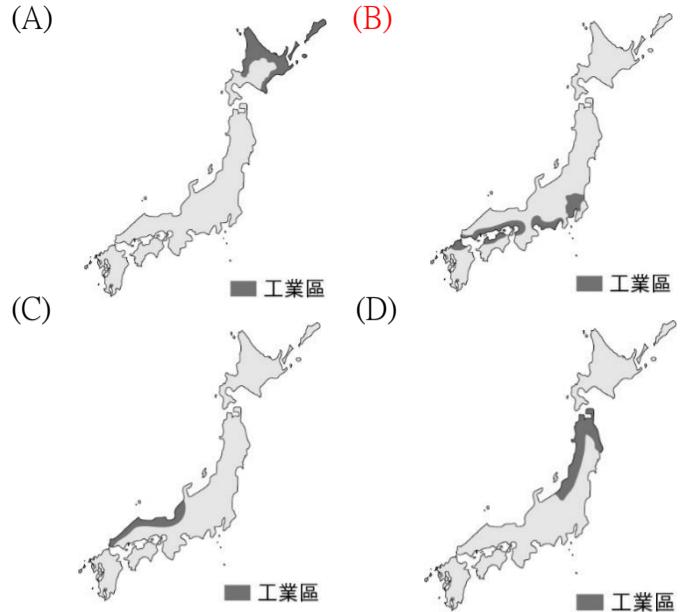
- (A) 傳統民宅多木造建築
(B) 以色列發展滴灌技術
(C) 人口集中於河川沿岸的綠洲
(D) 阿拉伯高原開發深層地下水。



二、題組

※日本的工業總產值約占國內生產總值的30%，並以注重品質、嚴謹的「工匠精神」享譽國際。請回答下列問題：

38. 下列哪一張圖可反映日本主要工業區的分布特性？



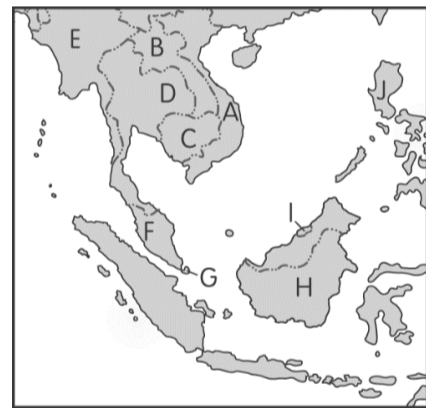
39. 承上題，日本工業區呈現此分布特徵的原因，與下列何者有關？

- (A) 原料仰賴進口，產品需要出口
(B) 內陸地形崎嶇，交通運輸不便
(C) 緯度落差較大，北部氣候嚴寒
(D) 鄰近朝鮮半島，就近進行貿易。

40. 下列何者為上列日本工業區的主要工業產品？

- (A) 成衣 (B) 家電 (C) 鈾礦 (D) 石油。

※附圖為東南亞簡圖，A~J 代表國家。請回答下列問題：



41. 附圖中的哪一個國家，由於風俗習慣深受中國文化的影響，生活習慣和臺灣人較為接近，臺商到當地工作的適應情況良好，所以早已成為臺商的投資重鎮？

- (A) A (B) D (C) F (D) H。

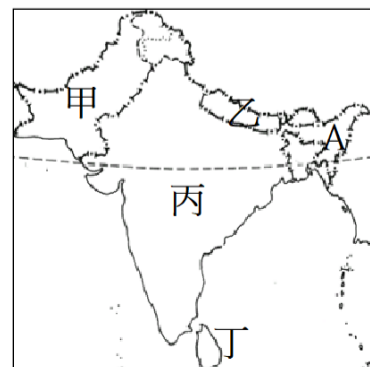
42. 附圖中哪一個國家曾受西班牙殖民，目前以信奉天主教為主；後來又被美國殖民，因此英語普及？

- (A) E (B) G (C) I (D) J。

43. 在13世紀時阿拉伯人來此地經商，帶來伊斯蘭教信仰，下列哪一個國家的人民以信仰此宗教為主？

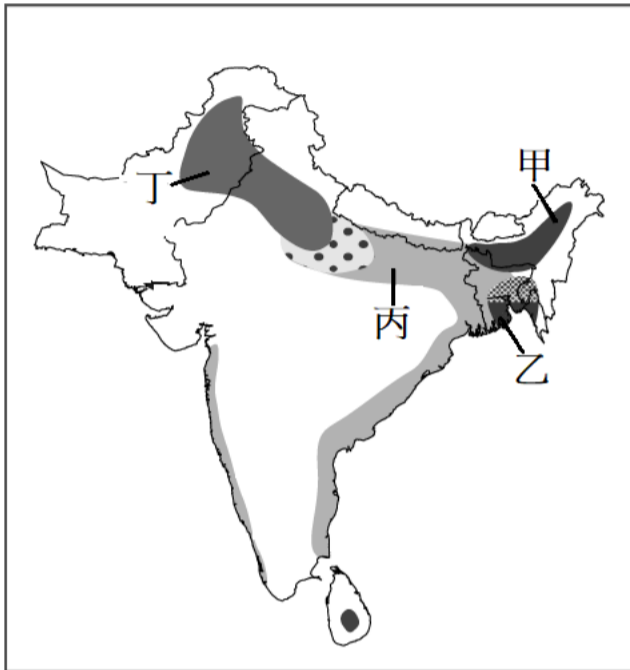
- (A) C (B) E (C) G (D) H。

※附圖為南亞簡圖，請依圖回答下列問題：



44. 附圖中 A 區的年降水量居全球之冠，造成該地降水量豐沛的主要降雨季節及型態為何？
 (A)春季的鋒面雨 (B)夏季的地形雨
 (C)秋季的對流雨 (D)冬季的地形雨。
45. 南亞的人口多，因此如何提供充足的糧食成為該地區的重要課題。附圖中哪一個國家由於受到氣候限制的影響，因此多以灌溉方式來從事農作，成為南亞地區土壤鹽鹼化最嚴重的國家？
 (A)甲 (B)乙 (C)丙 (D)丁。

※附圖為南亞主要農作物分布地區簡圖，請回答下列問題：



46. 附圖中的甲乙丙丁地區，作物種植受地形和降水量的影響而有所差異。請問從甲到丁農作物的種類變化依序為何？
 (A)水稻→黃麻→茶樹→小麥
 (B)茶樹→黃麻→水稻→小麥
 (C)水稻→黃麻→棉花→小麥
 (D)茶樹→甘蔗→小麥→黃麻。
47. 請問下列哪一種農作物的耕作區因地勢低窪最易受水患的影響而造成收穫量大減？
 (A)黃麻 (B)茶樹 (C)水稻 (D)小麥。

西亞與北非地區，因鄰近的地理位置、共同的自然特徵、一致的人文特性，劃分為同一地理區。然而，自古至今，本區戰火與動亂不斷，在交纏糾葛的利益中，當地與外國勢力紛紛介入，形成目前動蕩不安的政局。

以下為導致本區紛爭的主要原因，請依選項回答下列問題：

- (甲)宗教差異或教派分歧 (乙)族群爭取獨立
 (丙)國家領土紛爭 (丁)石油資源爭奪

48. 西元 1990 年 8 月 2 日，伊拉克軍隊入侵科威特，宣布科威特的「回歸」及大伊拉克的「統一」。以美國為首的多國部隊在取得聯合國授權後，於隔年 1 月 17 日開始對伊拉克軍隊發動軍事進攻，重創伊拉克，最終使其退兵。請問：伊拉克攻打科威特的原因，與下列何者有關？
 (A)甲 (B)乙 (C)丙 (D)丁。

49. 庫德族生活在土耳其、伊朗、伊拉克、敘利亞和亞美尼亞交界，人口在 2,500 萬到 3,500 萬之間，是西亞地區第四大族裔，但因為分散在各國境內，所以各自成為所處國家中的少數民族。這些國家政府大多否認庫德族人的身份、文化、語言，因此庫德族的建國之路充滿辛酸血淚。依據上文判斷，庫德族與所處國家之間的武力衝突，主要與下列哪些因素有關？
 (A)甲乙 (B)乙丙 (C)甲丙 (D)甲丁。
50. 自 2011 年開始的敘利亞內戰由許多複雜的因素導致而成，其中主要問題根源之一，在於長年獨裁執政的現任總統阿薩德屬什葉派家族，與占該國絕大多數的派別不同，因此有著很深的社會裂痕；加上政府貪腐、青年失業問題，以及暴力鎮壓民眾等高壓手段，讓反政府運動演變成戰爭。請問：上述衝突的原因，與下列何者有關？
 (A)甲 (B)乙 (C)丙 (D)丁。
51. 巴勒斯坦地區因歷史上的糾葛，長達 70 年的衝突至今未歇，其中被以色列、巴勒斯坦皆視為首都的耶路撒冷，更是世界各國不願碰觸的紅線。直到西元 2020 年，美國將以色列大使館遷至耶路撒冷，這份國際間保有的默契失去平衡，導致衝突再起。請問：以巴衝突的主因，與下列何者無關？
 (A)甲 (B)乙 (C)丙 (D)丁。

一、選擇題

- 政府為推動酒駕零容忍政策，今年再度修法，提高酒駕的罰則，並向民眾宣導：「吐氣酒精濃度達 0.15mg/L，或血液酒精濃度達 0.03mg/L，即違規酒駕；吐氣酒精濃度達 0.25mg/L，或血液酒精濃度達 0.05mg/L，即觸犯刑法。」希望提醒民眾切勿以身試法。依據上文內容分析，下列何者為是？
 (A) 只要酒後駕車，就是違法行為
 (B) 酒駕只是違規，不會構成犯罪
 (C) 酒測值超過 0.15mg/L 即為犯罪
 (D) 酒駕肯定犯罪，但卻未必違法。
- 在法庭中，我們會看到各種人員身穿不同顏色的法袍，各司其職。下列關於刑事法庭中成員服裝與職掌的配對，何者正確？
 (A) 法官—黑底藍邊—負責定罪量刑與執行刑罰
 (B) 律師—黑底白邊—受告發人委託，為其辯護
 (C) 書記官—黑底黑邊，法庭上的紀錄人員
 (D) 通譯—黑底紫邊—代表國家偵查犯罪。
- 小興在求職網站上看到一份送貨員的徵才訊息。他按約定時間前往應徵，並與主管簽下工作契約。開始上班後，他才發現自己將負責運送的貨物是盜版商品，小興認為工作內容不妥，決定辭職，主管表示已簽訂僱傭契約，若反悔離職須支付賠償金。請問：小興想辭職的原因是認為此工作契約違反何種法律概念的精神？
 (A) 契約自由原則 (B) 誠實信用原則
 (C) 禁止權利濫用 (D) 消滅時效。
- 失戀男子一時氣憤，跑到女友家樓下縱火燒機車，除了停放在路邊的一排機車毀損外，火勢差點延燒到整棟公寓，最終被警方以公共危險罪法辦。請問：警方將男子移送法辦所欲保護的法益內涵，與下列何者相同？
 (A) 退役將官洩漏國防秘密，被判刑定讞
 (B) 阿葵因限制女友自由，被警方移送法辦
 (C) 小毛因販賣運送毒品，被檢察官提起公訴
 (D) 小美因一時衝動口出穢言，被告公然侮辱。
- 大學生華研利用室友不在時，以室友的帳號密碼登入網路遊戲，並將遊戲中的寶物轉贈給自己，依據我國現行刑法的規定，華研的行為，最可能符合哪一種罪的構成要件？
 (A) 侵占罪 (B) 竊盜罪
 (C) 強盜罪 (D) 妨害電腦使用罪。
- 政府的行政行為受到行政法和行政程序的制約，對於保障人民基本權利和維護公共利益而言極為重要。下列舉例中，何者的說法正確？
 (A) 教育部依《國民教育法》，強制國民接受大學教育，以保障人民受教權

- (B) 北市政府依《噪音管制法》將夜間便利商店門鈴聲列入管制範圍，以免影響民眾睡眠
- (C) 衛生福利部依《全民健保法》，強制全民接受健康檢查，以保障國民健康
- (D) 戶政事務所依《戶籍法》規定新生兒從父姓，以保障性別平權。
- 課堂上，同學們在進行模擬法庭的活動，幾位同學輪流擔任法官，宣告刑罰，請問：哪一位同學擔任的法官角色最稱職？
 (A) 甲犯○○罪，處褫奪公權終身
 (B) 乙犯○○罪，沒收私人遺產伍佰萬元
 (C) 丙犯○○罪，處有期徒刑陸月，緩刑五年
 (D) 丁犯○○罪，處褫奪公權十年，沒收犯罪所得壹百萬。
 - 剛過不惑之年卻患有癌症初期的老王，不堪樓上鄰居長期製造巨大聲響，上樓與其理論，卻一時衝動砸毀了鄰居的盆栽，事後老王除了向鄰居道歉外，也允諾以 2000 元賠償金與鄰居達成私下和解，但事隔多日，老王卻藉故不支付 2000 元賠償金。依據上述內容判斷，下列何者正確？
 (A) 老王屬於限制責任能力人
 (B) 檢察官應該主動進行偵查
 (C) 鄰居可以親至法院請求強制執行
 (D) 鄰居可委任律師到法院提起訴訟。
 - 九年級的進興與兩位好友一起潛入店家行竊，卻當場被店家識破，並通知警方到場處理。警察說：「這三位嫌疑犯只有一位要負完全的刑事責任。」請問：下列何者最可能為進興兩位好友的年齡？
 (A) 18 歲、20 歲 (B) 18 歲、12 歲
 (C) 14 歲、16 歲 (D) 12 歲、15 歲。
 - 在一場法庭辯論中，律師慷慨陳詞地說：「您不能要求被告自己證明清白，您要拿出確切有效的證據，否則我的當事人就是清白的。」文中這位辯護律師所陳述的，即為下列哪一種原則？
 (A) 誠信原則 (B) 罪刑法定原則
 (C) 無罪推定原則 (D) 禁止權利濫用原則。
 - 二十世紀中期生效的歐洲人權公約第七條第一項即明示：「任何人之行為或不行為，在其發生時根據國內法或國際法並不構成刑事犯罪，不得科處刑罰。」此條文所彰顯的法律精神，與下列何者相近？
 (A) 以牙還牙，以眼還眼
 (B) 法庭上，只有證據，沒有事實
 (C) 無法律即無犯罪，無法律即無刑罰
 (D) 刑罰可以防止一般邪惡的許多後果，但是刑罰不能剷除邪惡本身。
 - 網路購物是人們現今生活不可或缺的一部分，但

也帶來更多不同的消費紛爭，舉例來說，小國在網路上看到原價 28888 元的相機只要 88 元，便立馬下標買了一台，事後賣家雖說是標錯價，但還是出貨給小國。依照上述，老闆的處理方式可視為下列何種概念的表現？

- (A)契約自由原則 (B)誠實信用原則
(C)禁止權利濫用 (D)消滅時效。

13. 國中八年級的蔓葳把知名動漫主角印在 T 恤、杯子、鑰匙圈上，透過網站販售。不久網頁被管理員封鎖，並被告知動漫廠商將對他提出販賣盜版商品的訴訟，蔓葳表示不知道這麼做會觸犯法律，心裡十分後悔。根據上文，下列說明何者正確？

- (A)若蔓葳被廠商控告，可採取回復原狀表達歉意
(B)由於蔓葳屬限制行為能力人，動漫廠商將無法獲得賠償

(C)蔓葳販售上述商品已屬侵權行為

(D)因為是無心之過，只要蔓葳立刻撤下商品就沒有法律責任。

14. 《民法》規定私人間日常生活上的權利義務關係，有關房屋所有權轉移，下列說明何者正確？

- (A)只要交付價金，買賣契約即發生效力
(B)要有二人以上見證人才能做買賣登記
(C)房屋買賣可自由選擇書面或口頭契約

(D)此類交易須採「要式契約」方式完成。

15. 阿中家養的狗咬傷鄰居的小孩，引起兩家的糾紛且爭執不斷，里長為避免訴訟之累，建議雙方到具有公信力的調解委員會聲請調解。請問：調解委員會設置於下列哪一個機關內？

- (A)警察局 (B)法院
(C)縣、市議會 (D)鄉鎮市區公所。

16. 下列有關現行《民法》之行為能力之敘述，何者錯誤？

- (A)受監護宣告之人，無行為能力
(B)七歲以上未滿二十歲之未成年人，有限制行為能力

(C)無行為能力人經法定代理人之允許，得單獨為有效的法律行為

(D)剛滿十八歲之甲男訂定婚約，應得法定代理人同意

17. 小興欲選取一則新聞於課堂報告時說明《民法》在私人間身分上的權利義務關係，下列何者符合她的報告主題？

- (A)貨比三家不吃虧，如何運用振興五倍券聰明消費
(B)學生租屋慎選房東，小心契約暗藏陷阱
(C)中華郵政數位帳戶開辦，祭優惠利率，送 500 元禮券

(D)880 兩黃金遺產太誘人！同父異母 5 兄妹掀起多年爭奪戰

18. 憲政國家在行使政府權力時，必須受到法律的制約。請問：我國中央政府的行政機關應如何行政？

- (A)依民意調查的結果行政

(B)依立法院通過的法律行政

(C)依執政黨的理念行政

(D)依總統的意志行政。

19. 每個人都有守法的義務，若違法就要負起法律責任。下列關於我國法律及其規範內容，何者敘述正確？

(A)行政法規是指所有關於國家行政機關行使職權與運作的法規總稱

(B)《民法》是為了保障人民的生命、身體、自由等安全

(C)《憲法》的制裁是所有法律中最嚴厲的方式

(D)《刑法》是規定私人間的權利義務關係。

20. 阿康每年均依照規定繳稅，而臺北市國稅局卻通知他補繳前年的所得稅，阿康對這樣的行政處分不服氣。在法律上阿康可依什麼途徑來保障自己的權利？

(A)向市政府提出民事訴訟 (B)向立法院請願

(C)向法院提刑事訴訟 (D)向財政部提起訴願。

21. 某業者在廣告中自誇為同行排名「第一」、臺灣「最大」，但無法提出客觀數據。主管機關認定其廣告違反《公平交易法》規定，處以 30 萬元罰鍰。上述「30 萬元罰鍰」是要求業者負起何種法律責任？

(A)刑事責任 (B)民事責任

(C)行政責任 (D)政治責任。

22. 小青在網路上看到一個網站，只要網友登錄會員，就可以看到色情影片，不需要任何證明。網站負責人未能防範未滿 18 歲的少年下載收看色情影片，此行為已經觸犯下列何法？

(A)《兒童及少年性剝削防制條例》

(B)《少年事件處理法》

(C)《兒童及少年福利與權益保障法》

(D)《社會秩序維護法》。

23. 15 歲的俊憲和同學打賭輸了，輸的人必須到夜市偷一件 T 恤，所以他帶 14 歲的表弟幫他把風，打烊後老闆檢查攝影機發現遭竊，因此報警處理，警方循線將他們依竊盜罪移送法辦。根據上述，他們將面對的法律責任，下列敘述何者正確？

(A)依《刑法》加重處罰

(B)按法令不受任何制裁

(C)將交由少年法院（庭）審理

(D)由校規代替法律處罰。

24. 少年法院（庭）在審理少年犯罪時，若認為其犯罪情節輕微，或未滿 14 歲者，接受保護處分，依個別情形安排少年接受下列哪些處置？(甲)有期徒刑(乙)訓誡(丙)假日生活輔導(丁)拘役(戊)保護管束

(A)甲乙戊 (B)乙丙戊 (C)丙丁戊 (D)甲丁戊。

25. 少年法院（庭）的法官認為少年不宜由法定代理人繼續教養的情形時，可安置於適當的福利、教養機關、醫療機構、執行過渡性教育措施或其他適當措施之處所加以輔導。請問：下列何者不屬於上述的機構？

(A)育幼院 (B)少年之家

(C)少年矯正學校 (D)兒童之家。