

一、選擇題：

- 臺中地區有「逢甲大學」、臺南地區有「永福國小」等學校，請問：這些學校的命名由來與紀念下列何者的事蹟有關？ (A)建國功臣 (B)開臺先賢 (C)反清烈士 (D)抗日英雄。
- 閱讀《「小的」與大人》一書後，龍哥對於日治時期跟著殖民體制一起來到臺灣的「大人」有更深一層的認識。請問：下列關於日治時期「大人」的敘述，何者有誤？ (A)負責維持社會治安 (B)可以頒布具有法律效力的命令 (C)保甲及壯丁團為其重要輔助工具 (D)為地方行政的中心，無所不管，影響力無所不在。
- 承上題，身為協助臺灣總督府實行統治的要角，「大人」在日治時期要負責的工作有幾項？ (A)三項 (B)四項 (C)五項 (D)六項。
(甲)疫病防治 (乙)犯人逮捕 (丙)戶口調查
(丁)思想取締 (戊)交通管理 (己)蕃地治理
- 阿睿在書本中看到的插畫如下，請問：附圖中的兩人可能是在為哪一場戰爭收拾善後？ (A)牡丹社事件 (B)清法戰爭 (C)甲午戰爭 (D)中日戰爭。

西元 1895 年



- 某人日記內容如下：「4 月 23 日，我從嘉義火車站下車，開始實地調查嘉南平原的土地面積。……7 月 23 日，經過三個月的勘察，終於完成這項工作。這些調查工作，都是為了建築○○所做的準備。身為○○的設計者，我一定要將○○建設成臺灣規模最大的水利工程。」請問：上述日記可能是何人所寫？ (A)威爾遜 (B)後藤新平 (C)莫那魯道 (D)八田與一。
- 承上題，有關○○建設完成後的影響，下列敘述何者正確？ (A)為工業發展與民生需求提供充足的水力發電 (B)增加灌溉面積，使甘蔗、稻米的產量提高 (C)使樟腦、鴉片得以專賣，增加財政收入 (D)強化西半部地區的水路連結，增強日本民間企業對臺灣的投資意願。

- 請問：在日治時期擔任「保正」的阿土伯，他要負責管理幾戶人家？ (A)十戶 (B)一百戶 (C)五百戶 (D)一千戶。
- 日本統治臺灣初期，採取「農業臺灣，工業日本」的政策，但是到一九三〇年代起，轉變為「農業南洋，工業臺灣」的發展策略。請問：造成這種轉變的主要原因是什麼？ (A)臺灣資源開發臨界飽和 (B)臺灣產業升級的衝擊 (C)配合南進政策的需要 (D)南洋的勞工工資低廉。
- 諺語是民間流傳的常語，不僅反映時代的背景也是先民生活經驗與智慧的結晶。透過諺語的傳承，我們得以了解台灣歷史發展的脈絡與風貌。請問：下列諺語若按時間順序排列，何者正確？ (A)甲乙丙 (B)乙甲丙 (C)乙丙甲 (D)丙乙甲。
(甲)「第一憨，種甘蔗予會社磅」
(乙)「鴨母王走入溝仔尾，死路一條」
(丙)「西仔來打咱臺灣，大家合齊來打番」
- 「近七十年了/氤氳的霧中/仍有許多枯骨半埋/在花岡山上龜裂的泥層中/猶抱著遺憾/哀泣依舊與濁水溪的滾滾流水/傳唱成賽德克的悲歌。」請問：詩句所描述的是哪一個歷史事件？ (A)霧社事件 (B)西來庵事件 (C)林爽文事件 (D)郭懷一事件。
- 承上題，關於此一歷史事件的敘述，下列何者正確？ (A)發生在皇民化運動時期 (B)起事的原住民當時被歸類為布農族 (C)為開發山林資源，實施不當的理蕃政策所導致 (D)總督府組織高砂義勇軍鎮壓叛亂，造成當地原住民滅絕，國內外輿論同聲譴責，臺灣總督因此下臺。
- 「第一次世界大戰結束後，帝國主義國家多遭逢殖民統治的困境，包括如何面對殖民地蓬勃發展的民族運動，及如何繼續利用殖民地的資源以擴張經濟。」針對上述局勢，當時的統治者在臺灣採取下列何項措施？ (A)頒布「六三法」 (B)征討臺灣民主國 (C)推動皇民化運動 (D)實行內地延長主義。
- 清朝統治後期，臺灣開始推動一些近代化建設。日治時期，進一步拓展了臺灣的建設規模，為日後經濟發展奠定基礎。請問：下列何者是這兩個時期共同的建設項目？ (A)興築鐵路 (B)改革幣制 (C)公共衛生 (D)人口普查。
- 老劉在某事件後，有感而發：「……抑此次事件，固非全由專賣與貿易政策造成，遠因近因，頗為複雜。人民無組織，何以能爆發如此大規模的行動？實由各級官吏，奉行政令者，平日對待人民驕縱專橫，構怨多而且深，民眾中懷怨憤，壓抑已久，故爾一觸即發……」請問：

問：根據老劉所言，我們可以推論某事件應該是指？
 (A)霧社事件 (B)西來庵事件 (C)二二八事件 (D)美麗島事件。

15. 承上題，上述事件發生的背景不包括下列何者？
 (A)行政失當 (B)經濟惡化 (C)文化差異 (D)白色恐怖。

16. 附圖是洋洋在歷史課的筆記，若由內容來推斷，這堂課老師講述的主題應是下列何者？
 (A)正名運動 (B)皇民化運動 (C)野百合運動 (D)臺灣議會設置請願運動。



17. 生活在日治時期的王老先生有塊土地遭到鄰居侵占，請問：他應該透過何種途徑處理問題，爭取自己的權益？
 (A)前往法院控告鄰居的不法行為 (B)向總督府請願，迫使鄰居歸還土地 (C)請警察大人裁決，確認土地的所有權 (D)向保正、甲長投訴，要求對鄰居進行訓誡。

18. 下表是阿雅複習整理上課筆記所做的中華民國行憲後總統一覽表，請問：粗心的她只有哪裡沒出錯？
 (A)甲 (B)乙 (C)丙 (D)丁。

(甲) 蔡英文總統	第二次政黨輪替的總統
(乙) 蔣經國總統	宣布解除戒嚴的總統
(丙) 李登輝總統	歷史上連任最多次的總統
(丁) 蔣中正總統	第一位公民直選的總統

19. 十七世紀漢人移民臺灣之前，臺灣各原住民族曾是臺灣的主體族群。然而受到外來移民數量擴張的影響，導致他們居住空間被排擠縮小，在各移民族群彼此衝突、交流的狀況下，也使得臺灣各原住民族面臨大幅度的文化斷層、語言消失和族群認同的問題。想進一步認識臺灣原住民族的阿凱，特地前往參觀「臺灣原住民族百年影像暨史料特展」：(甲)臺灣原住民族主體意識的覺醒(乙)高砂族的歷史印記(丙)從生番到熟番(丁)山胞的政治參與。請問：他應該按何種順序參觀展區才符合歷史的發展？
 (A)甲丙丁乙 (B)乙甲丙丁 (C)丙乙丁甲 (D)丁甲乙丙。

20. 隨著知識的普及，新思潮的衝擊，知識分子要求民主的聲浪高漲。請問：臺灣史上民眾首次行使投票權的選舉發生在何時？
 (A)西元 1935 年 (B)西元 1950 年 (C)西元 1987 年 (D)西元 1991 年。

21. 雯雯是生活在日治時期的臺灣女性，請問：下列哪一項都會生活的「文明初體驗」不可能出現在她的回憶錄裡？
 (A)與姊妹淘相約喝咖啡聊是非 (B)週末前往北投公共浴場泡溫泉 (C)特地搭高鐵去臺南新開幕的林百貨朝聖 (D)穿著時髦洋裝和男朋友在臺北新公園裡約會。

22. 近期熱門的公視時代劇《茶金》，描述 1949 年的茶葉商戰故事，其中一段劇情主角被迫將當時使用的四萬

塊的舊台幣換成一塊新台幣的劇情，造成當時許多台灣人因為這次的幣制改革而導致財富縮水、甚或遭逢從小康淪為赤貧的慘禍。關於這項政策的推動，以下描述何者正確？
 (A)政府單位當時打著穩定金融秩序的口號強行推動 (B)當時社會經濟狀況，物價偏低，資源匱乏 (C)貨幣改革有助於推行土地改革，公地放領 (D)發行貨幣的負責單位為中央銀行。

23. 台灣新電影為 1982 年至 1987 年，由台灣新生代電影工作者及電影導演所發起之電影改革運動。電影主要呈現寫實風格，其題材貼近現實社會，並選用非明星級演員或非職業演員，由於形式新穎、風格獨特，建立了新的電影形式及電影語言，1988 年以後，新電影出身的導演編劇，將觸角延伸向過去禁忌的題材，探討台灣近代歷史與個人記憶。下列那一部電影即是「臺灣新浪潮電影」的開端作品之一，佔有舉足輕重的地位？
 (A)刻在你心底的名字 (B)兒子的大玩偶 (C)賽德克巴萊 (D)返校。

24. 時隔 36 年，由湯姆克魯斯主演的《捍衛戰士》續集《捍衛戰士：獨行俠》上映，票房橫掃全球，然而對台灣觀眾而言，電影中的一幕引起大眾廣泛的討論，就是阿湯哥穿著的一件飛行外套，夾克上面出現美國、聯合國、日本與中華民國旗幟布章。請從外套的圖案判斷，外套當初的設計製作應在那個時空背景之下？
 (A)臺灣關係法制定後 (B)古寧頭大戰爆發時 (C)三通四流推動時 (D)韓戰爆發之後。

25. 俄烏戰爭的發生讓台海情勢受到關注，台灣海峽及台灣的國際能見度再次抬升到高點，美國的巡防艦隊活動也備受矚目。中美共同防禦條約曾載明「條約國雙方對於臺灣、澎湖島及美國管理下的西太平洋諸島安全保障是利害一致的，以求防止侵略，維護和平。」請問：該條約的簽署時間為何？
 (A)1949 年 (B)1954 年 (C)1960 年 (D)1979 年。

26. 臺灣光復後，經濟歷經重建、成長、衰退、變革等時期，曾經位列「亞洲四小龍」之首，甚至出現「臺灣錢淹腳目」的說法，但近年來國民平均所得卻屢被鄰近國家超越，如何往前看、再造經濟奇蹟，正是政府與國民面臨的考驗。請問：當時的亞洲四小龍，「未」包含下列何國？
 (A)新加坡 (B)南韓 (C)日本 (D)香港。

27. 現今臺灣農林漁牧各項經濟活動的發展概況，下列何者正確？
 (A)工業自動化，城市勞力需求漸少，人口逐漸移回農村 (B)第一級產業活動仍是主力，生產總值仍舊超過工商業 (C)觀光休閒農莊的廣設，政府積極推動轉型 (D)農林專業人才的集中培訓，相關系所增加。

28. 因為興建北捷，多名勞工罹患潛水夫症，喪失工作能力，引發受害勞工及家屬走上街頭示威抗議。請問：人民勇於對抗國家和財團聯合開發造成汙染等諸如此類的抗爭行動，是在那一個時空背景下才蔚為風氣？
 (A)動員戡亂時期結束後 (B)推動義務教育後 (C)退

出聯合國之後 (D)解除戒嚴以後。

29. 「獅山砲陣地」為著名的坑道體驗景點，該坑道是金門唯一的坑道式榴炮陣地，又被稱為震東坑道，取「威震金東」的意涵，民國 58 年期間開鑿，鑿穿花崗岩層的空間更顯鬼斧神工，坑道內有許多標語，顯示當年國軍誓死保衛國家的決心，獅山砲陣地總長 508 公尺、高 4.6 公尺，共有 4 個砲堡，在展示區內放置了許多武器裝備。從景點簡介，請判斷其地點位在圖中何處？ (A)甲 (B)乙 (C)丙 (D)丁。



30. 政府推動各項的公共工程建設，以助民生經濟的需求與發展，自民國六十年以來，陸續推動十大建設、十二項建設、十四大建設、六年國建...前瞻基礎設計畫等等。其中十大建設是近代建設的重要根基，請問：十大建設的重點發展項目為何？ (A)照顧佃農需求 (B)交通基礎建設 (C)研發核子武器 (D)發展高科技產業。

31. 『嘉義縣阿里山鄉原名為吳鳳鄉，以紀念歷史人物吳鳳。吳鳳故事的大意為：吳鳳是清帝國時期阿里山的官員，為了讓當地原住民停止獵人頭的習俗而自願犧牲，其義行感動了原住民，從此阿里山原住民改變了獵人頭的習俗。該故事被鄒族部落長期質疑其真實性，並認為帶有羞辱和歧視意味，故爆發吳鳳雕像遭到破壞的事件。而在此事件後，政府決定更改地名。』從上述文章中，我們可以得到哪一項訊息？ (A)獵人頭是一項可惡的習俗 (B)文化習俗不須要因時而改變 (C)各個相異的文化風俗應受到尊重 (D)吳鳳的生卒年代應是在二十世紀初。

32. 《莒光園地》為國防部政治作戰局委託電視公司製作的中華民國國軍軍事教育節目，名稱源自毋忘在莒，1975 年起在華視播出，作為推廣國軍「愛國教育」的主要管道，節目的開播也正是呼應政府推動的哪一項政策？ (A)強化本土意識 (B)新南向政策 (C)超英趕美 (D)反共抗俄。

33. 西元 2014 年，臺灣發生「太陽花學運」、香港發生「雨傘革命」，當時常在新聞中出現的「一國兩制」，是由中華人民共和國提出，用來針對哪些地方的政治策略？ (A)臺灣、香港、澳門 (B)臺灣、香港、西藏 (C)臺灣、香港、新疆 (D)臺灣、香港、深圳。

二、整合題：

※民國 50 年代後期~60 年代初期，政府面臨財政困難、外匯短缺、失業率高，亟待發展外銷產業。請問：為了因應局勢的變化，政府做了那些因時因地制宜的措施？

34. 經濟方面，政府遭遇困境，推行了下列哪一項政策作為應變之道？ (A)加入 APEC、WTO (B)設立科學

工業園區 (C)推行耕者有其田 (D)設置加工出口區。

35. 外交方面，政府則是調整步驟與策略，轉向進入哪一個階段？ (A)鞏固外交時期 (B)彈性外交時期 (C)務實外交時期 (D)金元外交時期。

※「辜汪會談」：兩岸分治以來，辜汪會談為民間代表在獲得官方授權下的首度正式接觸，西元 1993 年，中華民國代表辜振甫與中國大陸代表汪道涵在新加坡會面。請回答下列問題：

36. 當時出席會面的辜振甫與汪道涵分別代表那一個單位？ (A)辜振甫—海基會 (B)辜振甫—海協會 (C)汪道涵—陸委會 (D)汪道涵—國台辦。
37. 這一次突破性的會面協商，主要是針對哪一項項目而召開？ (A)和緩中美貿易衝突 (B)調解武力對峙局面 (C)宣揚三不政策主張 (D)強化兩岸民間交流。

※附表是兩岸邦交國的數目演變統計表，請回答下列問題：

	1951 年	1961 年	1971 年	1978 年
中華民國	37	54	55	21
中華人民共和國	19	38	65	112

38. 造成邦交國數字消長變化的關鍵原因為何？ (A) 1951 年，中華人民共和國建國 (B) 1961 年，中共挑起八二三砲戰 (C) 1971 年，中華民國退出聯合國 (D) 1978 年，中華民國與美國斷交。
39. 因應不斷銳減的邦交國，我國該展開哪一項行動，改變扭轉這樣的國際情勢？ (A)積極與各國經貿互動 (B)拉攏共產主義國家 (C)斷絕兩岸往來 (D)強化武力防禦。

※下圖以數線代表臺灣在日治時期的歷史，甲、乙、丙分別代表日本治臺的三個階段，請根據史實回答下列問題：



40. 哪些階段日本派遣軍事將領來擔任臺灣總督？ (A)甲乙 (B)甲丙 (C)乙丙 (D)甲乙丙。
41. 以宗教號召信徒起事而建立的「大明慈悲國」，是屬於哪一個階段的漢人武裝抗日運動？ (A)甲 (B)乙 (C)丙 (D)以上皆非。
42. 由日本稻作專家磯永吉與末永仁改良品種，成功培育出符合日本人口味的「蓬萊米」，是屬於哪一個階段的成就？ (A)甲 (B)乙 (C)丙 (D)以上皆非。
43. 請問：附圖景象最可能出現在哪一個階段？ (A)甲 (B)乙 (C)丙 (D)以上皆非。



44. 承上題，圖片中人物的日常生活裡不可能出現哪一項活動？ (A)參拜神社 (B)改用日本姓名 (C)使用日語交談 (D)爭取政治權利。

※臺灣在威權統治期間，人民的基本人權受到嚴重緊縮，「黨禁」限制了人民結社自由，「報禁」箝制人民言論自由。為了自由民主，人民前仆後繼地抗爭，造成許多政治案件。「美麗島事件」便是臺灣人民挑戰威權體制，以實際行動參與、追求人權的價值的歷史篇章。請問：

45. 下列有關「美麗島事件」的敘述，何者錯誤？ (A)發生於民國六十八年 (B)發生的地點在高雄 (C)起因是為紀念言論自由日而舉行的遊行活動 (D)過程中發生警民衝突並造成多位黨外人士被捕入獄。
46. 承上題，《美麗島雜誌》所提倡的「解除戒嚴、國會全面改選、修改憲法」，是影響臺灣邁入民主化的重要動力。請問：當時黨外人士挑戰威權體制的三項政治訴求，何者最早實現？ (A)解除戒嚴 (B)國會全面改選 (C)修改憲法 (D)三項訴求皆未能付諸實現。

※附圖為臺灣某報紙刊載的徵人啟事。

徵求護士學徒 限內地人 高等小學校畢業以上程度 攜帶履歷面談 臺北帝國大學附屬醫院	徵求服務生 年齡十七至十八歲 小學校、公學校畢業 有意者請攜帶履歷表前來 卅日下午六時面談 牡丹咖啡店	【徵人啟事】

47. 請問：上述徵人啟事裡出現哪些限制條件？
 (甲)年齡 (乙)學歷 (丙)國籍 (丁)性別
 (A)甲 (B)甲乙 (C)甲乙丙 (D)甲乙丙丁。
48. 下列求職者中，符合「服務生」資格的有幾人？
 (A)一人 (B)二人 (C)三人 (D)四人。

姓名	年齡	最高學歷
王阿珠	18 歲	艋舺公學校
吳大寶	17 歲	臺中中學校
小林花子	16 歲	金瓜石小學校
山田一郎	19 歲	嘉義農林學校

49. 根據內容來判斷，何時的報紙最有可能出現上述徵人啟事？ (A)1880 年代 (B)1900 年代 (C)1930 年代 (D)1960 年代。

三、配合題：

※在臺灣的發展史上，有許多為後人所津津樂道的人物，他們的所作所為，或多或少都對臺灣造成影響。請根據史實找出正確的配對。

(A) 陳誠 (B) 陳儀 (C) 雷震 (D) 林獻堂
 (AB) 蔣渭水 (AC) 樂信瓦旦 (AD) 後藤新平

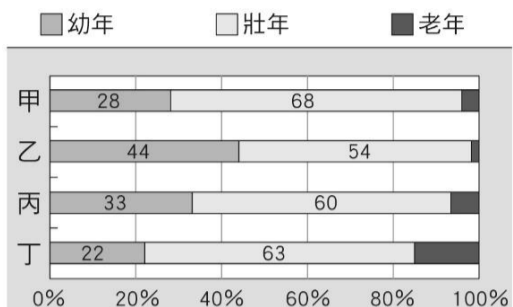
50. 擔任行政長官時集行政、立法、軍事大權於一身，而被臺灣人稱為「新總督」。(B)
51. 主張以溫和的方式進行抗爭，爭取臺灣人的自由平等，而被稱為「臺灣議會之父」。(D)
52. 主張民主政治必須要有反對黨制衡，計畫籌組中國民主黨而被執政當局以「涉嫌叛亂」罪名逮捕下獄。(C)
53. 在行醫之餘，積極參與政治社會運動，被譽為「臺灣孫中山」，國道五號就是為了紀念他而命名。(AB)

臺北市立興雅國民中學 110 學年度第二學期七年級地理科補行評量講義暨解答

七年 班 號 姓名：

一、選擇題：框起來的選項為正確答案

1. 下圖是甲、乙、丙、丁四地的人口年齡結構，其中哪一個地區的壯年人口負擔最沉重？



(A)甲 (B)乙 (C)丙 (D)丁


2. 小兔想利用暑假到澳洲進行為期兩個月的打工遊學。此在人口遷移的分類上，應屬於下列何種分類？

(A)暫時、國內遷移 (B)暫時、國際遷移
(C)永久、國內遷移 (D)永久、國際遷移

3. 西元 1945 年第二次世界大戰結束後，臺灣出現「戰後嬰兒潮」，當年的人口成長率異常之高。請問：當年人口成長率較往年高的原因，主要是何種人口要素產生變化？

(A)出生 (B)死亡 (C)移入 (D)移出率

4. 下圖是甲、乙兩個國家的人口金字塔圖，以下關於兩個國家比較的敘述，何者正確？(單位：%)



(A)甲、乙兩國皆為女多於男

(B)乙國幼年人口比例較高

(C)甲國出生率較高

(D)乙國經濟發展較落後

5. 以下是小安一家八口的組成：

爺爺 75 歲，退休人士；奶奶 68 歲，醫院志工；
爸爸 46 歲，工廠廠長；媽媽 45 歲，家庭主婦；
哥哥 21 歲，大學生；姐姐 17 歲，高中生；
小安 13 歲，國中生；妹妹 6 歲，幼兒園。

小安家中的扶養比為？

(A) 60% (B) 100% (C) 166% (D) 300%

6. 臺灣人口的變化趨勢，由早年的快速增加，到近年的逐漸趨緩。造成臺灣人口增加逐漸趨緩的主要原因為何？

(A)出生率下降 (B)死亡率上升
(C)移入率下降 (D)移出率上升

7. 目前臺灣伊斯蘭教信徒高達 30 萬人，提供伊斯蘭教徒(穆斯林)禮拜的清真寺，全臺共有 7 所，而祈禱室全臺有 61 間，其中 41 間集中在遊客中心、景點場館等。此外也有 125 家清真認證的餐廳。上文所述呈現出臺灣人口組成中的哪一現象？

(A)勞動人口充足 (B)人口分布不均
(C)族群文化多元 (D)教育程度提升

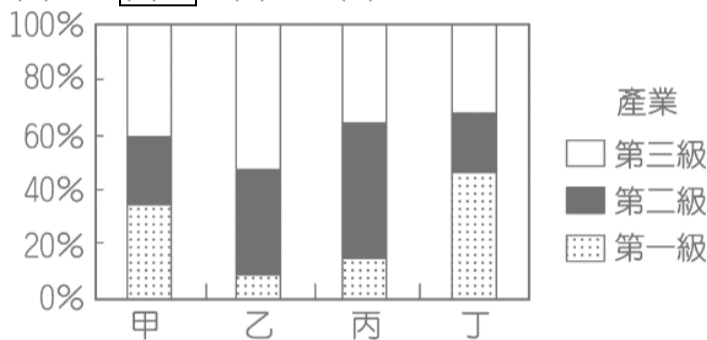
8. 下列是小晴用來說明某一研究議題的部分內容。根據內容判斷，他最可能以下列何者為研究主題？

(A)休閒農業 (B)精緻農業 (C)有機農業 (D)永續農業

活動名稱
●陽明山竹子湖海芋季
●客家桐花祭
●花蓮六十石山金針花季
●臺南白河蓮花季
●台東池上秋收稻穗藝術節

9. 附圖是臺灣某四個縣市的人口就業結構圖，其中哪一個縣市的產業類型最可能是以服務業活動為主？

(A)甲 (B)乙 (C)丙 (D)丁。



10. 附表為四個城市人民從事各級產業比例圖，請依表中資料判斷，哪一個城市經濟的發展程度最高？

(A)甲 (B)乙 (C)丙 (D)丁。

城市	第一級產業	第二級產業	第三級產業
甲	80%	10%	10%
乙	30%	50%	20%
丙	10%	30%	60%
丁	35%	35%	30%

11. 臺灣加入世界貿易組織 (WTO) 後，對農業經營產生前所未有的衝擊。為因應此狀況，下列何者為未來適合的農業發展方向？

(A)採取集約經營，降低生產成本
(B)設法開闢山林，增加耕地面積
(C)建立品牌及行銷，提高農業競爭力
(D)推廣農業自給自足，避免農產滯銷。

12. 臺中市新社區葡萄產銷班第三班，主要生產巨峰葡萄。該班所栽種的葡萄全部套袋，減少病蟲危害，同時運用合理化施肥的理念，使葡萄品質大幅精進，同時利用自製木醋液加以改良土壤，使生產的葡萄果皮黑亮、果肉香甜。請問：該產銷班採取此種集約的精緻農業經營型態，與下列何者無關？

(A)耕地規模狹小 (B)提升農產品品質
(C)農村勞力眾多 (D)創造高附加價值。

13. 臺灣牛乳生產成本較高，與日本同為世界數一數二最高乳價的國家，約為歐盟或美國的一倍，更高於澳洲與紐西蘭的生乳價兩倍以上。請問：造成上述現象的主因，與下列何者有關？

- (A)臺灣酪農業普遍規模狹小
(B)臺灣酪農業技術冠於全球
(C)臺灣畜牧活動多屬農家副業
(D)臺灣交通發達易受動物疫病影響。

14. 臺灣的工業發展過程當中，政府依照每個時期所擁有的優勢條件，調整發展政策，因此臺灣工業在不同時期的發展類型和重點呈現階段性的變化。請問：下列四種工業發展的先後順序為何？

- (甲)製鞋業(乙)晶圓製造業(丙)鋼鐵業(丁)罐頭加工業
(A)甲丁丙乙 (B)甲乙丁丙 (C)丁甲丙乙 (D)丁甲乙丙。

15. 臺灣中部的彰化、雲林一帶為重要的蔬果專業生產區，當地由於受到下列何項條件的影響，有利於商品外銷到西部各大都市？

- (A)農村勞力外移，帶動農產向外銷售
(B)中山高速公路通車，便於蔬果運送
(C)農民致力品種培育，技術日趨先進
(D)氣候條件較為穩定，農產量持續增加。

16. 每年 10 月起至翌年 4 月底，捕撈鰻魚魚苗是臺灣漁民傳統產業活動之一，更是許多漁民維持生計的重要經濟來源。農委會於 2013 年訂定相關捕撈規定，其中一項是：每年自 3 月 1 日至 10 月 31 日止，禁止於距岸三哩內海域、潮間帶及河口水域以任何方式捕撈鰻苗。請問：此項政策將直接影響下列哪一種漁業的產量？

- 《改編自 109 年會考》
(A)近海漁業 (B)養殖漁業 (C)沿岸漁業 (D)遠洋漁業。

17. 政府相關部門欲調查臺灣重工業的發展狀況，以作為政府產業發展政策的制定依據。請問：該單位相關人員應前往下列何處進行訪查？

- (A)高雄臨廣加工出口區
(B)桃園統一食品加工廠
(C)臺北南港軟體工業園區
(D)雲林六輕石油化學工業區。

18. 民國八十年代後，政府陸續設置科學園區，發展半導體、光電及生物科技等產業，使臺灣成為高科技產業的重鎮。請問：有關上述產業所具備的特色，下列敘述何者正確？

- (A)勞力密集度高 (B)原料需求量大
(C)技術密集度高 (D)資金需求低。

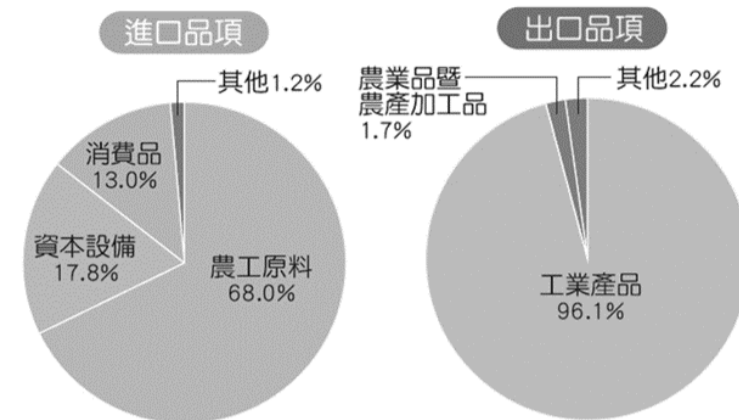
19. 民國六十年代，配合國內重大基礎建設計畫，政府推出十大建設，並選定高雄做為重化工業的基地。請問：上述現象與高雄的何項優勢條件有關？

- (A)港口利於原料進口 (B)擁有眾多高技術人才
(C)提供充裕廉價勞力 (D)動力充沛且價格偏低。

20. 下圖為民國 108 年臺灣主要進出口品項，請問：下列

何者與該圖所呈現的特色有關？

- (A)臺灣土地狹小，缺乏礦產且市場有限
(B)臺灣四面環海，國際貿易受天然阻隔
(C)政府廣設加工出口區，滿足國內民生需求
(D)傳統勞力密集產業外移，以降低生產成本。



21. 下列關於臺灣現今交通發展的敘述，下列何者正確？
(A)網際網路的普及率全臺各區域一致相同 (B)臺灣島內的貨物運輸以海運為主
(C)高鐵的通車達成西部一日生活圈願景 (D)國內航空以聯絡北部和南部區域各大都市為主。

22. 由於新冠肺炎疫情的影響降低許多人外出購物的意願，因此許多店家為求生存紛紛提供送貨到府的服務。若住新北市的蔡老師向陽明山的有機農場訂購新鮮蔬菜，農場老闆利用下列何種交通方式運送到蔡老師家最便捷？
(A)捷運 (B)空運 (C)鐵路 (D)公路。

23. 桃園捷運路線範圍涵蓋臺北市、新北市和桃園市，請問該捷運路線的通車促使下列哪一種現象的發生？
(A)北北基都會區的範圍擴及桃園市 (B)桃園市與新北市之間的空地面積增加
(C)桃園市人口外流的人數大幅增加 (D)提高桃園市居民到臺北市購屋的意願。

24. 通訊工具發展快速，讓我們的生活與各地可以產生快速連結。請問：下列哪一項不屬於「通訊」交通造成的生活方式？
(A)視訊教學 (B)電視購物 (C)新聞直播 (D)用電充足。

25. 下列關於臺灣「高速公路」的描述，何者正確？
(A)已完成全臺的環島系統 (B)避免都市和郊區交通阻塞
(C)促使宜蘭觀光人潮增加 (D)促使東部區域工商業發展。

26. 一般而言，經濟發展程度較高的國家，都市化程度也較高。請問下列何者為都市化程度的定義？
(A)二、三級產業的就業人口占一國(地)總人口的比例
(B)人口由鄉村向都市集中的過程 (C)都會區人口占一國(地)總人口的比例
(D)都市人口占一國(地)總人口的比例。

27. 現在臺北市有許多住宅區屋齡已超過 40 年，建物密集老舊，一旦發生地震、火災，住戶將逃生不易而有潛在的危險。請問下列何種措施較能根本改善上述問

題? (A)強制住戶遷出 (B)防災安全演習 (C)鼓勵購買保險 (D)推行都市更新。

28. 東部區域好山、好水的環境品質使其有臺灣最後一塊淨土之稱，但也意味著當地的經濟發展比其他區域遲緩。請問造成上述區域發展特徵的主要原因為何?
(A)山脈阻隔 (B)河川阻隔 (C)面積較小 (D)氣候不佳。
29. 到下列哪一個區域觀光旅行，可體驗戰地風情，參觀閩式民宅、洋樓等特色建築，購買高糧酒、貢糖、風獅爺鑰匙圈做為伴手禮? (A)南部區域 (B)中部區域 (C)北部區域 (D)金馬地區。
30. 下列哪一個區域平原廣闊，溪流由東往西流貫，帶來灌溉水源，是臺灣最重要的稻米、花卉、蔬菜供應地? (A)北部區域 (B)中部區域 (C)南部區域 (D)東部區域。
31. 芒果雪花水、鳳梨冰茶、荔枝汽泡水及椰子水咖啡在夏季深受臺灣民眾歡迎，請問上述這些熱帶水果的產區主要在下列哪一個區域? (A)東部區域 (B)南部區域 (C)中部區域 (D)北部區域。
32. 承上題，該區域為熱帶水果重要產區的主要原因為何? (A)緯度較低 (B)地形多樣 (C)四季有雨 (D)勞力充足。

臺北市立興雅國民中學 110 學年度第二學期七年級公民科補行評量講義

1. 青少年朋友間的交往，常因為年紀、經驗相近，而形成類似的價值觀，並且相互影響。請問，上述在形容哪一種社會化的途徑對青少年具影響力？
(A)家庭 (B)學校 (C)同儕團體 (D)傳播媒體
2. 根據我國國籍法規定，下列何者為中華民國國民？
(A)來自美國，在台灣居住 10 年的馬莉
(B)父親為台灣人，母親為泰國人的希則
(C)父母均為美國國籍在台灣出生的約翰
(D)因父親在台工作而來台的日本人豐田
3. 右圖是小禾的週六計畫，請試著在小禾的規畫中，找出哪些事情屬於生活中的公共事務？
(A)甲乙丙 (B)乙戊己 (C)丙丁戊 (D)甲丙丁
4. 我們從出生開始，就生活在團體裡。下列關於團體的敘述，何者正確？
(A)個人算是社會中最小的團體
(B)家庭是個人最早接觸的團體
(C)只要一群人聚集就稱為團體
(D)人不能同時隸屬於多個團體
5. 團體是由兩個以上的個人所組成，成員彼此有經常性的互動與溝通，以及一定程度的認同感，通常擁有共同的目標。根據上述內容判斷，下列何者不是團體？
(A)公車上的乘客 (B)合唱團的團員
(C)校刊社的社員 (D)基金會的成員
6. 靖娟兒童安全文教基金會是由一群有共同目標的人志願組成的團體，下列相關敘述與志願結社特徵的配對，何者正確？
(A)自主性：成員都是自願加入，以推廣兒童的安全為目標
(B)組織性：設企劃宣傳處、社會工作處等單位，各司其職
(C)志願性：基金會由一般民眾組成，所作行為不具強制力
(D)民間性：由基金會自主決定目標與行動，不受政府支配
7. 團體是個人融入社會生活的重要途徑，我們藉由參與團體滿足不同的需求，請問：下列關於團體對個人重要性的說明何者正確？
(A)為了滿足人際互動的需求，只能參與交友性質的的團體
(B)參加工作取向的團體，無法建立關係，只能夠達成目標
(C)參與同鄉會，可以讓人在陌生城市建立認同感與歸屬感
(D)校友會是只能達成建立人際關係、滿足情感需求的團體
8. 如果國中生想要參與社會事務貢獻心力，擔任志工，可以從事下列何種活動？
(A)參與選舉成為候選人 (B)幫忙父母做生意

(C)努力爭取優良的學業成績 (D)擔任社區環保志工

9. 文化是人類為了求生存，所創造的一切生活方式的總稱。請問：以下何者與文化相關？

- (A)沒有東西吃會餓 (B)看到錢會覺得開心
(C)聽到雷聲會害怕 (D)太陽太大會覺得熱。

10. 下列有關「文化位階」的影響敘述，何者有誤？

- (A)文化位階對部分族群的文化傳承產生限制，進而產生文化認同的危機
(B)文化位階將不同文化區分高低優劣之別，有助於篩選以提升文化品質
(C)文化位階現象下的團體，對非屬於同一團體的人常會加以排拒和輕視
(D)文化位階否定不同族群的生活歷程與經驗，將會造成文化多樣性消失

11. 走在街頭常見到年輕人盯著手機用通訊軟體在聊天，這種用網路上的 APP 程式溝通的文化可說是許多年輕族群的次文化。下列有關次文化的敘述，何者正確？

- (A)相較於主流文化，內容比較低俗
(B)內容可能會與主流文化不太相同
(C)是社會上大多數人所認同的內涵
(D)與主流文化間不具有任何共通性。

12. 環保署推動「宮廟減香」政策，很多廟宇也紛紛響應，實施香爐減量，讓民眾減少燒香、燒金紙。某網路平台也同時調查民眾對此事的看法，結果約有 70% 表示贊同，由此可見下列何項社會規範逐漸抬頭？

- (A)法律規定 (B)環境倫理 (C)年節習俗 (D)宗教信仰。

13. 北市某女子在網路上認識一名男子，贈送對方多項禮物並提供金錢資助，不料交往一段時間後，男子移情別戀，女子控告男子「感情詐欺」，但檢察官以欺騙感情不構成詐欺罪行，而做出不起訴處分。請問：若從社會規範的角度，上文內容最適合用來說明下列何者？

- (A)法律的價值遠高於其他社會規範
(B)維護社會秩序不能僅靠單一規範
(C)法律與倫理道德的規範模糊不清
(D)倫理道德的規範與法律互相抵觸。

14. 「公共政策網路參與平臺」最近有民眾提案「動物平等！應開放吃狗肉！」，主張「吃不吃是個人選擇，你可以愛狗愛貓選擇不吃，但你憑什麼要求別人跟你一樣不能吃。更何況在以前吃狗肉本來就是合法的。」此提案目前已確定不通過，原因在於「內容違反善良風俗」，且《動物保護法》規定對動物不得任意宰殺，因此無法進入附議階段。請問：根據上述報導內容判斷，下列敘述何者正確？

- (A)以現行規範來說，吃狗肉的行為是會受到公權力的強制制裁
(B)該提案是因為違背長時間累積而成的宗教信仰，所以不通過
(C)處罰吃狗肉的行為，只能依靠法律，其他社會規範無法處罰

- (D)立法除了可以限制吃狗肉的行為，更能規範食肉者內在想法。
15. 我國《民法》規定：「子女之姓氏，父母雙方可以書面約定，從父姓或從母姓。」反映出近年來社會各界提倡婚姻性別平權觀念的落實，由此可知上述《民法》的修改結果是屬於下列哪個層次的變遷？(A)器物層次影響社會制度的變遷 (B)器物層次影響價值觀念的變遷 (C)價值觀念影響器物層次的變遷 (D)價值觀念影響社會制度的變遷。
16. 下列有關「社會變遷」的敘述，何者正確？ (A)社會變遷是人類社會必然發生的現象 (B)社會變遷的結果，只會帶給人們負面影響 (C)社會變遷的各種制度，自古以來皆不會改變 (D)社會中的器物生活，今昔變化不大。
17. 基於對人性尊嚴的保障，給予弱勢者較多協助，讓他們得以公平地參與社會生活，這才是真正的平等，也是「社會正義」的實現。關於上述「社會正義」的內涵，下列何者錯誤？ (A)基於同情或憐憫的心態，給予弱勢者施捨 (B)社會資源對每一個人開放 (C)每個人都有平等的機會 (D)對於處境不利的弱勢者給予照顧。
18. 盲胞可以攜帶導盲犬出入公共場所、身障者使用汽、機車得免繳納「使用牌照稅」。請問：上述措施屬於何項社會福利政策的內涵？ (A)社會救助 (B)福利服務 (C)醫療保健 (D)社會保險。
19. 隨著人權觀念的發展，「平等」已經成為一個普世的價值。下列何者是「真平等」的作法？ (A)不論貧富，一律發給相同的生活津貼 (B)對於受災戶提供急難救助金 (C)外籍人士也能享受我國的社會福利 (D)餐廳、百貨公司全面禁止寵物、貓、狗進入，包括導盲犬。
20. 我國《憲法》明文規範對於弱勢團體人權的保障，更制定各項具體的社會福利政策。上述是何種精神的具體實踐？
(A)社會正義 (B)政治民主
(C)文化多元 (D)社會開放

CBDDBA BCDBB BBBAC AABBA