

臺北市立興雅國民中學 110 學年度第二學期七年級社會科第 2 次定期評量試卷

年 班 號 姓名：

一、選擇題：（每題 2 分）

- 老劉在某事件後，有感而發：「……抑此次事件，固非全由專賣與貿易政策造成，遠因近因，頗為複雜。人民無組織，何以能爆發如此大規模的行動？實由各級官吏，奉行政令者，平日對待人民驕縱專橫，構怨多而且深，民眾中懷怨憤，壓抑已久，故爾一觸即發……」請問：根據老劉所言，我們可以推論某事件應該是指？
(A)霧社事件 (B)西來庵事件
(C)二二八事件 (D)美麗島事件。
 - 承上題，上述事件發生的背景不包括下列何者？
(A)行政失當 (B)經濟惡化 (C)文化差異 (D)白色恐怖。
 - 附圖是洋洋在歷史課的筆記，若由內容來推斷，這堂課老師講述的主題應是下列何者？
(A)正名運動
(B)皇民化運動
(C)野百合運動
(D)臺灣議會設置請願運動。
-
- 生活在日治時期的王老先生有塊土地遭到鄰居侵占，請問：他應該透過何種途徑處理問題，爭取自己的權益？
(A)前往法院控告鄰居的不法行為
(B)向總督府請願，迫使鄰居歸還土地
(C)請警察大人裁決，確認土地的所有權
(D)向保正、甲長投訴，要求對鄰居進行訓誡。
 - 下表是阿雅複習整理上課筆記所做的中華民國行憲後總統一覽表，請問：粗心的她只有哪裡沒出錯？
- | 總統 | 重要事蹟 |
|-----------|-------------|
| (A) 蔡英文總統 | 第二次政黨輪替的總統 |
| (B) 蔣經國總統 | 宣布解除戒嚴的總統 |
| (C) 李登輝總統 | 歷史上連任最多次的總統 |
| (D) 蔣中正總統 | 第一位公民直選的總統 |
- 雯雯是生活在日治時期的臺灣女性，請問：下列哪一項都會生活的「文明初體驗」不可能出現在她的回憶錄裡？
(A)與姊妹淘相約喝咖啡聊是非
(B)週末前往北投公共浴場泡溫泉
(C)特地搭高鐵去臺南新開幕的林百貨朝聖
(D)穿著時髦洋裝和男朋友在臺北新公園裡約會。
 - 隨著知識的普及，新思潮的衝擊，知識分子要求民主的聲浪高漲。請問：臺灣史上民眾首次行使投票權的選舉發生在何時？
(A) 1935 年 (B) 1950 年 (C) 1987 年 (D) 1991 年。

- 十七世紀漢人移民臺灣之前，臺灣各原住民族曾是臺灣的主體族群。然而受到外來移民數量擴張的影響，導致他們居住空間被排擠縮小，在各移民族群彼此衝突、交流的狀況下，也使得臺灣各原住民族面臨大幅度的文化斷層、語言消失和族群認同的問題。想進一步認識臺灣原住民族的阿凱，特地前往參觀「臺灣原住民族百年影像暨史料特展」：(甲)臺灣原住民族主體意識的覺醒(乙)高砂族的歷史印記(丙)從生番到熟番(丁)山胞的政治參與。請問：他應該按何種順序參觀展區才符合歷史的發展？
(A)甲丙丁乙 (B)乙甲丙丁 (C)丙乙丁甲 (D)丁甲乙丙。

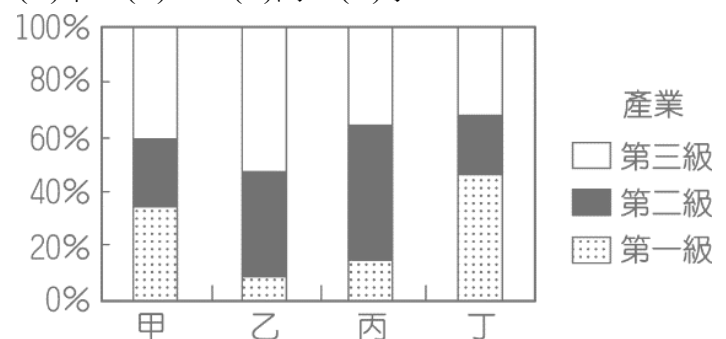
- 附表為四個城市人民從事各級產業比例圖，請依表中資料判斷，哪一個城市經濟的發展程度最高？
(A)甲 (B)乙 (C)丙 (D)丁。

城市	第一級產業	第二級產業	第三級產業
甲	80%	10%	10%
乙	30%	50%	20%
丙	10%	30%	60%
丁	35%	35%	30%

- 下列是小晴用來說明某一研究議題的部分內容。根據內容判斷，他最可能以下列何者為研究主題？
(A)休閒農業 (B)精緻農業 (C)有機農業 (D)永續農業

活動名稱
●陽明山竹子湖海芋季
●客家桐花祭
●花蓮六十石山金針花季
●臺南白河蓮花季
●台東池上秋收稻穗藝術節

- 附圖是臺灣某四個縣市的人口就業結構圖，其中哪一縣市的產業類型最可能是以服務業活動為主？
(A)甲 (B)乙 (C)丙 (D)丁。

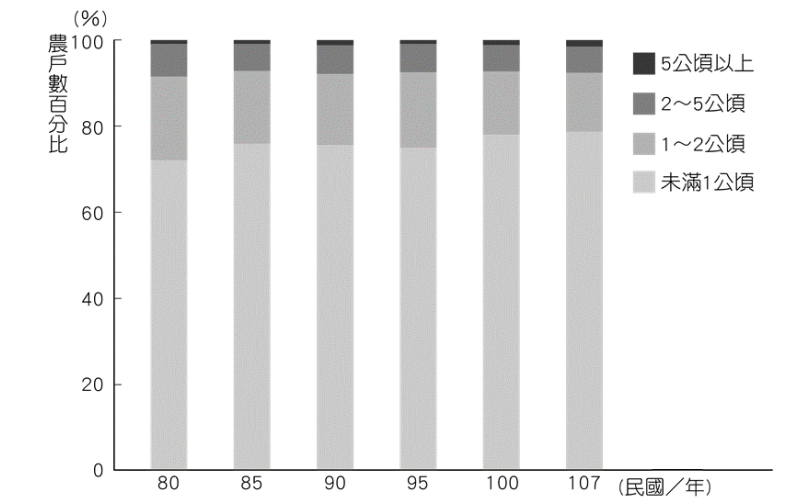


- 臺灣加入世界貿易組織（WTO）後，對農業經營產生前所未有的衝擊。為因應此狀況，下列何者為未來適合的農業發展方向？
(A)採取集約經營，降低生產成本
(B)設法開闢山林，增加耕地面積
(C)建立品牌及行銷，提高農業競爭力
(D)推廣農業自給自足，避免農產滯銷。

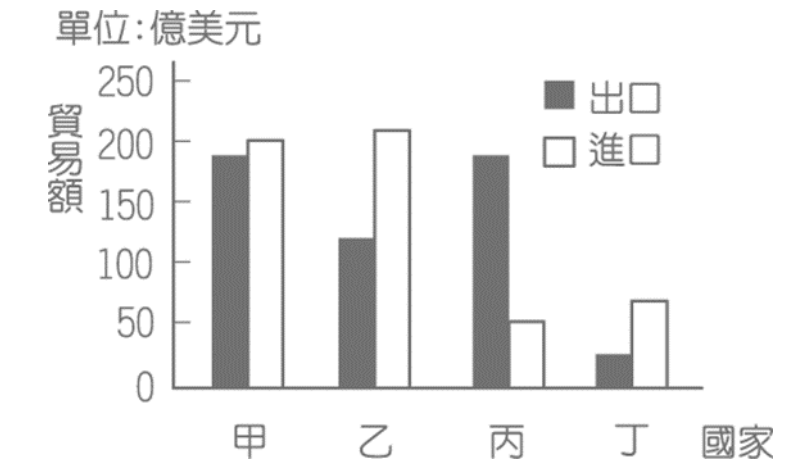
背面尚有試題

13. 臺中市新社區葡萄產銷班第三班，主要生產巨峰葡萄。該班所栽種的葡萄全部套袋，減少病蟲危害，同時運用合理化施肥的理念，使葡萄品質大幅精進，同時利用自製木醋液加以改良土壤，使生產的葡萄果皮黑亮、果肉香甜。請問：該產銷班採取此種集約的精緻農業經營型態，與下列何者無關？

- (A)耕地規模狹小 (B)提升農產品品質
(C)農村勞力眾多 (D)創造高附加價值。
14. 下圖為民國80~107年臺灣不同耕地規模的農戶數百分比，由圖中資料可得知，未滿1公頃的農戶數所占比例最高。請問：下列何者與上述現象有關？
- (A)農業技術較先進 (B)天災時常造成農損
(C)單位面積產量低 (D)臺灣地形山多平原少。



15. 臺灣牛乳生產成本較高，與日本同為世界數一數二最高乳價的國家，約為歐盟或美國的一倍，更高於澳洲與紐西蘭的生乳價兩倍以上。請問：造成上述現象的主因，與下列何者有關？
- (A)臺灣酪農業普遍規模狹小
(B)臺灣酪農業技術冠於全球
(C)臺灣畜牧活動多屬農家副業
(D)臺灣交通發達易受動物疫病影響。
16. 附圖為某年臺灣對甲、乙、丙、丁四個國家的貿易額統計圖。已知臺灣對日本的人超額最大，請問：下列何者最有可能為臺灣對日本的貿易資料？
- (A)甲 (B)乙 (C)丙 (D)丁。

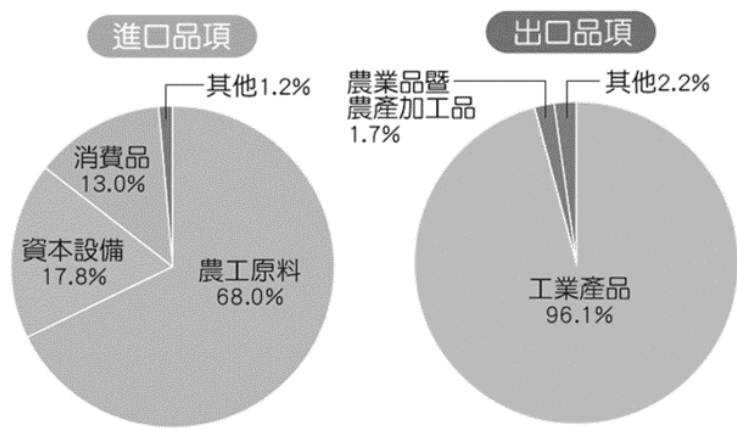


17. 臺灣的工業發展過程當中，政府依照每個時期所擁有的優勢條件，調整發展政策，因此臺灣工業在不同時期的發展類型和重點呈現階段性的變化。請問：下列四種工業發展的先後順序為何？

- (甲)製鞋業(乙)晶圓製造業(丙)鋼鐵業(丁)罐頭加工業
(A)甲丁丙乙 (B)甲乙丁丙 (C)丁甲丙乙 (D)丁甲乙丙。
18. 臺灣中部的彰化、雲林一帶為重要的蔬果專業生產區，當地由於受到下列何項條件的影響，有利於商品外銷到西部各大都市？
- (A)農村勞力外移，帶動農產向外銷售
(B)中山高速公路通車，便於蔬果運送
(C)農民致力品種培育，技術日趨先進
(D)氣候條件較為穩定，農產量持續增加。
19. 每年 10 月起至翌年 4 月底，捕撈鰻魚魚苗是臺灣漁民傳統產業活動之一，更是許多漁民維持生計的重要經濟來源。農委會於 2013 年訂定相關捕撈規定，其中一項是：每年自 3 月 1 日至 10 月 31 日止，禁止於距岸三浬內海域、潮間帶及河口水域以任何方式捕撈鰻苗。請問：此項政策將直接影響下列哪一種漁業的產量？
- 《改編自 109 年會考》
(A)近海漁業 (B)養殖漁業 (C)沿岸漁業 (D)遠洋漁業。
20. 政府相關部門欲調查臺灣重工業的發展狀況，以作為政府產業發展政策的制定依據。請問：該單位相關人員應前往下列何處進行訪查？
- (A)高雄臨廣加工出口區
(B)桃園統一食品加工廠
(C)臺北南港軟體工業園區
(D)雲林六輕石油化學工業區。
21. 民國八十年代後，政府陸續設置科學園區，發展半導體、光電及生物科技等產業，使臺灣成為高科技產業的重鎮。請問：有關上述產業所具備的特色，下列敘述何者正確？
- (A)勞力密集度高 (B)原料需求量大
(C)技術密集度高 (D)資金需求量大。
22. 民國六十年代，配合國內重大基礎建設計畫，政府推出十大建設，並選定高雄做為重化工業的基地。請問：上述現象與高雄的何項優勢條件有關？
- (A)港口利於原料進口 (B)擁有眾多高技術人才
(C)提供充裕廉價勞力 (D)動力充沛且價格偏低。
23. 下表為民國109年臺灣進出口對象前三名及所占百分比。請問：由該表可得知下列何項資訊？
- (A)臺灣進口大量農工原料
(B)工業產品為臺灣主要出口品項
(C)臺灣歷年來出超金額持續上升
(D)臺灣國際貿易依賴少數國家或地區

前三名	出口對象	比例(%)	進口對象	比例(%)
1	中國(含香港)	43.9	中國(含香港)	22.6
2	東協10國	15.4	日本	16.0
3	美國	14.6	東協10國	12.5
累計		73.9		51.1

24. 下圖為民國 108 年臺灣主要進出口品項，請問：下列何者與該圖所呈現的特色有關？
- (A)臺灣土地狹小，缺乏礦產且市場有限
(B)臺灣四面環海，國際貿易受天然阻隔
(C)政府廣設加工出口區，滿足國內民生需求
(D)傳統勞力密集產業外移，以降低生產成本。



25. 臺灣廠商在面對生產環境改變、市場競爭加劇的情況下，紛紛尋求相關解決方法，若採取生產區位轉移的策略，則附表中哪一工廠所做的選擇可有效降低生產成本？

選項	工廠	選擇
(A)	造船工廠	移至冰島生產
(B)	烘焙工廠	移至麵粉產區
(C)	紡織工廠	移至東南亞國家
(D)	手機工廠	移至石油產地國

26. 文化是人類為了求生存，所創造的一切生活方式的總稱。請問：以下何者與文化相關？
- (A)沒有東西吃會餓 (B)看到錢會覺得開心
(C)聽到雷聲會害怕 (D)太陽太大會覺得熱。
27. 「臺灣很多料理師，會從其他國家汲取特色加以變化。例如：將臺式炒空心菜加入蝦醬，做成蝦醬空心菜；也會改良泰國菜的金錢蝦餅，發展出了月亮蝦餅等。」請問：以下哪一概念可說明上述臺灣飲食的特色？
- (A)文化創新 (B)文化傳承 (C)文化位階 (D)文化資產。
28. 日本人沒有邊走邊喝飲料的習慣，此文化和臺灣不同，面對此種差異我們應該具備何種價值觀？
- (A)崇拜讚揚日本文化 (B)將所有文化融合為一
(C)尊重欣賞多元文化 (D)捍衛臺灣、排斥日本。
29. 下列有關「文化位階」的影響敘述，何者有誤？
- (A)文化位階對部分族群的文化傳承產生限制，進而產生文化認同的危機
(B)文化位階將不同文化區分高低優劣之別，有助於篩選以提升文化品質
(C)文化位階現象下的團體，對非屬於同一團體的人常會加以排拒和輕視
(D)文化位階否定不同族群的生活歷程與經驗，將會造成文化多樣性消失

30. 走在街頭常見到年輕人盯著手機用通訊軟體在聊天，這種用網路上的 APP 程式溝通的文化可說是許多年輕族群的次文化。下列有關次文化的敘述，何者正確？
- (A)相較於主流文化，內容比較低俗
(B)內容可能會與主流文化不太相同
(C)是社會上大多數人所認同的內涵
(D)與主流文化間不具有任何共通性。
31. 以下文化特性與敘述的配對，何者正確？
- (A)明華園歌仔戲團將傳統歌仔戲加上許多新的元素，在國家戲劇院演出--普遍性
(B)小雲到世界各國旅遊時，發現在不同的社會中，都有婚姻制度的存在--差異性
(C)世界各地的舞蹈各具特色，例如：巴西的森巴舞、墨西哥的帽子舞等--累積性
(D)在我國，包紅包通常代表對喜事的祝賀，但千萬不可用於喪事的場合--制約性。
32. 中國有不少朝代由於有「非我族類，其心必異」的心態，因此常與四周民族發生戰爭與衝突。請問：上述這種心態可以說明下列哪一項文化位階的現象？
- (A)透過政策推廣多元文化消除文化位階
(B)對內產生凝聚感，對外產生輕視排斥
(C)藉由多元文化精神所形成的文化位階
(D)文化容易產生自我否定，不利於傳承。
33. 環保署推動「宮廟減香」政策，很多廟宇也紛紛響應，實施香爐減量，讓民眾減少燒香、燒金紙。某網路平台也同時調查民眾對此事的看法，結果約有 70%表示贊同，由此可見下列何項社會規範逐漸抬頭？
- (A)法律規定 (B)環境倫理 (C)年節習俗 (D)宗教信仰。
34. 下列關於社會規範的配對，何者正確？
- (A)古代泰雅族男女須達成特定條件才得以紋面--法律
(B)三人以上共用之室內工作場所全面禁菸--風俗習慣
(C)結婚應由雙方當事人向戶政機關登記--倫理道德
(D)相信「舉頭三尺有神明」、「九天玄女」--宗教信仰。
35. 北市某女子在網路上認識一名男子，贈送對方多項禮物並提供金錢資助，不料交往一段時間後，男子移情別戀，女子控告男子「感情詐欺」，但檢察官以欺騙感情不構成詐欺罪行，而做出不起訴處分。請問：若從社會規範的角度，上文內容最適合用來說明下列何者？
- (A)法律的價值遠高於其他社會規範
(B)維護社會秩序不能僅靠單一規範
(C)法律與倫理道德的規範模糊不清
(D)倫理道德的規範與法律互相牴觸。
36. 立法院打破傳統「法不入家門」與「清官難斷家務事」的思維，制定了《家庭暴力防治法》。請問：此舉顯示了何種意涵？
- (A)傳統社會大都沒有家暴事件
(B)用法律來取代傳統倫理道德
(C)社會規範通常不會互相影響
(D)法律隨社會的發展與時俱進。

背面尚有試題

37. 「公共政策網路參與平臺」最近有民眾提案「動物平等！應開放吃狗肉！」，主張「吃不吃是個人選擇，你可以愛狗愛貓選擇不吃，但你憑什麼要求別人跟你一樣不能吃。更何況在以前吃狗肉本來就是合法的。」此提案目前已確定不通過，原因在於「內容違反善良風俗」，且《動物保護法》規定對動物不得任意宰殺，因此無法進入附議階段。請問：根據上述報導內容判斷，下列敘述何者正確？
- (A)以現行規範來說，吃狗肉的行為是會受到公權力的強制制裁
- (B)該提案是因為違背長時間累積而成的宗教信仰，所以不通過
- (C)處罰吃狗肉的行為，只能依靠法律，其他社會規範無法處罰
- (D)立法除了可以限制吃狗肉的行為，更能規範食肉者內在想法。
38. 塞班在課堂報告時，將社會規範加以分類並製成以下表格，卻被同學發現有錯誤。請問：錯誤的項目是？

項目	正式規範	非正式規範
(A)產生方式	國家制定	長期演進
(B)主要作用	約束外在行為	啟發內在良知
(C)違反處罰	社會輿論批評	政府強制處罰
(D)舉例說明	法律	倫理道德

39. 西元 1901 年澳洲政府推行《白澳政策》：只准白人移民澳洲，該政策鞏固了白人至上的國家定位，亦開啟了澳洲最黑暗的歷史。面對在當時被視為落後與野蠻的原住民，澳洲當局採取極端的「同化政策」，將至少 10 萬名原住民兒童帶往白人家庭，進行開化照顧，不僅造成許多家庭的人倫悲劇，澳洲原住民的文化也因此面臨斷層與存續的危機。請問：下列何種方式最能改善此危機？
- (A)加強白人文化的凝聚力與向心力
- (B)原住民族文化應想辦法不斷創新
- (C)隨著時間，文化同化後就能改善
- (D)制定法律來確保原住民文化權益。
40. 育緯周末搭火車出遊，在火車上看到「博愛座 Priority Seat—請優先讓位給老人、孕婦、行動不便及抱小孩的乘客」之標示。請根據此標示判斷下列何者為「是」？
- (A)若違反此標示，將會受到公權力的制裁
- (B)此標示的規範，強調個人與社會大眾的關係
- (C)此規範和「舉頭三尺有神明」屬於相同類型
- (D)此標示的規範和「每年清明節一定要回鄉祭祖」屬於相同類型。
41. 以前還是父權主義至上的時候，傳統社會有「嫁雞隨雞、嫁狗隨狗」的社會風氣。而隨著價值觀的改變，《民法》修訂了內容，規定夫妻財產及居所只要雙方約定好即可。請問：上述最適合用下列何者來說明？

- (A)只要傳統的東西都是不好的
- (B)非正式規範之間會互相影響
- (C)非正式規範經常是正式規範的基礎
- (D)以正式規範改變不合時宜的非正式規範。

二、整合題：(每題 2 分)

※臺灣在威權統治期間，人民的基本人權受到嚴重緊縮，「黨禁」限制了人民結社自由，「報禁」箝制人民言論自由。為了自由民主，人民前仆後繼地抗爭，造成許多政治案件。「美麗島事件」便是臺灣人民挑戰威權體制，以實際行動參與、追求人權的價值的歷史篇章。請問：

42. 下列有關「美麗島事件」的敘述，何者錯誤？
- (A)發生的地點在高雄
- (B)發生於民國六十八年
- (C)起因是為紀念言論自由日而舉行的遊行活動
- (D)過程中發生警民衝突並造成多位黨外人士被捕入獄。
43. 承上題，《美麗島雜誌》所提倡的「解除戒嚴、國會全面改選、修改憲法」，是影響臺灣邁入民主化的重要動力。請問：當時黨外人士挑戰威權體制的三項政治訴求，何者最早實現？
- (A)解除戒嚴 (B)國會全面改選
- (C)修改憲法 (D)三項訴求皆未能付諸實現。

※附圖為臺灣某報紙刊載的徵人啟事。

徵求護士學徒		【徵人啟事】
限內地人 高等小學校畢業以上程度 攜帶履歷面談	徵求服務生 年齡十七至十八歲 小學校、公學校畢業 有意者請攜帶履歷表前來 卅日下午六時面談 牡丹咖啡店	
臺北帝國大學附屬醫院		

44. 請問：上述徵人啟事裡出現哪些限制條件？
- (甲) 年齡 (乙) 學歷 (丙) 國籍 (丁) 性別
- (A)甲 (B)甲乙 (C)甲乙丙 (D)甲乙丙丁。
45. 下列求職者中，符合「服務生」資格的有幾人？
- (A)一人 (B)二人 (C)三人 (D)四人。
- | 姓名 | 年齡 | 最高學歷 |
|------|------|--------|
| 王阿珠 | 18 歲 | 艋舺公學校 |
| 吳大寶 | 17 歲 | 臺中中學校 |
| 小林花子 | 16 歲 | 金瓜石小學校 |
| 山田一郎 | 19 歲 | 嘉義農林學校 |
46. 根據內容來判斷，何時的報紙最有可能出現上述徵人啟事？
- (A) 1880 年代 (B) 1900 年代
- (C) 1930 年代 (D) 1960 年代。

三、配合題：(每題 2 分)

※在臺灣的發展史上，有許多為後人所津津樂道的人物，他們的所作所為，或多或少都對臺灣造成影響。請根據史實找出正確的配對。

(A) <u>陳誠</u> (B) <u>陳儀</u> (C) <u>雷震</u> (D) <u>林獻堂</u> (AB) <u>蔣渭水</u> (AC) <u>樂信瓦旦</u> (AD) <u>後藤新平</u>

- 47. 擔任行政長官時集行政、立法、軍事大權於一身，而被臺灣人稱為「新總督」。
- 48. 主張以溫和的方式進行抗爭，爭取臺灣人的自由平等，而被稱為「臺灣議會之父」。
- 49. 主張民主政治必須要有反對黨制衡，計畫籌組中國民主黨而被執政當局以「涉嫌叛亂」罪名逮捕下獄。
- 50. 在行醫之餘，積極參與政治社會運動，被譽為「臺灣孫中山」，國道五號就是為了紀念他而命名。