

一、選擇題：

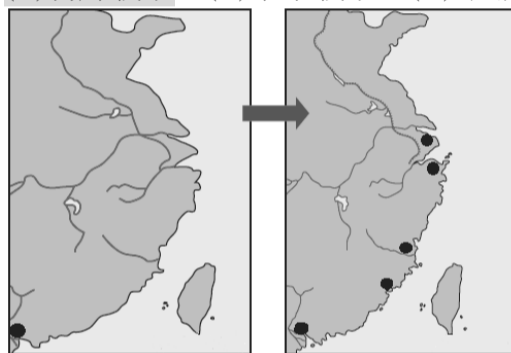
- 下列是某國人民在吹噓自己國家對中國的「豐功偉業」，他說：「哈哈！我們國家在陸戰及海戰都打爆了中國，還得到鉅額的賠款及土地，更厲害的是把中國勢力逐出朝鮮。」請問，上述的應該是何國人民所言？
(A)法國 (B)英國 (C)日本 (D)俄國
- 清末一連串的變革，代表中國人在西力衝擊下的反應。姍姍讀完此段歷史後，整理出變革的歷程如下：(甲)→庚子後新政；(乙)→立憲運動。請問：(甲)、(乙)應分別填入何事？
(A)鴉片戰爭、英法聯軍 (B)八國聯軍、日俄戰爭 (C)英法聯軍、甲午戰爭 (D)甲午戰爭、日俄戰爭。
- 有位歷史人物，在天堂與神談論自己一生事蹟：「我上書皇帝，痛斥鴉片對中國的禍害感動皇帝，他派我到廣州查禁鴉片。」請問：這位歷史人物應該是？
(A) 李鴻章
(B) 康有為
(C) 梁啟超
(D) 林則徐
- 清朝期間，英國人 John 在中國殺了中國民女花花，全鄉里人士都悲憤不已，要求依中國法律殺人者償命處決。不料，清廷的地方官卻無權審問他，改交由英國審判。不料幾個月後，John 卻又在中國境內大搖大擺，毫無悔意。請問：這是因為中國喪失何種權力所造成？
(A)協定關稅 (B)領事裁判權 (C)片面最惠國待遇 (D)租借
- 以下是清末文人對某事件的描述：「當時在官府的默許下，群眾進入天津租界，縱火焚燒教堂、房屋，於是各街市店舖有販售洋貨者，皆用紅紙將招牌上的『洋』字糊上，以防群眾焚掠。即便是一般家庭日用之物，如洋燈、鐘錶等類，也都掩藏不敢使用。」根據上文判斷，此事件最可能是下列何者？
(A)鴉片戰爭 (B)英法聯軍 (C)義和團事件 (D)甲午戰爭
- 翔翔唱著老師教的朝代歌：「黃帝—唐—虞—夏—商—周，周分西東周；後是兩漢—三國—西東晉……」，請問空格應填入哪個朝代呢？
(A)秦 (B)元 (C)南北朝 (D)隋唐
- 從秦始皇、漢建立到漢武帝，中國政治主流思想歷經三種變化，依其先後順序應為下列何者？
(A)黃老思想→儒家→法家 (B)黃老思想→法家→儒家 (C)儒家→黃老思想→法家 (D)法家→黃老思想→儒家
- 漢武帝採行積極作為的政策對往後歷史發展影響極大，有關漢武帝施政的敘述，正確的有：
(甲)推崇儒家思想
(乙)規定郡國每年推舉孝廉各一人
(丙)控制思想、焚書坑儒
(丁)對匈奴採和親政策
(A)甲乙丁 (B)甲乙丙丁 (C)甲丁 (D)甲乙
- 姬宮涅，是當朝周天子。他有元配申后、寵妃褒姒及妃子杜娘。元配申后生子姬宜臼，妃褒姒生子名為姬伯服，妃子杜娘生子姬撰。三人的年紀由大到小排列，分別是：姬撰>姬宜臼>姬伯服。但最後卻由姬宜臼繼承王位。請問是何種制度的規定讓姬宜臼具有優先繼承君位的資格？
(A)封建制度 (B)禮樂制度 (C)宗法制度 (D)禪讓制度。
- 北魏孝文帝所施行的漢化政策有哪些？(甲)鼓勵胡漢之間通婚 (乙)禁穿胡服 (丙)漢語與胡語二者皆為官方語言 (丁)改胡姓為漢姓
(A) 甲丙丁 (B)甲乙丁 (C)甲乙丙丁 (D)甲乙丙
- 中國歷代非常注重人才的提拔，而九品官人制導致「上品無寒門，下品無世族」社會現象的出現，其制度的實施與結束分別是在哪個朝代？
(A)曹魏、唐代 (B)南北朝、隋代 (C)秦代、隋代 (D)曹魏、隋代
- 有位學者在演講稿中寫到：「在此以前的中國，只是一種封建的統一。直到此時，中央方面才有一個更正式的統一政府，其所轄各地方，不再是封建性的諸侯列國並存，而是緊密隸屬於中央的郡縣制行政區分了。而官員也不再憑藉血緣世襲貴族，而是由君王直接任命。」他所說的「此時」最可能是指下列何時？
(A)商周 (B)秦代 (C)漢代 (D) 隋唐。
- 睿睿整理中國歷史各朝代的資料時，找到了三項資料：
一、這個時代，胡漢逐漸融合與南北文化交流日益顯著
二、由於人民飽受戰亂之苦，佛教成為精神寄託
三、這段時期，北方人士大量南遷帶來了人力及技術，為長江流域的開發奠下基礎。請問：睿睿的資料是指中國歷史哪一階段？
(A)商周時期 (B)兩漢時期 (C)魏晉南北朝時期 (D)隋唐時期
- 《左傳》：「昔（指西周）武王克商，光有天下。其兄弟之國者十有五人，姬姓之國者四十人，皆舉親也。」（資料來源：左丘明，左傳·昭公二十八年）請問：《左傳》中的內容，是指下列哪種措施？
(A)封建體制 (B)郡縣體制 (C)封建郡縣並行制 (D)科舉制度。
- 南宋文天祥被押解到柴市口刑場，臨死之前，解開他的衣帶寫下：「孔曰成仁，孟云取義；惟其義盡，所以仁至。讀聖賢書，所學何事；而今而後，庶幾無愧。」監斬官問：「丞相還有甚麼話要說？」他問監斬官：「哪邊是南方？」文天祥向南方跪拜百次後，引頸就刑，從容就義。文天祥死時年僅四十七歲。由文天祥的行為顯示他極為重視名節的觀念，請問是受到當時哪一種思想的影響？
(A)清談 (B)文人政治 (C)佛教 (D)理學
- 龍哥與朱元璋乃生死之交，下列哪些情景可能是龍哥與朱元璋的經歷？(甲)參與抗元戰爭，擊敗群雄，北伐蒙古，結束元朝在中國統治 (乙)龍哥與朱元璋一起逛夜市，邊聽說書，邊吃烤玉米 (丙)聽聞耶穌會傳教士利瑪竇與徐光啟合譯《幾何原本》(丁)沿海倭寇作亂，建

議朱元璋實施海禁政策。(A)甲乙丙 (B)甲乙丙
(C)甲丙丁 (D)甲丁。

17. 兩子是明代的商人，在他經商的過程中，有哪些事物是以前朝代所沒有的經歷呢？(甲)使用白銀交易(乙)與西班牙商人進行絲綢貿易(丙)加入商幫組織(丁)投宿會館過夜(A)甲乙 (B)甲丙丁 (C)乙丙丁 (D)甲乙丙丁
18. 後周君臣正在朝賀新年，突然接到遼兵入侵的情報，大臣們慌成一團。小皇帝命令『殿前都點檢』率領禁軍前往迎敵。他接到出兵命令，立刻調兵遣將，正月初二即率兵出城。當天下午大軍抵達距離開封幾十里的陳橋驛。當天晚上命將士在此紮營休息。兵士們倒頭呼呼大睡了，但是一些將領卻聚集在一起，悄悄商量，有人說：『現在皇上年紀那麼小，我們拼死拼活去打仗，將來有誰知道我們的功勞，倒不如現在就擁護都點檢做皇帝吧！』這一晚，他喝得大醉而睡，一覺醒來，只聽得外面一片嘈雜，接著，就有人打開房門，高聲地叫嚷，說：『請都點檢做皇帝！』他趕緊起床，還沒來得及說話，幾個人把早已準備好的一件黃袍七手八腳地披在他身上。大夥跪倒在地上磕了幾個頭，高呼“萬歲”。接著，又推又拉，扶上馬，請他回京城。這就是黃袍加身的典故請問：根據故事的內容的皇帝應為何人？(A)宋太祖 (B)元世祖 (C)明太祖 (D)清聖祖。
19. 「這一段盛世長達一百三十多年，在平定封建諸侯的叛亂後，內部的統治愈見鞏固；對西北諸部多次用兵，將今日的蒙古、新疆、西藏納入版圖，君主的權力達於極盛。但在輝煌的表象下，有一股嚴厲的政風。政府雖然表面上大力支持學術事業，不少讀書人卻因文字觸犯忌諱慘遭迫害……。」這段文字描述的是何時的景況？(A)宋代 (B)元代 (C)明代 (D)清代。
20. 從明到盛清，中國人口迅速成長，乾隆時期已達三億。促成明清中國人口成長的主要原因是下列何？(A)傳教士引進西方醫學，克服許多疾病，降低死亡率 (B)版圖遼闊，禮遇色目人，使外族人口激增 (C)引進美洲新作物，食物來源增加，可養活更多人口 (D)引進越南稻，糧食增產，許多人因而能存活。
21. 有一位史學家黃仁宇認為：「從物質生活講，十二世紀的中國，無疑的已領先世界。」這主要是針對某個代而提出的看法，請問：這個朝代的特色為何？(A)商人集團興起，在各大城市建立會館 (B)廣設驛站因此路上貿易遠達歐洲等地，使商貿活動更活絡。 (C)傳統科技發達，包括指南針、造紙術、火藥、活字版印刷等先進技術，及坊市制度廢除、夜市出現呈現多采多姿城市風貌 (D)外國商人以白銀購買中國絲綢、瓷器等商品，使中國進入世界經濟體系。
22. 西元 13 世紀時，有位歐洲人馬可波羅 (Marco Polo) 口述自己在東方的經歷與見聞：「我隨著叔父來到富庶的東方國家，被稱為『色目人』，後因『擅長領兵打仗』而受到重用。當年我從此國第一大港『泉州』登陸後，開始了驚奇之旅。我看見人們逛『夜市』。我也發現此國的首都築有通往各地的道路，每隔一段距離就設置名

為『會館』的招待所，提供政府官員和過往商旅使用，非常便利。」上述『引號』內容正確的有幾項？(A) 2 項 (B) 3 項 (C) 4 項 (D) 5 項

23. 日本之所以會從鎖國走向開港通商，進而走向改革之路，起因為何？(A)受到英國船堅炮利的威脅，不得已只好開放通商 (B)受到美國「黑船事件」的威脅，只好結束閉關自守 (C)受到荷蘭「蘭學」的啟發，決定放手開放門戶 (D)受到日俄戰爭刺激，逼不得已開港通商
24. 清末，立憲派人士熱中於請願推廣立憲制度，但最後為何有許多立憲派人士改變初衷，轉而支持革命？(A)因康有為的提倡，革命風潮日熾 (B)義和團事件後有感於清廷昏庸 (C)皇族內閣的出現，顯示清廷缺乏改革誠意 (D)因革命派的利誘，使立憲派與革命派合流。
25. 中國通商口岸的開放，影響著外商在中國的貿易活動是否能順利進行，左圖與右圖是中國兩個不同時期所開放的通商口岸，受什麼戰爭因素影響，讓原本只有一口通商的中國，接連開放五個通商口岸？(A)英法聯軍 (B)鴉片戰爭 (C)甲午戰爭 (D)八國聯軍。



26. 上海擁有「東方巴黎」的美譽，各式洋樓林立，有十里洋場之稱。有關上海的敘述，何者正確？(A)英法聯軍後，上海開港通商 (B)在元朝時，設立市舶司於上海 (C)清乾隆皇帝為方便管理，諭令唯一通商口岸為上海 (D)境內有各國租界區，不受清廷管轄，外來文化可快傳入上海。
27. 在清朝後期的某一場戰爭，大清帝國被來自歐洲的英國打敗。但清朝認為是一時的挫敗，下次一定能討回公道，所以又繼續原地踏步二十年，錯失改革契機的二十年。而這個該讓中國覺醒卻又未喚醒中國的戰爭是哪一場戰爭呢？(A)中法戰爭 (B)英法聯軍 (C)鴉片戰爭 (D)甲午戰爭
28. 小民在《圖說中國史》一書中看到兩人對話，根據對話內容判斷，其背景應為下列何者？

宣宣說：「怎麼辦？朝廷已經公布要停止鄉試會試，科舉制度就要廢除了！」

凱凱：「我多年寒窗苦讀都白費了！」

- (A)恭親王奕訢學習西方器物，推動自強運動
(B)光緒皇帝為改革制度，進行戊戌變法
(C)慈禧太后為維護政權，推行庚子後新政
(D)清廷因應朝野人士要求，進行立憲運動。

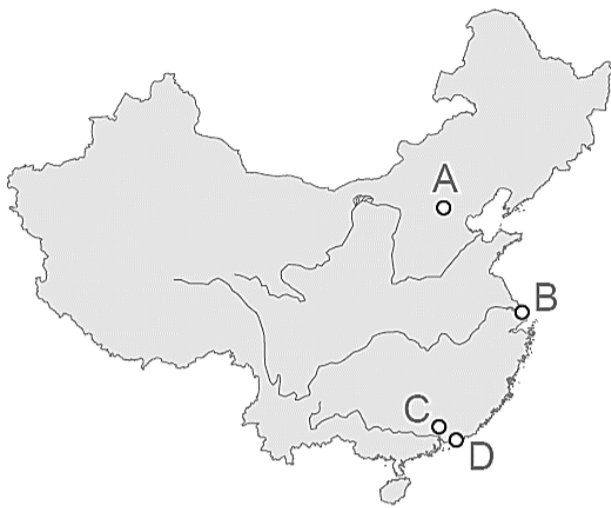
29. 在傳統中國裡認為女子無才便是德，認為女子不該讀書識字，但徐志摩生命中的三個女子都受過新式教育。請問：女子受教育的問題受重視開始於何時？（A）18世紀初期（B）18世紀中期（C）19世紀後期（D）20世紀末期。
30. 清末某位新知識分子的傳記內容如下：「此人飽讀詩書，乃徐志摩之師，曾參與某項變法，但失敗逃往國外。他後來受到《天賦人權》思想的啟發，積極提倡男女平等，發起不纏足運動，並興辦女子學校。」請問：文中提及的這位「新知識分子」是下列何者？（A）胡適（B）梁思成（C）林長民（D）梁啟超。

臺北市立興雅國民中學 110 學年度第 1 學期八年級地理科補行評量講義

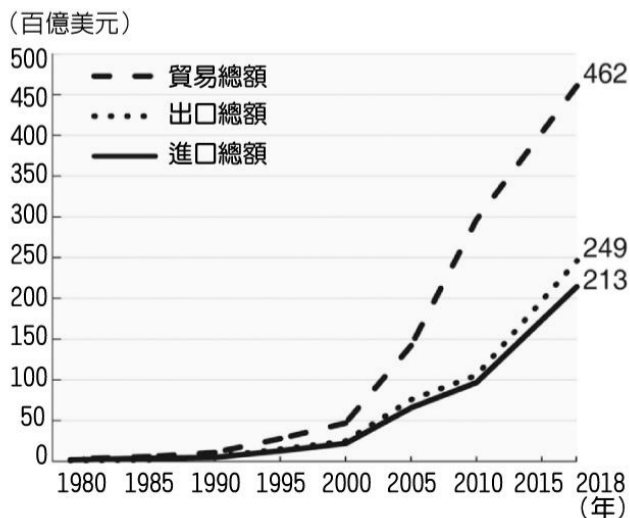
年 班 號 姓名：

一、選擇題：(每題 2 分)

1. 第 41 屆世界博覽會，於西元 2010 年在中國盛大展開，主辦的城市選在中國的工、商、金融中心，同時也是世界第一大港。請問：該博覽會舉辦地點位於附圖中的何處？
(A)A 市 (B)B 市 (C)C 市 (D)D 市。

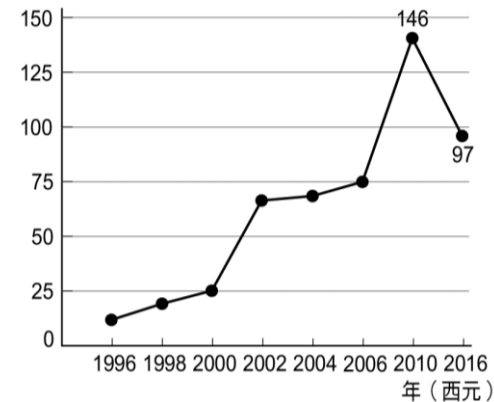


2. 承上題，該城市從過去的小漁村，搖身一變成為中國的第一大都市，主要的發展優勢為何？
(A)南部水陸樞紐 (B)北部政治中心
(C)地理位置優越 (D)設立經濟特區。
3. 西元 2019 年末爆發的新型冠狀病毒疫情，使中國的一帶一路面臨貨物、人口移動的困境；有許多國家、地區的航班禁止飛到中國，各國對中國旅客也採取不同程度的入境管制。請問：下列哪一個地區因位於一帶一路的路線上，對於新型冠狀病毒的擴散最須採取積極的防範措施？
(A)東南亞 (B)北美洲 (C)大洋洲 (D)中南美洲。
4. 下表為近年來中國進出口貿易總額統計圖，請問：圖中相關貿易數據的變化，與下列何者**無關**？
(A)中國製造的產品遍及世界各國
(B)中國擁有龐大消費市場的潛力
(C)改革開放政策實施，中國產業蓬勃發展
(D)中國面積廣大，因此吸引外商投資設廠。



5. 根據國際貨幣基金公布，西元 2018 年中國 GDP (國內生產毛額) 居世界第二；但每人平均 GDP 則排名世界第 67 名。請問：上述現象的成因與下列何者有關？
(A)貧富差距 (B)人口總數 (C)政治體制 (D)最低工資。
6. 附圖為西元 1996~2016 年臺商對中國投資金額統計圖，請問：西元 2010 年後臺商投資中國的金額變化，與下列何項因素的關聯性最大？

- (A)中國基本工資提高 (B)中國勞動人口減少
(C)台灣電子商務崛起 (D)台灣轉向投資歐美



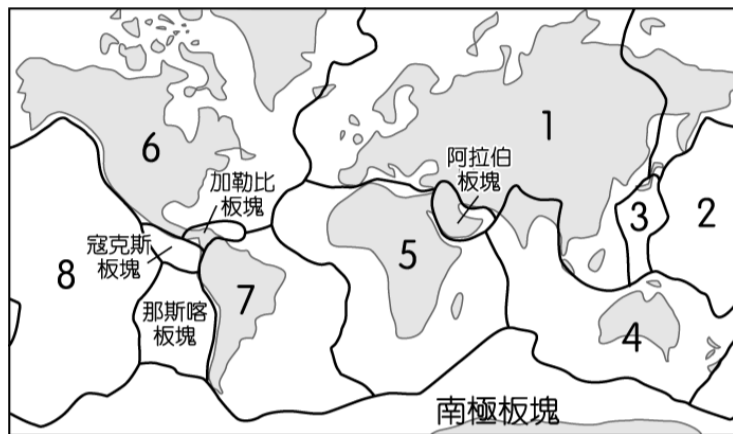
7. 密集且便利的交通運輸，使各地的礦產、商品、人流移動更加快速，有助於工商業的發展。請問：針對中國的交通建設與經濟發展的關聯性，下列敘述何者正確？
(A)東半部的路網密集程度較高，工商業快速成長
(B)東半部地勢崎嶇，需改善交通以支持產業發展
(C)西半部人口較少，因此不需加強基礎交通設施
(D)西半部資源豐富，主要是仰賴空運來運輸原料。
8. 中國年降水量分布不均，水資源短缺的省區市多是人口與農、工業的主要分布地帶。為解決缺水問題，中國實施「南水北調」工程，將「年降水量較多的河川」，調水至「水資源嚴重短缺的區域」。請問：由上文敘述推論，「南水北調」工程最有可能是如何進行？
(A)將長江的水資源輸送至珠江流域
(B)將珠江的水資源輸送至塔里木河
(C)將長江的水資源輸送至黃河流域
(D)將珠江的水資源輸送至東北地區。
9. 中國曾經被稱為「世界工廠」，中國製造 (Made in China) 也成為價格低廉的代名詞；而近年中國則轉變為「世界市場」，無論在汽車、能源、半導體、奢侈品、旅遊等領域，消費能力皆在世界名列前茅。請問：中國從世界工廠轉為世界市場，其關鍵因素為何？
(A)勞力成本降低 (B)網際網路發達
(C)生產類型單一 (D)國民所得提高。
10. 隨著經濟發展，中國第二、三級產業的就業人口比例已逐漸超越第一級產業，但中國的農業仍能滿足眾多人口對糧食的需求，其原因與下列何者有關？
(A)人均可耕地面積較大 (B)從事農業人口逐年增加
(C)農業生產技術的提升 (D)大量進口國外糧食作物。

11. 先進國家企業領先的技術、平台、品牌、以及成熟的消費需求，成為近期中國企業大舉投資的目標。由此可知，中國企業以龐大的財力併購各國製造業廠商，其目標與下列何者有關？

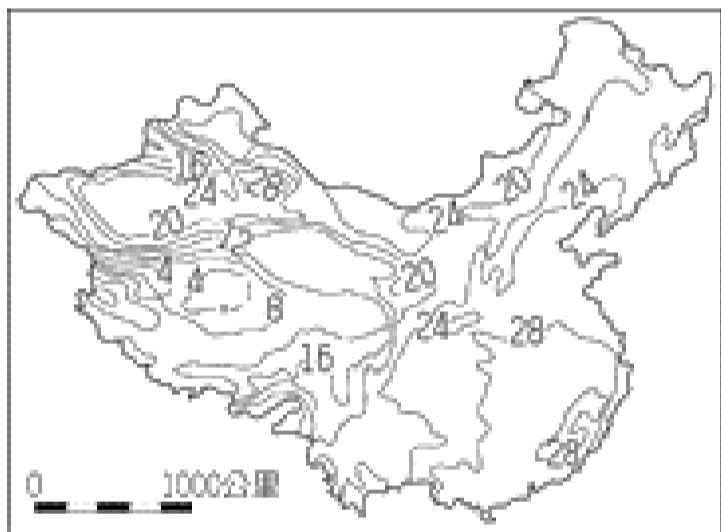
- (A)進入歐美市場 (B)增加外國對中國的投資
(C)快速取得原料 (D)促進產業轉型為第三級。

12. 附圖為全球主要板塊的分布圖。青藏高原的面積達 250 萬平方公里，約為中國面積的 1/4，平均高度 4,500 公尺，有世界「第三極」之稱。請問：其成因和附圖中哪二個板塊的擠壓有關？

- (A)1、2 (B)1、3 (C)1、4 (D)1、5。



13. 附圖為中國某種氣候現象的分布圖。根據圖中數據判斷，下列何者為該圖的正確名稱？



- (A)一月份均溫等溫線圖 (B)年降水量分布圖
(C)七月均溫等溫線圖 (D)一月氣壓等壓線圖。

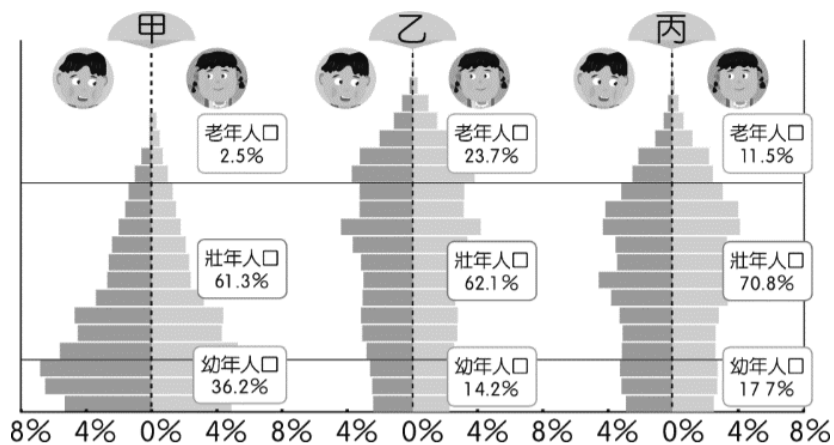
14. 中國幅員廣大，地形複雜，下列為四位同學對中國地形特徵的描述，誰的說法最正確？

- (A)許生:地勢西高東低，有利海洋水氣吹入內陸
(B)黃生:東側山脈受板塊擠壓的影響多呈東西走向
(C)蔡生:盆地與平原佔地面積最廣，利於中國農業發展
(D)王生:河川多東向西流，利於內陸水運交通的發展。

15. 2020 年中國新生兒性別比高達 111，對於此人口問題的敘述，下列何者正確？

- (A)性別比 111 表示中國新生兒人數女孩多於男孩
(B)重男輕女的傳統觀念造成此問題
(C)此問題將會造成更嚴重的人口老化現象
(D)一胎化政策是解決性別比例失衡的最佳方法。

16. 附圖為中國 1980、2019 及 2040 年的人口金字塔圖(2040 年為推估值)，請根據其特色判斷，若依時間先後順序排列，應該為下列何者？

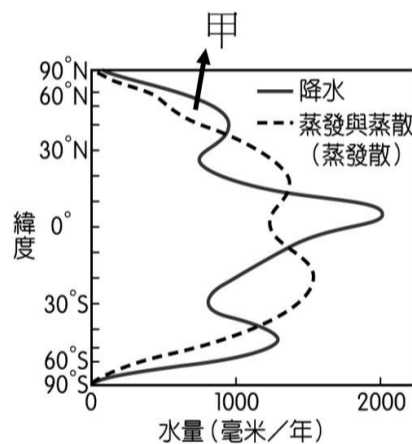


- (A)甲乙丙 (B)甲丙乙 (C)乙丙甲 (D)丙甲乙。

17. 中國在 2015 年宣布開放生育二胎政策，其目的最主要為解決哪些問題？(甲)高齡化(乙)城鄉人口流動(丙)勞力短缺(丁)提高教育水準

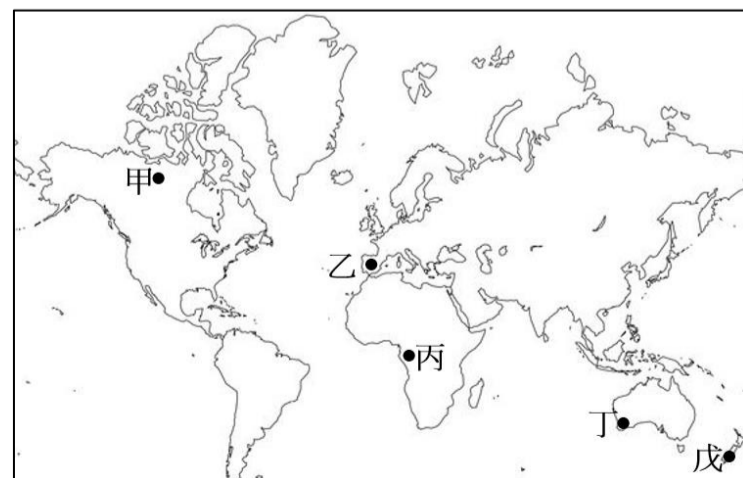
- (A)甲乙 (B)丙丁 (C)甲丙 (D)乙丁。

18. 附圖為全球各緯度降水量與蒸發散量的變化情形。當一地的蒸發散量小於降水量時為「剩水區」，反之則為「缺水區」。依圖中甲區顯示的水文現象及所在的緯度位置判斷，下列哪種氣候類型應位於甲區的範圍內？



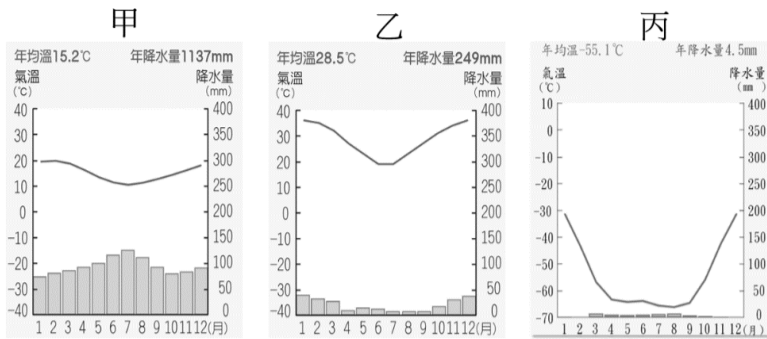
- (A)熱帶雨林氣候 (B)溫帶沙漠氣候
(C)溫帶海洋性氣候 (D)熱帶莽原氣候。

19. 紅酒是由葡萄釀造而成，釀酒用的葡萄最適合種植在夏季乾爽冬季多雨的氣候環境中，請問附圖中的哪些地區應具有此氣候條件，所以成為世界主要的紅酒產區？



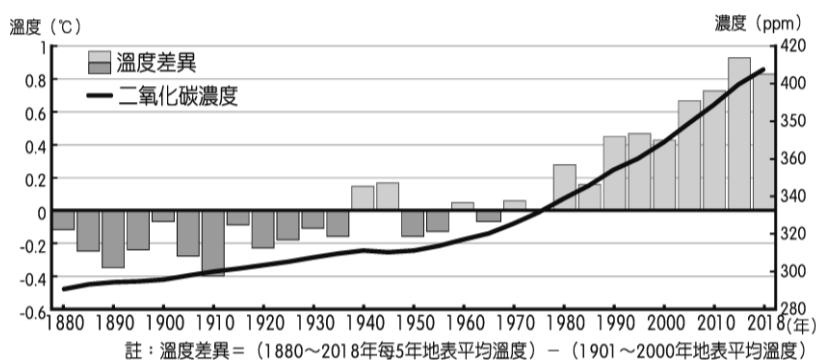
- (A)甲戊 (B)乙丙 (C)乙丁 (D)丁戊。

20. 附圖中的甲、乙、丙為三種氣候區的氣候圖。若由低緯至高緯將這三種氣候類型排列，正確順序為何？



(A)甲乙丙 (B)乙丙甲 (C)乙甲丙 (D)甲丙乙。

21. 附圖為 1880~2018 年地球二氧化碳濃度、溫度差異統計圖。根據圖中資訊推測，若二氧化碳濃度持續攀升，未來我們的世界最可能出現下列何種現象？



- (A)大洋洲珊瑚礁島嶼面積縮小
- (B)新冠肺炎由溫帶向熱帶地區擴大傳染
- (C)地震次數更加頻繁發生
- (D)沿海地區地層下陷愈趨嚴重。

22. 因溫室氣體過度排放造成全球氣溫上升產生對環境的衝擊是目前全球刻不容緩極為需要解決的問題。請問下列哪一項協議或國際組織是以減緩全球暖化與減碳為主要目標而成立？

- (A)世界貿易組織
- (B)巴黎協議
- (C)亞太經濟合作會議
- (D)東南亞國協。

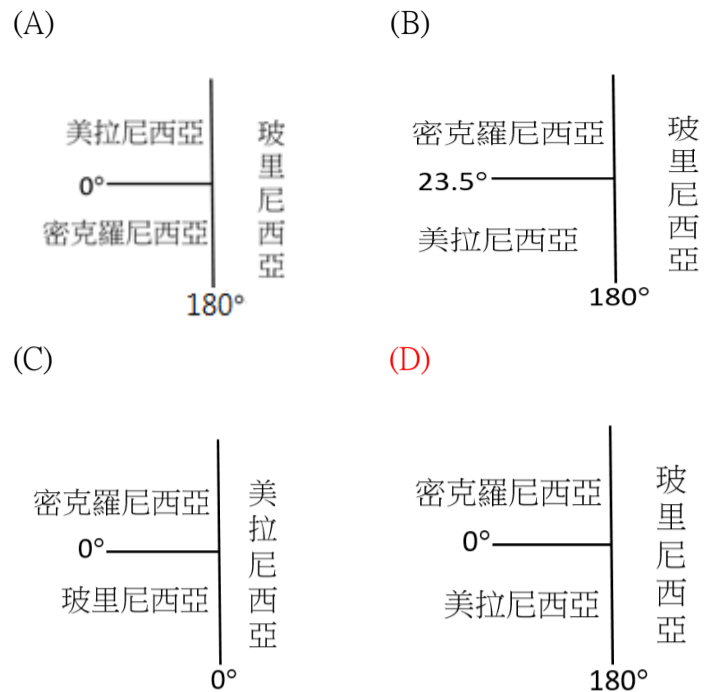
23. 烏魯汝岩座落在澳洲中心區域的廣大紅土荒原之上，當地的氣候環境雖然極為乾燥，極為荒涼，但仍被原住民視為聖地。請問下列何者為當地氣候乾燥的主要原因？

- (A)位於西風的背風側
- (B)副熱帶高氣壓籠罩
- (C)距海遙遠
- (D)位居高緯。

24. 我國在大洋洲三大島群中有四個邦交國分別為諾魯、吐瓦魯、馬紹爾、帛琉。請問針對大洋洲三大島群的地理環境特徵敘述，下列何者正確？

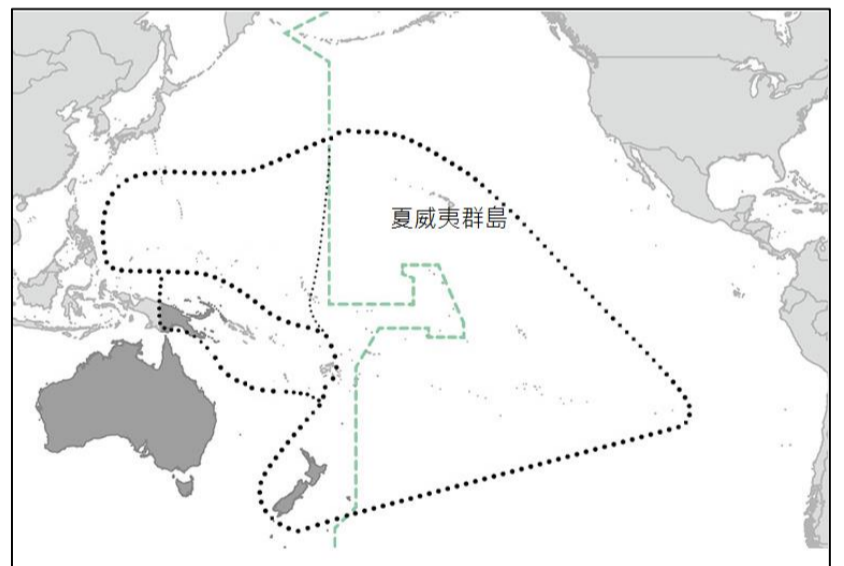
- (A)昔日皆為英國的殖民地
- (B)以溫帶海洋氣候為主
- (C)珊瑚礁島群缺乏淡水，農業發展受到限制
- (D)火山島土壤貧瘠，傳統產業以漁業為主。

25. 大洋洲有 2 萬多個島嶼，分為三大群島。下列何者是該地區三大群島的正確位置示意圖？



26. 夏威夷群島(位置如附圖所示)及紐西蘭皆位於大洋洲，下列針對這兩個地區的敘述何者正確？

- (A)夏威夷群島位於東半球，日期比紐西蘭快一天
- (B)夏威夷群島因緯度較高，冰河地形發達
- (C)兩地所在海洋為大西洋
- (D)夏威夷群島與紐西蘭的季節相反。

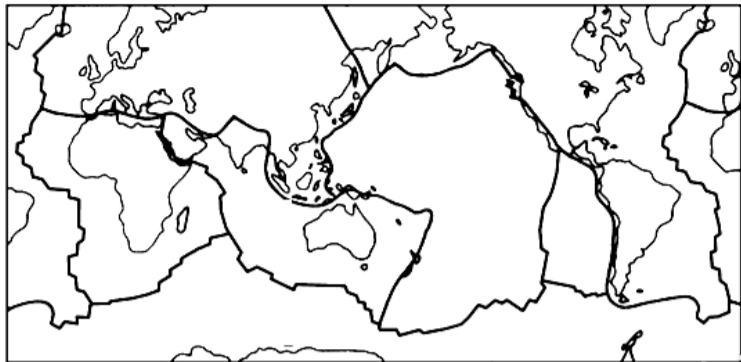


27. 附圖為澳洲的行政圖，圖中的東南部有個維多利亞州，其州名是過去被殖民時命名的，它應與哪個國家有關？

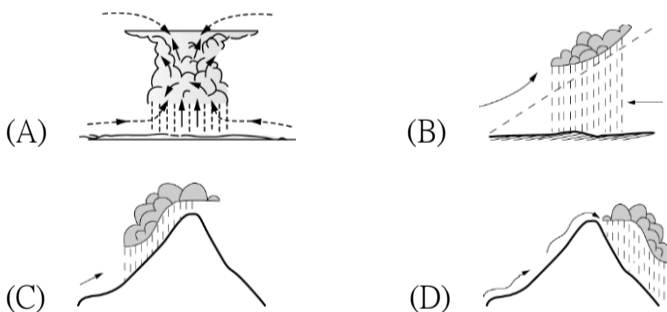
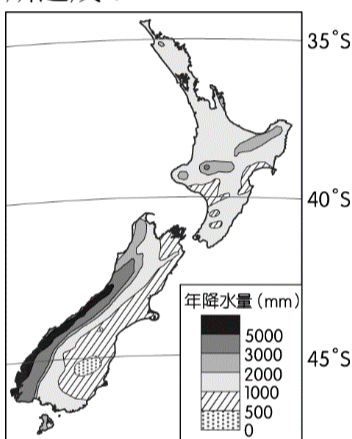
- (A)美國
- (B)英國
- (C)法國
- (D)西班牙。



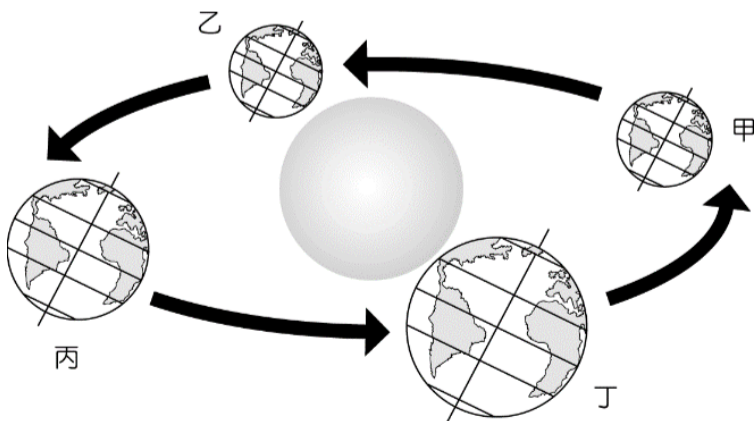
28. 附圖為世界板塊分布圖，由圖中可見澳洲位於板塊內部，紐西蘭位於板塊接觸帶，下列哪一項地理環境特色與所在的板塊位置最有直接關係？



- (A) 澳洲為世界最大羊毛出口國
 (B) 紐西蘭南島多峽灣海岸
 (C) 澳洲東南沿海平原為人口集中區
 (D) 紐西蘭多火山、地震。
29. 請根據附圖中紐西蘭的降水量分布圖判斷，影響紐西蘭南島降水量分布的原因主要由下列哪一種降水類型所造成？



30. 附圖為地球公轉示意圖。當地球分別在甲、乙、丙、丁的位置時，下列敘述何者正確？



- (A) 甲位置: 南極圈內為永晝
 (B) 乙位置: 臺灣為夏季
 (C) 丙位置: 太陽直射赤道
 (D) 丁位置: 北極圈內為永晝。

31. 北極地區為各大洲間的最短航線，所以航空交通相當發達。請問：飛越北極地區的主要航空路徑不包括下列何者？

- (A) 北美洲—歐洲 (B) 亞洲—北美洲
 (C) 歐洲—非洲 (D) 歐洲—亞洲。

32. 南極大陸受限於地理條件，所進行的主要活動為下列何者？

- (A) 開採石油 (B) 航海交通
 (C) 金融貿易 (D) 科學研究。

33. 南極地區的降水量極少，成為世界乾燥的區域之一。這種現象和下列何者的關係最為密切？

- (A) 氣候嚴寒 (B) 位於背風坡
 (C) 寒流經過 (D) 地軸傾斜。

34. 附表為紐西蘭境內最主要的產業活動類型與經營特色的敘述，其中何者最為正確？

項目	甲	乙	丙	丁
產業活動	畜牧業	農業	畜牧業	農業
經營特色	粗放	集約	集約	粗放

- (A) 甲 (B) 乙 (C) 丙 (D) 丁。

二、整合題：(每題 2 分)

※ 西元 2000 年起，中國政府提出多項均衡區域發展的政策，將中國畫分為：東部地區、中部地區、西部地區和東北地區等「四大經濟區」。請依上文敘述，回答下列問題：

35. 位於「中部地區」的鄭州宇通客車公司，是中國第一家股票上市的大客車製造公司，產品包含我國臺中市的雙節巴士。近年中部經濟區吸引許多外資前往設廠，其原因可能與該區的何項特色有關？

- (A) 工資較東部地區低 (B) 位置鄰近海港便於出口
 (C) 當地設有經濟特區 (D) 為中國傳統重工業重心。

36. 下表為某經濟區發展上的優、劣勢分析，請問：中國政府針對該區提出何項政策，以促進當地的產業發展？

- (A) 改革開放 (B) 東北振興 (C) 居住證制 (D) 西部開發。

優勢	劣勢
1. 面積廣大 2. 自然資源豐富	1. 對外交通不便 2. 工商業發展緩慢

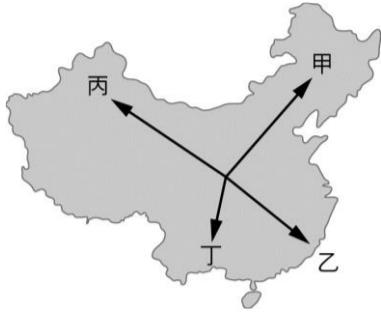
※ 1980 年代起，中國實施經濟改革開放政策，陸續設置深圳、珠海、汕頭、廈門、海南等經濟特區，吸引大量外國資金投資設廠，成為帶動中國經濟發展的火車頭。請依上文敘述，回答下列問題：

37. 中國的經濟發展過程中，經濟特區所扮演的角色為何？

- (A)以豐富礦產協助國家建設
- (B)發展勞力密集的民生工業**
- (C)透過鐵路將產品運往內陸
- (D)擁有工資低廉的高科技人才。

38. 改革開放後，中國的流動人口不斷攀升，數以億計的農民工離鄉背井前往新興工業區打工，對都市發展提供巨大的貢獻。請問：近 40 年來中國的流動人口主要移動方向為附圖中何者？

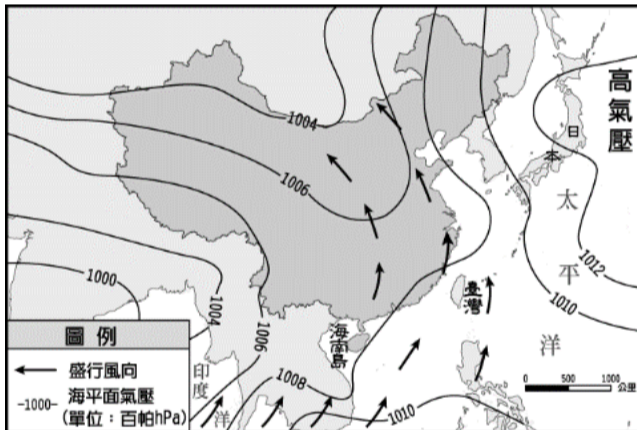
- (A)甲
- (B)乙**
- (C)丙
- (D)丁。



39. 西元 2010 年，中國於新疆維吾爾自治區新增「喀什經濟特區」。喀什具有「五口通巴國，一路連歐亞」的獨特區位優勢，是中國向西開放的重要門戶。請問：該經濟特區的設立，有助於下列何項政策的實施？

- (A)東北振興
- (B)中部崛起
- (C)東部發展
- (D)一帶一路。**

※附圖為中國某個季節的氣壓分布與風向圖。請問：



40. 由附圖資料判斷，這是中國哪一季節的氣壓與風向？

- (A)春季
- (B)夏季**
- (C)秋季
- (D)冬季。

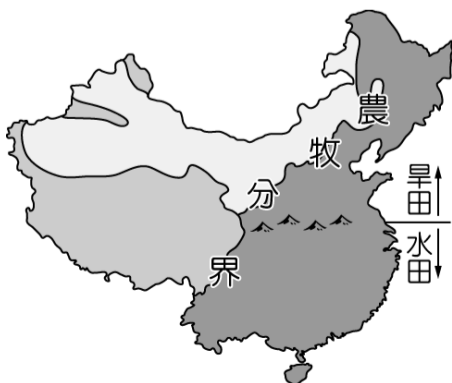
41. 老李是華北平原從事糧食耕作的農民，在這個季節裏，他所在的地區經常吹哪一個方向的風？

- (A)西南風
- (B)東南風**
- (C)東北風
- (D)西北風。

42. 下列哪一項作物最有可能是老李耕作的作物種類？

- (A)稻米
- (B)小麥**
- (C)甘蔗
- (D)茶樹。

※附圖為中境內的農牧業活動分布圖，請根據圖中資料回答下列問題：



43. 附圖中呈現了中國境內的農業及牧業活動的分布地區，根據其位置判斷，其分界線最主要為下列何者？

- (A)年降水量 500 毫米**
- (B)年降水量 750 毫米
- (C)最暖月月均溫 20 °C 等溫線
- (D)最冷月月均溫 0 °C 等溫線。

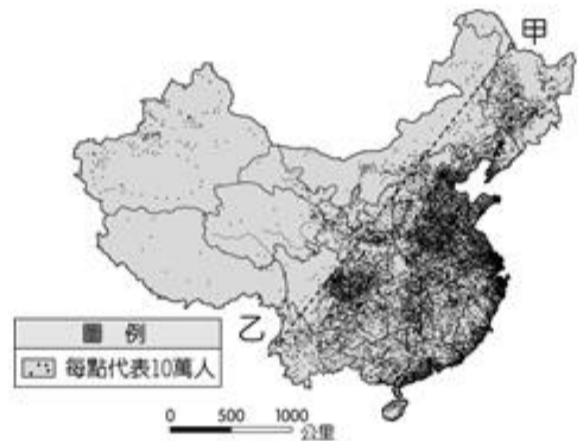
44. (甲)蒙古包 (乙)杆欄式建築 (丙)窑洞 (丁)騎樓。各地自然環境不同，居民為了順應地形、氣候特徵而建築適合當地環境的住所，請問哪兩種傳統民居方式最可能出現在水田區？

- (A)甲乙
- (B)乙丁**
- (C)甲丙
- (D)丙丁。

45. 下列針對農牧分界線以西人口特色的描述，何者**錯誤**？

- (A)人口多集中於河谷或綠洲地區
- (B)部分族群過著游牧生活
- (C)居民多移居東南亞及臺灣**
- (D)為中國人口稀少區。

※中國的人口總數眾多，而人口問題已成為未來重要的課題。附圖為中國的人口分布狀況，請依圖中資料，回答下列問題：



46. 附圖顯示出目前中國的重要人口問題之一為何？

- (A)人口老化
- (B)分布不均**
- (C)教育低落
- (D)性別不均。

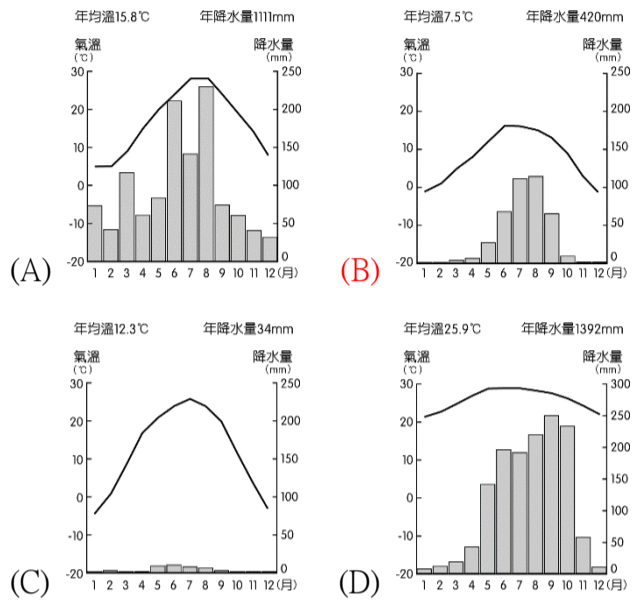
47. 下列哪一個地區因人口較少，夜間較無光害，可清楚看見滿天星斗？

- (A)青藏高原**
- (B)長江中下游平原
- (C)珠江三角洲
- (D)四川盆地。

※中國各地區因地理環境不同，而有氣候上的差異，附圖為中國簡圖，請問：



48. 從甲地一路往南移動到乙地，一月月均溫有愈來愈高的趨勢，這與下列哪項因素最相關？
 (A)經度跨距 (B)緯度高低 (C)地勢高低 (D)距海遠近。
49. 由乙地到丙地的氣候環境變化為何？
 (A)年降水量逐漸減少 (B)年溫差逐漸變小
 (C)一月均溫逐漸升高 (D)日溫差逐漸變小。
50. 下列哪一張氣候圖最能呈現丁地區的氣候環境特色？



一、選擇題：

1. 小興說明某一政治概念時指出：「古代有篡位取得君權者，近代則有利用政變取得政權的統治者。若上述事件發生在今日，以現代民主政治運作的角度觀察，這些政治權力的來源其實都不具合法性。」小興的說法是因為上述二種政權的來源皆缺乏哪一條件？

- (A)政黨政治的發展 (B)人民自由的保障
(C)權責相符的責任政治 (D)公平競爭的選舉過程。

2. 台灣基進黨立委罷免案將於23日進行投票，罷免提案領銜人羅列四點理由，包含立委的政見承諾一再跳票、不關心選區、萊豬進口等議題。附圖中三位同學對於罷免議題的討論內容可說明《憲法》的哪一項特性？



- (A)自由性 (B)固定性 (C)原則性 (D)最高性。

3. 在公民課中，同學討論各種權利與我國法律間的連結，下列為小雅這組同學分工所找到的資料。請問：哪一位同學所找到的資料確實無誤？

分工表	
阿興：	環境權—《水污染防治法》
小雅：	隱私權—《長期照顧服務法》
阿國：	工作權—《個人資料保護法》
小中：	財產權—《客家基本法》

- (A)阿興 (B)小雅 (C)阿國 (D)小中

4. 老柯收到朋友分享的一則訊息，如下所示。請問：設置該專線電話所代表的意義為何？

我國許多縣市政府設置 1999 服務電話，提供民眾諮詢或投訴政府施政。民眾的意見將被迅速傳達給專責部門，在期限之內予以適當回覆並做出處置，民眾的發聲即是對政府政策最直接的回應。

- (A)政府預算過多，必須加以消耗
(B)地方官員失職，枉顧民眾權益
(C)國家事務繁雜，治理效能不足
(D)人民監督施政，政府重視民意。

5. 以下宣傳內容，顯示出現代民主國家的哪一項功能？

身心障礙者職業重建服務窗口
政府勞工局幫您找「頭路」！！
服務項目：■就業諮詢、評估
■研擬職業重建服務計畫
■整合身心障礙者職業重建資源網絡

- (A)推動社會福利 (B)改善教育環境
(C)維護社會秩序 (D)伸張司法正義。

6. 《勞動基準法》第49條第1項規定「雇主不得使女員工於午後十時至翌晨六時之時間內工作。」而某量販業者於民國104年至108年間被地方政府勞動檢查時，發現公司讓女性勞工於夜間工作，明顯違反《勞基法》，處新台幣2萬元至80萬元不等罰鍰。但該業者認為，應尊重員工自由排班的權利，而不服裁罰並提出權利救濟。請問：該業者權利救濟的作為是憲法所保障何種權利？

- (A)受益權 (B)自由權 (C)平等權 (D)參政權

7. 附圖為小興撰寫公民作業時收集的資料，他研究的主题最可能是下列何者？

- ◎大陸委員會進行「民眾對兩岸相關議題之看法」民意調查
◎臺北市政府尊重民眾投票結果，停止發放元宵節小提燈
◎都市發展局將民眾於公聽會反映的意見傳達至內政部

- (A)選舉對獨裁國家的影響 (B)民意與政府政策的決定
(C)外交與國際關係的發展 (D)政府與企業的合作關係

8. 醫界發起「白袍抗議」遊行活動，希望政府能避免空氣汙染對人民造成的危害，因此應該對燃煤發電、工廠、汽機車排放有害氣體進行管制。請問：白袍抗議的遊行活動與《憲法》保障的哪一項人民基本權利最相關？

- (A)保護自然環境，維護空氣品質，屬於重視隱私權
(B)政府負有保障國民健康的義務，此為健康照護權
(C)民眾走上街頭遊行抗議，發表言論，屬於參政權
(D)對政府施政侵害個人權益提起訴訟，此為自由權。

9. 總統蔡英文在今年國慶大典上發表演說表示，立法院修憲委員會已經成立，她理解修憲的門檻非常高，所以她呼籲朝野政黨，憲改議題攸關國家治理，無論是執政還是在野，都必須放下成見，嚴肅地進行憲政議題的討論，尋求最大的交集，並強調「這次的憲改，會以中華民國《憲法》為基礎，以維護民主自由的憲政體制為前提，來進行修憲。」。請問：上述總統的國慶演說內容中，畫底線部分顯示出《憲法》的哪一項特性？

- (A)固定性 (B)多元性 (C)原則性 (D)最高性。

10. 英國歷史學家艾克頓爵士曾說過：「權力使人腐化，絕對的權力，絕對的腐化。」下列哪一種情境或制度設計，可避免權力的腐化？

- (A)在家庭中，所有家庭成員一同分擔家務
(B)在學校裡，老師認真授課，學生努力學習
(C)在班級中，同學選出各股幹部，幹部們各司其職
(D)在螞蟻的世界中，蟻后負責生殖，工蟻負責覓食，兵蟻負責防禦。

11. 在鑫亞國擔任中央民意代表的阿財對友人說：這次會期，我們打算請行政院長對疫情的防治提出專案報告，若報告中看不到行政團隊的妥善檢討，我們不排除對行政院長提出不信任案。根據政府機關間的互動關係判斷，上述內容隱含下列何種概念？

- (A)均權制度 (B)主權在民 (C)法治政治 (D)分權制衡

12. 為了避免政府權力過度集中與保障人民權利，現代許多民主國家多採權力分立的政府體制，下列有關分權理論的相關敘述，何者正確？

- (A)由孟德斯鳩開創分權理論，至孫中山集其大成
(B)洛克將權力分為行政權與立法權，彼此相互制衡
(C)美國憲法深受孟德斯鳩與孫中山分權理論的影響
(D)孟德斯鳩主張行政權與立法權相互制衡，司法權依法獨立行使職權。

13. 承上題，在我國，若不信任案通過後，行政院院長應下台，並得同時呈請總統解散立法院，讓選民重新改選立法委員，而「從改選結果對應朝野政黨原來的立委席次，也等同讓人民重新檢視不信任案的適當性。」請問：上述「」中的內容，隱含了下列何種概念？

- (A)主權在民 (B)分權制衡 (C)違憲審查 (D)法治政治

14. 下列關於我國中央政府財政收支狀況的敘述，何者正確？
 (A) 行政院主計處每年應將下年度預估的收入與支出先行編列預算
 (B) 立法院負責審查預算，若通過後行政院覺得窒礙難行，可逕行提出覆議案
 (C) 為使施政有效率，立法院未通過的預算案，行政院亦可先執行
 (D) 監察院的銓敘部應審核決算，且向立法院提出報告，當作下一年度審查預算的標準。
15. 依據中華民國憲法增修條文第2條第3項的規定，總統有權發布緊急命令，下列關於我國緊急命令的敘述，何者正確？
 (A) 當國家遭遇緊急危難時，總統可自行發布緊急命令，再交由立法院追認
 (B) 緊急命令發布後，立法院應於10日內開會，追認緊急命令是否有效
 (C) 緊急命令一旦發布，全國人民的基本權利皆會受到限制
 (D) 若遇緊急狀態，行政院院長可代替總統發布緊急命令，再經由立法院追認即可。
16. 新聞報導：某公職人員因浮報、濫用公款，已遭監察院提出彈劾案，送交懲戒法院審理……。請問：上述報導中的公職人員，最可能是下列何者？
 (A) 總統 (B) 市長 (C) 市議員 (D) 立法委員。
17. 美國在十九世紀八十年代時，民主黨頒布法律將投票條件抬高，很多黑人和貧窮的白人無法參選。從1890年到1910年，從密西西比州開始，前邦聯州10/11個州頒布新法或是修正案，有效地剝奪了眾多黑人和數以千記貧窮白人的選舉權，方法是透過提高稅賦、考試、建製戶口檔案等。請問：透過以上方法限制黑人及貧窮白人的投票權，是違反選舉的哪一項原則？
 (A) 直接 (B) 普通 (C) 無記名 (D) 平等。
18. 下文中的區公所主要是經由下列何種方式，來達到活絡地方經濟的目的？

高雄市岡山區的開發甚早，過去曾隸屬於萬年州，當時的「統治政權」亦派官員進駐治理。岡山當地迄今仍保有許多傳統，例如：至今已有兩百多年歷史的「籃籐會」，一年固定舉辦三次，時間分別在農曆3月23日（媽祖生日）、農曆8月14日（中秋節前夕）及農曆9月15日（義民爺生日），早期以販售竹製農用器具為主，現今販售的商品內容已逐漸多元化，類似一般傳統的市集。

近年來，區公所還時常將當地羊肉料理特產與籃籐會結合，擴大宣傳岡山羊肉文化節與籃籐會，希望藉此吸引更多的遊客，活絡地方經濟。但部分住戶反應，舉辦籃籐會所吸引而來的遊客車潮，經常導致鄰近地區大塞車，因此希望相關單位規畫解決之道，不要讓問題一再重演。

- (A) 提高農漁牧業比例 (B) 興建社區活動中心
 (C) 增加地方賦稅收入 (D) 發展地方特色產業。
19. 劉先生當選市長後，發現地方政府已累積嚴重債務，於是設法開拓財源，以減輕財政困難。附表是他的開源措施，其中何者是藉由公共造產方式達成目的？

項目	內容
甲	聘請藝人擔任觀光大使，帶動人潮
乙	提案立法加重娛樂稅稅率
丙	增設觀光摩天輪，向使用者收費
丁	向中央政府爭取計畫補助

- (A) 甲 (B) 乙 (C) 丙 (D) 丁。

20. 商業周刊與參政參公民平臺共同編製「地方財政昏迷指數」，調查顯示苗栗縣負債從 200 多億元增加到 600 多億元，財政狀況是全臺唯一進入「瀕臨腦死」的縣市。腦死定義為「到急迫改革的程度，若不立即重新設定財務策略，或中央政府及時給予援手，該縣市的財務運作將停頓終止。」。根據上文，苗栗縣財政出現問題的主因為何？

- (A) 苗栗縣自籌財源困難
 (B) 預算缺乏監督，財政惡化
 (C) 中央政府統籌分配稅款過少
 (D) 地方財政必須全額依賴中央支援。

21. 以下為小雅完成申請公共服務後在社群 IG 上的貼文分享，內容中提到的服務應屬於地方政府的哪一項職權？

我今天去參觀了市政府規畫的老人日間照顧中心，布置得很溫馨，彷彿回到了阿嬤家的感覺。


- (A) 社會福利 (B) 安全衛生 (C) 經濟發展 (D) 教育文化
22. 小興未來想在政府機關工作，趁著環島的行程到各級地方政府去參觀其行政與立法機關，下列地方行政機關與地方立法機關的配對，何者正確？

- (A) 馬公市政府—馬公市議會
 (B) 臺南市南區區公所—臺南市南區區民代表會
 (C) 員林市公所—員林市民代表會
 (D) 基隆縣政府—基隆縣議會。

23. 全國性公民投票於去年 12 月 18 日舉行，晚間 8 時最終開票結果出爐，根據中選會開票統計，第 19 案「公投綁大選」同意票 3,951,882 票、不同意票 4,120,038 票，本案確定「甲」。根據「公民投票法」第 29 條，公民投票案投票結果，有效同意票數多於不同意票，且有效同意票達投票權人總額四分之一以上者，即為通過。本次總投票權人數為 1982 萬 5468 人，因此，通過門檻必須達到 495 萬 6367 票。請問：「甲」的公投結果應為？

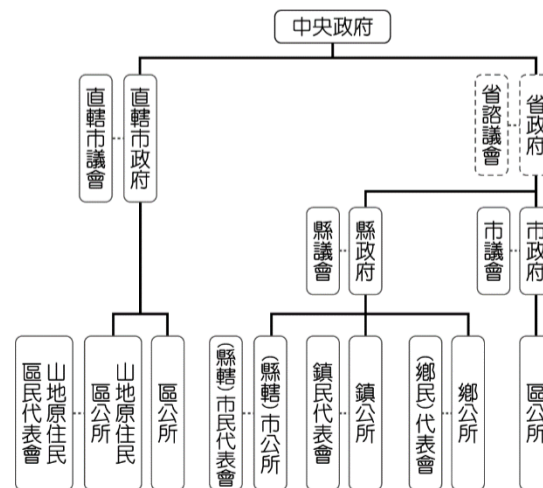
- (A) 通過 (B) 不通過 (C) 無效投票 (D) 以上皆非。

24. 承上題，若投票結果表示該議題未獲通過，則該議題在幾年內不得再提出？



- (A) 半年 (B) 1 年 (C) 2 年 (D) 3 年。

25. 附圖為我國地方政府組織圖，關於此圖的敘述，下列何者正確？



- (A) 圖中標出的立法機關共有 8 個
 (B) 區公所負責的任務為監督施政
 (C) 直轄市政府已虛級化
 (D) 省政府成為行政院的派出機關。