

一、單一選擇題：

1. 附表為歷史師老師對臺灣某一史前文化的概略整理。從表中內容判斷，此一史前文化應為下列何者？

年代	距今 4300 ~ 6300 年
考古遺址	大多分布於西部河口與海岸
文化特徵	出土粗繩紋陶片、石斧等器物。推測居民以狩獵、漁撈、採集維生，可能種植根莖類作物。
重要意義	臺灣新石器時代早期文化的代表，在中國東南沿海也發現類型相似的文化

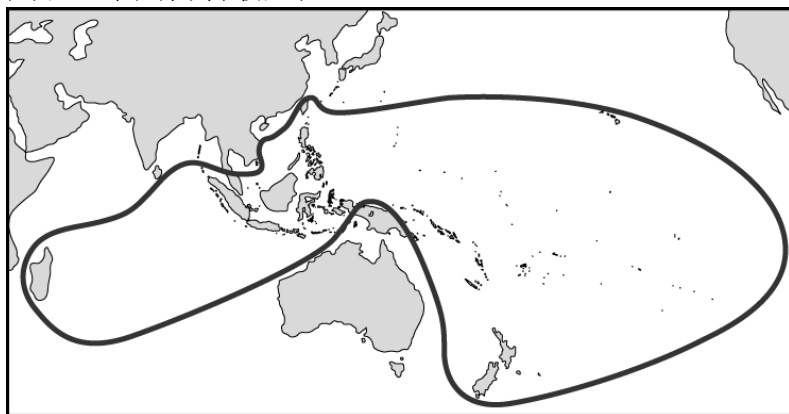
(A)長濱文化 (B)大坌坑文化 (C)卑南文化 (D)十三行文化。

2. 附圖為臺灣某一史前文化遺址的圖片，根據其內容判斷，此一文化應為下列何者？

陶窯遺跡	煉鐵爐	中國銅錢

(A)長濱文化 (B)圓山文化 (C)卑南文化 (D)十三行文化。

3. 附圖是安安在圖書館看到的一幅圖，若要給這幅圖一個圖名，下列何者最適合？



(A)鄭氏在臺灣對外貿易示意圖 (B)荷蘭人在亞洲貿易路線圖 (C)南島語族分布圖 (D)大坌坑文化分布圖。

4. 民國 8 年時，有人從澎湖馬公天后宮的祭壇下挖出一座石碑，經考證後應該是臺灣歷史上年代最早的石碑。該石碑的刻文記載了某件 17 世紀初發生的史事：一位明朝將領逼退了當時在澎湖的某一股勢力。此「勢力」應該是下列何者？

(A)鄭芝龍的海盜集團 (B)鄭成功的反清勢力 (C)荷蘭聯合東印度公司 (D)西班牙的海軍艦隊。

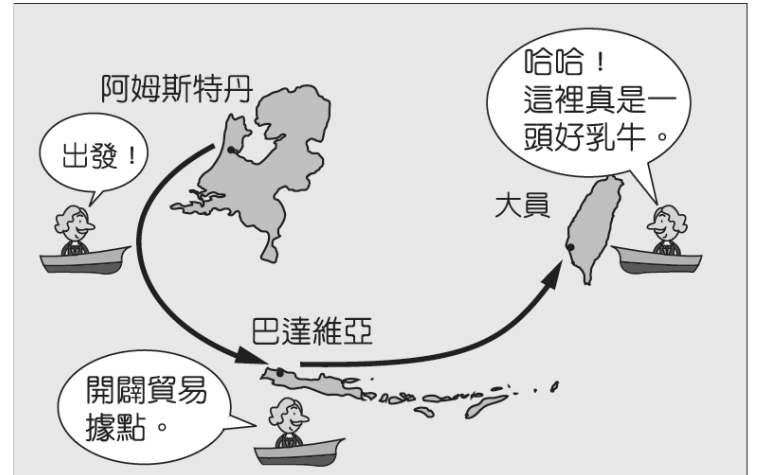
5. 亨利王子是國王約翰一世的第三子，他不是王儲，卻在他的國家中有其影響力，建立了全世界首間航海學校、天文臺、圖書館、港口及船廠，也是在他的大力推廣與建立基礎上，他的國家率先找到前進東方的新航路，而且占領中國的澳門作為貿易的據點，即時後世著名的「航海王子」。根據上述，亨利王子是哪一國家的王子？

(A)西班牙 (B)荷蘭 (C)英國 (D)葡萄牙。

6. 請比較鄭氏治臺時期和荷蘭統治時期的比較，何者錯誤？ (A)前者統治時間較後者短暫 (B)前者將臺灣視為「反清復明」的基地，後者視為貿易據點 (C)後者嚴格管理漢人，造成漢人反抗 (D)兩者皆重視海外貿易，與中國、日本、南洋、美國貿易。

7. 荷蘭東印度公司總督曾說：「臺灣真是一頭好乳牛。」這句話表示臺灣為他們公司帶來相當大的利益。這是因為荷蘭人積極經營下列哪些臺灣的特產？

甲、蔗糖； 乙、稻米； 丙、香料； 丁、鹿皮。



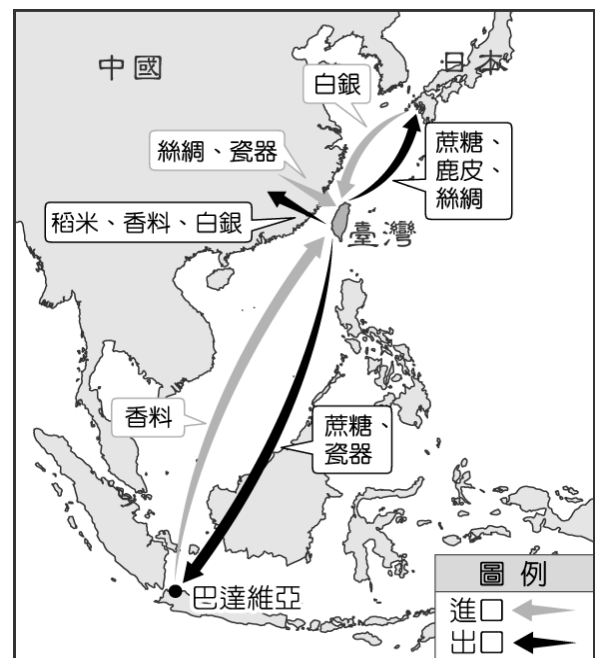
(A)甲乙丙 (B)乙丙丁 (C)甲丙丁 (D)甲乙丁。

8. 鄭氏治臺時期，勢力發展的基礎是靠著對外貿易，使他們站穩腳跟。附表是此時期臺灣主要的對外貿易地區及商品，其中「丙」是代表哪一地區？

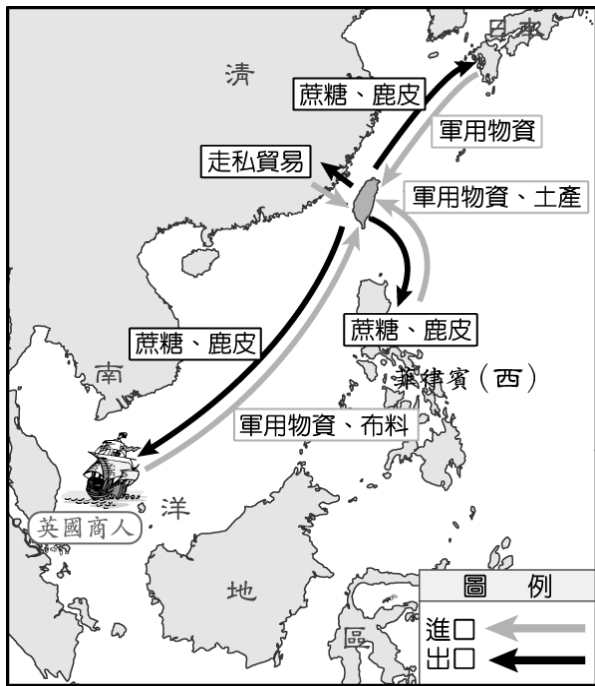
地區	輸出	輸入
甲	蔗糖、鹿皮	軍用物資、布料
乙	蔗糖、鹿皮	軍用物資
丙	蔗糖	絲織品、日常用品
丁	蔗糖、鹿皮	軍用物資、土產

(A)日本 (B)英國 (C)中國 (D)菲律賓。

9. 圖(一)、圖(二)為臺灣 17 世紀前期、後期的對外貿易圖，由圖中貿易商品的改變可推測，臺灣進口軍用物資是為了對抗哪一勢力？



▲圖(一)



▲圖(二)

(A)英國 (B)荷蘭 (C)日本 (D)大清帝國。

10. 歷史課時，張小嘉報告臺灣某一時期統治當局治理原住民的情景：「地方會議在赤崁舉辦，…長官開始對大會致詞，翻譯人員則將長官的話口譯成新港社的原住民語……。接著，長官任命各社長老、授予權杖，並關切官方修建的教堂和學校的事務、村落繳付的年貢等。」文中的「長官」最可能是由下列何者所指派？ (A)英國領事館 (B)荷蘭聯合東印度公司 (C)大日本帝國 (D)西班牙王國。

11. 附表是荷蘭統治臺灣時期，對原住民傳教成果的統計。由表中內容，我們可以讀出下列哪一項訊息？

社名	人口數 (人)	受洗者 (人)
新港社	1,047	1,047
蕭壠社	2,619	284
目加溜灣社	1,022	275
麻豆社	3,008	217
大目降社	1,006	210

(A)新港社原住民的宗教信仰改變比例最高 (B)荷蘭人使用武力脅迫人民改變信仰 (C)各原住民社群皆超過半數人接受新的宗教 (D)原住民社群受洗者的人數日漸降低。

12. 歷史課時，陳小安與同學在課堂上進行討論，由附圖中討論的內容可推論其主題為何？

當時民間信仰影響大，居民以打獵為生，居無定所，傳教工作難以持續。

各社設立小學，番人多學習羅馬字，而且還能書寫紅毛字。



(A)漢人在臺灣開墾的情形 (B)西班牙傳教士在基隆的傳教 (C)日本人在臺灣的貿易活動 (D)荷蘭人在臺灣傳教的情況。

13. 民俗專家在研究臺灣神明的來源時，指出：「大眾爺，

又稱大將爺，……均為成群無依之鬼魂。考其本源，當閩粵移民渡臺拓荒，初時多單身隻影，輾轉各地，舉目無親，加以疫癘流行，械鬥時起，番害亦多，死於溝壑，無人認屍，……是以仁人善士收埋枯骨，……為之建祠。」由引文可知，「大眾爺」其實可能是臺灣社會上哪種人的化身居多？ (A)佃農 (B)羅漢腳 (C)大地主 (D)平埔族人。

14. 丁小光在圖書館閱讀大清帝國的史書時，其有一段內容：「從北路諸羅以上，直到山後長達一千餘里的地方，漢族婦女不到數百人；南路由鳳山到琅瑤以下長達四、五百里的地方，漢族婦女也不過數人而已。」請問：形成文中現象的主要原因為何？ (A)民變、械鬥頻繁，造成婦女傷亡慘重 (B)漢族婦女多纏足，不適合墾殖的活動 (C)清廷頒布渡臺禁令，不准攜家帶眷渡臺 (D)社會風氣重男輕女，導致男女人口失衡。

15. 請依下圖回答以下問題：林爽文事件對清朝行政區劃的影響是何者？(A) 甲圖→乙圖 (B) 甲圖→丙圖 (C) 乙圖→丙圖 (D)乙圖→甲圖。



16. 清帝國初期臺灣行政區的變遷，如彰化縣、淡水廳、噶瑪蘭廳等的增設，與下列哪些因素有關？ (A)民變與外力入侵 (B)原住民殺害漢人 (C)政府決定積極治理臺灣 (D)財政稅收增加。

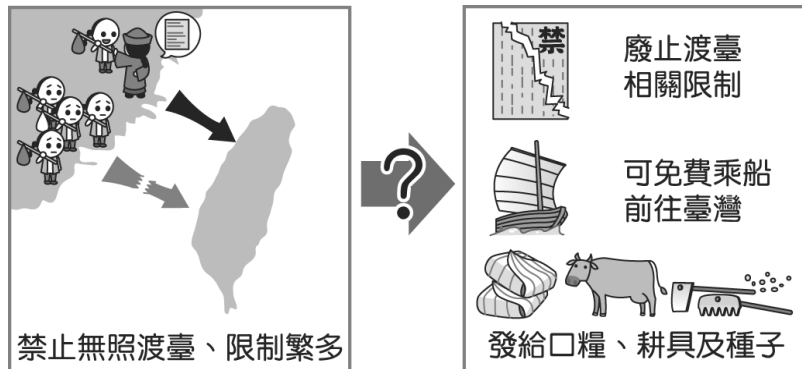
17. 清朝康熙年間將臺灣的行政區分為一府三縣，從當時行政區畫分的情況來看，顯示出哪一種歷史現象？ (A)行政區域的畫分主要集中在東部與北部 (B)將臺灣府設於打狗一帶，乃是為了向東南亞發展 (C)此行政區域的畫分已擴及至全島 (D)規畫的行政區域皆在西部，並未擴及東部地區。

18. 劉銘傳在臺灣現代化建設中，以交通建設的影響最大。請問：當時劉銘傳所推動的現代化建設有幾項？(甲)興建

臺北到基隆的鐵路；(乙)設立郵政總局；(丙)築北、中、南三條通往後山的道路；(丁)架設長途電報線；(戊)廢除渡臺禁令；(己)設立電報學堂；

(A)二項 (B)三項 (C)四項 (D)五項。

19. 附圖呈現某一歷史事件前後，清廷治臺措施的差異。從圖中內容判斷，此一事件應是下列何者？



- (A)甲午戰爭 (B)牡丹社事件 (C)朱一貴事件 (D)清法戰爭。

20. 附圖的四張卡片分別代表清朝曾對臺灣採取的統治措施，若依這些措施最早在臺施行的時間先後順序排列，下列何者正確？



- (A)甲→乙→丁→丙 (B)乙→甲→丙→丁 (C)丁→丙→甲→乙 (D)丙→乙→丁→甲。

21. 清代鹿港五福街店舖林立，商家為防風避雨，蓋起擋住天空的涼棚，有「不見天街」之稱，曾是清代臺灣最長的商店街。下列有關清帝國統治時期鹿港的敘述何者正確？ (A)鹿港為最早開放與中國對渡通航的港口 (B)貿易對象主要為日本、東南亞 (C)外銷米、糖以換取紡織品、藥材等商品 (D)五福街上五大洋行商貿鼎盛。

22. 嘉慶年間，福州人力弘從五虎門搭船，經由清政府開放的對渡港口來臺移民。請問：力弘應該會由哪一個港口上岸？ (A)八里坌 (B)打狗 (C)雞籠 (D)安平。

23. 持脩邀請同學來安平旅遊，參訪同治年間興建的英商德記洋行，持脩會如何介紹安平德記洋行呢？ (A)此洋行的設立是受到鴉片戰爭的影響 (B)進口的主要貨品為鴉片、軍用品 (C)出口的主要貨品為茶葉、樟腦 (D)興建時位處臺灣府城的所在地區。

24. 西元 1869 年，英商寶順洋行的陶德首次將臺灣茶直銷紐約成功之後，臺灣茶業即快速發展，十年之後，茶葉即成為臺灣出口的最大宗，造成何種影響？(A)外銷茶葉的郊商，因此成為臺灣社會的領導階層(B)促使臺灣東部大規模開發，與原住民族衝突更加劇烈(C)帶動中北部城鎮的興起，臺灣的經濟重心漸轉移到北部(D)隨著安平港的開放，嘉南平原從此成為茶葉的主要產地。

25. 迪化街霞海城隍信仰，在道光年間隨著福建泉州府同安人渡臺，原來奉祀於艋舺八甲庄同安人聚落。後因咸豐年間艋舺地區的頂下郊拚械鬥事件，下郊同安人遂奉城隍遷移至大稻埕地區。請問：頂下郊拚事件發生的主要原因為何？ (A)祖籍不同 (B)姓氏不同 (C)爭奪灌溉水源 (D)爭奪商業利益。

26. 清帝國時期臺灣最具代表性的民變為：朱一貴事件、林爽文事件、戴潮春事件，下列何者是這三者的共通點？ (A)其背景與官吏貪汙、會黨林立等因素有關 (B)在臺不同祖籍者皆能齊力抗官 (C)均發生在臺灣開港通商以前 (D)清廷皆費時三年多才得以平定亂事。

27. 兩百七十多年前，來自廣東梅縣的客族先民來臺拓墾，為了安全需求，謝姓族人聚居互助，進而建造祠堂鞏固勢力，祭祀對象為唐山的遠祖申伯公。根據以上的描述，下列有關此種祭祀型態的敘述何者正確？ (A)屬於「開臺祖」的祭祀組織 (B)參與組織的人不一定有血緣關係 (C)可以將部分祖產做為祭祀經費 (D)顯示來臺移民已經形成認同臺灣鄉土的意識。

28. 新北市新莊區的老街，在清朝雍正、乾隆時代曾經是北臺灣繁榮的商港，直至今日老街上仍有三座著名的廟宇，供奉的神明分別是「三山國王」、「媽祖」、「關聖帝君」，朝拜的香客終年絡繹不絕，其中又以媽祖廟的香火最為鼎盛。請問：當地興建媽祖廟的原因可能為何？ (A)居民多為平埔族，屬於母系社會 (B)港口商船往來兩岸，祈求航海平安 (C)媽祖是當地潮州移民的原鄉神明 (D)當時遊民眾多，械鬥頻繁。

29. 花蓮縣靜浦國小校區內，於 2014 年設置大港口事件紀念碑，追思紀念大港口事件。下列敘述何者是大港口事件爆發的原因？(A)清廷強行開闢後山的道路 (B)清廷為取得山區茶葉、樟腦資源 (C)清廷嚴厲推行漢化政策 (D)漢人移民不斷侵墾原住民土地。

30. 報載：「重要茶商宅第建築陳天來故居，由於子孫意見分歧，讓修復之路遙遙無期，該市文化局依《文資法》履行市定古蹟修復，刻正進行 300 件古物保存計畫盤點，預計將耗資 1 億元修復建築，明年底動工，2024 年完工。」請問：此宅第最有可能位於何處？ (A)大稻埕 (B)鹿港 (C)安平 (D)艋舺。

31. 苗栗的《大湖鄉誌》中提到：「大湖地區漢人移入數百年以來，列入名人名單共有 42 人，其中因為經營『此產業』而致富者共計 14 人，佔了 30%。可發現『此產業』不僅讓很多客家人致富，更讓許多客家人因而提升社會地位。」請問：文中的『此產業』應為臺灣開港通商後的下列何種出口商品？ (A)稻米 (B)蔗糖 (C)樟腦 (D)鴉片。

32. 李春生，出生廈門貧戶，後隨蘇格蘭茶商約翰·陶德來到淡水，協助寶順洋行業務，開創了一段臺灣茶葉飄香全球的歷史，被稱為「臺灣茶葉之父」。據日治時代臺灣總督府的調查，李春生為臺北地區第二大富豪。請問：李春生致富的關鍵，可能因為曾經是下列何種身分？ (A)墾戶 (B)買辦 (C)郊商 (D)會黨領袖。

33. 演員兵家綺透露，她對自己「兵」的姓氏充滿好奇，於

是積極探尋自己姓氏的淵源。請問：兵家綺可能會有何種發現？請選出正確的選項。

(甲)擁有平埔族血統 (乙)不少親族人士接受基督信仰 (丙)祖先學得漢人的游耕技術 (丁)因為漢人不斷的越界開墾，部分族人遷居到臺東。

(A)甲乙丙 (B)乙丙丁 (C)甲乙丁 (D)甲乙丙丁。

34. 康熙 48 年，「陳賴章」墾號申請入墾臺北大佳臘地區，開墾淡水河周圍的臺北盆地，下列敘述何者應是當時開發土地的情形？(A)早期移民大多獨資開墾 (B)需向阿美族承租土地 (C)需向臺灣縣申請墾照 (D)開墾者應是來自福建省的移民。

35. 「二水跑水節」為全國特有的水圳節慶活動，起源於西元 1719 年水圳開鑿，因當時工法難以引濁水溪入圳灌溉，一位自稱「林先生」的高人傳授祕法才得以成功。為感懷先人開圳德澤，舉辦跑引水活動。後來結合馬拉松競賽，每年吸引近萬民眾參與。請問：此水圳位於附圖中何處？



(A)甲 (B)乙 (C)丙 (D)丁。

36. 演員兵家綺透露，她對自己「兵」的姓氏充滿好奇，於是積極探尋自己姓氏的淵源。請問：兵家綺可能會有何種發現？請選出正確的選項。(甲)擁有平埔族血統 (乙)不少親族人士接受基督信仰 (丙)祖先學得漢人的游耕技術 (丁)因為漢人不斷的越界開墾，部分族人遷居到臺東。(A)甲乙丙 (B)乙丙丁 (C)甲乙丁 (D)甲乙丙丁。

二、題組：

題組 1：

※閱讀「發現大馬璘文化」的報導，回答下列問題：

1900 年由日本人類學家鳥居龍藏發現位於南投縣埔里鎮愛蘭里的大馬璘遺址，是當時知名的史前臺灣遺址之一。……一百多年來，大馬璘遺址曾經過多次考古挖掘，出土了石板棺墓葬、大量的石器、陶器及礫石排列的建築結構，以及等史前遺物，……但是近 50 年來，遺址上陸續興建了許多房屋，已經造成嚴重的破壞。

37. 請從報導內容研判，「大馬璘文化」最早有可能屬於以下哪一時代？(A)舊石器時代 (B)新石器時代 (C)金屬器時代 (D)歷史時代。

38. 可判斷「大馬璘文化」所屬時代的線索，應為下列何者？(A)石板棺 (B)石器 (C)陶器 (D)礫石建築結構

題組 2：

※請閱讀下列資料並回答問題：

1697 年（康熙 36 年），郁永河奉命來臺採集硫磺，他帶領工人由府城安平沿岸北上。他觀察到此處少壯未婚的男子都居住在一間比較大的住屋，叫做「公廨」，這是村民們平常議事的場所。

郁永河歷經艱苦後終於抵達目的地—現今的北投地區，他僱用當地原住民，讓原住民以獨木舟載運硫土到他的工寮換取布匹請，再由漢人工人展開提煉硫磺工作。

39. 郁永河記錄的臺灣西南地區原住民習俗，最可能與下列哪一原住民有關？(A)西拉雅族 (B)凱達格蘭族 (C)噶瑪蘭族 (D)排灣族。

40. 郁永河所僱用採集、運送硫土的原住民，應為下列何者？(A)西拉雅族 (B)凱達格蘭族 (C)噶瑪蘭族 (D)排灣族。

題組 3：

※閱讀下列日記，並回答問題：

西元 1662 年 1 月 2 日。

熱蘭遮城裡有人來報告：

1. 國姓爺的軍隊目前停留在赤崁。
2. 國姓爺的船隻有一艘投靠到中國目前的政權去了。
3. 據說國姓爺無意攻打我們，只想用圍城的方式逼我們投降。
4. 中國目前的政權也無意攻打我們，但有可能拿下金門。

41. 文中國姓爺應該是指何人？(A)施琅 (B)鄭成功 (C)鄭芝龍 (D)顏思齊。

42. 文中提到的中國政權應該是指下列何者？(A)宋朝 (B)元朝 (C)明朝 (D)大清帝國。

題組 4：

※17 世紀時，日本江戶幕府因見識到西方火槍的威力，認為西方武器將會破壞日本穩固的社會階級，再加上天主教傳教士屢屢在日本製造事端，因此江戶幕府頒布政策禁止其人民到海外貿易，只准荷蘭與中國商人在長崎進行貿易。請問：

43. 文中受到日本這項政策衝擊最大的西方勢力為下列何者？(A)葡萄牙人 (B)英國人 (C)荷蘭人 (D)西班牙人。

44. 文中日本江戶幕府頒布的政策為何？(A)渡臺禁令 (B)鎖國政策 (C)開港通商 (D)西進政策。

題組 5：

※以下兩則資料是 17 世紀中期，某位歷史人物到臺灣後所採行的制度。請問：

資料一：「古者量人受田，量地取賦……，兵民無分。……留勇衛、侍衛二旅，以守安平鎮、承天二處，其餘諸鎮，按鎮分地、接地開墾……。」

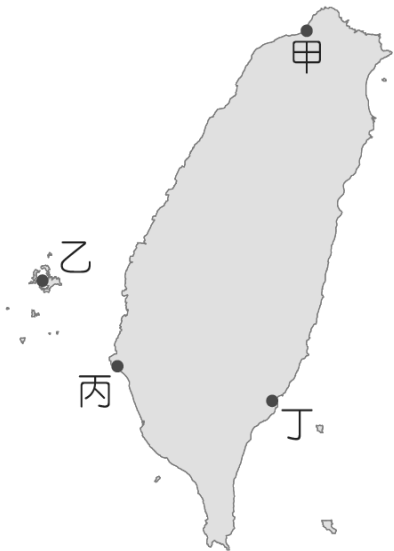
資料二：「農隙，則訓以武事；有警，則荷戈以戰；無警，則負耒以耕……。」

45. 依上文此兩則資料判斷，此位歷史人物為下列何人？
(A)顏思齊 (B)鄭芝龍 (C)鄭成功 (D)沈有容。
46. 依「資料二」判斷，此制度的特色為何？ (A)兵農分離 (B)寓兵於農 (C)獎勵耕織 (D)按畝授田。

題組 6：

以下是一段 17 世紀的文獻記載：「西班牙人每年向該地的已婚原住民課徵二隻雞和三甘當(一種米的容器)米的稅，原住民感到無法忍受，所以襲擊該地的西班牙城堡，殺了 30 個西班牙人。」請問：

47. 此段記載最可能是描繪附圖中何處的情況？ (A)甲 (B)乙 (C)丙 (D)丁。



48. 當時居住在城堡內的西班牙人，可能就近與下列哪一族人進行商業活動？ (A)西拉雅人 (B)阿美族人 (C)凱達格蘭族人 (D)排灣族人。

題組 7：

18 世紀中期以後，西方國家積極前往東亞擴張勢力，中國是往來最密切的貿易國家之一，附圖是 19 世紀時兩位外國商人間的對話。請問：



49. 圖中說「我們帝國出手反擊」的外國人，最可能來自

哪個國家？ (A)葡萄牙 (B)荷蘭 (C)英國 (D)西班牙。

50. 由圖中的對話可知，兩人可前往臺灣，應該是受益於哪一場戰役的結果？ (A)英法聯軍 (B)甲午戰爭 (C)牡丹社事件 (D)清法戰爭。

題組 8：

十九世紀臺灣開港通商後，西方傳教士紛紛來臺傳教，除了推廣西方宗教外，也帶來新式教育和醫療資源。請根據上文回答下列問題：

51. 下列關於十九世紀來臺傳教士的敘述，何者正確？(A)傳播較廣的是基督教長老教會(B)首度有天主教神父在臺灣宣教(C)馬偕創建全臺灣第一家西式醫院(D)馬雅各被尊崇為臺灣口腔外科的先驅。
52. 十九世紀末期，□□傳教士前往宜蘭三星地區傳教時，曾接受一群武裝的噶瑪蘭人保護，以便通過「生番」地界。請問：□□應填入哪一位傳教士較適當？(A)馬雅各 (B)甘為霖 (C)巴克禮 (D)馬偕。

臺北市立興雅國中 110 學年度第一學期七年級地理科補行評量講義

一、選擇題

- 下列敘述中哪些是屬於「絕對位置」的描述？
 (甲)茉莉颱風在宜蘭東南東方 1000 公里的海面上
 (乙)安安和庭庭相約在市府捷運站 3 號出口碰面
 (丙)興雅國中位於臺北市松德路 168 巷 15 號
 (丁)城隍廟在火車站的西北方
 (A)甲乙 (B)乙丙 (C)丙丁 (D)甲丁

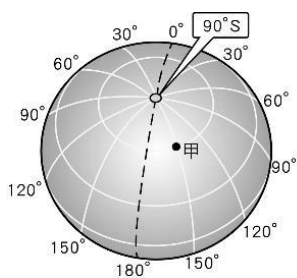
- 下圖為小兔赴綠島旅遊時參考的風景區地圖，從遊客中心到朝日海底溫泉的直線距離約為幾公里？
 (A) 10 公里 (B) 25 公里 (C) 50 公里 (D) 100 公里



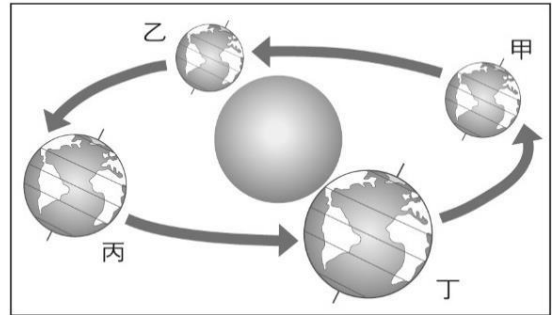
- 承上題，小兔覺得地圖太小於是到便利商店將圖放大為二倍，則上題所述兩地間的距離會變為幾倍？
 (A) 4 倍 (B) 2 倍 (C) 0.5 倍 (D) 不變
- 下表為臺灣的四個離島的面積，若將它們繪製在 A4 大小的紙張上，哪一個島嶼使用的比例尺最大？

選項	名稱	面積(平方公里)
(A)	蘭嶼	48.4
(B)	小琉球	6.8
(C)	馬公	67.1
(D)	綠島	15.1

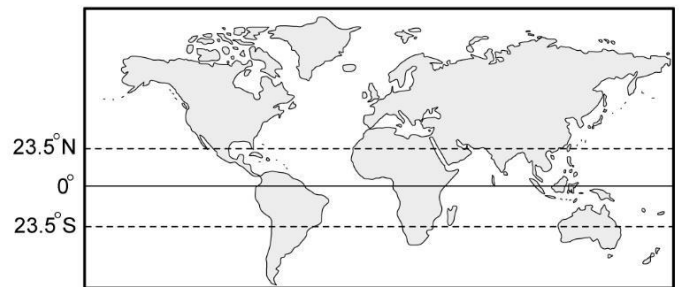
- 右圖中甲地位於南極點的哪一個方位？
 (A)東南方 (B)東北方
 (C)西北方 (D)正北方



- 當地球繞太陽運行至圖中甲、乙、丙、丁四處時，以下敘述何者「有誤」？

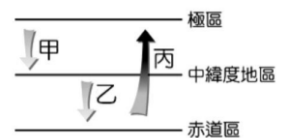


- (A)地球在甲處時，北半球這一天黑夜最長
 (B)地球在乙處時，北半球秋風起，樹葉變黃掉落
 (C)地球在六月時運行至丙處，北半球晝長夜短
 (D)冬至吃湯圓時，地球運行至甲處
- 下圖為世界主要陸塊及重要緯度線的空間分布圖，由圖可看出哪一洲沒有熱帶氣候區？



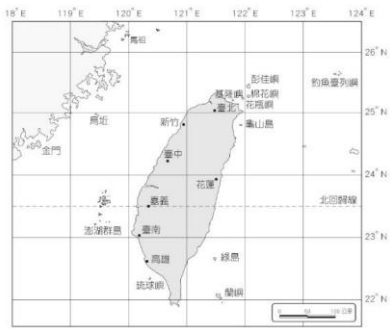
- (A)亞洲 (B)大洋洲 (C)歐洲 (D)非洲
- 地球表面的陸地分為七大洲，海洋分為三大洋，有關地球海陸分布的敘述，以下何者正確？
 (A)北半球海洋的面積較陸地面積大
 (B)七大洲分別是亞洲、非洲、歐洲、北美洲、南美洲、澳洲、南極洲
 (C)全球海洋與陸地的比例約是 3:7
 (D)大西洋是三大洋中面積最大者

- 烏魚是一種洄游魚類，喜歡 20°C 至 22°C 的海水溫度，每年冬至前後有大群的烏魚乘著中國沿岸流游至臺灣附近海域，此時也正值烏魚的產卵期，漁民可獲取大量的烏魚子，稱為「烏金」。請問中國沿岸流屬於右圖中的哪一種洋流？



- (A)甲 (B)乙 (C)丙 (D)以上皆非

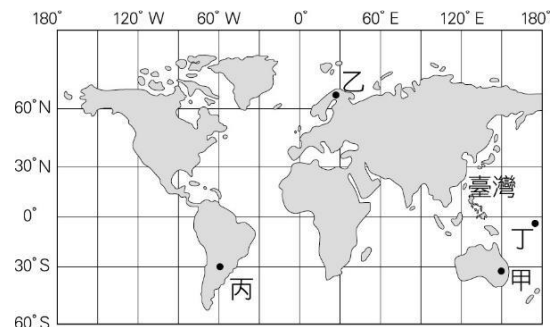
10. 下圖為臺灣的離島位置圖，小蔡在某離島參觀，她告訴小諭現在的位置是（118.4°E，24.5°N），請問小蔡最有可能在哪一個離島？



(A) 龜山島 (B) 澎湖群島 (C) 蘭嶼 (D) 金門

11. 以下哪一個「市」的行政層級與其它三者「不同」？ (A) 基隆市 (B) 新竹市 (C) 桃園市 (D) 嘉義市

12. 下圖為甲、乙、丙、丁四點的位置分布，若四個地點都準備舉辦跨年煙火，請問哪個地點的會最早燃放？ (A) 甲 (B) 乙 (C) 丙 (D) 丁



13. 承上題，若臺灣時間為 10 月 18 日下午 3 點，丙地是什麼時間？

(A) 10 月 17 日下午 3 點 (B) 10 月 18 日上午 3 點
(C) 10 月 18 日上午 9 點 (D) 10 月 17 日上午 9 點

14. 臺灣自十七世紀以來，便以國際貿易為主要發展動力。臺灣之所以能長期在國際貿易中占有一席之地，主要原因與下列何者有關？

(A) 地理位置優越 (B) 緯度位置適中
(C) 天然資源豐富 (D) 許多特有種生物

15. 有關經度與緯度的敘述，下列何者正確？

(A) 緯線會在南北極點交會，緯度愈高，緯線愈短
(B) 所有經線都等長，東經 120°與西經 60°可以合成一個圓
(C) 經度以國際換日線為基準，以東為東半球，以西為西半球
(D) 赤道的緯度為 0°，兩極的緯度為 180°

16. 臺灣在冰河時期曾與亞洲大陸相連，冰河時期結束後，海水上升，與亞洲大陸再次分隔。此事實造成了

下列臺灣的何種現象？

(A) 擁有許多特有種生物
(B) 同時擁有高山與海洋的生態
(C) 位於熱帶與副熱帶氣候區
(D) 成為候鳥避暑與避寒之地

17. 十七世紀初期時，臺江內海是西拉雅人與漢人捕魚打獵的地方。荷蘭人將臺江內海部分區域視為可停泊船艦的港口。請問上述的「臺江內海」是下列哪一種海岸常見的地形？

(A) 沙岸 (B) 岬灣海岸 (C) 珊瑚礁海岸 (D) 斷層海岸

18. 附圖為臺灣鐵路路線分布圖，若依照臺灣的地形分布判斷，哪一路段經過的地形最平坦，為臺灣最大的平原所在？

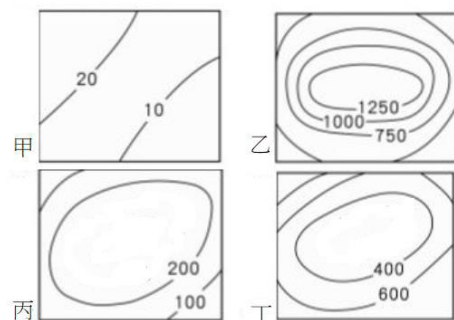
(A) 甲 (B) 乙 (C) 丙 (D) 丁



19. 船長阿智駕駛著漁船在北太平洋海域捕魚，此時船上水手適時提醒船長說：「前面就是日本的經濟海域範圍，如果再繼續向前捕魚的話，可能會被海上巡防隊扣押或驅逐。」請問：通常界定的經濟海域範圍是距離領海基線多少海浬之處？

(A) 12 (B) 20 (C) 120 (D) 200

20. 桃園捷運系統路網範圍涵蓋臺北市、新北市和桃園市三座城市，也讓雙北市民能更便捷地到達桃園國際機場，請問該捷運路線主要連結下列哪兩種地形？(甲乙丙丁為等高線地形圖)



(A) 甲乙 (B) 乙丙 (C) 丙丁 (D) 甲丁

21. 「...該地居民因超抽地下水，導致地層下陷達 2.5 公尺，造成房屋下陷一半以上、墳墓泡在水中、堤防水滿抽海水的水管，形成特殊景觀。」請問：上文所描述的地點最有可能位於下列何地？

(A) 埔里盆地 (B) 花東縱谷 (C) 澎湖群島 (D) 屏東平原

22. 下表為台灣三大城市的氣溫資料，由表中資料得

知，台北市七月月均溫高於高雄市，其原因與下列何者有關？

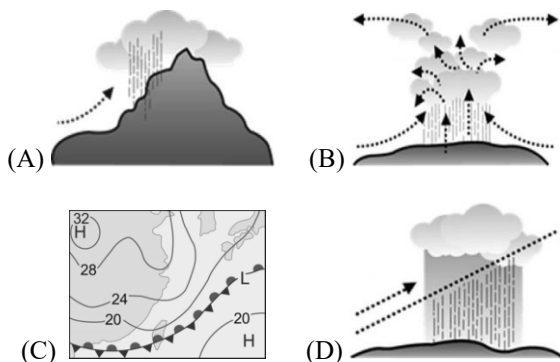
- (A)太陽照射角度較高 (B)蒸發量大於降水量
(C)盆地地形不易散熱 (D)位於夏季季風背風面

城市	月均溫	一月月均溫	七月月均溫
臺北		16.1°C	29.6°C
臺中		16.6°C	28.6°C
高雄		19.3°C	29.2°C

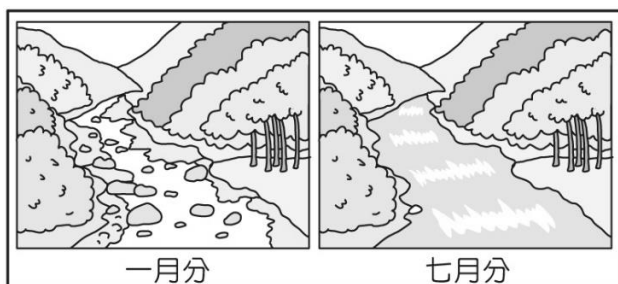
23. 台灣本島最長的濁水溪，主流長度僅 186.6km，相較於其他各國動輒上千公里長的河川，可以見得台灣河川普遍短小的特徵。請問：上文所述現象，與下列何者有關？

- (A)年降水量較少 (B)降水季節分布不均
(C)人口總數太多 (D)中央山脈南北縱走。

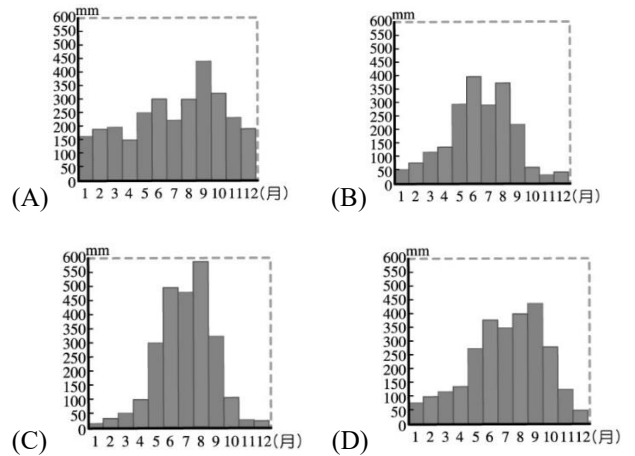
24. 小新暑假期間參加游泳特訓營，早上出門時艷陽高照，下午課程結束後，他踏出體育館，卻吃驚地發現外面正下著傾盆大雨，只好留在館內待了 20 分鐘，等候雨停天晴。請問：小新最有可能遇到哪種降水類型？



25. 附圖為大雄在不同月分於住家附近河川旁的寫生畫作，請問：下列何者最有可能出現與該河川同樣的景觀？(A)淡水河 (B)蘭陽溪 (C)大甲溪 (D)高屏溪

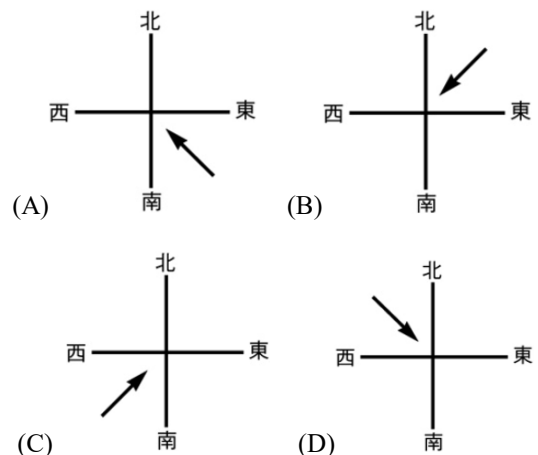


26. 承上題，該河川所在地區的降水季節分布，最有可能接近下列哪一張圖？



27. 興雅國中每年 12 月份舉辦校慶運動會，但賽事偶有因雨遞延的情形。請問：依據本校所在地區及舉辦校慶的時間來判斷，下列何者最有可能是導致賽事延期的原因？(A)冬季季風帶來降雨 (B)冷暖氣團相遇致雨 (C)頻繁的午後雷陣雨 (D)颱風侵襲北部地區

28. 「中央氣象局表示，盧碧颱風已減弱為熱帶性低氣壓，但其引進的氣流將影響台灣天氣不穩，中南部更要留意致災性的雨勢。」上文擷取自 110 年 8 月 6 日的某則新聞報導，請問：盧碧颱風所引進的氣流風向，最有可能為下列何者？



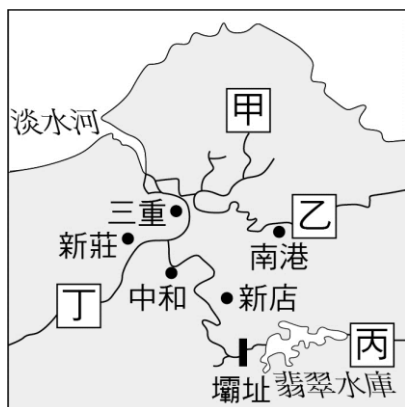
29. 臺灣的年降水量接近 2,500mm，但降水時空分布不均。請問：受地形和季風影響，下列哪一個地區的年降水量最多？

- (A)陽明山 (B)嘉南平原 (C)澎湖群島 (D)台中盆地

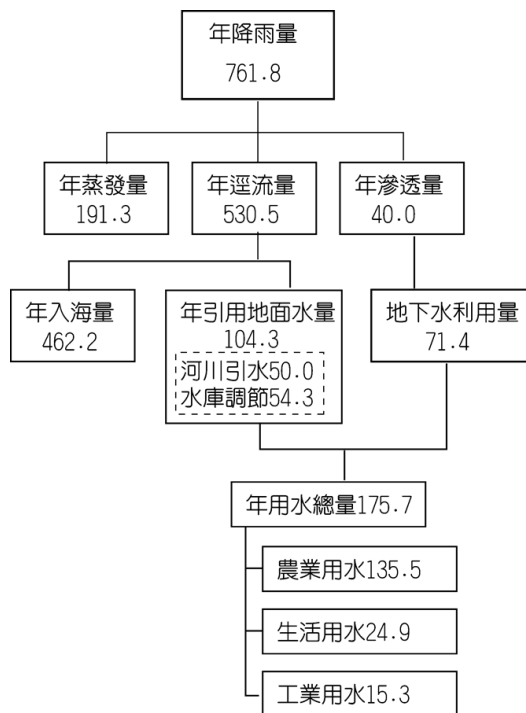
30. 「屋外的綿綿細雨已經下了兩個星期，討厭的鋒面不知道還要滯留多久？明天雖然放假，看樣子又無法跟同學一起出去逛街了。」上文截取自小智的日記內容，請問：該篇日記最有可能寫在哪一個節日前夕？

- (A)元旦 (B)兒童節 (C)端午節 (D)國慶日

31. 附圖為淡水河水系分布圖，由圖中資訊可得知，翡翠水庫供應大台北地區居民的用水，其重要性不容小覷。請問：為維護大台北地區的用水安全，下列哪一個地點最需要特別注意水質的維護、並作好水土保持？(A)甲 (B)乙 (C)丙 (D)丁



32. 附圖為某年台灣水資源利用概況，依圖中資訊判斷，台灣可用水資源不豐的原因與下列何者有關？
 (A)工業用水量增加，壓縮了日常生活可用水資源
 (B)地下水利用量不足，導致引用地面水的量太多
 (C)地勢陡峭、河川流速快，地表逕流年入海量高
 (D)河川上游的水庫數量太多，減少下游可用水量。



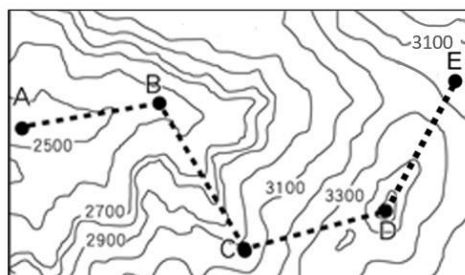
二、題組

- (一)附圖為臺灣五大山脈地形分布圖。請問：



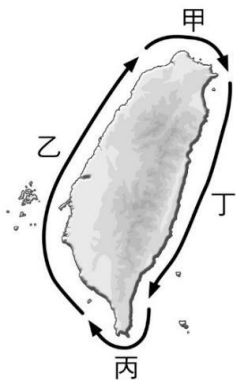
33. 臺灣島位於歐亞板塊與菲律賓海板塊的接觸帶上，由附圖山脈主要走向判斷可推論菲律賓海板塊移動的方向最可能為何？(A) → (B) ↓ (C) ↘ (D) ↖
34. 網路節目主持人小邵計畫拍攝臺灣最高山峰的外景節目，並訪問北峰全臺最高氣象站工作人員的工作心得，請問他必須攀登附圖中的哪一座山脈才能完成此計畫？(A)乙 (B)丙 (C)丁 (D)戊
35. 瀕臨絕種的「國寶魚」櫻花鉤吻鮭，屬於冰河時期遺留下來的活標本，棲息於雪霸國家公園的高山溪流中，請問雪霸國家公園的保育範圍主要位於附圖中的哪一座山脈中？(A)甲 (B)乙 (C)丁 (D)戊

- (二)附圖為蔡老師登山路線等高線地形圖，圖中A到E黑色虛線為蔡老師的登山路線，請根據圖中資料回答下列問題：



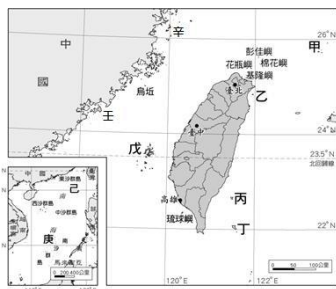
36. 該圖的等高線高度間距是多少公尺？
 (A) 50 (B) 100 (C) 150 (D) 200
37. 由圖判斷，下列哪一段路線會經過坡度最陡峭的地區？(A) AB (B) BC (C) CD (D) DE
38. A到B到C路線為下列哪一種地形？
 (A)山脊 (B)山峰 (C)河谷 (D)岬角
39. D點的高度約為幾公尺？
 (A) 3310 (B) 3450 (C) 3530 (D) 3600

(三)附圖為臺灣四個海岸分布範圍示意圖。請根據圖中資訊回答下列問題：



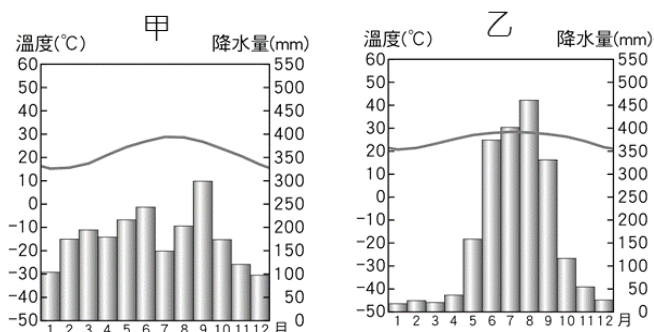
40. 若想要了解曬鹽、虱目魚養殖業的發展歷程，應該要到何處考察？ (A)甲 (B)乙 (C)丙 (D)丁
41. 若想看看野柳岬、鼻頭角、富貴角或龍洞灣的海岸風光，應該到哪一處海岸？ (A)甲 (B)乙 (C)丙 (D)丁
42. 若要研究珊瑚礁海岸生態多樣性特色，應到到哪一處海岸？ (A)甲 (B)乙 (C)丙 (D)丁

(四)附圖是臺灣離島分布圖，請依照下列題目描述，選出正確的島嶼位置。



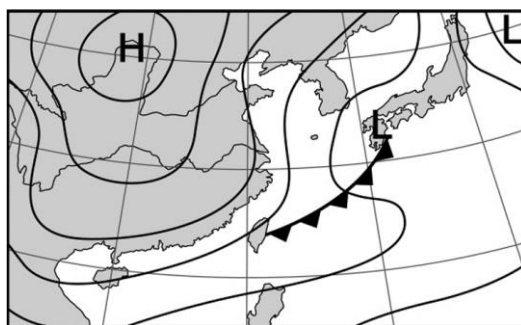
43. 哪一個島嶼因海平面上升或陸地下沉，相對較低的谷地沒入海中，而較高的山嶺凸出海面所形成的島嶼？ (A)乙 (B)丙 (C)己 (D)辛
44. 哪些島有成立國家公園？ (A)甲丁戊 (B)乙己庚 (C)丙丁戊 (D)壬戊己
45. 在哪一個島嶼可以泡溫泉，欣賞太陽從太平洋升起的美景？ (A)甲 (B)丙 (C)戊 (D)己

(五)附圖分別為台灣某兩地區的氣候圖，請依據圖中資訊，回答下列問題：



46. 針對上列氣候資料的解讀，下列敘述何者正確？ (A)甲的年溫差較大 (B)甲的年均溫較高 (C)乙的乾季不明顯 (D)乙的最冷月均溫較低
47. 冬季時兩地氣溫差異較明顯，其原因與下列何者有關？ (A)海拔高度 (B)季風風向 (C)緯度高低 (D)地形種類
48. 有關上述兩地的敘述，何者為正確的推論？ (A)甲位在夏季迎風的中部地區 (B)乙位在冬季背風的南部地區 (C)甲於冬末春初容易面臨用水短缺 (D)乙的8月主要降雨來源為鋒面雨

(六)附圖為某季節常見的地面天氣圖，請依圖中資訊，回答下列問題。



49. 針對該圖的天氣概況，下列何者為正確的推論？ (A)陸地空氣較暖，形成上升氣流，氣壓較高 (B)海洋空氣較冷，形成沉降氣流，氣壓較低 (C)冷氣團勢力較強，將鋒面推往暖氣團的方向 (D)空氣由低壓吹向高壓，風向為海洋吹向陸地
50. 下列何者最有可能是台灣當時氣象預報的標題？ (A)梅雨報到，曾文水庫大進補 (B)入冬暴冷！農漁業嚴陣以待 (C)颱風回馬槍，嚴防強風豪雨 (D)高壓籠罩，全台持續高溫炎熱

答案：

1. B 2. C 3. D 4. B 5. D
 6. B 7. C 8. A 9. B 10. D
 11. C 12. D 13. B 14. A 15. B
 16. A 17. A 18. C 19. D 20. C
 21. D 22. C 23. D 24. B 25. D
 26. C 27. A 28. C 29. A 30. C
 31. C 32. C 33. D 34. A 35. D
 36. B 37. B 38. C 39. C 40. B
 41. A 42. C 43. D 44. D 45. B
 46. A 47. C 48. B 49. C 50. B

臺北市立興雅國中 110 學年度第一學期七年級公民科補行評量講義

一段

1. 西元 1948 年聯合國發表世界人權宣言，揭示人類生而自由平等，其用意主要是解決國際社會的何項議題？ (A)追求永續發展 (B)建立普世人權(C)促進經濟成長 (D)防止疾病擴散
2. 珍·古道爾是著名的女性黑猩猩專家，他二十多歲時前往非洲的原始森林，觀察黑猩猩，記錄牠們的生活方式，生活在野外長達幾十年，讓人類更了解黑猩猩，而獲得了聯合國所頒發的「馬丁·路德金反暴力」獎，成為聯合國和平使者。請問：上述彰顯下列哪一項性別公平原則？
(A)利益分配 (B)貢獻肯定 (C)責任承擔 (D)需求滿足
3. 人權就是身為人與生俱來所應該享有的權利，是人不可剝奪的權利。請問：下列各項舉例，何者符合人權的內涵？
(A)政府立法保障身心障礙者是給予他們特權
(B)政府應強制民間團體發放物資給低收入戶
(C)一帆在網站上發表性騷擾的言論嘲笑他人
(D)政治人物拒絕透露與其家人有關的私生活
4. 某國官方近年投入大量資源於監控技術，發展出臉部辨識系統搭配國民資料庫，讓警察在最短時間內辨識一個人的身分，並進行即時追蹤位置。國際特赦組織(Amnesty International)提出擔憂：在緝捕罪犯的同時，該國政府也能針對少數民族、政治異議人士做更大程度的打壓，此舉將加深政府對整個社會的監控力道。依據文中針對該國政府此舉的看法判斷，下列敘述何者正確？
(A)有賴國家介入並提供資源，才能落實人性尊嚴的保障
(B)藉由犧牲部分隱私達到穩定生活，才有機會保障人權
(C)國家若無法保障免受政府非法侵害，人權將無法實現
(D)社會若無法破除偏見，將導致人性尊嚴不受他人尊重
5. 「愛上臺東，留下就業！」臺東地區觀光產業日益活絡，吸引不少年輕族群移居臺東就業，為鼓勵勞工就業移動，勞動部發放「跨域就業津貼」，包括交通、租屋與搬遷補助金等。34 歲在臺北擔任調酒師的馬靖，由臺北移居臺東縣，經由「勞動部高屏澎東分署臺東就業中心」協助她在臺東市就業，她感謝「跨域就業津貼」讓她一圓原鄉就業的夢想，定居臺東後有更多時間陪伴外婆，並感受原鄉熱情與豐富的自然文化。勞動部對於相關的就業措施，展現下列何種意義？
(A)協助勞工享有生理需求的滿足
(B)勞工自我發展得到絕對的保障
(C)協助勞工能選擇過理想的生活
(D)得到自我發展才享有人性尊嚴
6. 我國施行國民義務教育，規定所有國小畢業學生皆須進入國中就讀，以期

讓國民的素質得以透過教育而提升。請問：對於該政策的敘述，我們應有下列何種認知？ (A)義務教育的實施，讓學生能在過程中更認識自己，找出適合自己未來的方向 (B)部分生活條件相對不足的人，因為國家政策的介入，而讓個人發展受到限制 (C)此政策希望讓不同性別、財富及社經背景的人民，都能擁有充足的醫療資源 (D)政府強制人民受教育，是侵害了許多不想念書的人可以自由決定生活的權利

7. 人性尊嚴是指每個人都是一個獨立自主的個體，都有存在的意義與價值，應受到平等的尊重，透過自主的選擇與行動，以實現人生的理想，享有身為人類應有的尊嚴。請問：依照上述人性尊嚴的內涵，以下哪項敘述較能符合？

(A)政府最近調整基本工資，讓全國人民都能拿到一樣的薪水才算平等 (B)學生可自由決定上學與放學的時間，應當自己的主人，勇敢做自己 (C)政府為維持社會秩序的安定，可以擅自蒐集並運用民眾的個人資料 (D)臺灣已成為同性婚姻合法的國家，可讓他們享有婚姻上的同等權利

8. 根據 AIT(美國在台協會)在 2016 年度人權報告指出，在臺外籍移工權益受損，薪資受到剝削，部分負責看護工作的外籍移工甚至被當作「傭人」使喚，任何要求都必須來者不拒。請問：站在人權維護的角度，下列敘述何者正確？

(A)外籍移工移居來臺工作，因不具我國國籍，故須等取得國籍後再加以保障 (B)外籍移工薪資受到不合理的剝削，是政府未善盡保障民眾基本生活的責任 (C)外籍移工與雇主間視為交易，只要是外籍移工自願的，就不會侵犯其人權 (D)我國能提供其工作機會已實屬不易，工作內容及待遇他們不應有太多意見

9. 富翔原本在公司擔任人資主管一職，但去年因為請育嬰假照顧小孩，主管一職由他人接任。復職後，公司表示僅能提供助理職位，法官認為助理職務內容，對公司屬可有可無之職位，顯見公司並沒有讓其復職的誠意，故違反法令。請問：該公司最可能違反下列何法令？ (A)《性騷擾防治法》 (B)《性別工作平等法》

(C)《性別平等教育法》 (D)《憲法》

10. 民國 93 年，立法院通過《性別平等教育法》，為性別平等教育的推展，立下里程碑。小名在課本上看到這段文字，立馬上網搜尋有關此法的相關內容，並找到以下四段文字。請問哪一句最正確？

(A)此法主要是在解決性騷擾與性侵害造成的問題 (B)此法主要是保障多元性別能透過婚姻組成家庭 (C)此法能處理學生對學校相關人士的性騷擾行為 (D)此法讓不同性別在工作上的基本權益獲得保障

11. 性騷擾主要是指以明示或暗示的方式，從事不受歡迎且具有性意味或性別歧視之言詞或行為，以致影響他人的人格尊嚴、學習和工作機會或表現，但未達性侵害之程度者。下列有關「性騷擾」之敘述，何者正確？

(A)通常只會發生在異性之間，且加害者大多是陌生人或不熟的人 (B)受害者以女性居多，通常都是因為穿著暴露、長得不錯才受害 (C)只要言語或行為具有

性意味或性別歧視，令人不舒服即可成立 (D)被騷擾是丟臉的事，事後最好不要聲張，以免事情愈來愈嚴重

12. 下課時，翔翔被同學在廁所強脫下褲子，成為校園性騷擾的受害者。請問：翔翔為了保護自己而提出檢舉，關於學校處理流程的排序，下列何者正確？

- (甲)性別平等教育委員會負責調查 (乙)被害人檢舉
(丙)向學務處尋求協助 (丁)彙報教育主管機關
(A)乙甲丁丙 (B)乙丙丁甲 (C)丁乙丙甲 (D)乙丙甲丁

13. 政府為保障受雇者的工作權益不會因為照顧孩子而受到影響，而有了育嬰留職停薪的相關規定。請問：關於此規定的敘述，下列何者正確？

- (A)須在一份工作任職滿半年後才能申請
(B)須在孩子滿四歲前，只要有需要皆可申請
(C)育嬰留職停薪的相關規定是在《民法》中規範
(D)應由媽媽申請，爸爸申請育嬰留職停薪的規範較嚴格

14. 從過去的賣座電影“報告班長”到前幾年的電視劇“女兵日記”劇中除了男性士兵，也出現許多巾幗英雄，從而激發出許多女生的「軍旅夢」。關於前述現象，下列何者正確？

- (A)傳播媒體有助於破除性別間的刻板印象
(B)顯示未來女性將取代男性成為軍中主流
(C)這些劇情是傳播媒體對男性能力的否定
(D)女性體能應該較弱，戲劇內容只是幻想

15. 性別平等是現代民主社會的重要指標，以下符合性別平等的原則，哪個選項組合完全正確？

- 【甲】男孩女孩都應受到父母同樣的關懷
【乙】夫妻共同負起照顧家庭的責任
【丙】職業的升遷只論個人能力，不分性別
【丁】法律規定繼承權不因性別而有所差別
【戊】女性能請產假；男性不能請產假

- (A)甲乙 (B)甲乙丙 (C)甲乙丙丁 (D)甲乙丙丁戊

16. 性別工作平等法中詳列關於「育嬰假」的請假方式。請問：就你所學，判斷「育嬰假」是否符合性別平等的觀點？

- (A)符合，從貢獻肯定來看，男性照顧小孩為特殊的表現
(B)不符合，因為男性不能請育嬰假，將造成男女不平等
(C)符合，從需求滿足來看，男性也會有照顧小孩的需求
(D)不符合，從利益分配的角度來看，男女同工卻不同酬

二段

- 下列敘述符合頂客家庭的有幾個？(甲)一對雙薪夫妻未生育子女 (乙)一對雙薪夫妻與未婚子女 (丙)一對雙薪夫妻與其父母 (丁)一對雙薪夫妻與寵物小白。
(A)一個(B)兩個(C)三個(D)四個
- 大雄與靜香是一對情侶，當靜香發現自己未婚懷孕後，孩子的父親大雄就離開了，傷心的靜香將孩子生下後，另與胖虎交往並結婚。胖虎希望能收養靜香的孩子，但靜香卻有不同的想法而未同意。若以法律的觀點評估題目中出現的親屬關係，以下敘述何者正確？
(A)靜香與大雄是配偶關係 (B)大雄與胖虎互稱為連襟
(C)胖虎與孩子是法定血親 (D)胖虎與孩子是屬於姻親
- 振興和他的家族一起參加豪華遊輪之旅，大家住的房間安排如下圖。振興和他弟弟睡同一間房間，右邊是「血親和姻親」，左邊是「直系血親」，請問他們應該分配到哪一個房間？
(A) 甲 (B) 乙 (C) 丙 (D) 丁

堂哥 堂弟	甲	爸爸 媽媽	乙	嬸嬸 堂妹
姑姑 姑丈	丙	伯父 叔叔	丁	姑姑 姑丈

- 下表是我國 104 年至 106 年家庭型態的統計值，根據此表，下列敘述何者正確？
(A)表中顯示單親家庭的比例逐年增加 (B)我國家庭型態以核心家庭比例最高
(C)隔代教養家庭比例有大幅度的減少 (D)多數長輩都能獲得家庭親人的照顧

種類	104 年	105 年	106 年
單人%	11.82	12.09	12.11
夫婦%	19.06	18.98	18.7
單親%	10.32	10.09	10.04
核心%	35.48	35.96	35.71
祖孫%	1.2	1.13	1.11
三代%	14.27	13.83	13.78

註：夫婦家庭是指尚無子女或子女均已離家之家庭。

5. 下表是可可國近幾年來人口調查的部分資料。從數據上分析，造成可可國人口結構產生如此大幅度的變化可能是下列何種原因？
- (A)家庭生育功能降低 (B)隔代教養現象普遍
(C)家庭貧富差距擴大 (D)社福醫療負擔增加

年度	2014 年	2015 年	2016 年	2017 年	2018 年
0 歲 人口	241103 人	238759 人	210936 人	208744 人	188663 人

6. 四個朋友分享家庭近況如下所示，若由對話內容所提及的親屬判斷，哪兩人的家庭型態較相似？

凱翔：「我家的小姑姑和小叔叔每天吵個不停，我耳膜都快破了。」

瑋駿：「我媽媽為了汰換舊車和奶奶冷戰一個月，我跟我爸爸夾在這兩個女人中間好痛苦。」

芊淨：「我爸爸最怕弟弟請病假，因為他是我們家唯一的大人，請假照顧弟弟，全勤獎金就泡湯了。」

哲榮：「我媽媽跟嬸嬸、伯母每次都為了輪到誰煮飯打掃的事，相互指責。」

- (A)凱翔與哲榮 (B)芊淨與哲榮
(C)瑋駿與哲榮 (D)瑋駿與芊淨

7. 下列家庭型態與形成的原因，何者較為正確？

- (A)隔代教養家庭多是因為生育觀念的變化而產生
(B)雙薪家庭是因為現代對婚姻價值的轉變而產生
(C)居住與就業場域的變遷，可能會形成兩地家庭
(D)折衷家庭通常是因為與外籍人士結婚才會產生

8. 為了建立平權的家庭，我國政府已積極努力制定許多相關法律政策。以下何種說法較為正確？

- (A)親子間的平權是指父母應與子女擁有相同的權力
(B)夫妻間的平權通常與性別平權有密不可分的關係
(C)建立平權的家庭，只能靠政府制定法律強制實行
(D)父母行使親權不一致，法院將依子女願望來判決

9. 貝貝在某個法律諮詢網站看到一則案例：「一名婦人在 30 年前棄養 10 個月大的女兒，現在則回頭要求女兒奉養，否則要告女兒棄養」。針對這樣的案例，下列哪一項敘述是正確的？

- (A)從法律的角度來看，現代社會父母的權益越來越不受重視
(B)法律規定子女應孝敬父母，不論任何情況，應該絕對遵守

- (C) 棄養父母或子女，主要應依據《性別平等教育法》來處理
(D) 曾被父母棄養的女兒，可以請求法院免除或減輕扶養義務
10. 下列對於家庭的敘述，哪個選項的組合中「全部都是錯誤的」？

(A)甲己庚 (B)丙丁辛 (C)乙丙己 (D)乙丁戊

- 甲、家庭是以永久共同生活為目的
乙、家庭是構成社會的最大單位
丙、家庭是透過契約關係所組成的團體
丁、親子間相互扶持，才能發揮家庭功能
戊、家庭是個人最早接觸的團體
己、唯有基於血緣關係才能構成家庭
庚、家庭對個人的人格養成，具有相當程度的影響
辛、個人行為的養成，只能依靠家庭教育

11. 家人應該是一生中關係極為密切的人，然而現今社會卻有許多因素使得家人間的關係愈來愈疏遠，所以關於家人間的關係，我們應有種認知？

- (A)家人間應互向尊重包容，若有爭執也應好好溝通
(B)家人間的親密關係自然發展就好，不須特別在意
(C)家人間各自做自己的事，愈少對話，就愈少衝突
(D)國中生若無法與家人好好相處，可依法斷絕關係

12. 現代社會生活緊張，少數人抗壓性不足，往往將壓力訴諸暴力發洩在家人身上。現代婦女基金會接獲一名男性諮詢，他說太太學會打牌後，要求他每月交出薪資，只要少一千元，老婆不但拳打腳踢讓他滿身傷，還將他關在房間不給飯吃。請問；面對在家庭中如上述的事件，該男子應做出何種判斷較為正確？

- (A)男性受家暴是很丟臉的事，應多容忍
(B)可依民法聲請保護令，限制太太行為
(C)此事件為合理的財產分配，並非家暴
(D)可撥打 113 專線，尋求相關單位協助

13. 家庭暴力事件已非私領域事務，若發生這類事件，依法可以至何處聲請保護令？

(A)地方法院 (B)社會局處 (C)警察機關 (D)以上皆可

14. 依內政部的統計資料顯示，在臺灣的新移民已超過 50 萬人，可預期未來新住民數量占臺灣人口的比例會愈來愈高。面對這樣的趨勢，以下何者是較為適當的因應之道？

- (A)加強管制政策，禁止外來移民移入臺灣
(B)規定新住民的居住區域，方便集中管理
(C)開設相關課程，讓新住民融入臺灣社會
(D)開設特殊學校，只提供新住民子女就學

三段

1. 在學校中，我們會透過班會來討論與決定班級的公共事務，下列有關班會進行方式的說明何者正確？
 - (A)由主席宣布會議的開始及開會的目的
 - (B)會議之前提出提案並由二人以上附議
 - (C)表決採取先提名後表決及多數決原則
 - (D)討論事項完畢後交由記錄報告及講評。
2. 政府為保障學生的學習權益，明確規範校園中的學生權利，下列相關之說明何者錯誤？
 - (A)校園霸凌行為非屬於偶發事件並會觸犯法律
 - (B)落實學生校園權利的保障並非只跟師生有關
 - (C)老師不可因干擾學習情形暫時保管學生物品
 - (D)任意翻動他人書包侵害到其財產方面的權利。
3. 校園的公共事務與身處在其中的每個人有關，下列何種處理公共事務的反應最不正確？
 - (A)開班會決議的內容，無法要求全校同學遵守
 - (B)開班會時，少數人意見比多數人重要
 - (C)表決的結果，對無參與投票者也有約束力
 - (D)公共事務的共識，可藉由班會或班聯會來凝聚。
4. 下列敘述何者正確？
 - (A)我們在學校主要是與來自不同家庭的同學一起玩樂，補習班才是學習的場所
 - (B)學校不必提供各種課程與活動，只要注重考試成績即可
 - (C)在學校我們與同學、老師有良好的人際互動，只是為了找出適合自己的學習方法
 - (D)學生可以參與討論、規劃與決定校園公共事務，培養公民素養。
5. 學生在學校有哪些權利與責任？
 - (A)民法規定人民有受國民教育的權利與義務
 - (B)學生攜帶到校物品足以妨害教學時，教師依法可暫時保管
 - (C)為了維護學校名譽，師長可任意翻動學生書包
 - (D)教師法明確規定，國家保障學生不受任何體罰
6. 下列為學生申訴評議委員會申訴順序敘述，何者有誤？
 - (A)提起申訴
 - (B)以口頭提出申訴
 - (C)校長召集學生申訴評議委員會
 - (D)做成評議決定書。
7. 關於學生自治實施步驟有甲.訂定自治規範 乙.成立自治組織 丙.推展各項自治活動，實施順序何者正確？
 - (A)甲乙丙
 - (B)乙甲丙
 - (C)乙丙甲
 - (D)丙乙甲。
8. 何謂多數決？
 - (A)班會時選舉班長，最多票者當選
 - (B)多數決是部落最常採行的表決方式
 - (C)所有事務都適合多數決
 - (D)可以以多數決方式限制少數人的基本權利。

9. 學生參與校園公共事務須先深入了解事務的內容，下列哪一項方式最適合？(A)尋求路人建議 (B)參加鑑定考試 (C)實問卷或訪談 (D)依照自己家長的指示。
10. 下列關於社區與部落的敘述，何者正確？(A) 社區的範圍有明確的界線 (B) 社區意識的關鍵要素是認同與歸屬感 (C)對多數原住民來說，部落僅是傳統的聚居型態 (D)根據原委會核定，台灣原住民目前有 20 族 745 個部落。
11. 關於部落的意義與重要性，下列敘述何者正確？(A)部落是傳統迷信中心 (B)部落並非為基本政治組織 (C)部落是生產分配中心 (D)現在部落語言文化傳承皆已喪失。
12. 部落要因應現代危機與挑戰，下列哪一個敘述錯誤？(A)過去有許多國家政策限制了原住民傳統生活領域與方式 (B)許多部落面臨人口流失的問題 (C)原住民傳統生活方式和部落文化難以維繫 (D)現代部落對原住民族生活不太重要。
13. 部落面對自身危機，可透過公共參與加以改善，下列敘述何者不可行？(A)針對土地問題與權益，可發起「還我土地」運動 (B)可訴求政府成立專責機構 (C)可舉辦原住民公投尋求獨立 (D)可發展自然生態觀光，追求永續發展。
14. 小宸班上召開班會討論校慶創意進場的方式，小君和小婷意見不合而大吵起來，其他同學也七嘴八舌吵鬧不已，在這種情形下，小宸可提出下列何者請主席處理？(A)權宜問題 (B)秩序問題 (C)即刻表決 (D)請求散會。
15. 依照野生動物保育法，民眾嚴禁任意狩獵，但依照其中 21-1 條，原住民基於傳統文化、祭儀，得以獵捕、宰殺或利用野生動物。關於此規定的敘述，何者正確？(A)代表政府兼顧原住民傳統文化與生態保育 (B)人類文化傳統優於生態保育 (C)代表法律規範矛盾，易使法條權威喪失 (D)法律如此規範易造成原住民濫捕野生動物。
16. 位於新竹縣的司馬庫斯部落，在為數眾多的居民共識之下，以部落神木為重心，實行「互助共生」制度，打造具有原住民特色的產業活動，尋求部落經濟與生態的永續發展，司馬庫斯部落展現了何種精神？(A)部落會議集體管理 (B)社區組織行政效率 (C)社區意識永續發展 (D)頭目統治經濟優勢。

1.ACDB 6. BBACB 11. CDCAA 16. C