

一、選擇題：

1. 同學們正在討論歷史上某文明所實行的政治制度，請問：此文明還有哪些特色？ (A)以軍國主義著稱 (B)首建跨三洲大帝國 (C)實施陶片流放制度 (D)奠定歐洲法學基礎。



2. 「羅馬不是一天造成的」，下列有關羅馬歷史發展的敘述，何者有誤？ (A)王政時期的政治權力掌握在元老院手中 (B)共和時期積極向外擴張，地中海成為羅馬的內海 (C)帝國時期從屋大維掌權後開啟 (D)「羅馬和平」恰好與中國的漢朝相互輝映。
3. 奧運比賽田徑項目中的「馬拉松長跑」是為了紀念西元前 490 年，因跑回雅典向市民報告勝利佳音，卻不幸力竭而死的希臘士兵菲迪皮德斯所設置。請問：菲迪皮德斯當時是要向民眾通報哪一場戰爭的勝利？ (A)波希戰爭 (B)特洛伊戰爭 (C)亞歷山大東征 (D)伯羅奔尼撒戰爭。
4. 某本書寫道：「上古西亞有一個民族，在夜晚以星星辨識方向而不會迷途，他們的商船往來於地中海各地；他們也取用兩河流域的楔形文字與埃及象形文字的表音符號，改良後書寫成自己的文字，因貿易之便傳往歐洲，是傳播文明的重要媒介。」請問：書中所描述的是下列哪一個民族？ (A)蘇美人 (B)波斯人 (C)巴比倫人 (D)腓尼基人。
5. 某時期的學術以科學研究最為突出，浮力原理、槓桿原理與幾何原本堪稱當時的經典，因而被史學家稱許為「人類第一次偉大的科學時代」。請問：上文所描述的是世界歷史中的哪一個時期？ (A)埃及古王國時期 (B)希臘城邦時代 (C)希臘化時代 (D)羅馬共和時期。
6. 「一位希臘英雄，為了所屬地方的榮耀，以城邦國王之姿，踏上了戰爭之路。因為得罪海神波賽頓，使得戰後的返家之路遙遙無期。所幸有守護女神雅典娜的暗中指引和幫助，終於回到自己的國家。」請問：這部將希臘神話結合歷史，流傳後世的史詩是何人的作品？ (A)凱撒 (B)荷馬 (C)希羅多德 (D)查士丁尼。
7. 孔雀王朝的一位君主，塑造了許多的圓型石柱，銘記戰功以及宣揚佛法，並於各個佛教聖地建立佛寺佛塔，留給後世許多研究這段歷史的材料。請問：若以種姓階級的觀點，該位君主應被歸類於哪一個階層？

(A)婆羅門 (B)剎地利 (C)吠舍 (D)首陀羅。

8. 承上題，佛教在印度地區境內推廣後，接下來的幾個世紀內，佛教於印度地區之外傳播，請問：下圖中佛教傳播路線圖的說明，何者出錯了？ (A)甲 (B)乙 (C)丙 (D)丁。

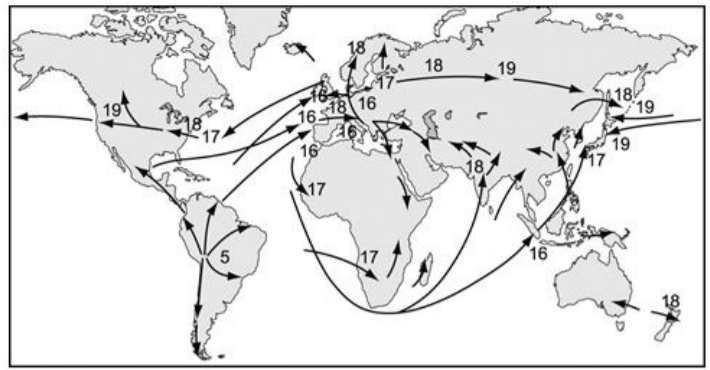


9. 世界三大宗教，所指分別為佛教、基督教、伊斯蘭教，請問：這三個宗教的共通點為何？ (A)皆源自於亞洲 (B)皆為一神信仰 (C)強調善惡對抗 (D)著重聖像雕塑。
10. 宗教信仰發揮的影響力，時至今日，即使科學的進步與推展，仍無法推翻神學存在的價值與力量，而今傳遍至世界各地的主要宗教信仰，歸納其之所以能流傳悠久的主要原因，應為下列何者？ (A)人們對因果報應的畏懼 (B)末日降臨與來生的嚮往 (C)信仰成為心靈重要寄託 (D)宗教宣揚自由的價值觀。
11. 「這座城市裡設置綜合研究機構—智慧館，將伊朗、印度和希臘文獻大量翻譯，將中國長生不老藥的煉丹術轉變為煉金術和化學等。」請問：該座城市應為下列何者？ (A)麥加 (B)巴格達 (C)威尼斯 (D)耶路撒冷。
12. 君士坦丁堡形勢險要、易守難攻，且位於東西貿易要衝，自古即為兵家必爭之地。此地現為一兼具歐亞特色的國際都會，多元文化薈萃、交融，使城市展現無比的活力與魅力。關於其歷史發展的軌跡，何者符合史實？ (A)羅馬皇帝屋大維在此興建聖索菲亞大教堂 (B)日耳曼民族哥德人在此區建立哥德式建築 (C)聖索菲亞教堂於阿拉伯人佔領時改為清真寺 (D)鄂圖曼土耳其人佔領此地並更名為伊斯坦堡。
13. 根據下文引述自馬丁路德「九十五條論綱」中所揭露的內容，掀起十六世紀歐洲宗教改革風暴的主要原因為何？ (A)教會建築花費龐大 (B)知識份子的提倡 (C)神職人員的貪腐 (D)君王的鼓吹支持。

•當錢櫃中的銀幣叮當作響，煉獄中的靈魂即會應聲飛入天堂。顯然，當錢幣在錢櫃中叮當作響，增加的只是貪婪和利己之心。

•教皇是當今的富中之富，他的錢比古時最大的富豪克裡沙士還多，那他為什麼要花費可憐的信徒們的錢，而不掏自己的腰包來建造聖彼得教堂呢？

14. 歷史上許多的變革，常常藉著改革之名行個人權益鬥爭之實，例如：歐洲十一世紀時，為了爭奪教會龐大教產的領導指揮權，因此有哪些人物介入了權力鬥爭之中？ (甲)君士坦丁堡大主教 (乙)英王亨利八世 (丙)喀爾文牧師 (丁)羅馬教宗
(A)甲乙丙丁 (B)甲乙丙 (C)乙丙丁 (D)甲丁。
15. 十四世紀開啟的文藝復興運動，其核心除了復古之外，更在於創新，許多文化在此時慢慢成形。請問：下列何者即為其「創新」之處？ (A)熱中描繪神話人物 (B)推崇騎士文學 (C)重視彩繪玻璃 (D)強調人本主義。
16. 承上題，文藝復興運動的展開，造成了原本並未預期的效果，下列何者即為運動展開後造成的影響？ (A)促進各地區民族意識的崛起 (B)帶動各地城市的興起 (C)吸引土耳其人的仿效 (D)引起十字軍東征。
17. 阿拉伯人稱霸世界的輝煌年代裡，促進東西文物的交流，對各地區後來的發展，帶來極大的影響力，下列何者即為阿拉伯人的貢獻？ (A)番薯作物的推廣 (B)火藥火器的傳播 (C)指南針的西傳 (D)基督教東傳。
18. 歷史發展在許多面向總是互相交錯，其影響範圍總是比想像中大。請問：下列關於十六世紀宗教改革造成的重大變化，何者正確？ (A)人民識字率提升 (B)文藝創作大躍進 (C)信徒人數銳減 (D)神聖羅馬帝國瓦解分裂。
19. 附圖為天主教會學校輔仁大學的校徽，校徽中的十字架顯示出其建校與宗教團體密不可分。請問：其創校應與哪一個教會派系相關？ (A)長老教會 (B)耶穌會 (C)清教徒 (D)路德教派。
20. 研究大航海時代歷史的小金，有幸到塞維亞的「印地亞斯總檔案館」參觀，館內典藏許多有關西班牙殖民政策及航海事業的珍貴史料。請問：下列何者不可能是在小金在當地所找到的檔案資料？ (A)哥倫布的航海日誌 (B)美洲殖民地墨西哥市的地圖 (C)向明朝政府租借澳門開展香料貿易的報告 (D)馬尼拉總督出兵艾爾摩莎島的請願書。
21. 附圖是某農作物傳播到世界各地種植的時空示意圖，圖中數字表示農物流傳到該地的時間（世紀），箭頭則代表傳播的方向。請問：若根據附圖資料判斷，該農作物的原產地最可能是在何處？ (A)美洲 (B)歐洲 (C)非洲 (D)亞洲。



22. 承上題，該農作物最有可能是指下列何者？ (A)甜菜 (B)稻米 (C)咖啡 (D)馬鈴薯。
23. 下表是某商業公司發展的重要大事記，請問：此公司的亞洲總部位於何處？ (A)澳門 (B)香港 (C)馬尼拉 (D)巴達維亞。

- ◆1602年：3月20日公司成立。
- ◆1603年：公司船員韋麻郎經由馬六甲海峽抵達澳門，與葡萄牙的戰爭失利。
- ◆1604年：8月7日抵達澎湖，但12月15日被明朝沈有容的軍隊驅離。
- ◆1619年：在爪哇成立東印度地區的總部。
- ◆1622年：攻打葡萄牙人佔領的澳門失敗後，轉而佔據澎湖。
- ◆1624年：與明朝軍隊歷時八個月的澎湖戰爭失敗，轉而佔領台灣大員。
- ◆1638年：日本鎖國，葡萄牙人被趕走，公司壟斷日本貿易。

24. 承上題，下列有關此公司的敘述，何者有誤？ (A)為民間集資的私人公司 (B)被允許籌組武裝勢力、發動戰爭 (C)擁有官方特許狀，得以獨佔所有海外貿易的利益 (D)透過徵稅、軍事與司法的權力，從貿易公司成為殖民統治者。
25. 最近潘潘迷上《讀畫搞懂世界經濟史》，企圖透過圖像資料來學習歷史。藉由閱讀與觀察畫作，以新的觀點切入，探究國與國之間的文化、政治、貿易交流如何影響全球化興衰以及經濟潮流的發展。潘潘在書中看到的章節主題如下：(甲)大航海時代，「富饒山」波托西銀礦環遊世界 (乙)拜占庭帝國的最後一戰，動搖全球經濟 (丙)大英帝國殖民印度，展現強迫性全球化的結果 (丁)蒙古和平時代，東西貿易使疾病散播全球。請問：若按歷史發展的順序排列，下列何者正確？ (A)甲乙丙丁 (B)乙丁丙甲 (C)丙甲丁乙 (D)丁乙甲丙。
26. 你若是生活在十八世紀的歐洲貴族名流，可能會在報紙上看到下列哪一則新聞？ (A)震驚！羅馬教會承認宗教法庭對伽利略的判決錯誤 (B)獨家！若弗蘭夫人的沙龍聚會邀請伏爾泰誦讀新作《愍第德》 (C)號外！維多利亞女王被授予「印度女皇」稱號，蒙兀兒帝國滅亡了 (D)決戰熱蘭遮！荷蘭人與鄭成功究竟誰輸誰贏？



二、整合題：

※「定居農業」是孕育人類古文明的主要經濟活動。世界史上，定居農業地區通常是出現在一些大河流域的氾濫平原，而成為古文明的發祥地。附圖為四大古文明分布圖，請問：



27. 四大古文明出現的先後順序為何？ (A)甲乙丙丁 (B)乙丁丙甲 (C)丙丁乙甲 (D)丁甲乙丙。

28. 下列有關四大古文明共同特徵的敘述，何者有誤？ (A)皆位於亞洲 (B)皆靠近河流，易於取水且交通便利 (C)皆起源於氣候溫和、土地肥沃，適合農業發展之地區 (D)皆在早期就發展進入歷史時代，為人類文化的重要搖籃。

29. ○○政府努力爭取 36 年後，「巴比倫古城」遺址終於在西元 2019 年獲選聯合國世界文化遺產。這個見證美索不達米亞文明輝煌歷史的遺跡，曾是多個帝國所在地，在被忽視多年後終於返回它在歷史上「應得的位置」。請問：「巴比倫古城遺址」屬於附圖中哪一個古文明的文化遺產？ (A)甲 (B)乙 (C)丙 (D)丁。

30. 承上題，申請認證「巴比倫古城遺址」的○○政府應該是指下列何者？ (A)以色列 (B)阿富汗 (C)伊拉克 (D)土耳其。

31. 《王家的紋章》這部日本經典少女漫畫，以古文明的歷史為背景，創造吸引眾多讀者的浪漫劇情。內容描述一位喜愛考古的少女凱羅爾不小心掉入○○河中，結果穿越到三千年前的△△與法老相戀的故事。請問：我們從漫畫中可以得知屬於這個古文明的文化成就有哪幾項？(甲)人形棺(乙)競技場(丙)金字塔(丁)六十進位法(戊)漢摩拉比法典(己)聖索菲亞大教堂 (A)一項 (B)兩項 (C)三項 (D)五項。

※《舊約》有段記載大意如下：

新巴比倫王國國王尼布甲尼撒二世，夢到一個形狀甚是可怕的高大塑像，頭是金的，胸膛和膀臂是銀的，肚腹和腰是銅的，腿是鐵的，腳是半鐵半泥的。突然有一塊石頭，打在這像的腳上，把腳砸碎，於是金、銀、銅、鐵、泥都一同砸得粉碎，被風吹散無處可尋。

希伯來青年但以理在國家被征服後，被擄至巴比倫侍立宮中。為了替國王解夢，他向族人堅信的真神祈求，得到了啟示，憑藉神所賜予的智慧來解釋夢境：「王啊，你是諸王之王，你就是那金頭。在你以後必另興一國，就是銀。又有第三國，就是銅，必掌管天下。第四國，必堅壯如鐵並壓制列國。你所見塑像的腳和腳指頭，一半是泥，

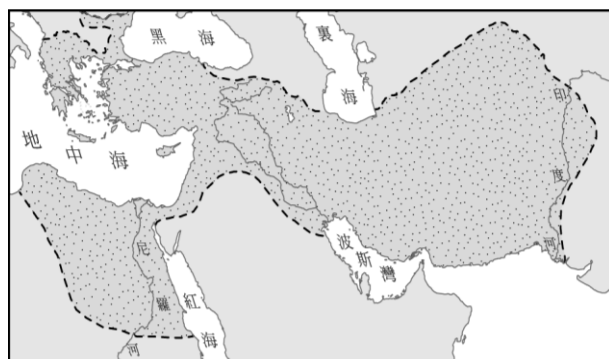
一半是鐵，表示那國將來也必分開，其國民與各種人攙雜，卻不能彼此相合。」

32. 請問：但以理所信奉的神應該是下列何者？ (A)宙斯 (B)耶和華 (C)奧塞里斯 (D)阿胡拉馬茲達。

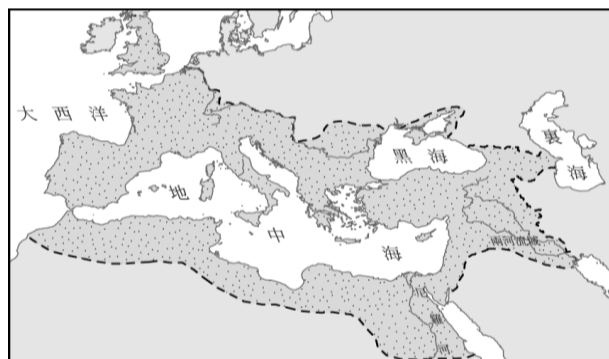
33. 承上題，但以理所信奉的宗教有何特色？ (A)禁止膜拜偶像 (B)崇拜象徵光明的火 (C)階級森嚴身分世襲 (D)相信死後靈魂通過審判就能復活。

34. 但以理解夢之言與歷史的發展頗為吻合，請問：夢境中銀、銅、鐵所代表的國家，若按照順序出現應該是哪些政權？ (A)甲乙丙 (B)乙丙甲 (C)丙甲乙 (D)丙乙甲。

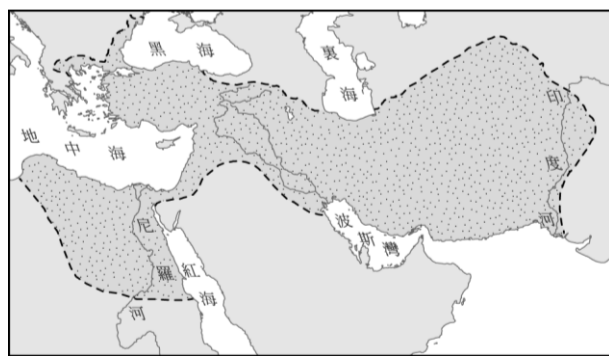
甲



乙



丙



35. 請問：堅壯如鐵的第四國變成「半泥半鐵」政權應該與下列哪一個原因無關？ (A)經濟惡化 (B)宗教紛爭 (C)外族入侵 (D)政治腐敗。

36. 請問：上文中「半泥半鐵」政權應是於何時分裂？ (A)西元前六世紀 (B)西元前四世紀 (C)西元一世紀 (D)西元四世紀。

37. 承上題，表格中關於「半泥半鐵」政權分裂後的比較，何者有誤？

疆域範圍	義大利半島及其以西地區	巴爾幹半島及其以東地區
(A)首都	拜占庭	羅馬
(B)使用語言	拉丁文	希臘文
(C)滅亡時間	476年	1453年
(D)滅國者	日耳曼民族	鄂圖曼土耳其人

※閱讀下文，回答問題：

《公告》

我們議決，任何人不得被剝奪其尊奉基督教，或任何自認為最適合的宗教。希望上帝將因我們對祂真心誠意的敬仰而降臨恩澤。

有關基督教徒的一切禁令均已取消，今後凡欲崇奉基督教者，能自由並公開行之，不得受阻。

38. 根據文中內容判斷，這份公告應為何人下令宣達張貼？ (A)君士坦丁 (B)狄奧多西 (C)查士丁尼 (D)格列哥里。
39. 請問：這份公告內容所揭示的重要內涵與意義為何？ (A)宗教指揮權的確立 (B)信仰的推廣宣導 (C)宗教寬容的精神 (D)信徒的權利義務。

※參照下圖，回答問題：



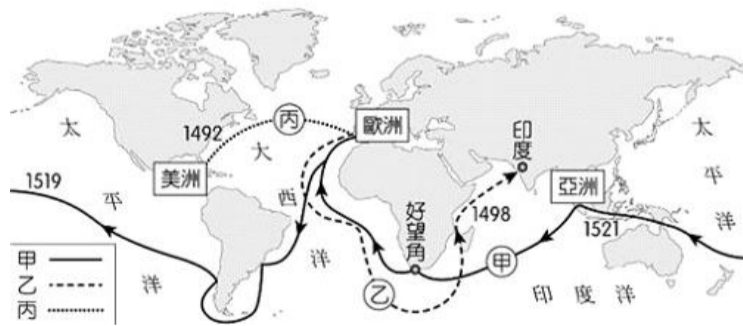
40. 「第二天他們一早起身，總管押運著行李先走，大家隨後由小心謹慎的國王率領著，回到佛羅倫斯去。到了聖瑪麗亞-諾凡拉禮拜堂，三位年青的少爺告辭了七位小姐，原來他們出發時就是在這兒集合的。於是男的到別處去遨遊消遣，女的各自回家。」[第十天終] 上述引文取材自世界名著，請判斷這份作品當初應是以何地的方言書寫呈現？ (A)甲 (B)乙 (C)丙 (D)丁。
41. 「塔拉哥納古城」、「阿爾罕布拉宮」為位在圖中甲區的著名觀光景點，請問：這些建築物的留存乃是因為該地曾經受到哪些族群統治造成的結果？ (A)阿拉伯、土耳其 (B)阿拉伯、羅馬 (C)土耳其、波斯 (D)羅馬、波斯。

※香料貿易在人類歷史上有著舉足輕重的作用，尤其是中世紀後期的歐洲，對香料的渴望直接催生了「地理大發現」。

現」。請參考地圖，回答下列問題：



42. 《馬可波羅遊記》是著名的旅遊經典，也是人類史上最神奇的旅遊神話。馬可波羅以歐洲商旅視界來描述其東方見聞，書中記載的富庶中國與東方文明風物，不僅為當時西方未見之奇聞，中國「黃金遍地，香料盈野」的情報更激起歐洲人對東方的嚮往，驅使海外探險的熱潮展開，徹底改變了人類對世界的想像。請問：西方最著名的絲路探險者馬可波羅最有可能是經由哪一條路線來到中國？ (A)甲 (B)乙 (C)丙 (D)丁。
43. 從遙遠的東方運送辛香料到歐洲的貿易線路被稱為「香料之路」，香料往往經過多方轉手才能到達歐洲，使其價值幾與黃金相當。中古後期，為了突破〇〇商人所壟斷的歐洲香料貿易市場，交織著神話、浪漫、珍寶的傳聞以及經濟利益的誘惑迫使人們勇於探索世界的遙遠角落，因而開啟「大航海時代」。請問：〇〇指的是下列何者？ (A)蒙古 (B)阿拉伯 (C)義大利 (D)土耳其。
44. 首先從歐洲遠航到亞洲，開通全新「香料之路」的航海家達伽馬，讓葡萄牙在十六世紀統治了東印度的香料貿易，成為歷史上第一個全球性的殖民帝國，也刺激其他歐洲國家相繼展開海外探險活動。請問：達伽馬所開通的全新「香料之路」為何？ (A)甲 (B)乙 (C)丙 (D)以上皆非。



45. 下列有關「地理大發現」的討論，同學們正確的敘述有幾項？ (甲)西元十五世紀，最早開始海上探險活動的是明朝的鄭和 (乙)新大陸的發現與狄亞士的探險有密切關係 (丙)遠航的豐盛收穫，激起歐洲各國競相參與海外拓殖活動 (丁)開啟海權時代的來臨，西方歷史由大西洋時代轉變為地中海時代 (戊)「我們並不害怕落後，我們害怕的是被發現」是印第安人對地理大發現的歷史評價。 (A)一項 (B)二項 (C)三項 (D)四項。

三、配合題：

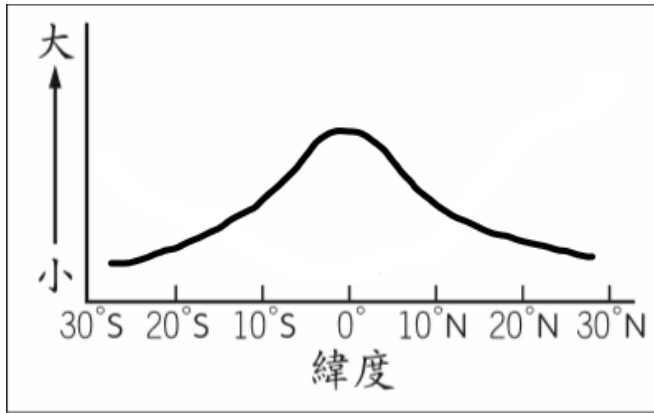
※世界上有許多為後人所津津樂道的人物，他們的所作所為對歷史的發展造成重大的影響。請根據史實從答案選項中找出正確的配對。

(A) 狄德羅 (B) 洛克 (C) 哥白尼 (D) 培根
(AB) 伽利略 (AC) 孟德斯鳩 (AD) 伏爾泰
(BC) 笛卡兒 (BD) 盧梭 (CD) 牛頓

46. 他自詡為「科學界的哥倫布」，要做知識的開拓者，破除偏見、權威與文化所造成的障礙，並認為歸納、觀察與實驗才是建立知識的方法。 (D)
47. 法王路易十四被稱為「太陽王」，表示當時整個法國的生活都圍繞著他打轉，就如同行星圍繞著太陽一樣。請問：此種「日心說」觀點，最早是由哪一位科學家所提出？ (C)
48. 他認為：「真理喜歡批評，因為經過批評，真理就會取勝。謬誤害怕批評，因為經過批評，謬誤就要失敗。」所以他不輕信權威學說，有系統地宣揚客觀的知識，因而成為「現代百科全書之父」。 (A)
49. 他大罵天主教的教士是敗類，批評神聖羅馬帝國「既不神聖，也不羅馬，更非帝國」，還強調「我雖然不同意你的意見，但會誓死維護你說話的權利！」 (AD)
50. 他在著作《社會契約論》強調：「一切權利應該屬於人民，而政府和官吏是由人民委任的，人民有權委任他們，也有權撤換他們。」 (BD)
51. 他指出：「人雖然可以對一切事物都表示懷疑，但對於『他自己正在懷疑』這一件事卻不能懷疑。」 (BC)

臺北市立興雅國中 110 學年度第一學期九年級地理科補行評量講義

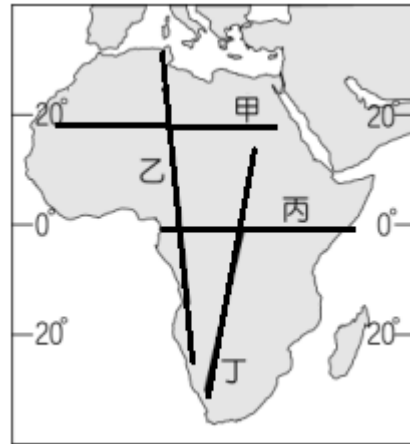
1. 附圖是非洲某氣候要素隨緯度的變化情形，請問此圖應該是哪項數值的統計？(A)年雨量 (B)年溫差 (C)七月月均溫 (D)一月月均溫。



2. 剛果盆地是世界第二大熱帶雨林，僅次於亞馬遜，是世界重要的生物基因庫。但近年剛果盆地屢遭大火肆虐，火場數目較亞馬遜多了五倍，而專家推測火災的主因可能與當地居民「刀耕火種」的傳統有關，居民習慣用火清理土地，時常引發大火。請問「刀耕火種」指的是非洲哪項傳統產業？(A)游牧 (B)採集 (C)狩獵 (D)游耕。
3. 非洲陸塊在地質上十分古老，下列哪些特色與此種古老岩層有最密切的關係？(甲)礦產豐富、(乙)氣候南北對稱、(丙)地形平坦、(丁)沙漠廣布 (A)甲丁 (B)甲丙 (C)乙丁 (D)乙丙。
4. 熱帶雨林與熱帶莽原同屬熱帶氣候，但地表植物型態卻明顯不同，請問造成這種差異最主要的因素是？(A)氣溫高低 (B)降雨強度 (C)雨季長短 (D)風力大小。
5. 東非各國是世界上最貧窮的地區之一，近年來部分國家為改善生活正嘗試利用國家公園發展觀光事業，這些國家公園吸引遊客最主要的條件為何？(A)壯觀的冰河地形 (B)多樣的族群文化 (C)豐富的野生動物 (D)遠古的人類遺跡。
6. 2021《衛報》報導:迦納是全球僅次於象牙海岸的可可生產國，供應量佔全球1/5，每年靠出口可可豆創造20億美元的營收。但與全球巧克力市場超過1000億美元的產值相比，連1/50 都不到。且當地農場主人的年收僅約1900美元，為了提高利潤，農場時常非法奴役孩童，童工氾濫的情形十分嚴重。請問此報導的標題何者較為恰當？(A)不公平的貿易制度 (B)經營農場的風險 (C)可可豆的產銷管道 (D)非洲經濟的轉型。
7. 承上題，此報導最可能是描述哪一地區的情形？(A)甲 (B)乙 (C)丙 (D)丁。



8. 被稱為地球上最大的傷疤，地形複雜且崎嶇起伏，分布著許多火山湖泊，是世界上最大的斷裂帶，其生態、地理、和人類文化都相當獨特，請問此段文字描述的是？(A)東非大裂谷 (B)撒哈拉沙漠 (C)剛果盆地 (D)喀拉哈里盆地。
9. 海洋中具有較大規模、流向穩定的海水流動，稱之為洋流。洋流不只是課本上知識，氣候和漁獲都跟它息息相關，這個「全球輸送帶」對全球的能量分佈以及氣候變化都起著極其重要的作用。請問下列哪一洋流與非洲的氣候最無關係？(A)本吉拉涼流 (B)加那利涼流 (C)祕魯涼流 (D)阿古拉斯暖流
10. 英國探險隊打算到非洲進行探勘，規劃了四條不同的路徑，請問哪一條路徑經過的地形起伏是最大的。(A)甲 (B)乙 (C)丙 (D)丁。



11. 2001 年，美國高盛公司首席經濟師吉姆·奧尼爾首次提出「金磚四國」這一概念，來自這四個國家的英文國名開頭字母所組成的詞 BRIC，指巴西(Brazil)、俄羅斯(Russia)、印度(India)和中國(China)，其發音同英文的「磚塊」(brick)一詞。高盛的研究報告認為，此四國經濟發展前景極好，將在 2050 年位列世界最強經濟體。請問金磚四國的前景備受看好的主因是？(A)氣候優良 (B)技術先進 (C)天然資源豐富 (D)政局穩定。
12. 附圖是俄羅斯的人口分佈圖，請問影響俄羅斯人口分布的主因是什麼？

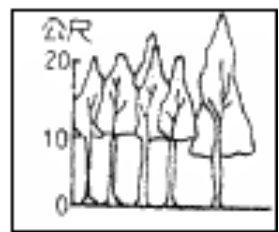

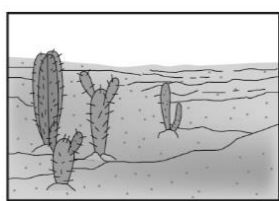



- (A)地形起伏 (B)氣候條件 (C)距海遠近 (D) 礦產多寡。

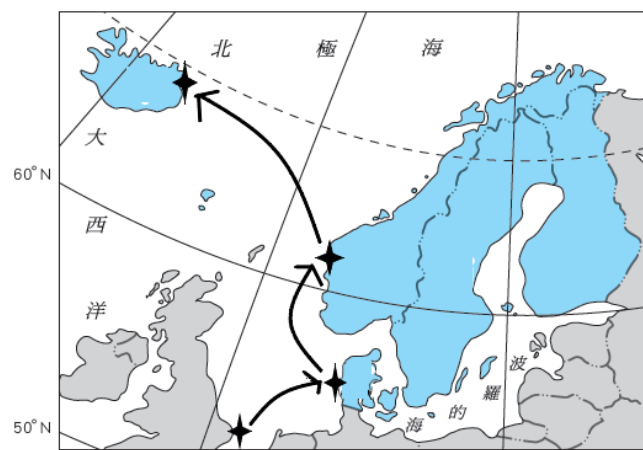
13. 位於莫斯科的聖瓦西里教堂有著洋蔥式圓頂建築(如附圖)，是俄羅斯教堂的特色，請問在歐洲哪個地區也容易見到類似的教堂風格。
(A)北歐 (B)西歐 (C)南歐 (D)東歐。



14. 西伯利亞物產豐富，其天然資源為俄羅斯主要的外銷商品。現任總統普丁上任後即宣布:「交通現代化」、「與亞洲結合」為發展西伯利亞的重要目標。請問近年俄羅斯外匯主要來源之出口物為何? (A)煤礦和鐵礦 (B)黃金和鑽石 (C)石油和天然氣 (D)木材和毛皮。
15. 俄羅斯氣候寒冷而乾燥，其主要水氣來自於下列何者?
(A)大西洋 (B)太平洋 (C)北極海 (D)地中海。
16. 西伯利亞鐵路，全長九千多公里，是世界上最長的鐵路，東起海參崴 Vladivostok，西到莫斯科 Moscow 橫貫俄羅斯東西兩側，全程至少需要七天七夜搭乘時間，沿途風光絕美，吸引不少遊客前往。請問搭乘西伯利亞鐵路最主要可欣賞到什麼景色?



17. 工業是歐洲經濟發展的主要驅動力，帶動近代歐洲的成長及都市的發展，而德國更是歐洲工業產值最高的國家，關於德國工業的描述下列敘述何者錯誤? (A) 近年脫歐問題鬧得沸沸揚揚 (B) 為追求永續的理念，積極投入綠能的發展 (C) 汽車、機械等工業質地精良、品牌聲譽卓越 (D) 有豐富的煤礦及便捷的水運，魯爾區為德國最大的工業帶。
18. 由於全球暖化與氣候變遷的證據日益明顯，歐洲許多國家致力於能源轉型，希望降低化石燃料發電的比例，來減緩溫室效應氣體的排放，丹麥更是將再生能源的比例拉高到近 50%，請問丹麥發展再生能源的優勢是什麼? (A) 豐富的水利資源 (B) 充足的日照 (C) 強勁的西風 (D) 充沛的地熱。
19. 小雨規劃明年來趟歐洲遊輪之旅，預計 6/1 日出發，行經四國，6/22 抵達終點(路線如附圖所示)，請問關於此段航程的敘述何者錯誤? (A) 日照時數越來越短 (B) 郵輪主要航行於北海地區 (C) 峽灣出現的機率越來越高 (D) 終點站能體驗到在銀白雪景下泡溫泉的特殊感受。



20. 歐元，是歐盟地區主要通行的貨幣。附圖是某國在歐元流通前所發行的硬幣，鑄造於二戰後，1946 年發行的第一款，正面為一名手舉火炬的女性頭像，背面為一串葡萄。這款硬幣在隨後的數十年裡廣泛流通。請問這款硬幣最可能是由哪一個國家發行? (A) 波蘭 (B) 丹麥 (C) 愛爾蘭 (D) 義大利。



21. 馬克吐溫的《湯姆歷險記》是一部著名的美國兒童文學作品，出版於 1876 年。故事背景發生在密蘇里州的一個小鎮。主角湯姆與好友哈克順著運輸農作的大河-密西西比河向南漂流，一路冒險患難...。請問其故事背景最可能位於圖中何處? (附圖為北美洲地形剖面圖) (A) 甲 (B) 乙 (C) 丙 (D) 丁。



22. 阿帕拉契山徑 (Appalachian Trail) 是美國著名的徒步小徑，又被稱為夢幻步道。全長 3500 公里，沿途自然景觀豐富，大部分位於荒野，徒行者能沿途欣賞野生動植物和不同地形，也有小部分是穿越城鄉、公路和河流，每年都吸引了上百萬人前來朝聖。1937 年全線貫通，近八十年來，全靠來自各地的義工維護。請問阿帕拉契山徑位於圖中何處?



- (A) 甲 (B) 乙 (C) 丙 (D) 丁。

23. 美國五大湖工業區分布聖保羅-辛辛那提-布法羅三角區內，擁有眾多發展工業的優勢條件，是北美主要的製造業基地，以鋼鐵、汽車、機械等工業為主。請問造成五大湖工業發達的條件不包括下列何者？ (A)便捷的水運 (B) 豐富的煤礦、鐵礦 (C) 蘊含大量的石油及天然氣 (D) 發展歷史悠久。
24. 李安執導的《斷背山》(Brokeback Mountain)是一部以西部牛仔為背景的哀愁影像作品，描述 2 個牛仔同在一個牧場工作，某個夏天兩人在牧羊過程中發展出一段複雜且深刻的情愛關係。故事背景在美國中西部懷俄明州，此處主要發展畜牧產業的原因是？ (A) 土壤肥沃 (B) 勞動力充足 (C) 氣候乾燥 (D) 交通便利。
25. 北美洲是全世界工業最發達的地區之一，輕重工業皆蓬勃發展，各區的工業發展重點不盡相同，請問下列都市及主要產業的配對何者錯誤？ (A) 底特律-汽車 (B) 休士頓-航太 (C) 洛杉磯-電影 (D) 芝加哥-石化。
26. 大導演史蒂芬史匹柏打算接拍超級英雄電影《復仇者聯盟 5》，其中的初代英雄將陸續退出主舞台，讓新英雄們主導。導演預計招募 10 位新演員參與演出，請問若根據美國人口的族群比例，應該要挑選幾位拉丁裔的演員加入《復仇者聯盟 5》較為適當？ (A) 1-2 位 (B) 2-3 位 (C) 3-4 位 (D) 4-5 位。
27. NBA 洛杉磯湖人隊(Lakers)的前身是明尼亞波里斯湖人，明尼亞波里斯位於明尼蘇達州，州內大小湖泊遍布，因此取名湖人隊，搬到洛杉磯仍一直沿用這個名稱，如今也成為最廣為人知的隊名之一。請問造成明尼蘇達州湖泊眾多的原因與下列哪一國家相同？(A) 希臘 (B) 芬蘭 (C) 澳洲 (D) 印尼。



【題組一】

下圖是北美洲專業化農業帶分布圖，請根據此圖選出最佳配對的區域



28. 地形崎嶇、氣候冷濕、土壤貧瘠、適合栽種牧草飼養牲

畜，且鄰近北美都會區，以鮮奶、乳酪和起司為主要產品。(A) 甲 (B) 乙 (C) 壬 (D) 己。

29. 氣溫高、無霜期長、夏雨秋乾，因灌溉發達，且適宜機械化耕作，早期自非洲引進黑人為勞力供應來源，成為北美主要的棉花產地。(A) 丙 (B) 丁 (C) 戊 (D) 己。
30. 夏乾冬雨，夏季陽光充足、且灌溉設施發達，發展灌溉式的農業，種植各種類的溫帶水果，如葡萄，水蜜桃，番茄，柑橘、櫻桃、草莓等。(A) 乙 (B) 丁 (C) 戊 (D) 壬。

【題組二】

美國今年 12 月初發生極端龍捲風災難，24 小時內就出現超過 44 個龍捲風同步侵襲，在 9 個州內造成大規模的破壞與生命損失，至今超過 90 人死亡，許多住宅區幾乎夷為平地，房屋殘骸四散，許多車輛也被吹翻，令人怵目驚心。其中又以肯塔基州的災情最為慘重。這次龍捲風罕見出現在 12 月，且規模巨大，據氣象局觀測紀錄，這場龍捲風跨越長度超過 352 公里，是史上路徑最長的龍捲風之一。

31. 發生在 12 月的龍捲風並不常見，請問一般而言龍捲風好發期約在幾月？ (A) 4-5 月 (B) 7-8 月 (C) 10-11 月 (D) 1-2 月。
32. 請問龍捲風襲擊的區域主要在下圖中何處？(A) 甲 (B) 乙 (C) 丙 (D) 丁。



【題組三】

環法自行車賽是全世界最大的自行車賽，已有超過百年的傳統，每年約在七月初舉辦，為期三週，大致上繞行法國一圈，每一分段賽事除了欣賞車手間的頂尖對決，還可飽覽法國最美的風光。(附圖為 2019 年路線圖)

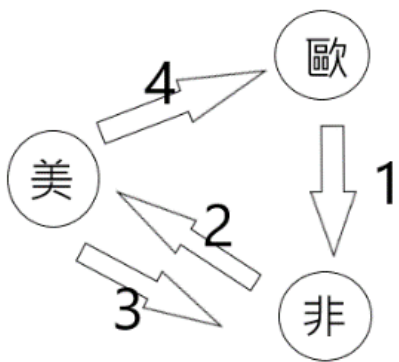


106th Tour de France

33. 賽段可分成平路賽和山地賽，法國東南部甲地區便是主要的山路段，請問選手們必須爬越哪一座山脈？ (A) 烏拉山 (B) 阿爾卑斯山 (C) 高加索山 (D) 本寧山。
34. 行經地中海沿岸時，最可能需要克服哪一難關？ (A) 強近的逆風 (B) 乾熱的酷暑 (C) 連續性的降水 (D) 濕熱的叢林。
35. 每年環法起點都不相同，但終點總在凱旋門前的香榭大道作最後的衝刺，請問終點站是在哪一個城市舉辦？ (A) 倫敦 (B) 巴黎 (C) 羅馬 (D) 阿姆斯特丹。

【題組四】

17、18世紀時歐洲人在中美洲開闢許多農場，在熱帶及副熱帶廣大的土地上，投入大量資金、栽種特定農作物。美洲原住民由於歐洲人帶入的傳染病而大量死亡，在缺乏勞動力的情況下，而從非洲運來大批的勞力。開啟了歐、美、非之間的大西洋三角貿易活動(如附圖)。



36. 當時歐洲人繞行一周大概需要2個月，最主要的商品是「黑色貨物」、和「白色貨物」，並從中獲取大量財富。請問黑白貨物分別指的是？ (A) 可可、麵粉 (B) 奴隸、稻米 (C) 奴隸、蔗糖 (D) 石油、棉花。
37. 歐洲人在中美洲地區實施的農業型態為何？ (A) 酪農業 (B) 熱帶栽培業 (C) 混和型農業 (D) 商業性穀物農業。
38. 高峰期每年有近10萬的人口買賣交易，請問當時人口買賣主要的流動方向是？ (A) 1 (B) 2 (C) 3 (D) 4。

【題組五】

索馬利亞位於東非之角(如附圖)，坐擁非洲最長的海岸線，由於受到長年乾旱、內戰、飢餓、盜竊和恐怖主義等威脅，這個國家多年來都是國家運作不良的典型代表。索馬利亞人口1000多萬，其中有100多萬人因戰亂流離失所，三分之一人口要靠聯合國救濟。貧窮且走投無路的人民紛紛投向海洋成為海盜，打劫商船、劫持人質並進行勒索。



39. 索馬利亞海盜猖獗，除了經濟因素外，也和位於全球重要的運輸航線上有關，請問索馬利亞主要控制哪個海域與印度洋之間的連接？ (A) 紅海 (B) 裏海 (C) 地中海 (D) 黑海。
40. 1990年代初期，整個索馬利亞分崩離析，陷入嚴重內戰。1991年，索馬利蘭宣布獨立，成功地與索馬利亞其他仍在

軍閥混戰的區域脫離，自此走上一條不同的道路。漠南非洲有許多國家境內族群複雜，時生衝突，此現象與西方列強早期在此地的哪一項作為有密切關係？ (A) 發展熱帶栽培業 (B) 傳教 (C) 奴隸買賣 (D) 恣意瓜分勢力範圍。

解答

1-5	ADBCC
6-10	ABACC
11-15	CBDC A
16-20	DACAD
21-25	CACCD
26-30	ABADD
31-35	ABBBB
36-40	CBBDA

臺北市立興雅國民中學 110 學年度第一學期九年級公民科補行評量講義

年 班 號 姓名：

一. 選擇題

1. 生活中處處都充滿選擇，下列何者可說明我們必須做選擇的原因？

- (A)九年級學生想要早點休息但書還沒讀完
- (B)王曉強思考著要買什麼生日禮物給女友
- (C)范曉庭於冬季出生在幸福美滿的家庭中
- (D)旭辰計畫假日時帶家人去哪個景點旅遊

2. 社會新鮮人銘陽透過網路投履歷、尋找工作，有甲乙丙三家公司歡迎銘陽成為他們的工作夥伴。若銘陽只考慮薪資高低，他先將甲、乙兩家公司比較時，甲公司是較佳的選擇；又將甲、丙兩個公司比較後，他仍較屬意甲公司，但選擇甲公司的機會成本提高了。請問：甲、乙、丙三家公司願意支付銘陽薪資的高低關係為何？
(A)甲>乙>丙 (B)甲<丙<乙 (C)甲>丙>乙 (D)甲>乙=丙。

3. 小花是優秀的大學應屆畢業生，還沒踏出大學校園，就有三家大型企業向她招手，邀請她畢業後到他們的公司服務，三家公司的薪水待遇如右表，但小花也猶豫著是否暫緩踏入職場先攻讀研究所……。假設小花最後決定攻讀一年學費 12 萬元的研究所，在只考量金錢成本的情況下，小花平均每個月讀研究所的機會成本是多少？
(A)60000 元 (B)70000 元 (C)146000 元 (D) 180000 元。

4. 管琵琶因觸犯校規，被學校記了 1 支警告，到了期末，學校給他改過銷過的機會，只要連續一個月循規蹈矩、遵守校規，並輔以勞動服務，即能銷掉警告。請問：學校是以哪一種誘因導引管琵琶的行為？

	正向誘因	負向誘因
金錢誘因	甲	乙
非金錢誘因	丙	丁

(A)甲 (B)乙 (C)丙 (D)丁。

5. 日常生活中處處可見誘因影響著我們的行為，下列關於誘因的敘述，何者正確？ (A)誘因會讓機會成本變小 (B)給予懲罰是一種金錢誘因 (C)高額報酬的負向誘因最能有效改變行為 (D)同樣的誘因對不同人而言會產生不同的效果。

6. 振興 5 倍券即將上路，許多店家為了吸引消費者光顧，推出持 5 倍券消費再加碼的優惠活動，讓本來想採購家人衣物的伊婷，也打算等拿到 5 倍券後再進行消費。請問：下列何者是影響伊婷消費行為的主要因素？ (A)商品的價格因素 (B)消費者所得水準 (C)消費者主觀偏好 (D)消費者預期心理。

7. 承上題，推出各項優惠的店家們，主要是基於何種因素試圖影響消費者的資源分配？ (A)銷貨收入多寡 (B)生產成本高低 (C)商品價格高低 (D)商品廣告行銷。

8. 社區居民們正在討論社區停車位的分配方式：

居民甲：這樣才能將停車位分配給最需要的居民使用。

居民乙：而且這個方法可以將個人的主觀滿足程度轉換

成客觀可以衡量的單位。居民丙：但是在經濟生活上比較吃力的居民，可能就難以取得停車位了。

請問：這些居民最可能在討論哪一種資源分配的方式？

(A)相互協調 (B)抽籤使用 (C)先佔先贏 (D)使用者付費。

9. 報載：中央銀行祭出第三波打炒房政策，希望各銀行能針對個人第一戶與第二戶的房貸差別訂價，調高第二戶房貸利率，減少國人屯房比例，以促進房價合理化，進而保障弱勢民眾的居住權。上述央行的打房政策，符合下列哪一種概念？ (A)效率原則 (B)公平正義 (C)機會成本 (D)資源有限。

10. 小郭是皮卡丘迷，他的好友小東則對皮卡丘沒有特別喜好。近日超商推出消費集點換公仔活動，小郭每日都到超商買東西集點，小東也幫著小郭集點，希望小郭能早日換到公仔。請問：下列何者是影響小郭資源分配的因素？ (A)商品價格 (B)個人偏好 (C)社會風氣 (D)廣告行銷。

11. 阿德是烘焙坊的老闆，店裡有鳳梨酥與綠豆椪兩種熱銷點心，假設兩種點心的生產成本固定，當鳳梨酥的價格上漲時，阿德最不可能出現下列何種情形？ (A)調降鳳梨酥價格，企圖增加銷售量 (B)購買新設備，以增加鳳梨酥的產能 (C)選擇多生產利潤較高的鳳梨酥 (D)縮減綠豆椪的生產線，轉而增加鳳梨酥的產量。

12. 小林和太太原先都是上班族，月薪各為 5 萬與 6 萬元，現在兩人辭掉了工作，將原本租給房客的一樓收回，改裝為店面，共同經營早餐店。右表是他們第一個月的營收開銷狀況，請問小林夫妻第一個月的利潤是多少錢？

漢堡收入	55000 元
三明治收入	32000 元
飲料收入	42000 元
水電瓦斯支出	10000 元
食材支出	10000 元

(A)賺 129000 元 (B) 賺 109000 元 (C)虧損 1000 元 (D)虧損超過 1000 元。

13. 熊姐製作的手工水果塔皆為當天現做，不售隔夜水果塔，一天固定產能為 300 個。每日訂單採先訂先出貨，當日售罄便無法再出貨，每個水果塔的售價 60 元，成本 30 元。右表是本周一至周四的訂單量，下列敘述何者正確？

	訂單量
星期一	200 個
星期二	300 個
星期三	400 個
星期四	250 個

(A)星期一為虧損狀態 (B)星期三的銷貨收入最多 (C)星期三的利潤為 12000 元 (D)星期二與星期三的利潤一樣多。

14. 受到 COVID-19 疫情的影響，許多國家的經濟皆面臨挑戰，企業的經營也面臨衝擊，有些企業以縮編部門人數、暫停明星代言產品、停發員工績效獎金等方式以為因應。請問：這些企業是採取下列何種策略來面對當前

營運的困境？ (A)降低生產成本 (B)提高銷貨收入 (C)增加生產數量 (D)調降商品價格。

15. 下表是夢幻咖啡店今年 1 月到 9 月的收入與成本統計表，在其他條件不變的情況下，從幾月後，夢幻咖啡店今年的利潤才開始轉虧為盈？ (A)3 月 (B)6 月 (C)7 月 (D)8 月。

	1 月	2 月	3 月	4 月	5 月	6 月	7 月	8 月	9 月
銷貨收入	60 萬	63 萬	70 萬	75 萬	76 萬	77 萬	75 萬	80 萬	78 萬
生產成本	80 萬	78 萬	65 萬	60 萬	70 萬	60 萬	58 萬	60 萬	61 萬

16. 一般而言，市面上商品販售的價格是由誰決定的？ (A)政府 (B)生產者 (C)消費者 (D)買賣雙方。

17. 開燒烤店的解老闆為因應聖誕節跨年夜人潮，把隔壁一樓租下來擴充店面提供立式站位，如此做法將增加何項投入資源的支出？ (A)購置資本 (B)租用土地 (C)聘雇員工 (D)研發產品。

18. 貨幣的出現使得市場交易更加便利，但其出現是經過一連串的演進過程。關於貨幣演進的敘述，下列何者最不適切？ (A)法定貨幣有數量充足、攜帶方便等優點 (B)硬幣與紙鈔的使用，沒有耗時費力的缺點 (C)政府發行法定貨幣，並強制規定其價值 (D)以物易物的交易方式極具價值衡量標準。

19. 根據右圖，下列何者對話最可能發生在此變化之後？

過去：1 美元：29 新臺幣
現在：1 美元：31 新臺幣

- (A)最近去美國旅行或遊學真是很划算
- (B)之前應該多買一些美元存放在銀行
- (C)之前應該會有較多美國人來台灣玩
- (D)最近要向美國廠商多進口一些商品

20. 下表是欣雅點心坊推出三種均一價的商品，每日各供應 30 份，其單日獲利為 1800 元

品項\價格	成本	售價	數量
抹茶蛋糕	15	35	30
紅豆麵包	10	35	30
花生餅乾	?	35	30

下列敘述，何者正確？(A)花生餅乾的成本是 25 元 (B)花生餅乾的利潤最低 (C)欣雅點心坊單日收入為 1580 元 (D)提高抹茶蛋糕的售價可增加利潤。

21. 阿亞看到雙 11 購物節免運活動的廣告，在 PP 購物網訂購了一件潮 T，沒想到收到商品後不但與照片不符，也無法退貨。他可以向哪一個官方單位提出申訴？ (A)公平交易委員會 (B)消費者文教基金會 (C)台灣消費者保護協會 (D)消費者服務處。

22. 消費者買到過期商品時，依法可向商店要求退貨或賠償，

以保障權益。所謂依「法」，是指下列何者？ (A)《公平交易法》 (B)《消費者保護法》 (C)《食品衛生管理法》 (D)《民事訴訟法》。

23. 下列何種宣傳文案不是使用價格因素？ (A)滿額送環保袋 (B)滿 3000 現抵 300 (C)嘗鮮價 5 折 (D)加一元多一件

24. 下圖是今年與去年相比，四個國家的貨幣對美元的升貶幅度圖表，根據此份資料，下列分析何者正確？ (A)今年不利於甲國從美國進口商品 (B)今年有利於丁國國民至美國旅遊 (C)進口美國商品的乙國業者能省下不少成本 (D)今年用丙國的貨幣去購買美元最划算。

國家	甲國	乙國	丙國	丁國
升貶幅度	40%	25%	-35%	-29%

25. 心亞國中福利社的麵包擬從本月開始調漲，但最後作罷。漲價的原因不可能是下列何者？ (A)通貨膨脹 (B)成本增加 (C)商品公賣 (D)貨幣貶值。

26. 我國中央銀行被稱為「銀行中的銀行」，下列何者不是其所辦理的業務？ (A)保管黃金與控制外匯市場 (B)穩定物價與房價 (C)發行法定貨幣 (D)控管各家銀行的利率。

27. 研究所剛畢業的張小宏，為了展現自己對大 1 歲女友的愛，特地和女友簽訂了一份愛的協議書，部分內容如下。請問：這份協議書是否具備法律效力？ (A)有效，男女雙方皆為完全行為能力人 (B)無效，協議書的內容已違反公序良俗 (C)有效，雙方對協議內容已互相表示意思一致 (D)無效，愛不可能恆久不變，男方必然會違約。

愛的協議書

.....

6. 男方未來工作的收入，全數歸給女方，男方不得有任何異議。

7. 為了展現對女友(未來妻子)無私的愛，男方的日常生活皆應聽命於女方，行為與思想皆須與女方一致，不得有二心。

8. 男方對女方的愛，海枯石爛永不變心。

.....

立約人：張小宏
許小美

中華民國 111 年 1 月 1 日

28. 19 歲的阿雅買了新車，且完成相關手續，父母知情後表示不同意，但買賣契約仍然有效；20 歲的小興訂購了高爾夫球具，但因某些原因，小興訂購的法律行為無效。根據上述內容判斷，文中兩人的情形最可能為下列何者？ (A)阿雅為完全行為能力人 (B)小興被宣告褫奪公權中 (C)阿雅為限制行為能力人 (D)小興為完全行為能力人。

- 29.公民課下課，幾位同學圍在一起討論民事責任的內涵，哪一位同學的說法最為妥切？ (A)甲生：只有因故意而侵權的行為，才須負損害賠償責任 (B)乙生：未履行契約的行為皆為侵權行為，須負起損害賠償責任 (C)丙生：因侵權或違約行為，導致他人權利受損，須負損害賠償責任 (D)丁生：損害賠償責任以金錢賠償為原則。
- 30.就讀法律系的美美，到地方法院的民事法庭旁聽，下列何者可能是她看到的景象？ (A)身著藍邊法袍的法官主導訴訟的進行 (B)身著棕邊法袍的書記官，忙著製作法庭筆錄(C)身著紫邊法袍的律師，代表原告與被告，相互辯論 (D)原告與被告雙方都提出有利自己的證據，向法官陳述。
- 31.和解、調解與仲裁皆為訴訟外解決民事紛爭的途徑，有關這些途徑的敘述與比較，何者正確？ (A)訴訟外或訴訟上的和解，其效力皆與民事契約同 (B)刑事上非告訴乃論之罪，皆無法透過這三種途徑解決 (C)行政機關調解完成所做的調解書，其效力即與法院確定判決同 (D)凡刑事上告訴乃論事件或民事事件，皆可透過這三種途徑處理解決。
- 32.契約的訂定，原則上只要出於當事人意願，無論明示或默示，契約即成立。但為了保護立約雙方的權益，某些狀況法律則規定契約應以書面為之。請問：下列何者須以書面方式訂立契約或協議？ (A)親友間的金錢借貸 (B)至賣場購買大型家電設備 (C)商業合作前先訂立的仲裁協議 (D)背包客至外地旅遊的短期租屋。
- 33.信用卡先消費後付款的便利性，讓許多持卡人過度消費，卻無力向銀行繳清刷卡的費用。面對這樣的情況，根據我國法律規定，銀行所能採取的權利救濟途徑，與下列何者所能採取的權利救濟途徑最相近？ (A)工廠排放廢水遭環保單位開罰 (B)長輩離世後兒孫相互爭取遺產 (C)向政府申請建築執照卻遭到拒絕 (D)公務員因收賄被定罪卻不服法院判決。
- 34.民事訴訟是解決民事紛爭中較費時，卻也較公正的處理途徑，下列有關民事訴訟的敘述，何者正確？ (A)民事訴訟案件，適用無罪推定原則 (B)在民事法庭上，可針對告訴乃論事件進行和解 (C)民事判決確定後，對同一事件，當事人不可再行起訴 (D)權利受侵害的當事人，法院可主動為其提出民事訴訟。

二、題組

【一】

兩年多前，走在斑馬線的元凱被一位酒駕者駕車撞擊，搶救後雖救回一命，但僅能以機器維持生命機能，難以意思表達。肇事者雖付出了千萬賠償金、吊銷駕照、獄中服刑等代價，仍無法平復元凱母親心中的痛。近日，元凱母親已向法院聲請元凱為監護宣告之人，自己也成為元凱的監護人，同時她也努力遊走，希望國會能再度修法，提高酒駕者的刑責。請問：

- 35.文中提及酒駕者付出的代價(畫雙底線處)，依刑事、民事與行政等法律責任劃分，其類型依序與下列何者相同？ (A)損害賠償、拘役、沒收 (B)道義責任、罰鍰、罰金 (C)拘留、安全講習、拘役 (D)損害賠償、拘留、拘役。
- 36.被法院監護宣告的元凱，其在民法上有關權利、義務關係的行為效力，何者為是？ (A)若遇父親離世，元凱完全沒有繼承權 (B)元凱若想購買衣物，應由監護人為之 (C)元凱可自主接受親友餽贈的生日禮物 (D)元凱可經監護人同意後，將名下的房屋出租。
- 37.文中提及元凱母親努力遊走，希望國會修法提高罰則的法律，最可能是下列何者？ (A)民法 (B)民事訴訟法 (C)中華民國刑法 (D)道路交通管理處罰條例。

【二】

家住宜蘭市的王浩，近日在住家附近的電器行購買了一台洗衣機，沒想到這台新機器運轉時不停地發出怪聲，王浩因此打算向老闆退貨，但電器行的老闆堅持「商品既出，概不退换」，讓王浩生氣地打算尋求法律途徑來救濟自己的權利。請問：

38. 王浩覺得自己的權利被侵害了，是因為電器行老闆的作為可能違反了下列哪一項原則？ (A)契約自由原則 (B)誠實信用原則 (C)不告不理原則 (D)一事不再理原則。
39. 關於王浩與電器行老闆間的買賣行為，下列敘述何者正確？ (A)屬於身分關係的契約行為 (B)因無簽訂書面契約，契約不成立 (C)王浩為出賣人，電器行老闆為買受人 (D)雙方因買賣契約而有債權與債務的關係。
40. 文中提到王浩打算用法律途徑來進行權利救濟，最可能為下列何者？ (A)到法院提起民事訴訟 (B)到宜蘭市議會的調解委員會進行調解 (C)帶球棒與數名男子到電器行，強迫老闆退貨 (D)到宜蘭市公所的消費爭議調解委員會聲請調解。

解答

1-5	ACBCD	6-10	DCDBB
11-15	ADDAB	16-20	DADBB
21-25	DBACC	26-30	ABACD
31-35	BCBCD	36-40	BCBDA