

一、單題

- 孫中山自美國致同志云：「近日祖國風雲日急，四川已動，若能得手，則兩廣、雲、貴、三江、閩、浙不得不急起為之援應，到時弟或不待籌款之成而立當回國也。」請問：孫中山所謂的「風雲日急，四川已動」是何事？(A)利用甲午戰爭後的局勢鼓吹革命運動 (B)中華民國成立後民主共和未能落實 (C)保路風潮對革命造成有利情勢 (D)結合其他革命勢力成立興中會。
- 下列是清末重大的革命運動，依發生的先後順序排列，正確為何？(甲)興中會成立 (乙)中華民國臨時政府成立 (丙)武昌起義 (丁)同盟會成立 (A)甲丁丙乙 (B)乙丙丁甲 (C)丙丁乙甲 (D)甲丁乙丙。
- 革命黨人歷經過許多失敗，終於在辛亥革命後推翻滿清，結束中國兩千年的帝制專制政體，亞洲第一個民主共和國正式誕生。請問：辛亥革命成功的主要原因為何？(A)戊戌變法的失敗 (B)各省的積極響應 (C)慈禧太后大力支持 (D)光緒帝年幼。
- (甲)辛亥革命 (乙)孫文當選臨時大總統 (丙)袁世凱當選正式大總統 (丁)二次革命 (戊)袁世凱逼迫宣統皇帝退位 (己)中華民國臨時政府在南京成立 (庚)中華民國臨時政府遷至北京。上述歷史事件，按照時間先後順序排列，下列何者正確？(A)甲乙丙丁戊己庚 (B)甲己乙戊庚丁丙 (C)戊甲丙丁乙庚己 (D)甲戊庚乙己丙丁。
- 歷史評價通常指人們對歷史人物、事件等一切歷史現象從價值角度所做的認識，由於人的主體意識結構等因素的影響，對歷史人物、事件等一切歷史現象所做評價有可能出現差異。以下為某位歷史人物的評價，請問：這位歷史人物為下列何人？

**正面評價：**他對近代中國的政治、法律、軍事、經濟、教育等方面的現代化有重大貢獻，而且他以和平的方式促成了中國的改朝換代。

**負面評價：**他是一個選有利益的一方投靠的投機分子，在戊戌變法時他選擇了后黨，但在武昌起義後卻選擇了支持了革命黨，竊取革命的果實，實為破壞民國之罪人。

- (A)黎元洪 (B)袁世凱 (C)段祺瑞 (D)宋教仁。
- 帥龍老師上課時，與同學討論民國初年的軍閥亂政時期的現象，下列說法有幾項正確？  
甲生：軍隊私有化，控制地方政權是軍閥形成的開始  
乙生：袁世凱死後，遂演變成軍閥割據的局面  
丙生：軍閥擁兵自重割據一方，直到孫中山逝世  
丁生：直到國民政府統一全國，才結束軍閥割據的局面 (A)一項 (B)二項 (C)三項 (D)四項 1-2-2
- 孫中山在南方成立軍政府的主要原因是段祺瑞的哪項作為？(A)拒絕恢復《臨時約法》 (B)對日本宣戰 (C)解除國民黨武裝 (D)驅逐張勳，逼迫溥儀退位。
- 新文化運動時新知識分子大量引進西方流行學說，包括當時歐洲流行的□□，後來一些推崇該學說的知識分子於民國 10 年成立黨派，為當時的中國帶來許多變數。請問：缺空處應填入下列何者？(A)君主立憲 (B)共產主義 (C)民主共和學說 (D)三權分立。
- 中國歷史上某一時期，曾有教授和大學生主張以口語化的新文學取代舊式古典文學，並有意識地反對許多傳統觀念與習俗，將男女個人從傳統束縛中解放出來。這樣的主張應出現於下列何時？(A)自強運動 (B)百日維新 (C)庚子後新政 (D)新文化運動。
- 民國初年時，一位學者在《新青年》雜誌上發表的倡導白話文文章部分內容。根據內容判斷，該學者應為下列何人？

《文學改良芻議》

今之談文學改良者眾矣，記者末學不文，何足以言此。然年來頗於此事再四研思，輔以友朋辯論，其結果所得，頗不無討論之價值。因綜括所懷見解，列為八事，分別言之，以與當世之留意文學改良者一研究之。

(A)黎元洪 (B)張勳 (C)段祺瑞 (D)胡適。

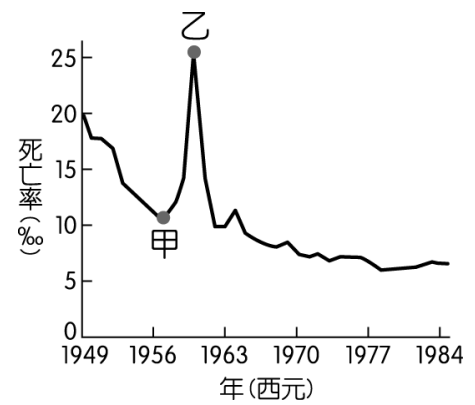
- 歷史事實與歷史解釋不同，歷史事實是呈現客觀的事實本身；而歷史解釋則是史學家對史實的詮釋。就民國初年的「新文化運動」而言，下列哪一項敘述屬於史學家對史實的詮釋？(A)大量西方學說被引進 (B)提倡民主與科學 (C)胡適、陳獨秀提倡白話文 (D)新文化運動後，學術思想呈現百家爭鳴的現象。
- 民國 8 年 5 月 4 日，許多學生聚集在北京天安門前示威，抗議巴黎和會將德國在山東的特權轉給日本，是為「五四運動」。當時德國為何會在山東享有特權？(A)因八國聯軍而在辛丑和約中獲得賠償 (B)從甲午戰爭後列強瓜分風潮中奪取利益 (C)袁世凱為了稱帝而對列強所做的讓步 (D)德國趁英法聯軍時強佔。
- 民國初年，著名學者蔡元培徵求結婚對象，他開出下列條件：「必須不纏足；必須識字；如相處不睦，可以離婚。」條件提出後，引起時人討論，有人認為傷風敗俗，也有人認為開風氣之先。請問：這些婚配條件，與下列哪一思想發展有關呢？(A)男主外女主內開始流行 (B)男性主義的產生 (C)女子無才便是德的觀念 (D)男女平權觀念盛行。
- 民國初年，某位學者了解到孩子自有其世界，並非「縮小的成人世界」。因此呼籲注重兒童教育的重要性，宣稱「遊戲是兒童最正當的行為，玩具是兒童的天使」。請問：這段言論，促進了下列哪些發展？  
甲、培育兒童教育的師資  
乙、教導聖經賢傳的故事  
丙、開啟兒童文學的創作  
丁、教導成人世界的規矩  
戊、推行適合兒童的教育 (A)甲乙丙 (B)甲乙丁 (C)甲丙戊 (D)乙丙丁。
- 孫中山為能與軍閥抗衡，學習俄國革命成功的經驗，主張「聯俄容共」，請問以下那幾項是此主張到清黨期間所發生的事？(甲)共產黨員以個人身份加入國民黨 (乙)成立陸軍軍官學校 (丙)寧漢分裂 (丁)國民政府改組為護法軍政府 (戊)武漢國民政府併入南京 (A)甲乙丙 (B)甲乙丁 (C)甲丙戊 (D)乙丙丁。
- 《中國現代史》書中寫到：「國家開始實施新政策，由政府指定中央、交通、中國、中國農民這四家銀行發行法幣。我想，此政策若真能好好實行，改善過去幣制混亂的情況，有助工商業交易。」請問：這段話所呈現的最有可能是中國處於何種局勢下的情況？(A)立憲運動期間，朝廷推動經濟改革 (B)北伐統一完成，政府致力建設發展 (C)中華民國初創，政府收繳民間銀兩 (D)八國聯軍結束，朝廷陸續推行新政。
- 民國 20 年中共在江西瑞金成立「中華蘇維埃共和國」。經國軍圍剿後西竄，由江西歷經湖南、廣西、貴州、雲南、四川、西康、陝西、寧夏、山西各省，中共自誇為「二萬五千里長征」。請問：民國 23 年 10 月共軍從江西瑞金出發，逃避國軍的打擊，最後在何處落腳？(A)重慶 (B)陝北 (C)北京 (D)西安。
- 帥龍老師整理出國共關係表如附表，但有部份錯誤，請問：其中哪一項正確？

甲	第一次國共合作	民國 12 年袁世凱聯俄容共
乙	第一次國共分裂	民國 16 年蔣中正清黨
丙	第二次國共合作	民國 25 年張學良發動西安事變

丁 第二次國共分裂 民國 37 年國共內戰開打

(A)甲 (B)乙 (C)丙 (D)丁。

19. 宣統皇帝溥儀一生曾經三次登基，第一次是慈禧太后指定，第二次被軍閥拱上皇位，第三次是遭受外國人矇騙成為傀儡皇帝。在第三次當皇帝的期間，溥儀自述，剛開始他希望能建設祖先的故鄉東北成為更好的地方，沒想到自己只是外國人侵略東北的遮羞布。下列有關溥儀一生的事蹟，何者錯誤？ (A)清朝的末代皇帝，在位期間爆發辛亥革命 (B)在袁世凱逼迫下宣布退位，結束中國兩千多年的專制政體 (C)第一次登基是繼承光緒皇帝大統 (D)俄國扶植他成為「滿洲國」的皇帝。
20. 某年，黃小予到上海旅行時描述：「此區工廠地帶可以看到日本戰機轟炸的痕跡，但是如果來到租界區，興盛的商業中心立即映入眼中。在此，歐、美國家的主要銀行林立，國民政府的官方銀行：中央銀行，以及中國銀行、交通銀行等仍然繁忙地繼續營業，處理租界區內的金融交易。」請問：此人最可能是在何時參訪上海？ (A)1860 年代 (B)1890 年代 (C)1930 年代 (D)1990 年代。
21. 以下是某新聞報導：「過去美歐人士在中國許多城市高高在上，不僅享有領事裁判權保護，更有母國軍隊在中國駐紮。但『戰爭』改變了一切，領事裁判權被取消，美歐人士必須接受中國司法管轄，他們逍遙於中國司法之外的好日子和地位，一去不復返了。」上述「戰爭」最可能是指下列何者？ (A)八國聯軍爭 (B)國民革命軍北伐 (C)第一次世界大戰 (D)第二次世界大戰。
22. 學術界雖然對這場國際會議仍有爭議，但是中華民國政府在會議上取得美國總統羅斯福的支持，尊重中國對亞洲問題之意見。遂於會議的次年，設立了臺灣調查委員會，進行接收臺灣的準備工作，這也是國民政府對臺政策轉趨積極的重要開端。請問：這場國際會議，最有可能是下列何者？ (A)巴黎和會 (B)國際聯盟大會 (C)開羅會議 (D)雅爾達會議。
23. 現代的國家大部份不願意主動挑起戰爭，戰爭除了會消耗國家金錢與物力之外，人民亦會遭受嚴重打擊。請問：下列有幾項為第二次世界大戰時發生在亞洲的場景？ (甲)街上遊行拿著「外爭主權、內除國賊」的布條 (乙)臺灣原住民被徵兵 (丙)婦女被迫成為慰安婦 (丁)鼓吹大東亞共榮圈 (戊)日本遭受原子彈轟炸。 (A)二項 (B)三項 (C)四項 (D)五項
24. 中國現代史上的某一時期，毛澤東提出「七分發展，二分妥協，一分抗日」的口號，請問：這個口號應該是出現在中共快速發展的哪一個時期？ (A)北伐 (B)中日戰爭 (C)國共內戰 (D)西安事變。
25. 動員戡亂是指在戰爭或緊急狀況時，國家政府動用全部的資源，以支援國防軍事活動，平息叛亂。請問：抗戰結束後，國民政府是在何時《頒布動員戡亂時期臨時條款》？ (A)民國 35 年 (B)民國 36 年 (C)民國 37 年 (D)民國 38 年。
26. 帥龍老師上課說：「1940 年代蔣經國在上海打老虎，打擊炒作物資，哄抬物價的投機分子，但最後整件事情不了了之，這個結果證明國民黨的徇私與無能，全民嘩然，民心倒向共產黨，因此國民黨軍隊士氣一蹶不振、節節敗退，一個個城市拱手讓給共產黨。」請問：上述歷史資料最可能在描述國共關係中的哪個階段？ (A)聯俄容共到國共決裂 (B)國共決裂到西安事變 (C)西安事變到八年抗戰 (D)抗戰結束到國民政府遷臺。
27. 附圖是參考某段期間中國人口死亡率估算值而繪製的曲線圖，圖中甲、乙二點之間死亡率的變化，最可能與下列何者有關？



- (A)中日戰爭造成傷亡慘重  
(B)大躍進運動期間，政策失當所導致的嚴重饑荒  
(C)文化大革命時，紅衛兵鬥爭造成眾多人口死亡  
(D)國共內戰期間，造成大量百姓死亡。
28. 附圖是描繪中共建國後某時期出現的政策，根據內容判斷，下列何者為此政策的口號？
- 
- (甲)破四舊、立四新 (乙)吃飯不花錢、努力搞生產  
(丙)革命無罪、造反有理 (丁)超英趕美  
(戊)中國人不打中國人  
(A)甲乙 (B)甲丙 (C)乙丁 (D)丙戊。
29. 北京、上海、廣州以及深圳，統稱「北上廣深」。這四個城市普遍被公認為中國的一線城市，也是目前中國經濟總量排行前四的城市，GDP 占全國八分之一，財政收入占全國六分之一，資金總量占全國近四分之一。深圳雖然是四大城市中最年輕的一個，卻在西元 2019 年被中共當局指定為「建設具有中國特色社會主義的先行示範區」，在中國的制度創新、擴大開放等方面承擔著試驗和示範的重要使命。請問：深圳應該位於附圖何處？ (A)甲 (B)乙 (C)丙 (D)丁。
30. 西元 1972 年美軍空襲轟炸後，一個九歲小女孩全身著火、赤裸著身體、燒焦的皮膚一點一點地掉下來、慘叫狂奔的照片登上全球頭版。這張怵目驚心照片，至今對許多民眾而言仍印象深刻，不但被公認是越戰最具代表性的影像，也是造成美軍停戰的關鍵。請問：下列有關越戰的敘述，何者錯誤？ (A)脫離法國殖民統治後，越南分裂成南北越互相對抗 (B)1960 年代美國直接參戰使越戰的規模擴大 (C)東南亞公約組織在越戰期間發揮集體防禦的力量 (D)西元 1973 年美國撤軍後不久，南越被北越統一，越戰結束。
31. 中國於 1970 年代末推動的改革開放政策，帶動經濟快速成長，但是卻加深區域發展失衡現象。下列關於中國的新聞報導，何者最能反映中國區域發展不均的現象？ (A)今年出現的多起沙塵暴，已直接威脅北京、上海及南京等大都市 (B)推動海上絲路計畫，發展從中國沿海港口經印度洋至歐洲的航線 (C)農曆春節將湧現數億人次返鄉人潮，堪稱地表最大規模的人口移動 (D)南方近年降雨減少，旱象環生，南水北調將威脅南方用水的供應量。
32. 聯合國調查顯示：在十一萬二千個北韓戰俘之中，有 32% 不願返回北韓，而願意留在南韓；在二萬個中共戰俘之中，有 68% 不願返回中國大陸，而欲前往臺灣。共方堅持強迫遣返，聯軍則主張志願遣返。一直到西元 1953

年簽訂《板門店停戰協定》，被聯軍拘留的中國戰俘一萬三千多人乃獲得自由，於西元 1954 年 1 月 23 日由美國艦艇送返臺灣，這是「一二三自由日」的由來。請問：這應該是因為哪一場戰爭而衍生出來的問題？ (A)第二次世界大戰 (B)國共內戰 (C)韓戰 (D)越戰。

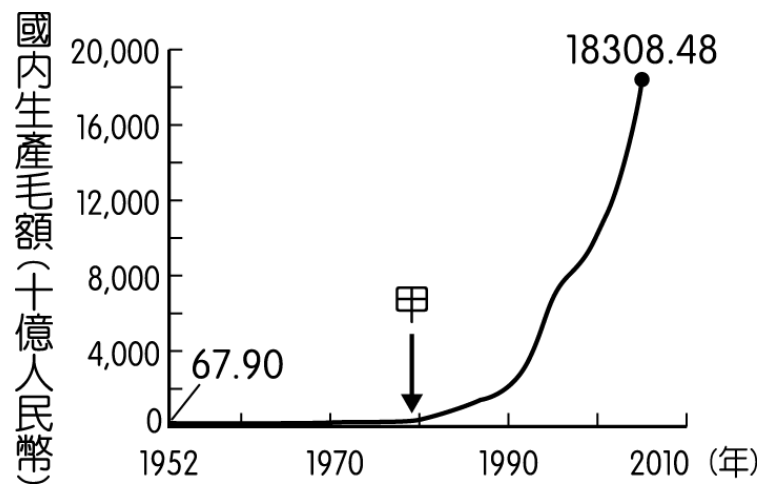
33. 《世界現代史圖集》裡有一幅漫畫，若由附圖中的內容來判斷，發言者可能來自下列哪一個國家？  
(A)印尼 (B)越南 (C)日本 (D)菲律賓。



34. 西元 1963 年《人民日報》的某篇文章說到：「蘇共領導人和報刊還對中國共產黨的國內政策和對外政策，進行了大量的惡毒的攻擊……他影射攻擊中國的社會主義建設是『超階段』和『平均共產主義』……我們這樣做，有什麼不對呢？難道這不正是馬克思列寧主義政黨應有的堅持原則、堅持團結的態度嗎？」請問：根據上文可以判斷當時中國的外交情勢變化應該為何？ (A)中蘇友好 (B)中蘇交惡 (C)中國聯美制蘇 (D)中蘇關係正常化。
35. 某導演想拍攝一部紀錄片《北緯 17·38》，介紹冷戰時期兩個影響世界歷史發展的重要地區以及相關歷史事件，附圖為其宣傳照。請問：這部紀錄片的內容不可能包含下列哪一項？ (A)兩地皆曾被日本殖民統治過 (B)兩地皆曾因民主與共產意識形態對抗而分裂 (C)兩地的戰爭皆有美國的軍隊介入參與 (D)兩地在戰爭結束後仍然南北分裂，未能統一。



36. 派大星在報告某位歷史人物時提到：「他在沿海地區設置經濟特區，對台灣實施和平統戰策略，並與美國建立正式邦交關係。」請問：下列哪一件重要大事也與這位人物有關？ (A)港澳回歸中國 (B)發動文化大革命 (C)六四天安門事件 (D)兩岸領導人首次會面。
37. 附圖為中國自西元 1952 年至西元 2005 年國內生產毛額的數據資料。請問：圖中曲線從甲處後有明顯變動的情況，最可能與下列何者有關？ (A)利用韓戰爆發契機，提高進口關稅 (B)大躍進提倡生產，民眾盡全力煉鋼 (C)發動文化大革命，進行全面的改造 (D)實施改革開放政策，引進外來資金。



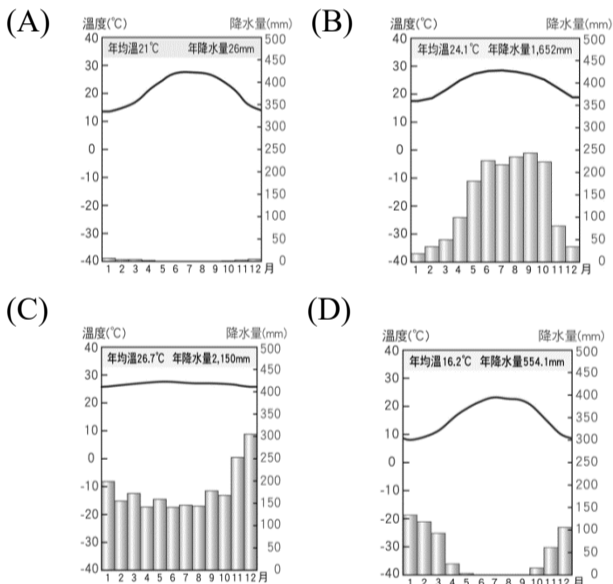
38. 「此一時期，國際上出現民主和共產兩大陣營，兩陣營之間既非戰又非和，互相牽制，避免戰爭一觸即發，形成一種政治詭譎的氣氛。在這段期間，僅出現小型的區域危機或熱戰，而沒有爆發全面性軍事衝突。」請問：下列有關此一時期的敘述，何者正確？ (A)越戰是這段期間的第一場熱戰 (B)兩大陣營從第二次世界大戰結束後開始對抗 (C)聯合國在這段期間沒有介入兩大陣營間的任何衝突 (D)兩大陣營的競爭最後是由共產集團勝出。
39. 中國推動改革開放後，積極參與國際事務。請問：下列關於中國與國際間的互動，何者最早發生？ (A)舉辦北京奧運 (B)成為聯合國會員 (C)與美國成為邦交國 (D)加入世界貿易組織。
40. 西元 1947 年 7 月，美國的蘇聯問題專家肯楠在外交季刊上發表了一篇專文，主張「美國對蘇聯的擴張，必須採取長期而忍耐、但又堅定而警覺的圍堵政策……每當蘇聯對世界任一地區顯示侵略企圖時，美國必須以堅定不移的相對力量加以制止。」請問：基於肯楠的建議，美國可能會採用下列哪些方式來因應？ (甲)提供美援 (乙)組織軍事聯盟 (丙)簽署共同防禦條約 (丁)蓄意挑釁引爆正面衝突  
(A)甲乙丙 (B)甲乙丁 (C)甲丙丁 (D)乙丙丁。

一、選擇題：

1. 中南半島的都市與人口主要分布在河流下游沿岸和河口三角洲。請問：下列哪些為造成此現象的主要原因？ (甲)地形以平原為主，土壤肥沃 (乙)地勢平坦，易於灌溉 (丙)交通便利 (丁)水流湍急，水力豐富 (A)甲乙丙 (B)甲乙丁 (C)甲丙丁 (D)乙丙丁。

2. 下列四區域中，哪些屬於熱帶雨林氣候？ (甲)東印度群島 (乙)菲律賓群島 (丙)馬來半島 (丁)中南半島 (A)甲乙 (B)甲丙 (C)乙丁 (D)丙丁。

3. 棕櫚油是一種來自油棕植物的果實，它的果肉與核仁都可榨取、提煉出豐富的油脂，且其用途相當多元。除了最常見的料理用食用棕櫚油，其它如洗髮精、沐浴乳、口紅、化妝品、麵包、巧克力，加上各式家庭用清潔劑、工業用潤滑油等，統統都有棕櫚油的成分。目前兩個全球最大的棕櫚油出產國為印尼和馬來西亞，油棕樹最適合生長的地區，其氣候類型與下列哪一張氣候圖相符？



4. 越南重視中秋節，民眾在這天會團聚一起吃月餅、賞月，越南中北部許多古蹟及廟宇中可見漢字，顯示出越南深受什文化的影響？

- (A)中國文化 (B)印度教文化  
(C)伊斯蘭教文化 (D)西方殖民文化。

5. 東南亞各國首都，如印尼的雅加達、馬來西亞的吉隆坡、菲律賓的馬尼拉、新加坡等；或第一大都市，如越南的胡志明市、緬甸的仰光等，多為「港埠型」都市，請問港埠型都的形成背景與以下何項相關？

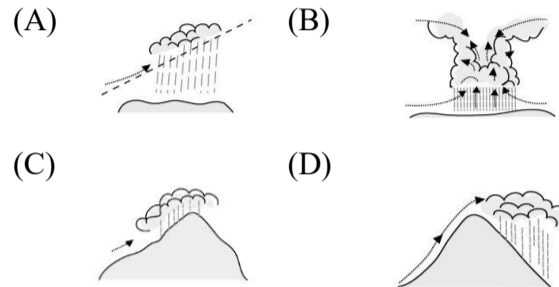
- (A)早期漁業發展 (B)稻米生產地  
(C)二戰後工業產品出口 (D)西方殖民歷史。

6. 近年來，愈來愈多臺商前往東南亞投資的原因，「不包括」下列哪一個因素？

- (A)勞力成本低廉 (B)中美貿易戰影響  
(C)投資政策優惠 (D)此區域國家眾多。

7. 二十一世紀起，東南亞各國為促進經濟成長，發展加工製造部門，並積極拓展市場，除了成立東南亞自由貿易區，將東南亞各國集成一個新興市場，與區域外多國簽訂 RCEP。請問下列何者「不屬於」RCEP 成員？ (A)美國 (B)中國 (C)日本 (D)韓國。

8. 位於印度東北方阿薩密省境內的「乞拉朋吉」，是世界上降水量最多的地區，年降水量可達 12,000mm，依據當地自然環境判斷，該地區的降水類型與下列何者最相符？



9. 印度有「寶萊塢」之稱的電影工業基地位在在哪一個城市？ (A)新德里 (B)孟買 (C)加爾各達 (D)邦加羅爾。

10. 印度之所以能成為美國客服的委外產業中心，與下列哪些條件有關？ (甲)勞工的薪資低廉 (乙)英語為官方語言 (丙)完善的基礎建設 (丁)具有時差的優勢 (A)甲乙丙 (B)甲乙丁 (C)甲丙丁 (D)乙丙丁。

11. 下列有關南亞氣候特徵的敘述，何者「不正確」？

- (A)11月至次年2月，氣候乾燥涼爽  
(B)3至5月天氣晴朗無風，全境乾熱  
(C)6至10月為一年之中最舒適的季節  
(D)雨季盛行西南季風，洪澇災害頻繁。

12. 塔爾沙漠與恆河三角洲的緯度相近，均為副熱帶高壓所籠罩，但是塔爾沙漠乾燥少雨，恆河三角洲經常水患成災，導致此種差異的原因為何？

- (A)經度、地形 (B)距海遠近、洋流  
(C)季風、洋流 (D)季風、地形。

13. 美國因應中國推進「一帶一路」和「中國製造 2025」等政策，在《國家安全戰略》報告中，提出作為美國「重返亞太」的主要國策，也就是「印太戰略」。由美國主導，與日本、澳洲、印度結合成密切戰略夥伴，與中國勢力抗衡，請問「印太戰略」所在的區域位在哪些海域之間？

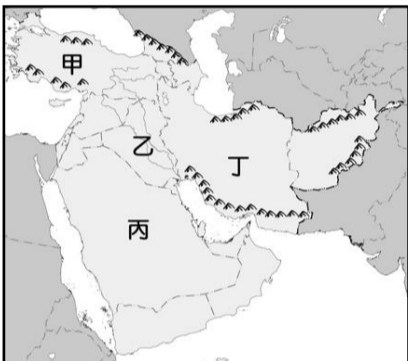
- (A)太平洋、大西洋 (B)太平洋、印度洋  
(C)印度洋、大西洋 (D)三大洋均有。

14. 世界各地可依各種指標將世界劃分為數個地理區域。附圖是世界某一個地理區域的分布位置，其劃分的主要依據指標為下列何者？ (A)海洋位置 (B)氣候類型 (C)陸塊位置 (D)語言、宗教？



15. 尼羅河兩岸及河口三角洲的居民引水灌溉發展綠洲農業，孕育出人類重要的古文明。針對該地區環境特色的敘述，下列何者正確？ (A)過去夏季氾濫的水源來自於亞特拉斯山脈融化的雪水 (B)當地居民為了減少水分蒸發發展出獨特的坎井灌溉方式 (C)尼羅河三角洲因水壩興建而面積縮減 (D)當地自古農業發達是肥沃月彎的一部分。

16. 2023 年 2 月土耳其東南部發生強烈大地震，地震沿著斷層線斷裂了大約 100 公里，造成 2 萬多人死亡，多人受傷。請問該事件發生地點位於圖中何處？ (A)甲 (B)乙 (C)丙 (D)丁。



17. 「11 月 17 日是蘇伊士運河的通航紀念日，這個運河當初由法蘭西第二殖民帝國主持開挖，挖掘工作花費了近 11 年才完工。通航後，歐亞之間的船運不需再繞行非洲南部，使得航行時間與距離大大縮短；每年通航的船隻高達 1.8 萬艘，使用率非常高。」請問下列針對蘇伊士運河的敘述，何者正確？ (A)為歐洲與亞洲的洲界 (B)位於黑海與地中海之間 (C)可縮短大西洋與印度洋間的航程 (D)行經熱帶雨林氣候區，流量豐穩。

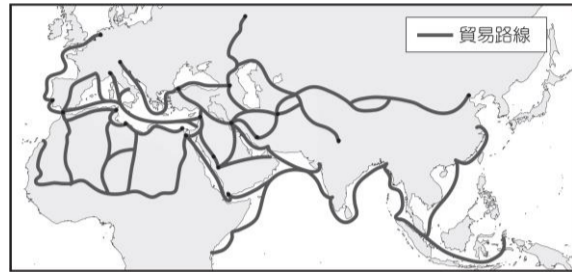
18. 「居住於北非與阿拉伯半島過著游牧生活的某一族群於西元前二千多年開始飼養駱駝。他們住在羊毛編成的黑色帳篷裡。篷布編的很鬆，夏天可以散熱；下雨時毛線收縮，便不會漏水。帳篷中間有塊裝飾亮麗的隔簾，分開男性和女性的起居間。婦女區因為要儲放食物和廚具，比較大；除了帳篷主人外，其他的男人不能進入。」文中是指下列哪一族的生活寫照？ (A)貝都因人 (B)猶太人 (C)波斯人 (D)庫德族人。

19. 「在伊斯蘭教於西亞誕生之前，阿拉伯人已十分重視商業活動，到了伊斯蘭教全盛時代，商人的地位仍然很高，在《古蘭經》裏，也可見『商業』、『經商』、『贏利』、『虧本』等詞彙。」請問：西亞居民利用下列何項地理優勢，使本區在八～十三世紀，即已發展成世界著名的商業交易要地？ (A)充足的勞動力

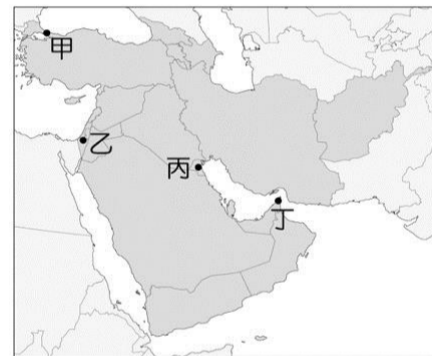
(B)豐富的石油資源 (C)三洲往來的交通要道 (D)沿海多良港。

20. 埃及人口有 90% 為穆斯林，他們每日須面向聖地麥加朝拜五次，請問埃及大部分的穆斯林朝拜時須面向哪一方？ (A)西北方 (B)東南方 (C)正南方 (D)正西方。

21. 西元八～十三世紀，隨著伊斯蘭教的傳播，西亞與北非的駱駝商隊銜接河運、海運，範圍遍及各大洋，串連起長達幾千公里的國際貿易路線，如附圖所示。根據附圖判斷，下列哪一個區域阿拉伯人並未踏及？ (A)歐洲 (B)南亞 (C)中亞 (D)東北亞。



22. 耶路撒冷曾被視為世界的中心，有人形容這座城市是「一個神的殿堂、兩個民族的首都、三大宗教的聖地，也是唯一一個擁有天國和塵世兩種存在維度的城市」。請問該城市位於圖中何處？ (A)甲 (B)乙 (C)丙 (D)丁。



23. 西亞與北非多數國家石油產量均相當高，因此於西元 1960 年組成哪一個組織，企圖掌握石油利益的主導權？ (A)OPEC (B)WTO (C)ASEAN (D)RCEP。

24. 西元 2010 年，北非突尼西亞爆發反獨裁政府風潮，隨後這股風潮轉向鄰近國家，使多國陷入紛亂，稱為「阿拉伯之春」。請問下列哪一事件的起因與「阿拉伯之春」最相關？ (A)庫德族爭取獨立 (B)敘利亞政變 (C)911 事件 (D)以阿衝突。

25. 涼流流經的沿岸地區因空氣穩定、對流不盛、乾燥少雨，常形成沙漠。以下哪一個沙漠的形成與涼流有關？ (A)塔克拉瑪干沙漠 (B)納米比沙漠 (C)喀拉哈里沙漠 (D)塔爾沙漠。

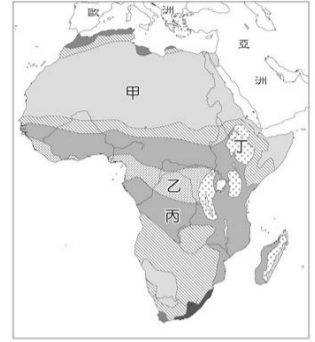
26. 非洲熱帶氣候區域寬廣，又受到歐洲殖民的影響，因此非洲的熱帶栽培業相當發達，出口大量農產品。請問以下哪些最可能是非洲主要出口的農產品？ (A)稻米、棉花 (B)茶葉、黃麻 (C)葡萄、橄欖 (D)咖啡、可可。

27. 動畫電影《馬達加斯加》描述原本生活在紐約中央公園動物園的獅子、長頸鹿、斑馬、河馬等動物，在一次意外中來到非洲的馬達加斯加島的冒險故事。請問馬達加斯加島位於下列哪一個海域？  
(A)印度洋 (B)太平洋 (C)紅海 (D)大西洋。
28. 東非大裂谷號稱「地球臉上最大的傷疤」，是一個典型的地塹構造，有關地塹的形成與特徵，下列敘述何者正確？  
(A)是由於外營力所造成，其間有許多湖泊  
(B)是板塊劇烈活動所產生的新褶曲山地  
(C)由於河流的侵蝕作用，山高谷深  
(D)板塊活動造成地層陷落，多火山、斷層湖及瀑布
29. 南非礦產豐富，現今已開採的礦產有 70 餘種，如金礦、鑽石礦及白金礦等。請問：南非有這麼多的礦藏，與下列何者最相關？  
(A)堆積作用旺盛，地層較厚 (B)地質古老  
(C)多斷層地形 (D)多新褶曲構造，易生金屬礦物。
30. 有關於非洲傳統經濟活動的敘述，下列何者正確？  
(甲)游耕多分布於熱帶雨林及莽原氣候區  
(乙)生活在剛果雨林中的匹美人依靠稻作農業維生  
(丙)游牧民族主要分布在熱帶沙漠邊緣的草原地帶  
(丁)尼日河及剛果河河口三角洲平原廣大，適合種植葡萄、橄欖等作物  
(A)甲乙 (B)丙丁 (C)甲丙 (D)乙丁。
31. 每年在東非大草原由都會上演的動物大遷徙，是由數以百萬計的斑馬、牛羚和瞪羚，為了追隨雨季所帶來的豐沛水草，必須經歷長達三千公里的長征！每年五月乾旱來臨，動物們開始往馬拉河集結，準備到對岸的馬賽馬拉尋找食物，10~11 月坦尚尼亞雨季重新來臨，動物們從肯亞的馬賽馬拉再次跨過馬拉河，返回塞倫蓋提吃草，然而在牠們的旅途中，鱷魚、河馬、禿鷹、花豹等肉食動物也隨時對牠們虎視眈眈。因此每年的動物大遷徙，可說是一場適者生存的殘酷舞臺。



- 請問：塞倫蓋提國家公園和馬賽馬拉國家保護區應屬於哪一種氣候類型？  
(A)熱帶雨林氣候 (B)熱帶莽原氣候  
(C)熱帶沙漠氣候 (D)溫帶地中海型氣候。
32. 承上題，此氣候型態分布於右圖中何區塊？  
(A)甲 (B)乙 (C)丙 (D)丁

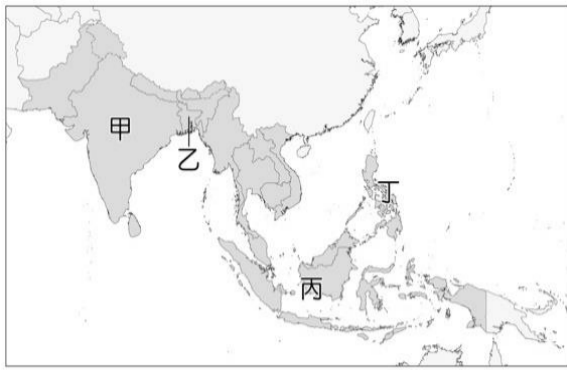
33. 非洲國家數目眾多，在聯合國擁有具有影響力的 54 票，請問造成此現象與何者原因直接有關？  
(A)歐洲列強殖民的瓜分  
(B)非洲是世界總人口最多的一洲  
(C)黑人族群及語系分支複雜  
(D)戰爭造成許多國家不斷分裂。
34. 漠南非洲的糧食不足與貧窮問題一直是全球共同關注的焦點。有關這兩項問題，下列敘述何者「錯誤」？ (A)人口增加快速形成的壓力與糧食不足有關  
(B)充足且低素質的勞動力不利於非洲產業升級  
(C)食物缺乏導致長期營養不良，免疫力下降使傳染病肆虐  
(D)將非洲居民遷往其他各洲是解決途徑。
35. 漠南非洲大部分國家太過依賴一、兩種農、礦產的出口，導致經濟發展深受下列何項限制？  
(A)自給自足的經驗體系瓦解 (B)出口關稅額度高  
(C)國際市場價格波動 (D)雨林被破壞環境成本增加。
36. 「該國是非洲經濟最發達的國家之一，曾經由白人長期執政，並採行種族隔離政策，近年來黑人地位提升，仍貧富懸殊。積極發展高科技產業，進行產業轉型。」上文所述最可能是哪個國家？  
(A)肯亞 (B)南非共和國 (C)象牙海岸 (D)衣索比亞
37. 漠南非洲各國在獨立後內戰或者國際戰爭時有所聞，導致經濟發展較為緩慢，下列何者可能是其戰爭頻繁的原因？  
(A)殖民國家劃分勢力範圍時未考慮族群的傳統領域  
(B)國土面積太小而國家數目多  
(C)不同宗教教義導致衝突  
(D)外國勢力入侵爭奪礦產資源。
38. 非洲某國原本以咖啡和狩獵聞名，近年靠著擁有獨特的自然生態發展觀光，也因行動通訊普及，全國 74% 的手機持有率，99% 的手機上網率，手機產業出口額持續攀升，成功變身為「草原矽谷」。此國是  
(A)南非共和國 (B)布吉納法索 (C)肯亞 (D)奈及利亞



## 二、整合題：

※聯合國衡量各國遭受自然災害的狀況，提出自然災害風險指數，若指數在 0~7 之間表示風險較小，超過 7 則為自然災害高風險地區。其中，東南亞和南亞自然災害風險指數最高的國家，菲律賓指數 27 和孟加拉指數 19。

請回答下列問題：



39. 上述的兩個國家分別位於圖中哪兩個代號處？  
 (A)甲乙 (B)丁丙 (C)乙丙 (D)丁乙。
40. 菲律賓自然災害風險指數高的原因主要是由於哪些災害所致？(甲)地震 (乙)颱風 (丙)乾旱 (丁)熱浪  
 (A)甲乙 (B)乙丙 (C)丙丁 (D)甲丁。
41. 孟加拉自然災害風險指數高是來自水災，而孟加拉發生水患的原因為何？(甲)四周環海 (乙)地勢低平 (丙)西南季風夾帶豐富水氣 (丁)鄰近赤道對流旺盛  
 (A)甲乙 (B)乙丙 (C)丙丁 (D)甲丁。

※南亞的氣候深受季風影響，高溫多雨的環境有利於農作物生長，糧食作物與經濟作物多元。下圖為南亞各重要作物產區位置圖，請根據附圖回答以下各問題。

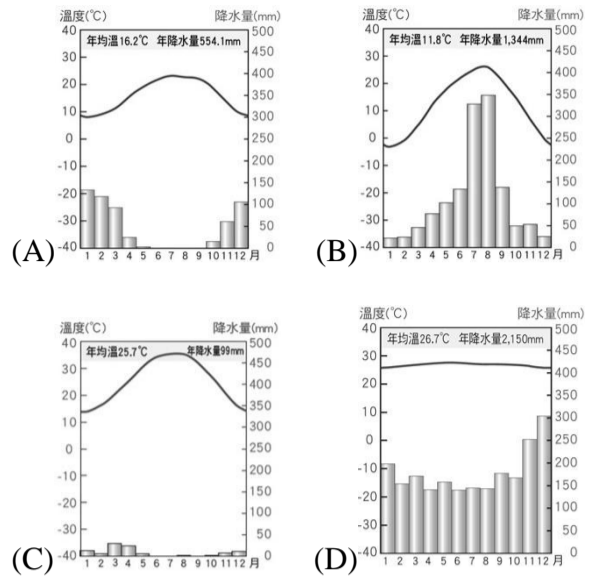


42. 圖中何處為稻米的主要產區？  
 (A)甲 (B)乙 (C)丙 (D)丁。
43. 日治時期，日本人從印度阿薩姆引進茶苗到南投縣魚池號鄉試種後，至今紅茶已成為日月潭特產。請問以紅茶聞名的阿薩姆邦位在圖中何處？  
 (A)甲 (B)乙 (C)丙 (D)丁。
44. 某項農作物主要用於紡織品，收成時期忌水，必須生長在乾溼分明或有水源可灌溉之處。請問此種作物可能分布於圖中哪些地區？  
 (A)甲乙 (B)丙丁 (C)甲丙 (D)乙丁。
45. 黃麻是印度半島主要的經濟作物之一，適合生長在平坦的地形和多雨的氣候，是重要的天然纖維，可製成麻布袋、地毯等用途，請問黃麻分布於圖中哪一地區？  
 (A)甲 (B)乙 (C)丙 (D)丁。

※周杰倫成名作品之一「愛在西元前」歌詞中有一段「我給你的愛寫在西元前，深埋在美索不達米亞平原」，請依題意回答下列問題：

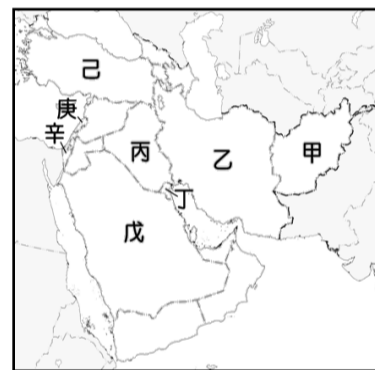
46. 下列哪一張氣候圖最能呈現歌詞中所指地區的氣候特

徵？



47. 下列何者為當地的氣候環境特色？(A)日溫差極小 (B)強風易引發沙塵暴 (C)上升氣流旺盛易帶走地表水氣 (D)冬季受季風影響形成雨季。
48. 下列哪一種景像無法在當地看到？(A)棗椰、果樹及小麥高低成層種在農地上 (B)穿著寬鬆長袍戴著面紗的女性 (C)房子屋頂多傾斜以利通風 (D)眾多的圓頂清真寺。

(二)附圖為西亞國家分布圖。請根據此圖，回答下列問題。



49. 西亞與北非多數國家皆非常重視水資源，部分跨國河川因為上游國家水利設施的興建，容易使得下游國家的水資源發生匱乏的問題。請問圖中的哪兩國國家即存在著幼發拉底河水資源紛爭的問題？(A)甲乙 (B)丙丁 (C)丙己 (D)庚辛。
50. 西元 1990 年由於伊拉克攻占圖中的哪一個國家，以美國為首的聯合國部隊進攻伊拉克而爆發波斯灣戰爭？(A)甲 (B)乙 (C)丙 (D)丁。

答案：

1. A 2. B 3. C 4. A 5. D  
 6. D 7. A 8. C 9. B 10. B  
 11. C 12. D 13. B 14. D 15. C  
 16. A 17. C 18. A 19. C 20. B  
 21. D 22. B 23. A 24. B 25. B  
 26. D 27. A 28. D 29. B 30. C  
 31. B 32. C 33. A 34. D 35. C  
 36. B 37. A 38. C 39. D 40. A  
 41. B 42. A 43. C 44. D 45. A  
 46. C 47. B 48. C 49. C 50. D

## 臺北市興雅國中第 111 學年度第二學期八年級公民科補行評量講義

班級: 座號: 姓名:

### 一、選擇題

( ) 1. 根據《社會救助法》第 1 條：「為照顧低收入戶、中低收入戶及救助遭受急難或災受害者，並協助其自立，特制定本法。」該法旨在透過保障民眾的基本經濟收入，以維持其基本生活所需。由此可知，《社會救助法》主要是實現憲法對人民何種基本權利的保障？

(A)自由權 (B)平等權 (C)參政權 (D)受益權

( ) 2. 根據《警察職權行使法》的規定，警察行使職權時，應著制服或出示證件表明身分，並應告知事由，警察未依此規定行使職權者，人民得拒絕之。上述內容最主要在強調下列何種法治觀念？

(A)法律規範政府的作為，而人民權利受到法律保障

(B)法律制定生效後，對於違法者即產生約束的作用

(C)行政機關修改不合時宜的命令，以保障人民權利

(D)法律是由民意代表所制定，也是人民意思的展現

( ) 3. 小美下班後喜歡和朋友一起打籃球，但是住家附近公園的籃球場僅設有路燈，沒有籃球場專用的夜間照明，因此小美須特地到較遠的公園打球，相當不便。為此，小美向相關政府單位反映，希望可以在住家附近公園的籃球場設置專用的夜間照明，此舉主要是行使下列何項基本權利？

(A)平等權 (B)自由權 (C)受益權 (D)文化權

( ) 4. 導盲犬是協助視障者安全行進的工作犬，而非一般寵物，因此《身心障礙者權益保障法》規定，公共場所、公共建築物、營業場所(包括餐廳)、大眾運輸工具及公共設施的負責人、業者、使用人等，皆不得拒絕導盲犬及導盲幼犬自由出入。此規定主要是為了落實以下何種精神？

(A)法律位階 (B)實質平等 (C)民主法治 (D)人身自由

( ) 5. 《憲法》被稱為是人民權利的保障書，人民的權利規定於《憲法》中，才能防止立法機關在制定法律或行政機關在發布命令時，侵害人民的權利。請問：上述的說法是基於《憲法》的何種特性？

(A)《憲法》在所有法律中享有最高的位階

(B)《憲法》的修改較其他法令繁複與困難

(C)《憲法》是針對權利作簡明扼要的規定

(D)《憲法》的存在比所有法律與命令更早

( ) 6. 為確保契約雙方的權利義務能依公平正義的方法，實現其權利的內容，《民法》訂有下列何項最高指導原則？

(A)契約自由原則 (B)依照法律規定

(C)誠實信用原則 (D)不得違反公序良俗

( ) 7. 柏任努力工作數年後，終於存到購買房屋的頭期款，決定買一間新房子。關於房屋買賣契約的敘述，下列何者正確？

(A)柏任與賣方簽訂書面契約，可以避免日後口說無憑造成爭議

(B)柏任付清房屋價款，不論是否過戶，立即取得房屋的所有權

(C)柏任和賣方簽訂的買屋契約可作為他擁有房屋所有權的證明

(D)若賣家未依約交付房屋，柏任可要求賣家負起侵權行為責任

( ) 8. 人們會藉由訂定契約的方式滿足生活所需，下列有關契約的敘述何者正確？

(A)雙方當事人以白紙黑字訂定下來的內容才可稱為契約

(B)購買販賣機的飲料，未與人交易，故不屬於契約行為

(C)契約成立後即產生債權債務關係，雙方都須依約履行

(D)為了經濟生活順利運作，契約的訂定均須經國家同意

( ) 9. 大學生辰洋未經過珊珊同意就私自使用珊珊的手機，結果不慎將手機摔落地面，造成螢幕破裂。下列何者為辰洋應承擔的民事責任及方式？

(A)侵權行為、損害賠償 (B)侵權行為、解除契約

(C)債務不履行、損害賠償 (D)債務不履行、解除契約

( ) 10. 論語 為政篇中有一段與年齡有關的敘述：「吾十有五而志於學，三十而立，四十而不惑，五十而知天命，六十而耳順，七十而從心所欲，不踰矩」，其中「吾十有五而志於學」，若以我國現行《民法》判斷，應屬於何種行為能力人？

(A)無行為能力人 (B)限制行為能力人

(C)完全行為能力人 (D)受監護宣告之人

( ) 11. 下列有關《刑法》的敘述，何者正確？

(A)是規範私人之間權利義務關係的法律

(B)是為了處罰並遏止犯罪而制定的法律

(C)每個人皆可以依刑法內容處罰犯罪者

(D)是為了控制人民，展現統治權而制定

( ) 12. 阿光向虎哥經營的地下錢莊借錢，由於借款利息太高，以致阿光無法償還。虎哥討債不成，便將阿光打成重傷，阿光忍無可忍決定報警處理。最後法官判定虎哥傷害罪成立，依法虎哥最可能會受到何種處罰？

(A)拘留 (B)罰鍰 (C)勒令歇業 (D)有期徒刑

( ) 13. 現代法治社會，若人民不遵守法律的規定，就必須負擔法律責任。小夫用私人物品長期占用門口道路，被依竊佔罪移送法辦，其所須負擔的法律責任與下列何者相同？



(A)小櫻騎機車出門買東西沒有戴安全帽

(B)阿強為了購買手機，向同學勒索取財

(C)胖虎深夜在社區中庭唱歌，妨礙安寧

(D)花媽怕兒子學壞，不讓他受國民教育

( )14. 觸犯《刑法》規定應透過司法審判程序，接受刑罰的制裁，下列相關敘述何者正確？

(A)刑罰除了懲罰犯罪，也能達到矯正功能

(B)罰金屬於剝奪自由的刑罰，可單獨科處

(C)刑罰分主刑和從刑，主刑不得單獨科處

(D)有期徒刑及拘役，皆為剝奪財產的刑罰

( )15. 國家在行使刑罰權時，必須遵守依法行政的精神，其具體展現在《刑法》上就是「罪刑法定原則」。下列對此原則的敘述何者正確？

(A)對於民眾違反道德的行為，國家不可以制定法律予於處罰

(B)判定行為是否犯罪及如何處罰，須事先有明文的法律規定

(C)犯罪行為是否成立與如何處罰，必須經由法院的判決確定

(D)當有人做出侵害他人的行為，國家可立即制定法律來處罰

( )16. 青少年的身心尚未成熟，基於保護的目的，其犯罪可以減輕刑責。依據我國《刑法》的規定，符合減輕刑責的年齡範圍為何？

(A)12 歲以上，未滿 20 歲 (B)12 歲以上，未滿 18 歲

(C)14 歲以上，未滿 18 歲 (D)14 歲以上，未滿 20 歲

( )17. 立晨因故與他人發生紛爭，接到一份調解通知書，下列何者最有可能是立晨發生的紛爭內容？

(A)車禍損害事件 (B)殺害他人性命

(C)財物遭人竊取 (D)不服酒駕罰單

( )18. 某天晚上，小華在開車回家的路上，因為大雨視線不良，不小心把一位闖紅燈的老太太撞成重傷，經過調查後，檢察官依過失重傷罪將小華起訴，因此小華便委託律師進行辯護。請依上文判斷，下列敘述何者正確？

(A)老太太在本案的身分是原告

(B)小華的律師在法庭上擔任的角色是代表被告

(C)對小華提起訴訟的人是法官

(D)最後決定小華是否應負刑事責任的人是書記官

( )19. 政府為了防止新型冠狀病毒的傳播，依據傳染病防治法的規定，要求民眾自國外返國時，應配合接受主管機關的檢疫措施與隔離，違反者將受到相關單位的處罰。下列概念何者最能說明上述內容？

(A)依法行政 (B)權力分立 (C)主權在民 (D)責任政治

( )20.關於「行政法」的相關規範，下列敘述何者正確？

(A)由行政機關所制定的各種法律和命令，皆可以稱為行政法 (B)為了規範國家行政權如何運作，所制定的法典稱為行政法

(C)《社會秩序維護法》、《道路交通管理處罰條例》屬行政法的範疇 (D)主要目的是為了讓政府依法行使權利、人民依法承擔義務

( )21. 小康喜歡和朋友高歌一曲紓解壓力，某日小康在家裡忘我的唱歌直到深夜，嘹亮的歌聲在社區中迴響，鄰居不堪其擾而向警方報案，警方獲報後到場制止小康並科以罰鍰。針對此狀況，下列相關敘述何者正確？

(A)在家唱歌是小康的自由權，警察不得處罰

(B)警察對小康科以罰鍰已違反依法行政原則

(C)警察對小康科的罰鍰是給鄰居的金錢賠償

(D)警察須依照法律規定才能對小康科以罰鍰

( )22. 行政法除了規範政府的行為之外，每個人從出生到死亡，許多行為也都會涉及行政法的適用，下列何者屬於「應適用行政法」的事件？

(A)因課業糾紛，某甲唆使某乙打傷同學  (B)駕駛人未通過警察的酒測臨檢而受罰

(C)屋主追討租屋房客所積欠的房屋租金 (D)建商要蓋房子，強制原住戶拆屋還地

( )23. 行政法又稱為「活的憲法」，因為憲法對於人民權利的保障只是概括性的規定，需要藉由行政法的補充，才能將國家機關的組織與職權，以及人民權利義務的規範具體化，並藉以要求政府依法行政，才能避免政府濫權並確實保障人民的權益。下列何者最符合上述的意涵？

(A)行政行為必須有法律的依據或授權

(B)行政機關應制定法律作為職權依據

(C)行政機關以命令限制立法機關作為

(D)行政機關應以命令修正憲法的規定

( )24. 警方破獲多起未成年少女陪酒性交易的案件，案件主嫌在年輕人常用的交友軟體上釋出「輕鬆、好賺」等訊息，引誘中輟、逃家少女加入，再沒收她們的證件、手機，並雇用職業打手統一看管她們的生活起居，使她們無法與外界聯繫。涉案的未成年少女多達 20 人，年紀最輕者僅 14 歲。下列敘述何者正確？

(A)本案處理適用性騷擾防治法 (B)案中未成年少女將被處以罰鍰

(C)民眾可撥打 113 通報此類案件 (D)案中主嫌將被安置於中途學校

( )25. 廣播節目主持人邀請少年法院趙法官針對少年事件處理法的相關規定進行訪談。下列哪一段話最可能是這次訪談的內容？

(A)趙法官：我們經常會透過刑事處罰來代替保護處分

(B)主持人：請法官說明刑罰中主刑和從刑的相關規定

(C)主持人：談談日前發生的 19 歲大學生校園恐嚇事件

(D)趙法官：保護管束和安置輔導都是可能採取的作法