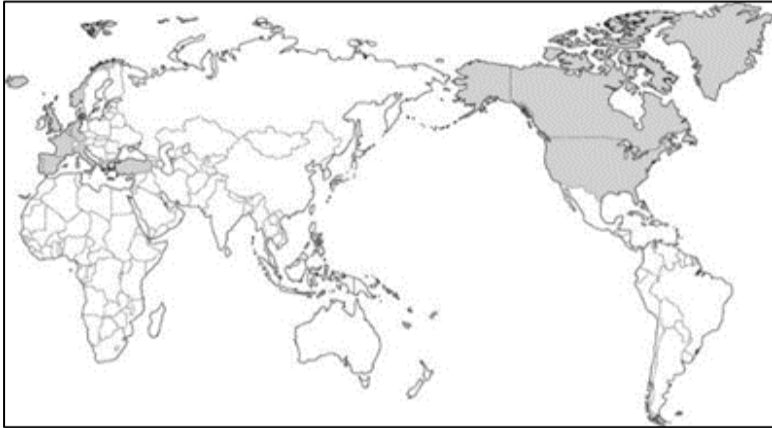


一、選擇題：

- 中南美洲又稱為拉丁美洲，是因為他們的殖民者為拉丁民族，以拉丁語文為官方語言。請問：中南美洲是在哪一個事件後成為歐洲國家的殖民地？ (A)發現新航路 (B)工業革命 (C)科學革命 (D)宗教改革。
- 19 世紀後期，歐洲各國帝國主義的浪潮再次興起，其主要的背景為下列何者？ 甲、工業革命；乙、天賦人權；丙、宗教改革；丁、民族主義 (A)甲乙 (B)甲丁 (C)乙丙 (D)丙丁。
- 自 19 世紀中期起，歐美列強的勢力開始進入非洲，在短短 20 年間，非洲幾乎被歐美列強瓜分一空，至 19 世紀末在非洲西岸只剩下哪一個獨立國？ (A)衣索比亞 (B)賴比瑞亞 (C)奈及利亞 (D)阿爾及利亞。
- 美國獨立運動爆發後，北美 13 州的代表在哪一份文獻中，宣告成為自由獨立的美利堅合眾國？ (A)獨立宣言 (B)人權宣言 (C)門羅宣言 (D)開羅宣言。
- 工業革命改變了人們的生活型態，工業化迄今仍為世界各國致力發展的要務。下列關於工業革命的敘述，何者正確？ (A)18 世紀的工業革命主要是以電力取代過去的人工 (B)工業革命首先開始於英國 (C)工業革命成就主要在機具改良，而非動力革新 (D)亞當斯密的經濟學說主張政府應掌控經濟活動與生產工具，以解決貧富不均的問題。
- 正當拉丁美洲獨立運動風起雲湧之際，歐洲的保守主義者欲派兵協助西班牙平定拉丁美洲的獨立運動，美國宣布什麼政策，表示美國不允許歐洲國家干預美洲事務，因而有助拉丁美洲國家的獨立？ (A)正統原則 (B)金元外交 (C)門羅主義 (D)自由放任。
- 19 世紀，民族主義昂揚，拉丁美洲在此刺激下也興起獨立運動，下列哪一個運動與拉丁美洲的獨立運動無關？ (A)啟蒙運動 (B)美國獨立 (C)法國大革命 (D)宗教改革。
- 德國與義大利的統一過程頗為相似，有關這兩個國家統一的過程，下列敘述何者正確？ (A)統一領導核心：德國—普魯士、義大利—教皇國 (B)領導國君：德國—伊曼紐二世、義大利—威廉一世 (C)統一障礙：奧國、法國 (D)完成統一時間：1850 年代。
- 博物館舉辦某人物逝世兩百周年特展，主要展區有：「軍事天才：席捲全歐洲的軍事統帥」、「革命先鋒：傳揚民族意識與革命精神」、「雋永愛情：他的皇后與愛情故事」。請問：此展覽的主角應為下列何者？ (A)華盛頓 (B)拿破崙 (C)馬克思 (D)伽利略。
- 下列有關第一次世界大戰的敘述，何者正確？ (A)大戰的導火線是因德意志帝國的皇儲在巴爾幹半島被暗殺 (B)原為三國同盟之一的義大利，在戰爭初期即倒向協約國 (C)1917 年，戰爭出現關鍵性的發展，美國與俄國加入戰局 (D)德國為了使美國投降，宣布實施無限制潛艇政策。
- 第一次世界大戰後，歐洲出現許多新興國家，這些新興國家的成立是根據哪一個原則獨立建國？ (A)民族自決 (B)外交公開 (C)門羅宣言 (D)共產國際。
- 戰間期，義、德興起極權政治，下列敘述何者正確？ (A)第二次世界大戰的引爆，與極權政治的對外侵略有關 (B)這兩個國家極權政治的興起，皆因戰敗而產生 (C)這兩個國家皆行共產主義 (D)在兩次大戰中，這兩個國家屬同一個陣營。
- 某一些國家為了能在政治和經濟兩方面與當時的美、蘇兩大集團相抗衡，於是有下列哪一組織應運而生？ (A)共產國際 (B)第三國際 (C)第三世界 (D)國際聯盟。
- 冷戰結束後，世界形成多元文明並立的局面，可是各地不時有恐怖分子攻擊事件發生，其原因為何？ (A)共產勢力的擴張 (B)世界經濟大恐慌 (C)蘇聯的解體 (D)宗教、政治等價值差異。
- 有關第二次世界大戰前世界局勢的發展，下列敘述何者為非？ (A)德、義、日三國積極向外侵略，組成反共的軸心國 (B)當時美國堅守孤立主義，不願捲入國際事務 (C)英、法等國對希特勒的侵略行動採取姑息政策 (D)慕尼黑協定逼迫捷克割讓蘇臺德區給德國。而當希特勒併吞捷克後，英、法隨即對德宣戰。
- 「冷戰」是一種「非戰非和」、「亦戰亦和」的微妙國際情勢。下列有關美、蘇之間的冷戰敘述，何者正確？ (A)冷戰時間是從第二次世界大戰結束後至戈巴契夫上臺後即宣告結束 (B)美國成立北大西洋公約組織，防止共產勢力的擴張 (C)蘇聯將它底下的共產國家組成歐洲聯盟，與北大西洋公約組織相對抗 (D)冷戰期間，最大的軍事衝突為「九一一事件」。
- 第一次世界大戰後，歐洲重要的極權國家有蘇聯、德國、義大利。有關義大利極權政治的建立，下列敘述何者正確？ (A)義大利因戰敗導致社會動盪不安 (B)墨索里尼組成納粹黨 (C)提出反共、恢復古羅馬光榮的主張 (D)墨索里尼取得政權後，對義大利境內的猶太人進行迫害。
- 聯合國前身為國際聯盟，成立主要目的皆為維護世界和平。下列有關聯合國的敘述，何者正確？ (A)總部設在瑞士日內瓦 (B)安全理事會的五強指美國、英國、法國、俄羅斯、日本 (C)安理會有權要求會員國提供武力 (D)聯合國已名存實亡。
- 『美國國防部長奧斯丁 2022 年 12 月 4 日公開場合發表談話的部分內容：讓我們清楚地指出我們在烏克蘭看到的情況，俄羅斯沒有受到挑釁，俄羅斯沒有受到威脅，俄羅斯沒有受到攻擊。相反，一個人選擇了戰爭。而普丁的戰爭不是北約擴張的結果，它是北約擴張的原因。而現在，由於克里姆林宮對一個消失的帝國的渴望，歐洲面臨著自第二次世界大戰結束以來最嚴重的安全危機。』文中所提及的北約即「北大西洋公約組織」，成立於西元 1949 年，關於其成立的背景原因及影響為何？

- (A)防止共產勢力的擴張 (B)取代安理會制裁侵略
(C)造成柏林危機的發生 (D)促成獨立國協的組成。

20. 下圖深色部分為西元 1982 年時北約成員國的分布圖，冷戰結束後，基於不同的因素考量，新成員國陸續加入該組織，請問哪些國家即是在 1999 年以後才加入的新成員國？ (A)保加利亞、土耳其 (B)匈牙利、挪威 (C)義大利、波蘭 (D)立陶宛、芬蘭。



21. 音樂家貝多芬曾對拿破崙十分敬慕，譜寫交響曲「英雄」欲獻給拿破崙，後來卻將樂譜封面的提獻字樣抹去並撕毀，曲式中甚至有一部分為「送葬進行曲」，表現當時貝多芬的矛盾心境。請問：對於拿破崙功過評論，何者正確？ (A)召開維也納會議，維繫國際和平 (B)稱霸歐洲大陸，遠達俄羅斯 (C)頒行法典，推動三權分立 (D)宣傳自由、平等的理念。

22. 『民族主義亦稱國民主義、國族主義、國粹主義，是一種意識形態，認為國家的組成應以民族為單位，對本族人具有認同感，形成共同體的意識，並認為自己民族的文化最優秀，民族主義者往往認為民族擁有自我治理的主權，而不應受他人干涉，即民族擁有民族自決權。』如上文所述，民族主義的推展可以為國家帶來力量，但也可能被有心人士濫用，造成族群對立、族群迫害，甚至藉機展開擴張侵略行動。下列哪些事件的發生即與民族主義相關？ (甲)納粹德國迫害猶太人 (乙)甘地的文化復興運動 (丙)義大利王國的建立 (丁)俄國發動十月革命 (A)甲乙丙丁 (B)甲乙丙 (C)甲丙丁 (D)甲丁。

23. 美國獨立紀念館位於美國賓夕法尼亞州費城，1776 年 7 月 4 日，北美十三州的代表在這裡簽署了由傑斐遜撰稿的美國獨立宣言，1787 年，美國憲法也在此地制定，1979 年，被聯合國教科文組織登錄為世界文化遺產，也是美國獨立國家歷史公園的一部分。請問：該建築物位於下列圖中何處？ (A)甲 (B)乙 (C)丙 (D)丁。



24. 工欲善其事，必先利其器，欲成事者，勢必要做足準備，才能達到目標。政府單位要執行治國良方，也要選對人才，用對方式，不讓理想的藍圖只是空想而已。下列配對何者正確？

- (A)威爾遜被選為首任美國總統實現民主政治
(B)普魯士國王任命俾斯麥為首相而稱霸
(C)薩丁尼亞國王重用馬志尼助其建國
(D)馬克思建立世界第一個共產政權。

25. 1982 年諾貝爾文學獎得主賈西亞·馬奎斯創作出《迷宮中的將軍》，以美洲解放者玻利瓦為藍本，為了獨立運動，玻利瓦親自跨上戰馬，馳騁於南美洲各地，戰功彪炳。為了頌揚玻利瓦，甚至有國家以其名命名，請問：該國位於圖中何處？ (A)甲 (B)乙 (C)丙 (D)丁。



26. 當我們看到社會出現不公不義，挺身而出，杜絕歪風，端正社會風氣，提升整體國人素質，實乃國家向上進步之策，切勿「姑息養奸」，縱容助長壞人壞事，最終自己也成為受害者。下列哪一個事件即是國際上姑息態度的表現，最終導致悲劇的發生？ (A)英法逼迫捷克讓出蘇台德區給德國 (B)蘇聯簽署德蘇互不侵犯條約 (C)中美英簽署雅爾達密約 (D)聯合國出兵協助南韓。

27. 「十八世紀末，製造業雇用的童工中，五歲的很少，六歲的較多，七歲的更多，八歲與九歲最為普遍。一天工作的時間不包括用餐和間接休息的時間在內，長達 14~16 小時。」上述內容最早可能發生在右圖中的哪一個城市？ (A)甲 (B)乙 (C)丙 (D)丁。



28. 請由下列圖表判斷，自由國家比例大幅提升的主要原因為何？ (A)古巴危機解除 (B)以色列建國 (C)越戰結束 (D)蘇聯解體。

時間	自由國家	部分自由國家	不自由國家
1975	40 (25%)	53 (34%)	65 (41%)
1985	56 (34%)	56 (34%)	55 (32%)
1995	76 (40%)	62 (32%)	53 (28%)
2005	89 (46%)	58 (30%)	45 (24%)

註：1. 數字代表國家數，百分比代表占全球國家數的比率。
2. 全球國家數 = 自由國家數 + 部分自由國家數 + 不自由國家數。

二、題組：

※倫敦著名的大英博物館裡，展示許多源自世界各地的知名文物，例如埃及的木乃伊、羅塞塔石碑，復活節島的摩艾石像，希臘的帕德嫩神像，中國的瓷器、青銅器等。博物館的收藏之所以如此多元與豐富，與當時帝國主義的發

展緊密相關。

29. 請問帝國主義興起的背景與下列何者相關？

- (甲)白人自負有教化落後地區的使命
 - (乙)工業革命後積極尋求廣大市場
 - (丙)為了恢復古羅馬光榮的信念
 - (丁)門羅宣言鼓吹的影響
- (A)甲乙 (B)甲丙 (C)乙丁 (D)丙丁。

30. 帝國主義的侵略擴張行動中，非洲淪為殖民區，至十九世紀末，僅剩下圖中哪些地區仍維持獨立的地位？ (A)甲乙 (B)甲丙 (C)乙丙 (D)丙丁。



※位於法國巴黎郊區的凡爾賽宮是知名的歷史建築及觀光景點，於 1682 年起由太陽王路易十四開始建造，直到 1710 年才大致完成主體建築。修築凡爾賽宮的原因為原先法王居住的羅浮宮位於巴黎市中心，交通擁擠且附近居民眾多，便決定將皇室遷往市郊。而在十八世紀末，法國大革命後，凡爾賽宮便未曾有皇室再次入住。

31. 法國大革命的爆發源自於財政的危機，而在過往的歷史發展上，許多事件的發生就是起因於國內經濟財政問題而引發，下列何者即是代表性的事件？

- (A)大戰挫敗的經濟困境促成日本南進政策的推展
- (B)援助英國殖民地抗爭間接導致路易十六被推翻
- (C)經濟大恐慌的危機促成墨索里尼獨裁政權崛起
- (D)美國政府入侵拉丁美洲，開徵新稅引爆內戰。

32. 下列哪些著名而重要的活動就是在凡爾賽宮召開舉行？

- (甲)拿破崙一世的加冕
 - (乙)聯合國憲章的簽署
 - (丙)一戰後的巴黎和會
 - (丁)德皇威廉一世登基
- (A)甲乙 (B)甲丙 (C)乙丁 (D)丙丁。

※第一次世界大戰是人類史上第一次全球性的戰爭，除了歐洲本土外，包括亞、非等地的殖民地也都紛紛捲入戰爭之中。戰爭從 1914 年爆發一直到 1918 年才結束，這四年中，投入的兵力將近 7000 萬人，士兵和平民傷亡超過 3500 萬人。其中大約 1500 萬人死亡，2000 萬人受傷。參閱下圖回答問題：



33. 第一次世界大戰的兩大陣營，分別是哪些勢力的分布對抗？ (A)甲丁辛 VS 乙丙己 (B)甲丁庚 VS 乙丙戊 (C)乙丙辛 VS 丁戊己 (D)乙丁辛 VS 丙戊己。

34. 關於第一次世界大戰爆發的起因歷程，下列何者正確？

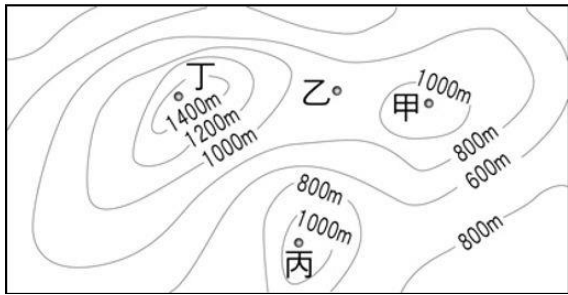
- (A)戰事起於有歐洲火藥庫之稱的伊比利半島
- (B)因無限制潛艇政策激怒美國使其加入戰局
- (C)諾曼第登陸行動為扭轉戰局的關鍵
- (D)中國因此收回山東利權。

35. 戰爭是解決問題的下下之策，為了避免大戰再起，兩次大戰結束後，世界各國試圖透過不同方式來解決國際糾紛，營造國際社會新氣氛，防止衝突再起。下列何者為當時的具體作為？

- (A)二戰後，修正一戰後對待戰敗協約國的嚴苛處置
- (B)二戰後，「新政」計畫協助亞洲戰後的復甦
- (C)一戰後，嘗試成立調解糾紛的國際聯盟
- (D)一戰後，第三世界國家成立合作組織。

臺北市立興雅國中 111 學年度第二學期九年級地理科補行評量講義

- 近年來由於國人健康意識抬頭，越來越多人重視食品安全、食品衛生及養生等相關議題。請問消費者應該選擇下列哪項產品，最能降低食品安全的風險？(A)蔬果盡量生吃，避免清洗太久，以免養分流失 (B)選擇加入大量添加劑的食品，增加食物的營養成分 (C)多選購有機認證或標示產銷履歷的農產品 (D)盡量選擇色彩鮮艷的農產加工品，確保食品的新鮮度。
- 奮起湖是嘉義阿里山地區一處知名的旅遊景點，不少遊客到了奮起湖才發現，其實奮起湖沒有湖。閩南語稱山凹地為「湖」，指山區內部的小盆地或山谷，而非真正的湖泊。台灣此類地名不少，例如；台北內湖、竹子湖等。請問圖中何處最適合以「湖」字來命名？(A)甲 (B)乙 (C)丙 (D)丁



- 台灣多樣的地形景觀，常是聚落命名時主要參考的依據，故以地形命名的地名數量是最多的。請問下列表格中關於地名的釋義，正確的有？(A)埔、湖 (B)湖、崎 (C)崎、崁 (D)埔、崎。

地名	埔	湖	崎	崁
釋義	平坦未經開發之地	清澈的淡水湖泊	崎嶇不平之地	客家族群對坑谷的稱呼
舉例	新北頂埔	苗栗大湖	嘉義竹崎	桃園南崁

- 過去數百年間，台灣經歷數個不同政權治理，透過地名的更替可追溯過往開發的歷史背景與政權的轉移。請問下列跟台灣過往政權相關的地名中，哪一個出現的時間可能最晚？(A)台南新營 (B)高雄前鎮 (C)屏東潮州 (D)新竹關西。
- 台灣的民間信仰與移民有著密切關係。清朝統治期間，中國沿海移民陸續移入台灣，帶進了各地原鄉供奉的神明，許多地名便反應出先民的宗教信仰。請問下列哪一個選項最能說明此類地名的由來？(A)嘉義民雄 (B)澎湖馬公 (C)基隆暖暖 (D)宜蘭礁溪。
- 臺南鹿耳社區主辦「重返北汕尾，模仿鄭成功登陸活動」，將三百多年前大將軍延平郡王率軍登陸的活動，以傳統民俗藝陣呈現給國內外人士了解。請問：今日模仿文化活動只能在陸地表演，而非昔日的海上路線，最主要的原因是受到下列哪一個因素影響？(A)岩漿噴發淹沒台江 (B)地層陷落出現內海 (C)泥沙淤積瀉湖陸化 (D)土石崩落中斷道路。

- 老師上課講解台灣各類地名的由來，並請同學練習將相類似成因的地名歸納成一組。附圖是大強的筆記，請問類別中應該填入何者較為恰當？(A)土

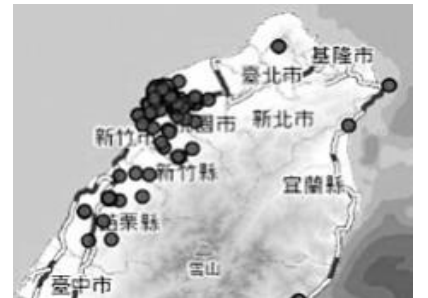
類別	舉例
	苗栗崎頂
	雲林崙背
	台北內湖

地開拓 (B)原住民語 (C)自然環境 (D)產業活動。

- 台灣許多地名的由來是取自於過去境內的平埔族社名，隨著時代的遷徙而有所更動，請問下列平埔族社名與現今地名的配對，何者錯誤？(A)打貓社-高雄 (B)北投社-北投 (C)麻豆社-麻豆 (D)貓裏社-苗栗。
- 台灣雖然農產品多元且技術精良，但受限於耕地狹小，不利於大規模耕種，多為小農結構。近年為了提升國際競爭力，不斷提高農產品的附加價值，朝向精緻農業發展。請問下列哪一個國家的農業發展方向與台灣最為相似？(A)美國 (B)烏克蘭 (C)越南 (D)日本。
- 不同的族群、宗教信仰，有不同的飲食特色或禁忌。附圖標誌指的是從宰殺動物到處理食材的完整過程中，都符合某宗教規範的食品。請問在下列何處較容易找到符合此認證的食品？(A)菲律賓 (B)泰國 (C)印尼 (D)印度。



- 台灣是個擁有多元文化島嶼，地名除了透露了一個地方的早期地理環境、開發演變，有時也會因為不同族群，而使用不同的字詞。附圖是台灣地名中含有「屋」字的主要分布區域，請問「屋」字應該與哪一族群最相關？(A)閩南人 (B)客家人 (C)西班牙人 (D)日本人。



- 2021 年將近尾聲，台灣摩斯漢堡公告，部分薯條組合商品暫停販售。麥當勞也接連停賣薯餅。亞洲薯條長期以來都要從北美進口，因為疫情導致勞工減少、通關檢疫程序增加，全球各地港口、海運嚴重塞港，供需大亂，以致下游斷貨。請問亞洲地區的「薯條荒」反映出現代農業的何項特質？(A)農業精緻化 (B)農業機械化 (C)農業全球化 (D)農業商品化。
- 高雄市新興區原本叫做「大港埔」，大港是指高雄河的支流，流過這片未經開發的地形，到了光復後才大為發展，也因為這新興的氣象，才由市民建議改名為新興區。請問：文中所指的地形，根據命名參照原則，最有可能為下列何者？(A)平原 (B)盆地 (C)沙丘 (D)山崖。
- 石斑魚是台灣重要的經濟魚種，全年產量達到 1,7000 公噸，養殖面積是所有魚類的第三名。2022 年石斑魚外銷中國受阻，使得養殖漁戶嚴重受挫。行政院農委會與教育部合作推動「班班吃石斑」讓國中小學生能吃到國產石斑魚，以解決石斑魚外銷的困境。請問此事件反映出台灣農業的何種問題？(A)過度仰賴單一產品 (B)過度仰賴中國市場 (C)過度仰賴學校團膳 (D)過度仰賴水產養殖。

15. 企業版圖橫跨了 119 個國家的速食龍頭「麥當勞」，在全球擁有數萬間分店。其中泰國麥當勞價格便宜、餐點多元、份量充足，此外獨特的道地餐點也是亮點之一。除了滿福堡、鬆餅這些常見選擇，另外有推出「泰式」套餐：豬肉粥、油條跟咖啡，將泰國油條沾食米粥的文化套用在西式速食店裡。請問此段文字反映出跨國企業的何種現象？(A)精緻化 (B)在地化 (C)全球化 (D)多角化。

16. 「廊」是某種農產品加工製造的場所，清代臺灣有許多地方以「廊」為地名，如廊仔、保長廊、廊子村、大廊村等。目前內政部「臺灣地名查詢系統」網站收錄與「廊」字有關的地名有 27 處，若再對照西元 1904 年日治時期的《台灣堡圖》，「廊」字地名高達 78 個，雲、嘉、南、高、屏等七個縣市即占了 53 個。請問「廊」所加工製造的農產品，在下列哪個國家內最不適合栽種？(A) 巴西 (B) 古巴 (C) 阿根廷 (D) 墨西哥。

17. 二十世紀初出現的工業加工食品，導致不少美國國民產生肥胖問題，現在愈來愈多人餐桌上的食物已從各種作法的馬鈴薯變成藜麥沙拉，從戚風蛋糕變成低脂牛奶。加工食品日益普及，改變了飲食文化，請問：下列有關現代加工食品的敘述何者正確？(A) 食物的種類較為單調 (B) 出現強調即食的產品 (C) 食物里程變得短距離 (D) 食物加工方法漸消失。

18. 「走進打狗領事館文化園區，通往山下領事館的登山古道位處官邸一隅，如過往漢人與洋人並存的街景，西方傳教士以醫療傳教、領事行使裁判權的場景等，都以蠟像呈現。」請問：此一文化園區是位於下列哪一個行政區內？(A) 嘉義市 (B) 高雄市 (C) 新竹市 (D) 屏東市。

19. 台灣的地名雖然是以漢字書寫，但是並非所有地名都是由漢人命名，了解台灣地名的文化根源，可以更認識台灣族群多元的文化特性。下列地名代表著不同時期的政權統治，請依照時間出現的先後順序排列。甲.高雄前鎮、乙.台南玉井、丙.南投中興興村、丁.諸羅改名嘉義。(A) 甲乙丙丁 (B) 乙丁甲丙 (C) 丁甲乙丙 (D) 甲丁乙丙。

20. 臺灣四面環海，海岸線總長約 1140 公里。北、東、南、西四段海岸各有不同，地名也時常反映出各地海岸的性質。請問「崙」、「汕」、「鯤鯓」等地名關鍵字最常見於圖中哪一段海岸？(A) 甲 (B) 乙 (C) 丙 (D) 丁。



21. 基因改造食品是近年重大食品議題之一，台灣目前尚未核准任何基改作物在國內種植，但開放部分基改作物進口。請問對基改食品仍存有疑慮的民眾，應盡量避免購買哪類商品？(A) 蘋果、水梨等溫帶水果 (B) 米粉、米苔目等米製產品 (C) 豆漿、豆腐等豆類製品 (D) 菠菜、花椰菜等綠色蔬菜。

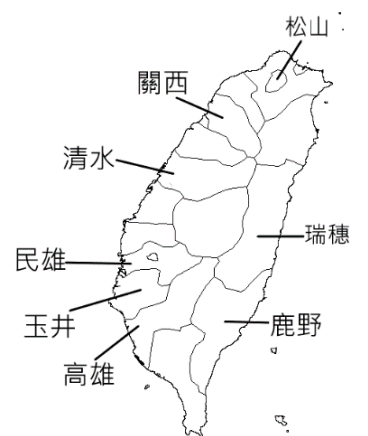
22. 近年來許多青年人投入有機農業的經營種植，除了引進新

的生產方法，同時也採取現代企業經營方式，最主要的目的就是要生產健康的食材。請問：下列哪一個作法較符合有機農業的生產方式？(A) 利用農藥減少蟲害 (B) 使用稻穀製作肥料 (C) 操控大型機具除草 (D) 投入快速生長藥劑。

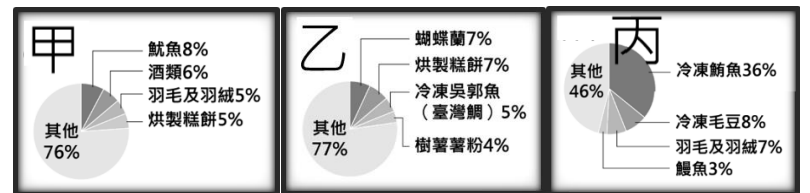
23. 台灣多樣化的環境孕育了豐富的動植物，也時常成為聚落命名的重要素材。例如全台與鹿相關的地名，如：鹿寮、鹿場、鹿谷...等，透過「鹿」地名的分布(如附圖)可以推測過往梅花鹿的分布狀況可能為何？(A) 廣布全台 (B) 集中於高海拔地區 (C) 分布於沿海地帶 (D) 花東地區數量最多。



24. 台灣是個移民社會，族群文化非常多元，地名也反映出此項特色。教育部發布了一張海報來說明某種語言對台灣地名的影響，如圖所示。請問這張海報的主題最可能是哪一種語言？(A) 原住民語 (B) 閩南語 (C) 客語 (D) 日本語。



25. 台灣農產品外銷的主要地區為中國、日本及美國，附圖是台灣對這三個國家主要出口的農產品，請問丙圖最可能是？(A) 美國 (B) 中國 (C) 日本 (D) 無法判斷。



解答

1-5	C B D D B
6-10	C C A D C
11-15	B C A B B
16-20	C B B D B
21-25	C B A D C

1. 新型冠狀病毒導致全球疫情慘重，我國也深受其害。在全民防堵疫情的同時，資訊科技的應用減輕了民眾各方面受到的影響，如以「防疫不停學」為例，下列何種情境最符合上述？

- (A) 外出全程一律配戴口罩
- (B) 醫療院所提供視訊問診
- (C) 民眾利用網路預約施打疫苗
- (D) 各級學校實施線上教學。

2. 承上題，小興負責報告生物科技技術在防治新型冠狀病毒疫情的應用實例，因此正蒐集相關例子，下列何者符合他報告的需要？

- (A) 外出消費使用電子支付，避免人際互動接觸
- (B) 企業公司實施在家遠端工作，減少人員聚集
- (C) 醫院病毒很多，輕症病人盡量預約視訊看診
- (D) 研發傳染病毒疫苗，阻止病毒對身體的侵害。

3. 使用他人的智慧成果可能會侵犯其智慧財產權，下列情境何者屬之？

- (A) 在粉絲團組上傳翻拍南韓女天團 BLACKPINK 的演唱會片段
- (B) 在課堂中報告研究小說《哈利波特》的部分內容
- (C) 將班服徵稿獲選的圖案印製在班服上來穿
- (D) 在喜愛的 YouTube 影片按下分享鍵。

4. 阿雅放學時和同學一起去學校附近的冰淇淋店吃冰，看到牆上掛著一張證書(如右圖)，但是有部分汙損了請判斷這應該是有關什麼的證書？

- (A) 著作權
- (B) 專利權
- (C) 商標權
- (D) 公共授權。

5. 承上題，關於此類證書的說明，下列何者正確？
(甲) 新型穿戴裝置的發明亦須取得此證書
(乙) 其目的在保障消費者利益、維護市場的公平競爭
(丙) 須向經濟部提出申請，審查通過後始能取得
(丁) 其目的在保障廠商的商業權利。

- (A) 甲乙 (B) 乙丙 (C) 丙丁 (D) 甲丁。

6. 跨國企業透過國際分工進行生產，為現代經濟

普遍的面貌。下列四位勞動者接受媒體採訪，他們分別來自於已開發國家甲國或開發中國家乙國，其中何人較可能與其他人來自不同國家？

- (A) 小興：跨國工廠雖為我國增加就業機會，但都是高污染的產業
- (B) 阿雅：國內經濟產業的部門多是從事設計、研發等較高的技術
- (C) 小國：提供充足低廉的工資和人力成本是我國主要的競爭優勢
- (D) 阿中：我們政府極力爭取跨國企業設置成衣廠，以促進經濟發展。

7. 臺灣加入世界貿易組織(WTO)後，因為貿易自由化，讓民眾可以買到更便宜的產品，同時國內各產業也受到程度不一的影響，其中以農業所受衝擊最為嚴重。請問：臺灣加入 WTO 後，我國消費者能獲得什麼樣的好處？

- (A) 消費者對本國的農產品需求減少



- (B)國民所得提高，普遍購買力增加
 (C)擴大市場開拓農產品銷售管道
 (D)滿足消費者多元化的消費需求。

8.承上題，以下何者為臺灣加入 WTO 後，農業遭遇嚴重衝擊的主要原因？

- (A)生產成本較高，無力競爭
 (B)農業人口下降，產量不足
 (C)缺乏銷售管道，市場縮小
 (D)農民所得較低，無力消費。

9.「國際民用航空組織」是一個聯合國專門機構，除了各種航空標準以及程序外，並制定航空事故調查規範，這些規範被所有成員國之民航管理機構所遵守。有關我國與該組織的關係，何者正確？

- (A)我國目前無法獲得任何國家友好支持
 (B)我國退出聯合國後，無法以正式會員出席活動
 (C)我國得到中國支持加入該國際組織
 (D)我國目前無法遵守該組織所制定的規範。

10.「土耳其今年 2 月發生芮氏規模 7.8 強震，造成土敘兩國共 5 萬多人死亡、12 萬人受傷，災情慘重。有許多民眾搭帳篷避難，沒有食物和乾淨的水可食用，世界各國紛紛伸出援手，送食物和醫療資源到海地，我國也迅速提供救援物資。」根據上文判斷，下列何者的國際互動方式與上文最貼近？

- (A)我國與牙買加簽署合作備忘錄，以共同提升國際技能的發展
 (B)賽普勒斯的消防人員加入協助撲滅希臘嚴重森林大火的行列
 (C)阿富汗首都喀布爾國際機場遭炸彈攻擊，造成美軍大量死傷
 (D)苗栗縣政府參與國際活動展現苗栗慢魚運動特色文化與成果。

11.下列為三名在臺移工分享的工作經驗與心聲，由此可看出下列哪種現象？

(甲)移工 A：「我原本的工作應是照顧阿嬤，誰知卻被要求每早在自家經營的餐車工作，再回家準備隔天開店所需材料；做完前面這些工作後，我仍無法休息，還得負責煮飯、打掃、洗衣服，且每月僅有 2 天休假…」(乙)移工 B：「我來臺灣的工作是看護工，我每天都很細心照顧著阿公，阿公跟我的感情很好，但因為阿公的兒子常常對我毛手毛腳，如果不配合就要把我遣送回印尼，最後我真的受不了，趁某個晚上逃跑了…」(丙)移工 C：「我來臺灣被分配到一家食品工廠上班，每天工作超過 12 小時，那一天我真的太累，一個恍神右手肘就這樣被機具絞斷了…」

- (A)上述國際移工彌補了我國在社福及產業類所缺乏的勞動力
 (B)國際移工的工作能力及工作態度有待加強
 (C)由於我國法規過於寬鬆才出現移工逃跑現象
 (D)在臺移工賺取薪資但無法創造母國經濟產值。

12.美國《富比士》公布 2022 年全球富豪榜如下表，表中現象的形成最能凸顯下列何者？

姓名	身價 (美金)	職稱	主要商品
馬斯克	2190 億	特斯拉執行長	電動汽車
貝佐斯	1710 億	亞馬遜公司創始人	線上購物網
阿諾特	1580 億	路易威登集團老闆	時尚精品
比爾蓋茲	1290 億	微軟創辦人	電腦科技
巴菲特	1180 億	波克夏·海瑟威執行長	控股公司

- (A)跨國企業帶動了國際貿易與國際分工
 (B)跨國企業提供大量工作機會給開發中國家
 (C)跨國企業掌握國際貿易中的多數利潤

(D)跨國企業促使全球財富的分配日漸平均。

13.為配合推動加入跨太平洋夥伴全面進步協定（CPTPP，國際政府組織），經濟部將修正《著作權法》草案，將非法數位重製、散布及公開傳輸，且侵害著作權超過新台幣 100 萬元以上，將改為非告訴乃論罪，嚇阻侵權行為。根據上述內容判斷，下列敘述何者正確？

(A)能實現該經濟部草案修正的中央政府機關為司法院

(B)違反《著作權法》侵權者要面對刑罰處分

(C)修《著作權法》後，侵權爭議在訴訟過程中，可以在法官面前和解，稱為訴訟上和解

(D)若修法通過，檢察官會提出告訴追訴犯罪行為。

14.德國導演溫德斯說：「看電影就等同於看美國電影。」而南韓政府更為了避免好萊塢壟斷世界電影市場，制定「銀幕配額」制度，限制每年必須至少上映 260 天南韓國產電影，而電視臺每年也須播映 40%的自製影片。請問：南韓政府的這些政策，將產生下列何種影響？

(A)造成本國語言、傳統習慣逐漸消失

(B)有助於國內文化漸趨單一性

(C)鼓勵民眾接受西方文化的傳遞

(D)避免本國文化在西方文化強勢擴張之下逐漸消失。

15.「區域全面經濟夥伴協定（RCEP）」於 2022 年生效，RCEP 成員國（東協 10 國加上中國、日本、韓國、澳洲、紐西蘭），必須在 10 年內，將 9 成以上產品降至零關稅，臺灣未能加入 RCEP，長期將對石化、鋼鐵、車輛、紡織、塑膠、工具機、機械、螺絲等多種傳統產業造成影響，東協國家將極可能因為有零關稅優勢，打開市場快速崛起，影響臺灣傳統產業競爭力。上文中不利台灣傳統產業競爭力的因素，最可能為何者？

(A)臺灣缺乏勞動力

(B)商品售價較高

(C)基本工資調高

(D)貿易利潤降低。

16.加入世界衛生組織，成為其中的會員國一直是我國外交事務上努力的重要目標之一，請問：若依照參與國家的分布區域與是否具有官方性質分析，下列哪一組選項與世界衛生組織完全相同？

(A)綠色和平組織、國際特赦組織

(B)世界展望會、亞太經濟合作會議

(C)國際奧林匹克委員會、歐洲聯盟

(D)世界貿易組織、國際刑警組織。