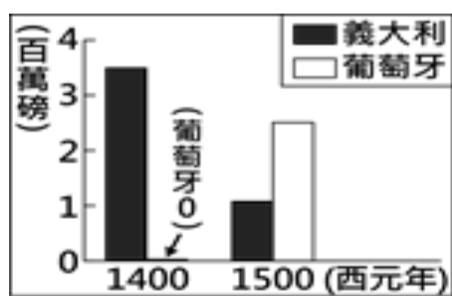


臺北市立興雅國民中學 111 學年度第一學期九年級歷史科補行評量講義

年 班 號 姓名：

一、選擇題：

1. 有一本書上說：「每一個人都是他自己經濟事務的最佳裁判者，自由競爭和致富的慾望可以導致社會整體財富增加。儘管每個人都是自私的、而且常常不顧及共同的利益，但是他們的共同活動，卻自然地趨於全體的共同經濟福祉。這種情況，就如同有一隻看不見的手在調節一切。」請問：這種理論符合下列何者？(A)亞當斯密的「國富論」(B)孟德斯鳩的「法意」(C)盧梭的「民約論」(D)洛克的「政府論」。
2. 約翰於 17 世紀初期隨著荷蘭聯合東印度公司的貨船來到亞洲，在他的行程中可能遇到下列何事？甲、在印度擴張殖民活動；乙、與葡萄牙、英國船隻競爭；丙、為奪取東印度群島而發生戰鬥；丁、參與公司在澳門營運總部的建立 (A)甲乙 (B)丙丁 (C)甲丁 (D)乙丙。
3. 這個政權是以伊斯蘭信仰為主，大約在 16 世紀時透過不斷的擴張得以統治印度大部分的地區，商貿、文化皆呈現燦爛輝煌的風貌。但在 18 世紀後該政權卻在中央勢力衰弱、外力入侵的情況下逐漸失去了影響力，最終在 19 世紀被英國取代。以上描述的是哪一個政權？(A)蒙古帝國 (B)印度孔雀王朝 (C)阿茲提克帝國 (D)蒙兀兒帝國。
4. 下圖呈現不同年分，二地商人運回歐洲的香料重量估計值。圖中的變化，最可能與下列何者有關？(A)文藝復興的出現 (B)宗教改革的因素 (C)海外新航路的發現 (D)塞爾柱土耳其帝國的滅亡。

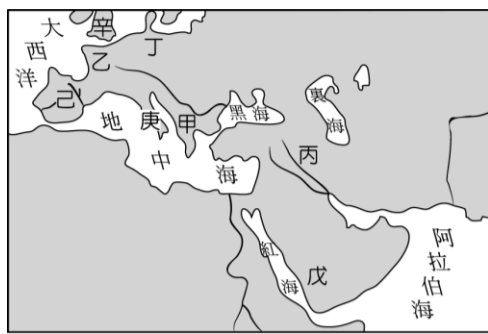


5. 十七、十八世紀時盛行三角貿易，有位商人從甲地購買布匹、酒、火槍和金屬用品，裝船運至乙地交易後，再從乙地載人到丙地販賣，最後從丙地採購可可豆與菸草等物品，運回甲地出售。甲、乙、丙三地依序最可能是：(A)澳洲、美洲、非洲 (B)歐洲、非洲、美洲 (C)澳洲、非洲、歐洲 (D)歐洲、非洲、亞洲。
6. 位於玻利維亞南部的波托西 (Potosi) 蘊含某種豐富礦藏，1545 年西班牙人來此開採後，使該地在十六、七世紀間成為美洲最大城市。此一礦產開挖加工後，被轉運至塞維爾或里斯本，其中大部分再被帶至倫敦和阿姆斯特丹，但通常商人很快又會將這些礦產運出，送抵最後的目的地——中

國。上述波托西出產的礦產是何者？(A)金 (B)銀 (C)銅 (D)錫。

7. 某一時期，航海家航行時依靠天文觀測，使用簡單的航海圖，以羅盤定位，並得到王室的資持，積極向海外探險，踏上尋找香料的新航路之旅。這個行動為下列何者？(A)西元前一世紀腓尼基人海上貿易活動 (B)十四世紀的阿拉伯印度洋船隊 (C)十五世紀初鄭和下西洋船隊 (D)十五世紀末西班牙大西洋船隊。
8. 某一市場人潮川流不息，好不熱鬧。市場中貨品分區買賣，應有盡有，如玉米、馬鈴薯、金銀飾品、羽毛、棉衣、繡花斗篷、巧克力，甚至奴隸。市場旁還搭有草棚，供人休息。這個市場最可能是在何地？(A)西元六世紀的拜占庭 (B)西元八世紀的長安 (C)西元九世紀的巴格達 (D)西元十六世紀的墨西哥。
9. 某人指出：「我發現四顆行星，發現銀河系是一團星體，這是以前的天文學家未曾觀察到的，借助於望遠鏡，清楚出現在感官前。古往今來煩擾哲學家們的爭辯，被我們看到的證據所破除。」這種說法最可能是何人提出？(A)哥白尼 (B)伽利略 (C)笛卡兒 (D)培根。
10. 啟蒙時期的思想家們認為社會中的人們如果越來越理性，社會也同時會更加和諧進步，因此除了思想家們的沙龍聚會外，也致力於啟迪民智，在這位學者的號召之下，當時著名的思想家都加入《百科全書》的編輯。請問這位號召的學者是何人？(A)狄德羅 (B)孟德斯鳩 (C)伏爾泰 (D)盧梭。
11. 詩集《祕密》中說：「我不想變成上帝……我自己是凡人，我只要求凡人的幸福。」這句話精準的表達出人文主義的精神。請問：這部詩集的作者為下列何者？(A)義大利人佩脫拉克 (B)法國人莎士比亞 (C)德意志人薄伽丘 (D)英格蘭人但丁。
12. 唐帝國文成公主嫁至吐蕃，將佛教的信仰傳至今日的西藏地區，無獨有偶，西元 989 年，俄羅斯的基輔大公弗拉基米爾與來自拜占庭的安娜公主聯姻，大公不僅自己接受了安娜公主的信仰，也強迫俄國人跳下河受洗。依此判斷，大公接納的信仰為何？(A)東正教會 (B)天主教會 (C)長老教會 (D)耶穌教會。
13. 2022 世界羽球錦標賽八強戰，臺灣名將周天成從 15：20 絕對落後的情況下，連拿 7 分，以 2：1 的局數，超級逆轉擊敗對手，這場比賽感動無數球迷，直呼：奇蹟！賽後，周天成發表感言表示：「我覺得百分之百是上帝做的！不是我做的，就是因為我真的相信上帝的緣故，上帝讓這一切成為可能，所以榮耀歸給神！」。若按照喀爾文的理論，身為平凡的市井小民，該用甚麼方式來榮耀上帝？(A)朝聖城方向不斷進行禮拜 (B)積極勤勞的投入工作中 (C)反覆鑽研謄寫經文典籍 (D)參與募集捐款活動。
14. 「西元八世紀，掀起了一場百年翻譯運動，這座城市裡設

置了綜合研究機構—智慧館，將四處蒐集來的文獻進行大量翻譯，將中國長生不老藥的煉丹術轉變為煉金術和化學等。」請問：該座城市應該位於圖中何處？ (A)甲 (B)丙 (C)戊 (D)庚。



15. 米蘭的達文西國家科學及技術博物館，創立的宗旨就是為了紀念這一位在多項領域表現傑出的天才，他集結了科學家、畫家、哲學家、解剖學家、天文學家、工程師、發明家、宮廷藝術家等多重角色於一身。請問：下列那一項曠世巨作，即是他的代表作品之一？ (A)草地上的聖母 (B)最後的晚餐 (C)亞當的誕生 (D)大衛像。

16. 麥第奇家族被稱為文藝復興教父，該家族最早從銀行業崛起，累積大量財富後，他們資助大批藝術家，像是米開朗基羅終身為麥第奇家族服務，其他較為人知的還有達文西、道那太羅等人，創作藝術品涉及建築、繪畫、音樂等，目前烏菲茲美術館藏大多為該家族的藝術收藏品。請問：促成近代西方崛起的文藝復興運動，興起的背景為何？ (A)市民階級興起，追求時尚品味的生活 (B)阿拉伯學者避難西遷，帶來古典文集 (C)聖經廣泛傳播，民眾識字率大幅提升 (D)活字印刷術的發明，君王獎勵提倡。

17. 他們仔細觀察古代文物，揉合當地居民的喜好，細膩的刻畫人物的表情動作、衣摺紋理，呈現出栩栩如生的藝術作品。請問：他們所身處的時空環境應為下列何者？ (A)十一世紀的巴黎 (B)十三世紀的麥加 (C)十四世紀的伊斯坦堡 (D)十五世紀的佛羅倫斯。

18. 著名的史學家塔西圖斯評論道：「信徒們被大規模逮捕並判刑。他們穿上獸衣被兇狗咬死或者被綁上十字架燒死。他們固然罪有應得，但卻引起人民的同情。他們之所以成為犧牲品，只是為了帝王的兇殘。」從上述的評論內容判斷，下列何者符合當時的狀況？ (A)他們被逮捕的原因在於不拜偶像 (B)塞爾柱土耳其人造成上述的悲劇 (C)日耳曼民族率先將此宗教合法化 (D)君士坦丁大帝將信仰國家化。

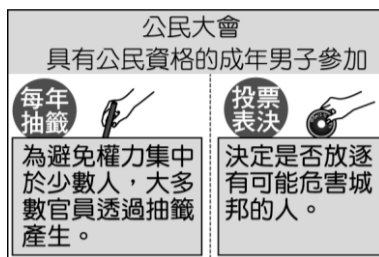
19. 東西方之間的文物交流，多藉由貿易往來、戰爭擴張等形式傳播，下列影響世界甚鉅的中國重要發明，哪些就是因為軍事行動而傳播開來？ (A)造紙術、指南針 (B)印刷術、指南針 (C)指南針、火藥 (D)造紙術、火藥。

20. 下列是妍妍為完成「西亞古文明」報告，搜尋到的參考書籍，可是媽媽發現妍妍搜尋的書籍不是每一本都適用。請問：媽媽應該建議妍妍閱讀何者才正確？

- (甲)《美索不達米亞的古神話》
- (乙)《上帝的選民之希伯來人》
- (丙)《希臘神話中的悲劇英雄》
- (丁)《崇拜光明與火的拜火教》
- (戊)《摩亨佐達羅的建築美學》
- (己)《金字塔與聖甲蟲的傳說》

(A)甲戊己 (B)甲乙丁 (C)乙丙己 (D)乙丁戊。

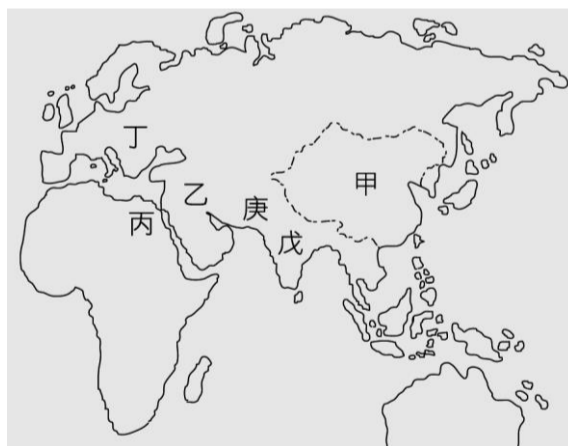
21. 附圖是呈現某古代文明政治運作特色的示意圖，此古文明最可能是下列何者？



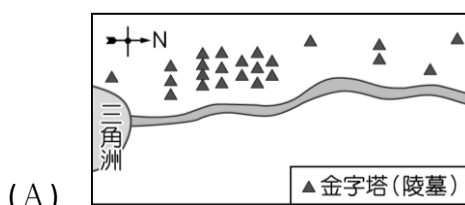
(A)蘇美 (B)巴比倫 (C)雅典 (D)羅馬。

22. 「埃及豔后」克麗奧佩脫拉是托勒密王朝最後一任法老，但她卻擁有馬其頓人的血統。她當政時期碰到羅馬對埃及併吞的野心，為了保全托勒密王朝的存續，克麗奧佩脫拉當了凱薩的情人。但是當凱撒被殺後，克麗奧佩脫拉又依附安東尼，在屋大維率領大軍進攻下，最後她兵敗自殺，也結束了埃及托勒密王朝的統治。請問：她的一生見證了何段歷史發展？ (A)屋大維被元老院尊稱為「奧古斯都」 (B)日耳曼入侵羅馬帝國 (C)希臘化時代的結束 (D)波希戰爭。

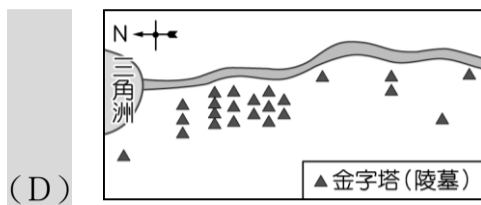
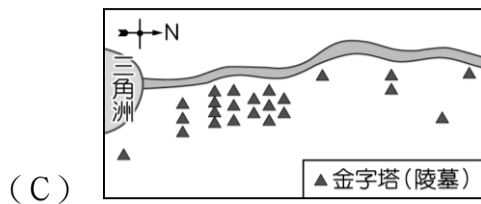
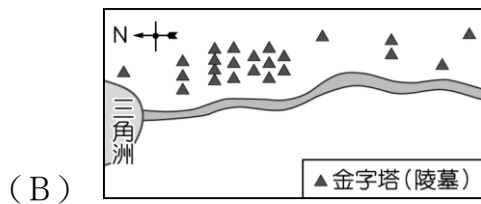
23. 附圖是西方上古文明的分布圖，請問哪一個地區創造了最早的文字，並在法律上有良好成就？ (A)甲 (B)乙 (C)丙 (D)丁



24. 「相傳在古埃及的世界裡，以尼羅河為界線畫分為東、西二個部分，城市多位在尼羅河東岸，而亡者都埋葬在尼羅河西岸，一如日出與日落的方位，象徵生命的開始與結束。」下列哪一張示意圖最符合上文對古埃及人土地利用的描述？



(A)



25. 埃及著名的神話故事：「奧塞利斯是一位受人民愛戴的君主，他的弟弟塞特覬覦王位，將他害死並裝進人形棺丟入尼羅河。當奧塞利斯的妻子伊西斯好不容易找回丈夫屍體時，塞特又將屍體支解為十四塊散落在尼羅河中。伊西斯將丈夫屍塊一一尋回，縫合起來並用繃帶固定，在神的幫助下，奧塞利斯死而復生，並且成為埃及的第一個木乃伊」請問奧塞利斯死而復生過程，象徵一種循環不息的再生力量，有如是埃及人所崇拜的哪一位神祇？ (A)太陽神 (B)尼羅河神 (C)釋迦牟尼 (D)耶和華。
26. 阿漾是位武士，信奉因果報應、靈魂輪迴的觀念，認為他的身分從出生起就被決定好了，身分是有階級之分，每個人必須遵守自己的本分，不可踰越階級而通婚，否則可能會影響來世的生活。根據上述內容，阿漾所信奉的宗教為何者？ (A)佛教 (B)祆教 (C)婆羅門教 (D)猶太教
27. 「定居農業」是孕育人類古文明的主要經濟活動。世界史上，定居農業地區通常是出現在一些大河流域的 氾濫平原，而成為古文明的發祥地。下列哪些古文明不是發祥於大河氾濫平原？ (A)埃及古文明 (B)美索不達米亞文明 (C)印度哈拉帕文明 (D)希臘古文明。
28. 西亞有一個民族的後代散居在世界各地，即便這個民族四散在各個國家，但他們利用宗教當凝聚力，增強彼此的向心力。他們篤信自己是上帝的選民，嚴格的遵守一神教義。請問：該民族所信仰的宗教是下列何者？ (A)佛教 (B)祆教 (C)猶太教 (D)伊斯蘭教。
29. 下列哪一個地區的明崇尚多神信仰，他們每四年都會舉辦一次盛大的祭典來取悅眾神，演變至今卻成為全世界最重要的運動大會？(A)甲 (B)丙 (C)丁 (D)戊



一、選擇題：(框起來的選項為正確答案)

1. 附圖為非洲海陸分布圖，圖中打上「*」的海域有許多海盜聚集於此，以搶劫航行經過的國際貨輪維生，此處被號稱世界上最危險的海域之一。請問該海域名稱為何？

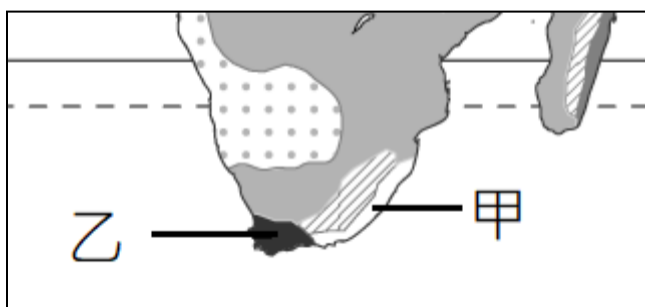


- (A)大西洋 (B)太平洋 (C)印度洋 (D)地中海。

2. 東非大裂谷為一典型的地塹構造，造成該地形形成的主要營力來源主要為何？(A)河川堆積 (B)冰河侵蝕 (C)板塊變動 (D)河川侵蝕。

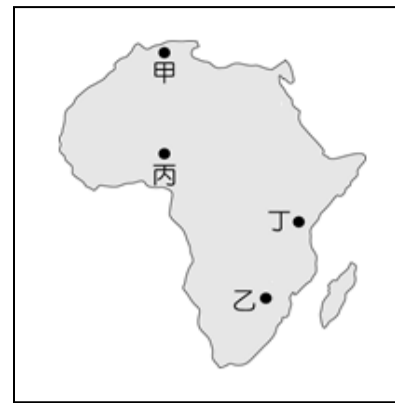
3. 大航海時代(十五至十七世紀)歐洲探險家的船隻因難以停靠南非洲的海岸而無法進入內陸探訪。請問：這種情況和該地區的何種海岸地形特色關係最大？(A)珊瑚礁遍布，海底地形崎嶇，(B)平直沙岸，瀉湖水淺 (C)海岸陡峭平直，缺少天然港灣 (D)強勁盛行風吹送，風浪過大。

4. 當南非的甲地為雨季時，乙地此時的氣候環境特徵為何？



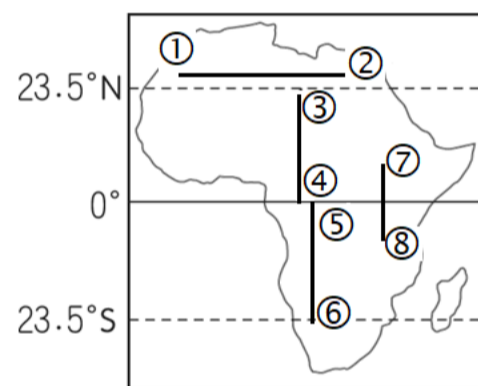

- (A)位於東南信風的迎風坡，為雨季 (B)位於西風的迎風坡，為雨季 (C)受副熱帶高壓影響，為乾季 (D)位於東北信風的背風坡，為乾季。

5. 美國國家科學院的一項研究警告，非洲海拔最高的吉力馬札羅山，其積雪最快 13 年、最遲不會超過 24 年，就有可能全部消失。請問若要觀測吉力馬札山積雪狀況的變化，應該前往附圖中哪一個地區？



- (A)甲 (B)乙 (C)丙 (D)丁。

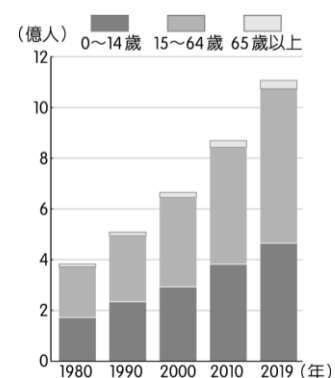
6. 植被類型會隨著氣候環境的差異而變化，上圖是由甲地至乙地的植被變化示意圖，其最能呈現下圖中非洲哪一路線沿線大致的植被變化？〔改編 103.特招〕



- (A)由①至② (B)由③至④ (C)由⑤至⑥ (D)由⑦至⑧。

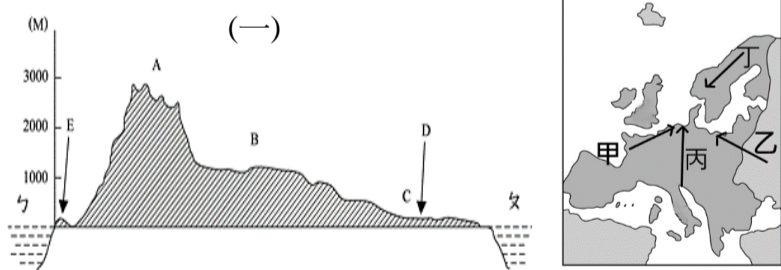
7. 南非前總統曼德拉在 1993 年被授予諾貝爾和平獎。1994 年選為南非總統。2013 年逝世後，聯合國將他的生日 7 月 8 日訂為「曼德拉紀念日」表彰他的貢獻。請問：曼德拉對南非最偉大的貢獻為何？(A)提升國家電力普及比例 (B)結束種族隔離政策及白人統治的局面 (C)提高國內黑人的薪資所得 (D)依族群分布特色重新劃分國界。

8. 南非洲的人口結構變化如附圖所示，根據圖中反應出的人口特性判斷當地最適合發展下列哪一種產業？



- (A)勞力密集產業 (B)高科技工業 (C)煉鋁工業 (D)石油化學工業。

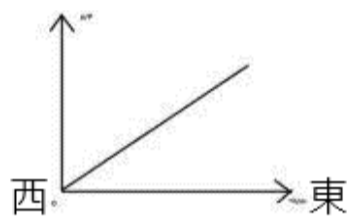
9. 早期歐洲列強多以何種方式在非洲劃分勢力範圍，造成非洲各國複雜的民族組成，也埋下日後族群衝突與政局不穩定的因子？ (A)山脈走向 (B)河川流向 (C)文化特色 (D)經緯線。
10. 漠南非洲因人口增長快速，經常面臨糧食短缺的問題。為解決此問題，居民開闢雨林、草原以取得更多耕地，也衍生出一些問題，但下列哪一項問題並非由上述原因所造成？ (A)三角洲面積縮減 (B)生物瀕臨絕種 (C)沙漠擴大 (D)湖泊乾涸。
11. 漠南非洲許多國家仍延續殖民時期的經濟型態，以礦產與熱帶栽培作物為主要輸出品，有關發展此種經濟型態所造成的影響，下列敘述何者有誤？ (A)許多國家的糧食必須仰賴進口 (B)屬於資金與技術密集的產業 (C)經濟易受國際價格波動影響而不穩定發展 (D)主要獲益者為資本雄厚的大公司。
12. 臺灣世界展望會自民國 79 年起舉辦「飢餓三十，人道救援行動」，匯集國內各界民眾的愛心，救助漠南非洲地區。請問：下列何者不是漠南非洲長期以來需要救助的主要原因？ (A)衛生低落及醫療不足 (B)人民長期饑荒及營養不良 (C)缺電導致礦產無法充分開採利用 (D)經年戰亂摧殘家園。
13. 二十一世紀以來，漠南非洲政局趨穩，豐富的礦產及土地資源吸引全球投資者的目光。請問在外國大量資金及技術的投入下，近年來漠南非洲的發展呈現下列哪一項特色？ (A)水電設施、有線電話遍及家家戶戶 (B)與全球科技發展接軌而有「跳躍式」發展 (C)國家主權完全不受投資國家干涉 (D)平均壽命已經與世界平均值相同。
14. 大強在歐洲進行單車之旅，附圖(一)是他所規畫騎乘路線的剖面圖，終點站 D 為德國柏林。請問大強所騎乘的路線最可能是附圖(二)中哪一條路徑？(A)甲 (B)乙 (C)丙 (D)丁。



15. 2022 年夏季歐洲遭逢熱浪襲擊，嚴重乾旱使得萊茵河、多瑙河等主要河流水位下降，甚至能見到裸露的沙洲。貨船為了避免擱淺，必須減少載貨量，使得運輸成本大增，衝擊貨物運輸。萊茵河是歐洲最重要水路之一，關於萊茵河的描述下列何者錯誤？ (A)發源於阿爾卑斯山 (B)流經東歐許多重要工業區 (C)由荷蘭鹿特丹出海 (D)主要流向為東南→西北流動。
16. 歐洲正面臨嚴重的人口危機，經濟學家擔心未來將打擊歐洲經濟成長、加重各國財政負擔。為了解決逐漸惡化的人

口問題，各國無不積極思考應變對策。請問下列哪一項政策最無助於解決目前歐洲各國普遍的人口問題？(A)17 歲以下兒童提供每月約 300 歐元的補貼 (B)提供母親 16 至 20 週有薪產假、26 週育兒假期 (C)降低退休門檻並提高退休金，為高齡者提供更好的退休生活 (D)降低移民門檻，大量引入外籍勞工。

17. 有人形容英國的天氣「不是正在下雨，就是快要下雨」，請問英國如此潮濕多雨主要是受何項因素的影響？(A)受夏季季風影響，屬溫帶季風氣候 (B)受西風帶影響，屬溫帶海洋型氣候 (C)受東南信風影響，屬夏雨型暖溫帶氣候 (D)受赤道低壓影響，屬熱帶雨林氣候。
18. 小蘭打算暑假來趟西伯利亞豪華鐵路之旅，從西邊的莫斯科出發貫穿整個西伯利亞到東邊的海參崴，全長 9288 公里。請問鐵路一路向東，沿途何項數值的變化最可能如附圖一般？(A)冬季氣溫 (B)年降水量 (C)人口密度 (D)年溫差。

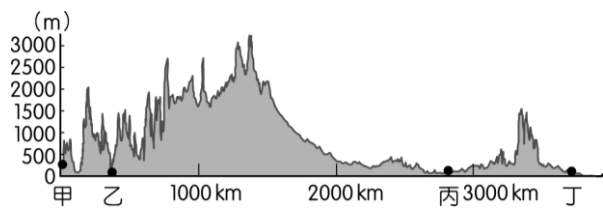


19. 東歐部分國家在加入歐盟之後，以其優勢條件，成功吸引眾多外資流入投資，同時也帶動境內經濟成長。請問投資東歐的產業，大多與亞洲哪一國家目前主要的發展方向相同？(A)日本 (B)越南 (C)新加坡 (D)南韓。
20. 「聖露西亞節」又稱為「光明節」，在每年的 12 月 13 日舉行，此時是冬季夜晚最長的時刻，有些地方甚至接近永夜。人們會以節日的方式慶祝這一天，眾人一起吟唱詩歌互相祝福，為寒冷的冬夜帶來光明與溫暖，告別悠長黑夜，迎接光明。請問附圖中何處最可能舉行聖露西亞節？(A)甲 (B)乙 (C)丙 (D)丁。



21. 蔡老師夢想退休後移民到加拿大生活，當他研究加拿大氣候類型分布圖時，發現該國東西兩岸寒帶氣候的緯度範圍有所差異，在東岸於北緯 50 餘度即出現此種氣候類型，但在西岸則分布於北緯 60 度以北的地區。請問造成此種差異的最主要因素為何？ (A)洋流性質 (B)距海遠近 (C)地勢高低 (D)氣壓性質。

22. 附圖是北美洲沿 35°N 的地形剖面圖。圖中甲、乙、丙、丁何處夏季因位於信風迎風坡的影響而降水量最為豐沛？



- (A)甲 (B)乙 (C)丙 (D)丁。

23. 五大湖地區為北美洲較早發展工業的地帶，下列針對該區的敘述，何者正確？ (A)五大湖為斷層作用而形成的湖泊 (B)礦產豐富，形成傳統重工業區 (C)紐約、舊金山為該區的主要工業大城 (D)為全球最重要的航太工業中心。

24. 小蔡喜歡到量販店採購各國的特產，請問她選購的進口葡萄乾、葡萄酒的產區最可能來自於下列哪些地方？

- (A)墨西哥北部、祕魯北部 (B)美國西南部、智利中部
(C)美國西北部、阿根廷南部 (D)加拿大西南部、巴西東南部。

25. 下列為四位同學在地理課時針對北美洲的農業特色進行發言討論，下列哪一位同學所說的内容最正確？

- (A)小安：農場規模小，以精緻集約化農業為主要發展型態
(B)小家：為滿足國內大量消費的需求，農產品只銷售國內市場
(C)小柏：農場規模大，從事農業的人口少，以機械耕作為主
(D)小瑜：每一個農場皆種植多樣作物，以降低生產過剩的風險。

26. 巴拿馬運河全長約 82 公里，於西元 1914 年完工通航，它縮短許多國家東西岸的海上運輸里程，也可說是溝通哪兩大海域的海上捷徑？ (A)墨西哥灣、加勒比海 (B)印度洋、太平洋 (C)地中海、紅海 (D)太平洋、大西洋。

27. 植物學家陳教授到中南美洲進行考察，若他從 GPS 上判斷他的所在位置為西經 60 度、緯度 0 度，海拔高度 25 公尺。請問他所見到的植物景觀為何？

- (A)樹叢茂密的雨林 (B)仙人掌零星生長的漠地
(C)疏林高草的莽原 (D)高聳參天的針葉林。

28. 中南美洲多數國家經濟型態以出口經濟作物或礦產為主要收入來源，導致經濟多不穩定發展，請問其主要因素為何？

- (A)國際市場價格波動 (B)國內工資大幅上漲
(C)交通不便產品不易運輸 (D)產地規模小生產成本高。

29. 下列編號 ①~⑧ 為我國的邦交國，請問針對這些國家的地理環境特色，下列敘述何者正確？



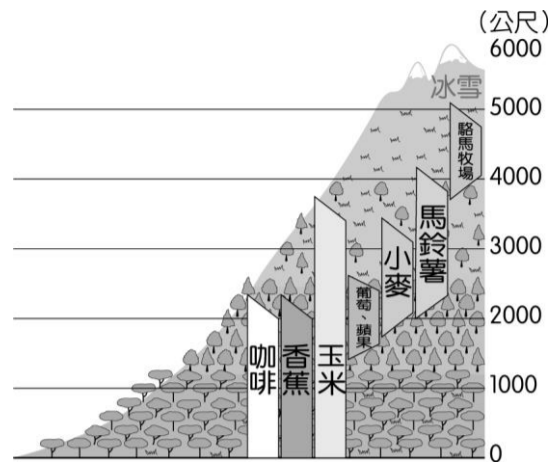
- (A)海上邦交島國位於東印度群島

- (B)這些國家通用葡萄牙語

- (C)中美洲的邦交國易受颶風侵襲

- (D)這些國家的人民主要信仰伊斯蘭教。

30. 附圖為某地區的農牧業分布圖，若根據圖中農牧業的分布狀況加以判斷，應該位於下列何處？



- (A)安地斯山脈

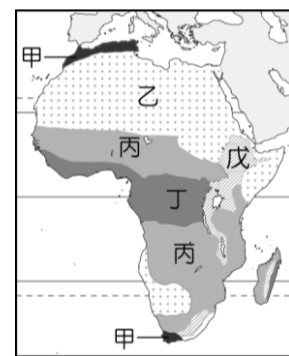
- (B)洛磯山脈

- (C)巴塔哥尼亞高原

- (D)墨西哥高原。

二、整合題：(框起來的選項為正確答案)

(一)附圖為非洲的氣候分區圖，請回答下列問題：



31. 許多人一輩子的夢想是能夠在一望無際的莽原上見識到動物大遷徙的景觀。請問：這些莽原動物主要棲息於圖中哪一區？ (A)甲 (B)乙 (C)丙 (D)丁。

32. 甲氣候區最適合種植下列哪一些種類的農作物？ (A)咖啡、可可 (B)茶樹、小麥 (C)葡萄、橄欖 (D)椰子、鳳梨。

33. 造成乙氣候區乾燥少雨的最主要原因為何？ (A)副熱帶高氣壓籠罩 (B)西風的背風坡 (C)地勢高聳 (D)赤道低壓帶籠罩。

(二)近年來各國間簽訂自由貿易協定的風潮盛行，美、墨、加三國於 1994 年簽署北美自由貿易協定，2020 年改為美墨加協定，這使得北美成為全球最大貿易區，並也帶動了墨西哥的經濟發展。請問：

34. 自從北美自由貿易協定生效後，墨西哥靠近美國邊境的地方開始出現許多加工廠，增加了墨西哥人民的就業機會，但也使得墨西哥的經濟極度仰賴美國。請問：上述加工廠設立於此的主要原因為何？ (A)原料豐富 (B)交通便利 (C)工資低廉 (D)技術進步。

35. 美墨邊境成立的加工廠以哪一類型的工廠居多？ (A)食品

加工廠 (B)電子組裝廠 (C)煉鋼廠 (D)石化工廠。

(三)美國的國土面積廣大，地形多樣，擁有豐富的資源及充沛的人力，在各方面的表現都相當優異。附圖為美國行政區圖，



請問：

36. 乙都市為全球科技重鎮，有上千所高科技公司的總部都設在此處，但該都市卻有可能發生下列哪一種自然災害而必須有所防範？(A)地震 (B)暴風雪 (C)龍捲風 (D)颶風。
37. 美國奧斯卡金像獎旨在鼓勵過去一年間優秀的電影創作，不僅是美國電影界年度最重要活動，亦是最受世界矚目的電影獎項之一，由於洛杉磯好萊塢為世界電影產業重鎮，所以每年皆在此地舉辦頒獎典禮。請問上述都市位於圖中何處？(A)甲 (B)丙 (C)戊 (D)己。
38. 圖中哪一個都市因晴天的日數較多，成為美國太空總署火箭發射基地設置的地方？(A)甲 (B)丁 (C)戊 (D)己。

一、選擇題

1. 關於我們在生活中所面臨的各種選擇，下列敘述何者正確？

(A)當我們在做選擇時，所放棄的代價中價值最高的部分是應得的利潤

(B)相對於我們所要完成的許多事情，時間是有限的資源

(C)政府在做決策的過程，只需考慮其公共利益，不需考慮機會成本

(D)選擇的目的是要在無窮的資源之中，找出對我們最有利的事物，以提升生活福祉。

2. 電視政論節目正在討論一項爭議性的政策，有來賓指出：「目前疫情嚴峻，國內口罩庫存量不足因應國人需求，此時應該全力支持國內防疫，或是支援其他國家？」根據上述內容判斷，下列敘述何者正確？

(A)口罩是屬於資源中的自由財

(B)國人對口罩沒有實際的需要

(C)口罩總數量大於全部的需求

(D)因口罩的稀少性而面臨選擇。

3. 在國際村的時代，許多社會新鮮人會選擇至國外求職，今年大學畢業的阿國應徵了四份國外的工作，如附表所示，在不考慮其他因素的情況下，單以每個月扣除交通費後可獲得的生活費來衡量，阿國選擇至乙國就職的機會成本應為下列何者？

	甲國	乙國	丙國	丁國
薪水(美元)	1,700	1,900	1,800	2,200
交通費用(美元)	400	500	200	700

(A)2,900 美元

(B)2,100 美元

(C)1,500 美元

(D)1,600 美元。

4. 為紓解台灣東部鐵路一票難求問題，交通部鐵道局提出高鐵延伸宜蘭計畫，相關的環境評估計畫即刻運作。高鐵延伸入宜蘭後勢必帶動產業發展，對宜蘭長期的競爭力多所提升，但在考量經濟發展的同時，交通部希望站址地點的設置，能盡量減少對自然生態帶來的負面影響，並避免因高鐵路線的經過，而造成在地居民的不便；此建設考慮的面向很多，各有利弊，因此交通部表示必須聽取專家、民眾等社會各方意見，審慎討論溝通後，取得共識，才能做出最後決定。請問：交通部考量的面向，應與下列何者最相關？

(A)產業發展快速，彼此競爭激烈

(B)政府經費不足，計畫難以推動

(C)環境資源有限，必須做出選擇

(D)行政效能不彰，損及公共利益。

5. 小興大學畢業後打算自己創業，因為料理手藝不錯，因此想趁著疫情大家減少在外用餐意願，順勢推出 4 元水餃，不僅餐點平價且特別留意製作水餃流程的防疫問題，於是他思考是不是將手工的部分改以機器大量生產，也藉此提升利潤。依上述判斷，小興所面臨的是哪一個選擇問題？

(A)生產什麼

(B)為誰生產

(C)如何生產

(D)生產數量。

6. 興雅公司新的企畫案十分困難，沒有員工願意負責，老闆因此在開會時宣布，完成這項企畫案者可以到國外分公司派駐一年。一直嚮往到國外磨練自我的小中立刻自告奮勇接下挑戰，但其他同事依舊興趣缺缺。根據上述，從經濟學角度思考，上述關於誘因所產生的影響，下列敘述何者正確？

(A)相同誘因對每位員工具有相同的誘發效果

(B)小中後來改變選擇是受到負向誘因的影響

(C)為達公司目標，應給予每位員工相同誘因

(D)滿足特定需求的誘因對選擇有引導的作用。

7. 現在飼養毛孩的家庭比例逐漸增加，而部分民眾飼養貓犬採取放養方式，貓犬可自由外出活動，但也因此造成當地流浪犬貓大量繁殖的問題。流浪犬貓造成環境髒亂、攻擊傷人等情況被檢舉後，被捕捉的流浪犬貓將被關至收容所，不僅面臨局促的活動空間，並可能在群體中染上疾病而死亡。民間愛護動物社團為避免這些狀況發生，舉辦為貓犬結紮的活動，但由於結紮對飼主而言是一筆不小的支出，因此社團採免費方式鼓勵民眾踴躍參加。在施行手術同時，也會替貓犬植入晶片，此舉可加強飼主與寵物的連結，提醒其善盡養護責任。請問：在結紮費用上，民間愛護動物社團的做法，與下列哪個誘因最相近？

(A)政府提供寵物絕育補助申請

(B)法律禁止進行家庭寵物買賣

(C)規定不得使用毒物捕捉動物

(D)暴力虐待貓犬遭受罰款處分。

8. 由於智慧型手機與網際網路的普及，網路成為民眾經常使用的購物管道，網路各大電商更在每年 11 月份舉辦雙 11 購物節活動，商品售價打 2~9 折優惠，這段期間民眾購買的貨物包裹像小山一樣堆滿超商。超商店員表示，交易量常是平時的 3 倍。依照該現象，下列何項敘述最為正確？

(A)民眾購物意願受非金錢因素影響

(B)收入是決定民眾購物次數的主因

(C)商品價格變低，民眾會增加消費

(D)民眾因對商品的偏好而增加消費。

9. 因應新型冠狀病毒疫情，先前所有入境我國者均須實施居家隔離，不少民眾選擇到防疫旅館隔離，但當遇到入境人數增多，房間數卻也面臨不敷使用的狀況，即使住宿費較高，還是被搶訂一空，一房難求。為避免無房可住造成疫情破口，政府規定，必須提前預約入住旅館，確認有房時才能入境。在看到市場上的需求之後，部分旅館業者決定向政府申請成為防疫旅館，以便在疫情重傷觀光業時，能維持高住房率，穩定獲利。相照之下，位於旅遊地區的旅館業者，在疫情緊繃時，即使推出買一晚送一晚，或是低至一折的優惠，民眾依舊不敢上門。請問：在看到市場狀況後，部分旅館業者向政府提出申請的做法，可以下列何項敘述來理解？
- (A)當商品價格低時，生產者會停止商品的提供
(B)當商品價格低時，生產者會增加商品的提供
(C)當商品價格高時，生產者會減少商品的提供
(D)當商品價格高時，生產者會增加商品的提供。
10. 地方政府編列預算，希望藉由發放育兒津貼減輕民眾經濟壓力，以提升民眾生育意願，趨緩台灣少子化帶來的社會問題，但有些縣市發放育兒津貼對象卻排除家庭年收入較高者。對於政府在預算上做這樣的分配區隔，民眾對此產生疑問，下列何者較可能是政府的回應？
- (A)應當將有限的資源，運用在最需要的人身上
(B)根據統計，家庭年收入較高者缺乏生育意願
(C)家庭年收入較低者占多數，繳交的稅款較多
(D)基於公平原則，政府對於所有民眾一視同仁。
11. 據報載：「法務部行政執行署花蓮分署日前強力執行多次無照駕駛及酒駕累犯欠繳罰款案。民眾違規遭罰卻賴帳不繳，經調查該民眾名下無薪資收入、存款，於是查封其名下繼承土地，此舉讓民眾立即繳清罰鍰。花蓮分署呼籲，酒駕肇事造成無辜民眾傷亡，政府除修法重罰酒駕者，不僅罰款提高，情節嚴重者也將吊銷駕照、沒收車輛，對於惡意欠繳罰鍰的義務人，將採取強力執行措施，還給民眾一條平安回家的路。」，依以上報導所示，下列哪一項說明完全正確？
- (A)修法目的在抑制酒駕行為的發生
(B)誘因的加入將增加酒駕者的利益
(C)積欠罰款的處置屬非金錢的誘因
(D)修法內容中包含正向和負向誘因。
12. 隨著消費權益日漸受到重視，消費者不再是經濟市場中的小蝦米，國內有許多團體持續為消費者權益而努力，希望民眾和生產者共同思考消費的議題，因此，消費者開始關注生產者為增加效益而做出的剝削行為，寧願選擇價格高而不會在生產過程傷害勞工、動物和環境的商品；在另一方面，鼓勵漁業生產者，配合國際及政府對海洋保護區的規畫與安排，讓魚群能有時間繁衍成長，避免同業因爭搶海洋資源，過度捕撈而最終造成枯竭。也許某些方式可以捕獲更多魚量，但只有對生態友善，才能讓人類和環境永續共存。請問：根據上文判斷，消費者寧願購買較貴的商品，原因為何？
- (A)認同生產者在品質上的要求
(B)在商品種類可以有更多選擇
(C)重視生產過程中的公平正義
(D)是為了保護生態的正向誘因
13. 韓國民眾愛吃五花肉，尤其是炭烤五花肉配上燒酒，是韓國上班族打牙祭的首選，因此，今年來韓國國內五花肉價格不斷上漲，甚至已超過了自美國進口的頂級 LA 牛排。請問：下列哪項因素最有可能是影響韓國人民對五花肉的需求，導致價格上漲的原因？
- (A)消費者的預期心理
(B)消費者的所得水準
(C)消費者的偏好
(D)頂級 LA 牛排的價格。
14. 根據網路房屋銷售平台調查，高達七成欲購屋民眾看跌第四季房價，其中更有近四成民眾擔心買在房價高點，暫時選擇「以租代買」。以上描述影響消費行為的因素與下列何者相同？
- (A)「Black Friday 黑色星期五」是歐美地區年度最大規模的購物季，時間會在 11 月第 4 個星期四「感恩節」後開業的第一天，因西方人會在感恩節後就開始採購各式的聖誕節禮品，很多店家為了搶買氣，就興起在黑色星期五降價並開賣各種新品，藉此衝高業績
(B)中國對全球奢侈品市場的重要性不言而喻，光是中國市場便佔奢侈品產業 90% 的成長動能，對國際奢侈品市場貢獻達 300 億歐元之高
(C)對於行動裝置市場而言，今年是 5G 通訊元年，各大手機品牌商都爭相推出多款 5G 手機，但手機價格也隨著通訊技術進步越來越高，即使售價飆高，消費者還是趨之若鶩
(D)百貨公司週年慶，推出使用五倍券「5000 換 6000」的優惠活動。
15. 近年由於新冠疫情重創全球經濟，國內接連許多產業也受到影響，勞動部上周公布最新一期減班休息（無薪假），實施人數共 1 萬 6850 人，勞動部表示，這期製造業仍受國際情勢波動影響，需求放緩、訂單減少，增加實施減班休息逾 700 人；旅行社大多是小型個案，預計年底後到明年初狀況會更加好轉。許多企業喊出「減薪、不裁員」的作法，呼籲員工共體時艱才能讓每一個員工的工作機會都不受到影響。上述作法是以何種方式來面對企業經營的危機？
- (A)提高生產效率 (B)降低生產成本
(C)提高銷貨收入 (D)增加生產數量。
16. 近期民生餐飲頻傳漲價，隨著冬至即將到來，必吃的應景湯圓也悄悄漲價，為防範不肖業者藉機哄抬物價、違法囤積或聯合壟斷，由法務部成立的跨部會「物價聯合稽查小組」，將自下周起針對已漲價、具指標性的連鎖品牌業者，包括火鍋店、速食店、特色料理餐廳等，列為第一波稽查對象，若有不合理漲價情

事，將速查嚴辦。「甲」院發言人表示，「火鍋店速食店，特色料理餐廳等，如果經聯合稽查小組查證，涉有《「乙」法》，第 14 條聯合行為，第 25 條欺罔行為，或刑法 251 條，意圖抬高交易價格，囤積物品等行為，依法速查嚴辦。」請問：甲、乙應分別為下列何者？

- (A) 行政院；《消費者保護法》
- (B) 司法院；《消費者保護法》
- (C) 立法院；《公平交易法》
- (D) 行政院；《公平交易法》

17. 小興開了一間「輕食健康餐盒」，為了節省開銷，每日固定製作 200 份便當，統一由網路訂購，每個便當售價 80 元，每份成本 50 元，並為保持食材鮮度，當天沒有售完的便當會全部報廢，下表是上周消費者對該店便當的需求狀況。根據表中資訊判斷，下列何者正確？
- (A) 總生產成本為 27500 元
 - (B) 共賣出了 550 份便當
 - (C) 11 月 20 日當天的利潤是 7500 元
 - (D) 總銷貨收入為 40000 元。
18. 從經濟學的角度觀察，下列哪一個現象是受「看不見的手」所影響？
- (A) 全民健保的保費
 - (B) 因應物價上漲，行政院宣布明年提高最低勞動薪資
 - (C) 半導體龍頭公司台積電在台南設廠使得附近房價飆升
 - (D) 加徵菸品健康福利捐使菸價變貴。
19. 許多餐廳與美食外送平台合作，希望能吸引懶得出門的消費者，也替自己省下聘請外送員的薪資。請問餐廳與美食外送平台合作是基於何種考量？
- (A) 降低成本，提高銷貨收入
 - (B) 降價刺激需求
 - (C) 價格高所以增加生產量
 - (D) 提高成本，降低利潤。
20. 供應鏈問題現在已成美國迎接耶誕年終購物季最大挑戰，南加州的港口每天仍有六七十艘貨船，排隊等入港卸貨，但卸了貨，也還缺卡車和司機，把貨送到商店，供不應求讓量販店 Costco 宣布，限制衛生紙、瓶裝水和清潔用品的購買數量。而因為缺卡車及司機，使得大量貨物滯留在港口無法運送到量販店，也造成民眾搶購衛生紙、瓶裝水和清潔用品的現象，請問下列相關敘述何者正確？
- (A) 民眾搶購衛生紙、瓶裝水和清潔用品會造成價格下降
 - (B) 看不見的手會引導消費者做出對自己有利的選擇
 - (C) 此時可以用便宜的價格購買到卡車
 - (D) 消費者會在商品價格上升時增加購買。
21. 當我們買到瑕疵品時，除了可向商店要求退貨或賠償外，尚可依法向政府機關申訴，以保障自身權益。上

述的「法」是指下列何者？

- (A) 《公平交易法》
- (B) 《消費者保護法》
- (C) 《勞動基準法》
- (D) 《食品安全衛生管理法》。

22. 下列是翔翔上網搜尋貨幣的資料，其中只有哪一項是正確的？
- (A) 我國負責發行貨幣的機關是臺灣銀行
 - (B) 政府可透過控制貨幣數量，來維持物價穩定
 - (C) 信用卡可延後支付款項，所以屬於貨幣
 - (D) 為發展經濟，政府可隨意增加鈔票發行數量。
23. 由於以物易物的不便，因此出現了貨幣作為交易媒介，而在一個國家中，貨幣價值的高低，是以哪項標準來衡量？
- (A) 國民所得的高低
 - (B) 國民存款金額的多寡
 - (C) 貨幣的製作成本
 - (D) 貨幣所能購買的商品數量。
24. 一般而言，在目前的臺灣社會，一個人年滿幾歲才進入就業市場工作？
- (A) 14 歲
 - (B) 15 歲
 - (C) 16 歲
 - (D) 17 歲。
25. 下列對「無酬勞動」的敘述何者正確？
- (A) 受《勞動基準法》保障
 - (B) 家務勞動屬之
 - (C) 對社會的重要性與貢獻不如預期
 - (D) 志願貢獻不會被列入。