

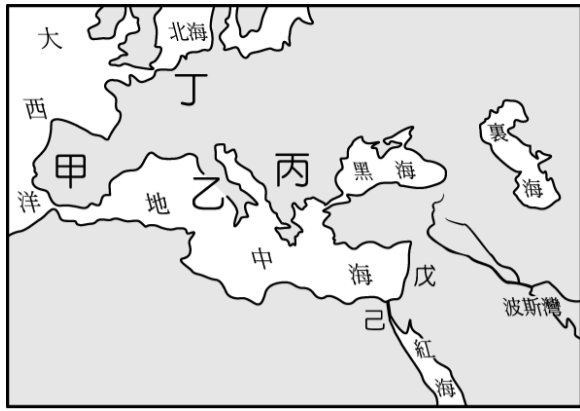
一、選擇題：

- 一位君王說道：「我們乃是世界上的偉大民族，將會帶領斯拉夫的小兄弟們抵禦侵略，並積極發揚斯拉夫文化，聯合斯拉夫民族進行反抗西方世界的鬥爭。」由上述內容可知，此位君王應該是下列哪一國人？
(A)英國 (B)俄國 (C)法國 (D)德國。
- 一篇文章提到：「西元 1914 年 6 月 28 日為塞爾維亞的國慶日，奧匈帝國皇位繼承人斐迪南夫婦被塞爾維亞民族主義者暗殺。此一事件發生後引發各國關注，奧匈帝國要求塞爾維亞懲凶以及賠償。」此篇文章的主題最可能為下列何者？
(A)帝國主義思想的形成 (B)塞拉耶佛事件的始末
(C)民族自決思想的提出 (D)巴黎和會的召開與影響。
- 小軒說道：「此一組織成立的初始目的，是為了避免世界再次陷入戰爭，以維持各國之間的和平，但沒想到它在維持和平局勢方面卻顯得軟弱無力。」造成此組織軟弱無力的原因為何？
(A)民族自決思想盛行 (B)英國盛行孤立主義
(C)列強紛紛拒絕參與 (D)缺乏軍事武裝力量。
- 第一次世界大戰是人類有史以來面臨的重大戰役之一，帶來的影響十分深遠。下列有關一次大戰的影響何者正確？
(A)男性社會地位高於女性 (B)社會形成宗教寬容精神 (C)造成大量人員死傷慘重 (D)各國形成社會主義思潮。
- 「他為了避免國與國的戰爭再度爆發，並希望維持戰後世界的安寧與秩序，倡議籌組國際組織，強調民族自決思想，帶動了各地民族復興運動的發展。」上述的人物應該是何人？
(A)羅斯福 (B)威爾遜 (C)勞合喬治 (D)克里蒙梭。
- 一位日本軍官說道：「我國的石油只能維持半年的時間，除非我們從中國撤兵，停止對外擴張，外交上向美國靠攏。不然只能南下奪取石油、橡膠等戰略資源，繼續加強對外侵略……，但這樣一來，就等於向三國宣戰。」為達成此目標，日本可能策畫下列哪場事變？
(A)七七事變 (B)牡丹社事件 (C)九一八事變 (D)珍珠港事變。
- 「此一組織成立的宗旨在於透過安全理事會來維護國際和平與安全，並尊重各國人民的平等權利，進行國與國間的國際合作，以解決國際間經濟、社會、文化和人道主義的問題，並促進對於全人類的人權和自由的尊重。」上述應是指哪個組織？
(A)聯合國 (B)國際聯盟 (C)華沙公約組織 (D)北大西洋公約組織。
- 西元 1948 年，埃及、敘利亞、約旦、黎巴嫩及伊拉克五國，以維持安全秩序為由，派兵進駐巴勒斯坦地區，歷時一年半的戰爭後，最後由以色列獲得勝利。上述應是指哪場戰爭？
(A)韓戰 (B)越戰 (C)以阿戰爭 (D)古巴危機。
- 美國獨立戰爭是十八世紀啟蒙思想的成果展現，啟蒙思想家的政治學說融入了美國的獨立宣言。請問：這項衝突的導火線是因為何項問題而引起？
(A)國王的專制 (B)財政的問題 (C)外交的失敗 (D)民族的認同。
- 「我真正的光榮並非打了四十次的勝仗；滑鐵盧之役抹去了這一切的記憶；但是有一樣東西是不會被人忘卻的，它將永垂不朽——那就是我的法典。」請問：資料中的「我」，是指哪位歷史人物？
(A)拿破崙 (B)梅特涅 (C)羅伯斯比 (D)路易十六。
- 印度位於歐洲船隻前往亞洲的中間地帶，因此在大航海時代成為歐洲列強補充資源或進行貿易的據點，其中以□□對印度的影響最為深刻。在□□統治印度期間，一方面禁止許多印度傳統陋習，另一方面則大量將當地的棉花、茶等資源運往母國以滿足國內需求，導致印度糧食短缺、人民生活困窘。請問：□□應填入何國？
(A)日本 (B)法國 (C)英國 (D)荷蘭。
- 「起初他們追殺共產主義者，我沒有說話，因為我不是共產主義者；接著他們追殺猶太人，我沒有說話，因為我不是猶太人；後來他們追殺工會成員，我沒有說話，因為我不是工會成員；最後他們向我奔來，卻再也沒有人站出來為我說話了。」這段懺悔文出自牧師馬丁·尼莫，敘述著旁人不該漠視暴力殺戮，應挺身而出，共同奮戰。請問：文中的「他們」，有下列哪一項作為？
(A)他們組織法西斯黨 (B)實施新政壯大實力
(C)與奧匈帝國相結盟 (D)侵略東歐開啟二戰。
- 承上題，冷眼旁觀與一味退讓，往往助長侵略擴張者的氣焰，曾經一時，姑息主義瀰漫歐洲，所謂姑息養奸，實為不智之舉，關於當時的國際狀況，下列敘述，何者正確？
(A)蘇維埃政府入侵捷克 (B)法國默認奧地利遭兼併
(C)日本侵略東南亞地區 (D)美國放任夏威夷被進攻。
- 鑒於戰爭的殘酷教訓，人們深感和平的深切需要，因而倡議國際和平組織的建立，然而一次大戰後成立的「國際聯盟」，並沒有任何實質力量制止國際糾紛，因此在二戰結束前夕，重新設立國際組織的聲浪再起，「聯合國」因此誕生了，但該組織仍有其執行運作上的困境。請問：哪個因素使其無法在維護和平與調解國際糾紛時充分發揮作用？
(A)安理會中的常任理事國擁有否決權 (B)國防軍事經費的短缺 (C)第三世界國家未加入 (D)總部設置在紐約。
- 回憶錄中寫道：「幾年前我在街道上還可以看到馬克思

- 與列寧的銅像，如今銅像都被拆除了，原本高高聳立的柏林圍牆也被拆毀了，連使用的貨幣都不一樣了。」請問：造成上述轉變的主要因素為何？ (A)蘇聯建國 (B)德國分裂 (C)冷戰結束 (D)歐盟組成。
16. 工業革命的發生，使得歐洲一躍成為世界的強權霸主，英國身為其中的領頭羊，曾獲得日不落國的稱號。關於英國展開工業革命的有利條件，包括下列何者？(甲)煤鐵礦產資源豐富(乙)傳統紡織產業發達(丙)殖民非洲市場廣大(丁)政治相對自由安定。
(A)甲乙丙 (B)甲乙丁 (C)甲丙丁 (D)乙丙丁。
17. 意見不合，有所爭執，透過理性的溝通協調，不輕易動拳頭、傷人命、挑起戰事，才是和平之道。但若強者總是仗勢欺人，則難免逼使弱者透過暴力形式進行反擊，和平的議題，人類尚需善用智慧去調解。關於下列歷史上著名的會議，試探討何者正確，並引以為戒？
(A)1815年維也納會議—強調正統原則，鎮壓美洲革命 (B)1776年大陸會議—發表獨立宣言，彰顯人權自由 (C)1789年三級會議—公告人權宣言，廢除貴族特權 (D)1919年巴黎和會—民族自決精神，各國支持實踐。
18. 網紅阿逼在他的頻道裡，分享旅遊經歷，介紹他所到訪參觀的景點，並作了以下的簡介「中西文化的融合是該國的特色，在這裡可以看到擁有千年歷史的佛寺鎮國寺，以及充滿中國風格的皇宮建築。然而，隨著十九世紀法國殖民勢力的入侵，哥德式教堂、聖母與耶穌像陸續出現，使得該國文化呈現多元發展的景況。」請問：阿逼造訪的國家為何？ (A)琉球 (B)韓國 (C)越南 (D)印度。
19. 新冠肺炎(Covid-19)危機肆虐一年多，已造成全球多達二億多人確診，四百多萬人死亡。事實上，被稱為「大流行之母」的西班牙流感，亦曾在過去西元1918~1920年間流行。不但間接造成當時戰爭的結束，死亡人數更超過5000萬人。關於該場戰爭的終結，下列何者符合史實？ (A)原子彈的使用加速戰爭的結束 (B)大量婦女參與前線戰事行動 (C)美國的加入扭轉戰局發展 (D)諾曼第登陸行動的發生。
20. 推廣政策政見，明確淺顯的標語口號，總能一針見血的點出重點，快速吸引民眾的目光，讓人印象深刻。下列口號標語，請按照其代表的事件，依時間先後順序排列。(甲)「和平、土地、麵包」(乙)「自由、平等、博愛」(丙)「恢復古羅馬的光榮」(丁)「外爭主權，內除國賊」 (A)甲乙丙丁 (B)甲丙丁乙 (C)乙甲丙丁 (D)乙丙甲丁。
21. 一句美國的笑話說「想跳樓自殺請排隊」。因為被錢逼上絕路的人實在太多，當時全世界的失業率不斷升高，這場自一九二〇年代末開始的金融危機摧殘了包含美國在內的許多國家。面臨如此嚴重的經濟問題，當時美國是如何從困境中掙脫，也得以成為後世的借鏡？ (A)推動大量公共建設 (B)提高進出口的稅率 (C)實施計畫經濟策略 (D)放任外匯市場自由發展。
22. 義大利與德意志的成功統一，是在許多有才幹與謀略的有志之士大力幫忙下才能順利完成，能人將士的協調合作，才得以成就一番事業，下列關鍵人物扮演的角色，哪一項敘述正確無誤？ (A)加富爾倡組關稅同盟加強交流 (B)玻利瓦南征獻地給薩丁尼亞王國 (C)加里波底組織紅衫軍協力作戰 (D)俾斯麥擊敗法皇威廉一世。
23. 十七世紀與十九世紀曾經遭遇外國勢力控制的臺灣，基本上便是當時世界局勢的縮影，全球化的現在，牽一髮而動全身，置身事外已是不可能。請問：所謂的當時世界局勢應指下列何者？
(A)十七世紀—地理大發現後，西班牙海外擴張領臺 (B)十七世紀—工業革命後，荷蘭強化軍力藉以征臺 (C)十九世紀—民族主義興起，日本攻臺並積極傳教 (D)十九世紀—帝國主義擴張，法國佔臺以獲取原料。
24. 鑒於兩次世界大戰帶來的殘酷戰況，美國與蘇聯兩大強權於二次大戰結束後，雖是彼此對抗，卻是採取冷戰的形式，互別苗頭，對立的形式，包括組織各自的軍事同盟，並以代理人的形式進行熱戰，直至哪一個事件發生後，雙方建立溝通管道，促成冷戰漸趨緩和？ (A)柏林危機 (B)韓戰爆發 (C)以阿衝突 (D)古巴危機。
25. 從古至今，歷史上見證不少的國家君主，若未能因時制宜，適時的調整國家的治理方式，終導致被推翻覆滅的命運，而或是有些極權專制獨裁的國家領導者，雖有一時的風光榮景，最終仍是作繭自縛，自取滅亡，遭致摒棄的下場。下列哪些國家領導者，就是落得晚景淒涼的代表？ (甲)尼古拉二世 (乙)路易十六 (丙)勞合喬治 (丁)墨索里尼 (戊)羅斯福。
(A)甲乙丁 (B)甲丙戊 (C)乙丙丁 (D)乙丁戊。
26. 西元1787年美國所制定的某法案中，有部分如下的內容：「……立法權全屬合眾國的國會，國會由一個參議院和一個眾議院組成。……行政權力賦予美利堅合眾國總統，總統任期四年。……合眾國的司法權屬於一個最高法院以及由國會隨時下令設立的低級法院。……各州對其他各州的公共法案、紀錄、和司法程序，應給予完全的信賴和尊重。」請問：從法案中我們無法得知哪一項訊息？
(A)政府運作採取三權分立的形式 (B)建立世界上第一個聯邦政府 (C)國會劃分為參、眾兩院制 (D)各州擁有相當程度自主權。

二、題組：

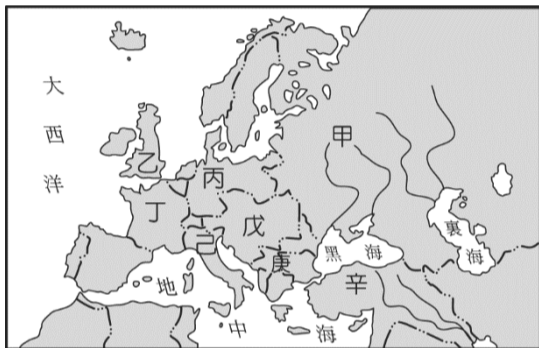
※參照下圖，回答問題：



27. 法國大革命與拿破崙的武力擴張，震撼歐洲，關於他所征服區域，涵蓋地圖中的哪些地方？ (A)甲乙丙丁 (B)甲乙丙 (C)甲乙丁 (D)甲丙丁。

28. 承上題，也因為此次的擴張行動，造成後續哪項連鎖效應？ (A)天賦人權的思想因而興起 (B)喚醒征服地區的民族情感 (C)恐怖統治的氣氛瀰漫各地 (D)刺激俄羅斯爆發二月革命。

※參照下圖，回答問題：



29. 二十世紀第一場規模慘烈的大戰，參與的國家與範圍甚為廣泛，而引爆戰火的起火點是素有「歐洲火藥庫」之稱的地區，請問：該區位於圖中何處？ (A)甲 (B)丙 (C)丁 (D)庚。

30. 戰爭的擴大起於利益的糾葛，領地的擴張，族群的衝突，各國也流行結盟結派，造成戰場的擴大。請問：當時的對戰關係，何者正確？ (A)甲乙 VS 丙丁 (B)乙戊 VS 己庚 (C)丙庚 VS 甲辛 (D)丁己 VS 戊辛。

※黑色網底為解答

臺北市立興雅國中 110 學年度第二學期九年級地理科補行評量講義

- 近年來由於國民所得提高，健康意識抬頭，在越來越重視食品安全的時代，我們應該如何降低食品安全的風險？
(A) 選擇加入大量添加劑的食品，避免食物腐敗 (B) 蔬果盡量避免清洗太久，以免養分流失 (C) 多選購有機認證或商譽良好的農產品 (D) 盡量選擇色彩鮮艷的農產加工品，確保食品的新鮮度。
- 奮起湖的舊地名為「畚箕湖」，其地名的由來主要是與當地的地形景觀有關，一如苗栗縣大湖鄉的地名由來。請問：此處所指稱的「湖」，主要是指下列何種地形景觀？ (A) 平原 (B) 盆地 (C) 湖泊 (D) 瀉湖。
- 台灣多樣的地形景觀，常是聚落命名時主要參考的依據，故以地形命名的地名數量是最多的。請問下列表格中關於地名的釋義，正確的有？(A)埔、湖 (B)湖、崎 (C)崎、崁 (D)埔、崎。

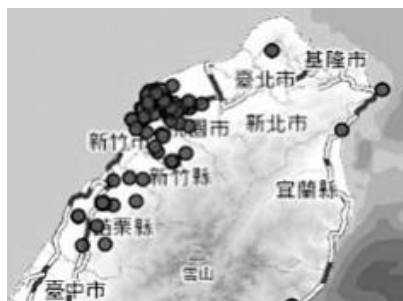
地名	埔	湖	崎	崁
釋義	平坦未經開發之地	清澈的淡水湖泊	崎嶇不平之地	客家族群對坑谷的稱呼
舉例	新北頂埔	苗栗大湖	嘉義竹崎	桃園南崁

- 南美洲智利北部的阿他加馬沙漠，綿延於安地斯山脈和南太平洋海岸之間，南北約600英里，有「地球上最乾燥的地方」之稱，年雨量不到幾毫米。請問下列沙漠何者成因與阿他加馬沙漠不同？(A) 北非撒哈拉沙漠 (B) 新疆塔克拉玛干沙漠 (C) 墨西哥沙漠 (D) 西亞沙漠。
- 臺南鹿耳社區主辦「重返北汕尾，模仿鄭成功登陸活動」，將三百多年前大將軍延平郡王率軍登陸的活動，以傳統民俗藝陣呈現給國內外人士了解。請問：今日模仿文化活動只能在陸地表演，而非昔日的海上路線，最主要的原因是受到下列哪一個因素影響？ (A) 岩漿噴發淹沒台江 (B) 地層陷落出現內海 (C) 泥沙淤積潟湖陸化 (D) 土石崩落中斷道路。

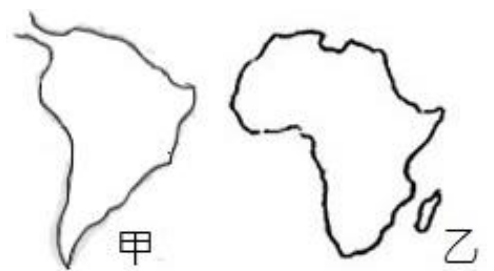
- 倫敦某畫刊刊載一幅諷刺中南美洲國家的漫畫(如附圖)，請問此漫畫是反映中南美洲經濟的何種現象？(A) 高度仰賴單一產品，經濟易受波動 (B) 國際香蕉市場競爭極度激烈，獲利不易 (C) 國際香蕉市場價格不斷下降，經濟大受影響 (D) 香蕉皮太滑溜，經濟容易跟著起起伏伏？



- 台灣是個擁有多元文化島嶼，地名除了透露了一個地方的早期地理環境、開發演變，有時也會因為不同族群，而使用不同的字詞。附圖是台灣地名中含有「屋」字的主要分布區域，請問「屋」字應該與哪一族群最相關？(A) 閩南人 (B) 客家人 (C) 西班牙人 (D) 日本人。



- 2021 年將近尾聲，台灣摩斯漢堡公告，部分薯條組合商品暫停販售。麥當勞也接連停賣薯餅。亞洲薯條長期以來都要從北美進口，因為疫情導致勞工減少、通關檢疫程序增加，全球各地港口、海運嚴重塞港，供需大亂，以致下游斷貨。請問亞洲地區的「薯條荒」反映出現代農業的何項特質？(A) 農業精緻化 (B) 農業機械化 (C) 農業全球化 (D) 農業商品化。
- 高雄市新興區原本叫做「大港埔」，大港是指高雄河的支流，流過這片未經開發的地形，到了光復後才大為發展，也因為這新興的氣象，才由市民建議改名為新興區。請問：文中所指的地形，根據命名參照原則，最有可能為下列何者？ (A) 平原 (B) 盆地 (C) 沙丘 (D) 山崖。
- 小旭觀察世界地圖時發現有兩個大陸形狀極為相像，並嘗試列出這兩洲的相似處，請問不包含下列何者？(A) 皆是世界重要的咖啡生產地 (B) 皆有西方殖民的背景，經濟發展以農礦原料輸出為主 (C) 皆為古老陸塊，地表起伏相對小 (D) 皆有連接世界重要航線的運河。



- 「廊」是某種農產品加工製造的場所，清代臺灣有許多地方以「廊」為地名，如廊仔、保長廊、廊子村、大廊村等。目前內政部「臺灣地名查詢系統」網站收錄與「廊」字有關的地名有 27 處，若再對照西元 1904 年日治時期的《台灣堡圖》，「廊」字地名高達 78 個，雲、嘉、南、高、屏等七個縣市即占了 53 個。請問「廊」所加工製造的農產品，在下列哪個國家內最不適合栽種？ (A) 巴西 (B) 古巴 (C) 阿根廷 (D) 墨西哥。
- 二十世紀初出現的工業加工食品，導致不少美國國民產生肥胖問題，現在愈來愈多人餐桌上的食物已從各種作法的馬鈴薯變成藜麥沙拉，從戚風蛋糕變成低脂牛奶。加工食品日益普及，改變了飲食文化，請問：下列有關現代加工食品的敘述何者正確？ (A) 食物的種類較為單調 (B) 出現強調即食的產品 (C) 食物里程變得短距離 (D) 食物加工方法漸消失。
- 由於全球面臨糧食產量趕不上人口增加速度的問題，於是基因改造作物的產量愈來愈高，請問：下列哪一個基因改造作物，是臺灣人幾乎每天都會接觸到的豆腐、醬油和製作沙拉油等各式加工食品的原料？ (A) 黃豆 (B) 玉米 (C) 棉花 (D) 油菜
- 「走進打狗領事館文化園區，通往山下領事館的登山古道位處官邸一隅，如過往漢人與洋人並存的街景，西方傳教士以醫療傳教、領事行使裁判權的場景等，都以蠟像呈現。」請問：此一文化園區是位於下列哪一個行政區內？ (A) 嘉義市 (B) 高雄市 (C) 新竹市 (D) 屏東市。

15. 從附表中可以看出中南美洲的都市化程度相當高，顯示人口高度集中在大都市。請問造成此種現象的主要原因為何？
 (A) 都市社會福利制度完善，吸引眾多人口移入 (B) 鄉村地區傳染病盛行，迫使人口流向都市 (C) 都市工商業發達，提供眾多就業機會 (D) 鄉村普遍貧窮，大量無業人口被迫遷往都市。

國家	都市化程度 (%)
委內瑞拉	93
阿根廷	92
烏拉圭	92
智利	89
巴西	87
美國	82
臺灣	78

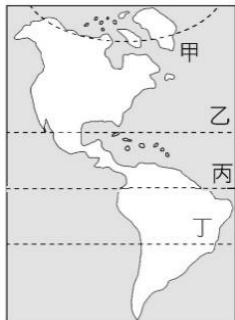
各國都市化程度

16. 台灣的地名雖然是以漢字書寫，但是並非所有地名都是由漢人命名，了解台灣地名的文化根源，可以更認識台灣族群多元的文化特性。下列地名代表著不同時期的政權統治，請依照時間出現的先後順序排列。甲.高雄前鎮、乙.台南玉井、丙.南投中興興村、丁.諸羅改名嘉義。
 (A) 甲乙丙丁 (B) 乙丁甲丙 (C) 丁甲乙丙 (D) 甲丁乙丙。

17. 臺灣四面環海，海岸線總長約 1140 公里。北、東、南、西四段海岸各有不同，地名也時常反映出各地海岸的性質。請問「崙」、「汕」、「鯤鯓」等地名關鍵字最常見於圖中哪一段海岸？
 (A) 甲 (B) 乙 (C) 丙 (D) 丁。



18. 氣候穩定、陽光充足、雨量充沛，正常年雨量大約為 2,000 毫米，有助於不同種類的植物生長，導致樹木茂密且品種繁雜，形成了龐大的層狀結構，系統分層明顯。由於現代藥物大多是由植物所提煉，因此此處又被稱為「世界上最大的藥房」。請問此段文字描述的環境與附圖中哪一條緯度最相關？
 (A) 甲 (B) 乙 (C) 丙 (D) 丁。



19. 近年來許多青年人投入有機農業的經營種植，除了引進新的生產方法，同時也採取現代企業經營方式，最主要的目的就是要生產健康的食材。請問：下列哪一個作法較符合有機農業的生產方式？
 (A) 利用農藥減少蟲害 (B) 使用稻殼製作肥料 (C) 操控大型機具除草 (D) 投入快速生長藥劑

※ (一) 附圖是中南美洲國家分布圖，請據此回答下列問題

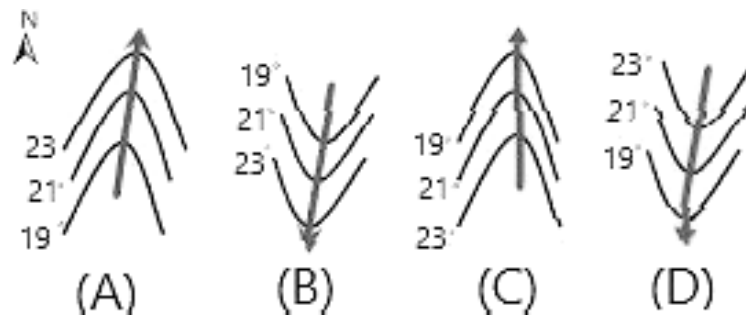
20. 關於己國的描述，何者錯誤？
 (A) 南美洲第一大國，面積最大、人口數最多 (B) 近年加入 USMCA，因工資低廉，吸引美國外資設立許多加工出口區 (C) 鐵礦產量居世界重



要地位，鋼鐵、汽車產業有出色表現 (D) 熱帶區域廣大，是世界重要咖啡、甘蔗、可可等作物的生產基地。

21. 小華今年國三，會考後打算利用漫長暑假和家人來趟中南美洲深度之旅，以下是小華目前規劃想參訪的景點：①巴拿馬運河-世界七大工程奇蹟之一②古代印加遺跡-馬丘比丘、③聖地牙哥葡萄莊園品嚐美酒、④巴塔哥尼亞高原冰川健行。請問小華預計到訪的國家依序是？
 (A) 丙庚己戊 (B) 乙甲辛戊 (C) 丙丁庚己 (D) 乙丁戊辛。

22. 洋流就如同海中的河流，常年沿著固定的方向流動，海洋洋流循環對地球氣候影響扮演相當重要的角色，附圖是南北半球不同性質的洋流流動時，對氣溫所造成的影響。請問南美洲戊國海岸，主要有哪一洋流流經？



* (二) 透過在地農民的努力，花蓮玉里已經成為全臺最大的蕎麥產地，麥當勞在西元 2021 年 6 月推出的限定產品「蕎麥芝麻冰炫風」，即是採用花蓮玉里的蕎麥。為了打造健康美味食材，麥當勞要求當地農民耕作不施用農藥，作物收成後也會針對農藥殘留、重金屬、黃麴毒素等作檢驗，這次的合作不僅與農民建立良好關係，也為花蓮稻田轉作帶來助力。請問：

23. 玉里生產的稻米，與知名的池上米、富里米同屬秀姑巒溪水系，因為區域內的土壤、空氣及水質無汙染，種植出來的農作物品質都很好。請問：玉里位於附圖中何處？
 (A) 甲 (B) 乙 (C) 丙 (D) 丁。



24. 蕎麥生長速度快、病蟲害少，不需要農藥、肥料與大量的水灌溉，屬於旱作，但在花蓮玉里耕種時，最怕遇上下列何種情形影響收成？
 (A) 地震頻繁 (B) 颱風來襲 (C) 強勁季風 (D) 海面上升。

25. 如文中所述，對環境友善的農業生產者會避免使用農藥。請問：農民可以利用下列何種方式來取代農藥，以減少病蟲的危害？
 (A) 製作有機肥料 (B) 添加糖蜜醃製 (C) 加入工業鹽灌溉 (D) 選用生物防治

解答

1-5	C B D B C
6-10	A B C A C
11-15	C B A B D
16-20	D B C B B
21-25	D A B B D

一、單一選擇，每題兩分

1. 新冠肺炎(COVID-19)疫情爆發以來，中國下令封街封城，全面關停經濟。全球約有三分之一的供應鏈都在中國，「中國打噴嚏，全球大感冒」，一時間造成斷鏈危機，各國企業才警覺供應鏈單一集中化的危機。下列何者最貼近上文的描述？ (A)經濟全球化推動跨國貿易活動盛行 (B)經濟全球化帶來嚴重貧富差距 (C)呼籲公平貿易概念推廣的重要 (D)經濟活動帶來國際移工的流動。

A

2. 在全球化的浪潮下，世界各地的局勢可謂「牽一髮而動全身」，每個人都無法置身於事外。請問：下列哪一例子並不適合用來說明全球化的現象？ (A)受美國金融風暴的影響，引起臺灣股市下跌 (B)非洲國家以出口農礦原料為主，經濟易受國際市場價格波動的影響而不穩定發展 (C)日本東部沿海大海嘯發生數小時之後夏威夷群島亦發生海嘯 (D)臺灣台積電在美國設廠，原因之一是因應美國提出夥伴國免關稅與土地技術人才支援的優惠。

C

3. 關於國際社會互動方式，下列敘述何者錯誤？ (A)國際交流可以透過政府進行各種活動，但無法透過民間自己進行交流 (B)國際援助是指基於尊重人權與人道精神，對於低度開發國家或受災國家給予幫助以改善生活 (C)國際衝突是基於各種不同因素所發生的衝突 (D)臺灣與中美洲友邦簽訂「自由貿易協定」是一種國際合作的互動模式。

A

4. 附表是大雄、宜靜兩人每小時製作饅頭和包子的數量表。他們應如何分工合作最為有利？ (A)大雄製作饅頭，宜靜製作包子 (B)大雄製作包子，宜靜製作饅頭 (C)大雄、宜靜各自製作饅頭和包子 (D)大雄、宜靜先共同製作饅頭，再製作包子。

	饅頭(個)	包子(個)
大雄	8	2
宜靜	9	3

A

5. 丞琳、力宏每一單位產品的機會成本如附表。請問：丞琳、力宏應如何分工最有利？ (A)丞琳應專業摺紙飛機，力宏則專業摺紙青蛙 (B)丞琳應專業摺紙青蛙，力宏則專業摺紙飛機 (C)丞琳、力宏各自摺紙飛機、紙青蛙 (D)不論以何種方式摺紙飛機與青蛙，結果完全相同。

	紙飛機(隻)	紙青蛙(隻)
丞琳	4 青蛙	1/3 飛機
力宏	3 青蛙	1/2 飛機

B

6. 《民法》第 1018-1 條：「夫妻於家庭生活費用外，得協議一定數額之金錢，供夫或妻自由處分。」其立法目的在於保障夫妻經濟自主及婚姻和諧，是為了保障持家無法工作或賺錢較少的主婦或主夫的經濟獨立與人格尊嚴，出自於持家有價以及夫妻類似合夥關係的精神。該法規定之意義，與下列哪一項敘述最相符？ (A)家庭勞動有價值，夫妻可自由協議如何補貼從事家務勞動之一方 (B)家務勞動是否具市場價值，應由夫妻雙方自行約定 (C)家務勞動有市場價值，依法強制就業之一方補貼未就業者 (D)家務勞動沒有價值，因此以自由處分金加以補貼。

A

7. 北歐地區某些國家藉由提供育兒津貼以及兒童照顧服務等方式，讓整個社會共同承擔生育的責任與養育小孩的成本。此種政策訂定的理念，最有可能為下列何者？ (A)強調已婚婦女的家庭應要承擔生育的責任 (B)轉移生養小孩的部分家務勞動成本給社會 (C)落實實質平等概念中合理的差別待遇措施 (D)提供國民組成家庭與生育的負向金錢誘因。

B

8. 勞動的型態主要可分為「市場勞動」與「家務勞動」兩種型態，關於這兩種勞動型態的比較，下列何者最正確？ (A)家務勞動目前受我國《民法》保障，從事者須得到經濟的

實質報酬 (B)市場勞動重視經濟的交換價值，因此家庭照顧工作必然不會是市場勞動 (C)若兩者勞動的主力都是相同特定性別，將造成其工作與家庭蠟燭兩頭燒的現象 (D)國際移工進入我國市場從事兩種類型的勞動意願高的主因是具有正向非金錢誘因。

C

9. 附表為小明根據公民課本中國際組織的分類所做的表格。下列四個項目中哪項的分類全部正確？ (A)甲 (B)乙 (C)丙 (D)丁

項目	國際組織	政府	民間	全球	區域
甲	聯合國	●			●
乙	世界貿易組織	●		●	
丙	亞太經濟合作會議	●		●	
丁	國際綠色和平組織		●		●

B

10. 在這個全球關聯密切的時代裡，加入國家組織較能處理各國之間共同面臨的問題。在下列哪個國際組織中可看到臺灣的代表？ (A) EU (B) ASEAN (C) WTO (D) WHO

C

11. 下列何者是國際援助的事例？(甲)我國捐助美德等國口罩協助肺炎疫情防治 (乙)百老匯音樂劇《貓》來我國進行表演 (丙)中國以檢疫為由抵制台灣出口的鳳梨 (丁)台灣人捐款數億金額對烏克蘭提供人道救援。(A) 甲乙 (B) 乙丙 (C) 甲丁 (D) 丙丁。

C

12. 關於我國參與國際組織的狀況，下列敘述何者錯誤？ (A)我國在民國 97 年以「臺澎金馬個別關稅領域」加入世界衛生組織 (B)我國於民國 98 年獲邀出席世界衛生大會 (C)我國在民國 91 年以「臺澎金馬個別關稅領域」加入世界貿易組織 (D)我國在民國 80 年以「Chinese Taipei」名稱加入亞太經濟合作會議。

A

13. 國際組織的種類很多，可分為政府的國際組

織與非政府的國際組織兩種。下列關於兩者的比較，何者錯誤？ (A)非政府的國際組織可彌補政府的國際組織之不足與限制 (B)政府的國際組織較非政府的國際組織更具強制力 (C)非政府的國際組織能發揮更為積極與多元的功能 (D)政府的國際組織主要是解決單一國家的政治問題。

D

二、配合題，每題一分

1. 請從答案選項中做正確的配對。

A.經濟全球化

B.政治全球化

C.文化全球化

() (1)文化跨越國界，在全球流通的現象。

() (2)各國政府為因應全球性的問題，成立國際組織，拱同制訂政策。

() (3)各國企業透過跨國分工，投資與技術轉移等方式，促成跨國貿易的蓬勃發展。

(1)C (2)B (3)A

2. 下列是全球化下的各種現象，請從答案選項中找出與其最符合的議題做配對。

A.全球化之下的富裕與貧窮

B.疾病的跨國傳播與防治

C.國際移工的文化困境與調適

() (1)跨國企業尋找全球勞動低廉國家設廠，製成產品高價出口至他國。

() (2)台灣各地方政府協助辦理新住民文化嘉年華活動，讓人民接觸認識多元文化。

() (3)透過公平貿易認證，讓消費者在購買商品時得以避免小農受到不當的中盤商剝削。

() (4)WHO 每年定期召開相關的國際會議，交換醫療相關資訊。

(1)A (2)C (3)A (4)B